



اصل دفترچه سوالات عمومی آزمون های استخدام بر گزار شده توسط جهاد دانشگاهی
با پاسخ تشریحی




سرویس خصوصی خدمات عام المنفعه اخبار شغل و استخدام

Www.IranEstekhdam.Ir

خواننده گرامی؛ در جهت بهبود کیفیت این فایل؛ لطفاً هرگونه انتقاد و پیشنهاد خود در مورد مطالب آن
و یا گزارش مشکل را به آدرس ایمیل و یا با شماره تلفن زیر مطرح نمایید:

آدرس ایمیل: soal@iranestekhdam.ir 

شماره تلفن تماس: ۰۴۱-۴۲۲۷۳۶۷۳ 

اخطار مهم

محتوای این فایل به شماره شابک ۸-۵۹۶-۴۴۸-۶۰۰-۹۷۸ نزد وزارت ارشاد جمهوری اسلامی ایران
ثبت گردیده؛ لذا هرگونه کپی برداری یا فروش؛ تغییر و دستکاری در محتوای آن مانند حذف آرم یا
لوگوی سایت ایران استخدام و یا اضافه کردن آرم؛ نوشته و محتوای دیگر؛ غیر مجاز بوده و متخلف بدون
اطلاع قبلی از طریق مبانی قانونی تحت پیگیری قرار خواهد گرفت

Www.IranEstekhdam.Ir

« محصولات مرتبط دانلودی »

دانلود اصل سوالات استخدامی برگزار شده توسط جهاد دانشگاهی

[خرید و دانلود](#)

دانلود اصل سوالات استخدامی برگزار شده توسط سنجش

[خرید و دانلود](#)

دانلود نمونه سوالات استخدامی فراگیر دستگاه‌های اجرایی

[خرید و دانلود](#)

دانلود جزوات و درسنامه‌های آموزشی ویژه آزمون‌های استخدامی

[خرید و دانلود](#)

« محصولات مرتبط چاپ شده »

سفارش کتاب‌های آموزشی و نمونه سوالات استخدامی چاپ شده

[خرید و سفارش](#)

«توجه مهم»

جهت تهیه کتابهای آموزشی و دانلود سایر نمونه سوالات استخدامی به همراه پاسخنامه
به آدرس زیر مراجعه بفرمایید:

اینجا کلیک نمایید

فهرست مطالب

- ۸ سوالات عمومی آزمون استخدام فراگیر دهم سال ۱۴۰۲ - با پاسخ تشریحی
- ۹ فناوری اطلاعات و مهارت‌های هفتگانه I.C.D.L
به همراه پاسخ تشریحی در زیر هر سوال
- ۲۰ آشنایی با قوانین و مقررات اداری
به همراه پاسخ تشریحی در زیر هر سوال
- ۲۶ زبان و ادبیات فارسی
به همراه پاسخ تشریحی در زیر هر سوال
- ۳۱ معارف اسلامی
به همراه پاسخ تشریحی در زیر هر سوال
- ۳۴ زبان انگلیسی - عمومی
به همراه پاسخ تشریحی در زیر هر سوال
- ۴۱ اطلاعات عمومی، دانش اجتماعی و قانون اساسی
به همراه پاسخ تشریحی در زیر هر سوال
- ۴۷ هوش و توانمندی‌های عمومی
به همراه پاسخ تشریحی در زیر هر سوال
- ۵۳ سوالات عمومی آزمون استخدام قوه قضائیه سال ۱۴۰۰ - با پاسخ تشریحی
- ۵۶ معارف اسلامی
به همراه پاسخ تشریحی در زیر هر سوال
- ۵۹ زبان انگلیسی - عمومی
به همراه پاسخ تشریحی در زیر هر سوال
- ۶۳ اطلاعات عمومی، دانش اجتماعی و حقوق اساسی
به همراه پاسخ تشریحی در زیر هر سوال
- ۶۵ هوش و توانمندی‌های عمومی
به همراه پاسخ تشریحی در زیر هر سوال
- ۶۶ سوالات عمومی آزمون استخدام نهضت سواد آموزی سال ۱۴۰۰ - فاقد پاسخنامه
- ۶۷ فناوری اطلاعات و مهارت‌های هفتگانه I.C.D.L
- ۷۰ ریاضی و آمار مقدماتی

- ۷۳ زبان و ادبیات فارسی
- ۷۵ معارف اسلامی
- ۷۷ زبان انگلیسی-عمومی
- ۷۹ اطلاعات عمومی، دانش اجتماعی و حقوق اساسی
- ۸۲ سوالات عمومی آزمون استخدام نهضت سواد آموزی سال ۹۹ - با پاسخنامه تستی**
- ۸۵ فناوری اطلاعات و مهارت های هفتگانه I.C.D.L.
به همراه پاسخ تستی در زیر هر سوال
- ۸۸ ریاضی و آمار مقدماتی
به همراه پاسخ تستی در زیر هر سوال
- ۹۱ زبان و ادبیات فارسی
به همراه پاسخ تستی در زیر هر سوال
- ۹۴ معارف اسلامی
به همراه پاسخ تستی در زیر هر سوال
- ۹۷ زبان انگلیسی-عمومی
به همراه پاسخ تستی در زیر هر سوال
- ۱۰۰ اطلاعات عمومی، دانش اجتماعی و حقوق اساسی
به همراه پاسخ تستی در زیر هر سوال
- ۱۰۱ سوالات عمومی آزمون استخدام شرکت کار و تامین سال ۹۹ - با پاسخ تشریحی**
- ۱۰۴ فناوری اطلاعات و مهارت های هفتگانه I.C.D.L.
به همراه پاسخ تشریحی در زیر هر سوال
- ۱۰۶ معارف اسلامی
به همراه پاسخ تشریحی در زیر هر سوال
- ۱۰۹ زبان انگلیسی - عمومی
به همراه پاسخ تشریحی در زیر هر سوال
- ۱۱۳ اطلاعات عمومی ، دانش اجتماعی و حقوق اساسی
به همراه پاسخ تشریحی در زیر هر سوال
- ۱۱۷ هوش و توانمندی های عمومی
به همراه پاسخ تشریحی در زیر هر سوال
- ۱۲۰ آشنایی اجمالی با تامین اجتماعی
به همراه پاسخ تشریحی در زیر هر سوال

- ۱۲۲ اخلاق کارگزاران / تکریم ارباب رجوع
 به همراه پاسخ تشریحی در زیر هر سوال
- سوالات عمومی آزمون استخدام آتش نشانی سال ۹۸ - با پاسخ تشریحی** ۱۲۲
- ۱۲۵ فنآوری اطلاعات و مهارت های هفتگانه I.C.D.L
 به همراه پاسخ تشریحی در زیر هر سوال
- ۱۳۱ ریاضی و آمار مقدماتی
 به همراه پاسخ تشریحی در زیر هر سوال
- ۱۳۶ زبان و ادبیات فارسی
 به همراه پاسخ تشریحی در زیر هر سوال
- ۱۴۰ معارف اسلامی
 به همراه پاسخ تشریحی در زیر هر سوال
- ۱۵۱ زبان انگلیسی - عمومی
 به همراه پاسخ تشریحی در زیر هر سوال
- ۱۵۶ اطلاعات عمومی ، دانش اجتماعی و حقوق اساسی
 به همراه پاسخ تشریحی در زیر هر سوال
- ۱۶۱ هوش و توانمندی های عمومی
 به همراه پاسخ تشریحی در زیر هر سوال
- سوالات عمومی آزمون استخدام فراگیر ششم سال ۹۷ - با پاسخ تشریحی** ۱۶۳
- ۱۶۶ فنآوری اطلاعات و مهارت های هفتگانه I.C.D.L
 به همراه پاسخ تشریحی در زیر هر سوال
- ۱۷۲ ریاضی و آمار مقدماتی
 به همراه پاسخ تشریحی در زیر هر سوال
- ۱۷۷ زبان و ادبیات فارسی
 به همراه پاسخ تشریحی در زیر هر سوال
- ۱۸۲ معارف اسلامی
 به همراه پاسخ تشریحی در زیر هر سوال
- ۱۹۰ زبان انگلیسی - عمومی
 به همراه پاسخ تشریحی در زیر هر سوال
- ۱۹۴ اطلاعات عمومی ، دانش اجتماعی و حقوق اساسی
 به همراه پاسخ تشریحی در زیر هر سوال
- ۱۹۹ هوش و توانمندی های عمومی
 به همراه پاسخ تشریحی در زیر هر سوال

- سوالات تخصصی آزمون استخدام نهضت سواد آموزی سال ۱۴۰۰ - فاقد پاسخنامه ۲۰۲
- روانشناسی پرورشی ۲۰۳
- روانشناسی رشد ۲۰۶
- روش ها و فنون تدریس ۲۰۹
- اندازه گیری، سنجش و ارزشیابی آموزشی ۲۱۲
- اصول و فلسفه تعلیم و تربیت ۲۱۴
- سوالات تخصصی آزمون استخدام نهضت سواد آموزی سال ۹۹ - با پاسخ تشریحی ۲۱۷
- روانشناسی پرورشی ۲۲۰
به همراه پاسخ تشریحی در زیر هر سوال
- روانشناسی رشد ۲۲۳
به همراه پاسخ تشریحی در زیر هر سوال
- روش ها و فنون تدریس ۲۲۶
به همراه پاسخ تشریحی در زیر هر سوال
- اندازه گیری، سنجش و ارزشیابی ۲۲۹
به همراه پاسخ تشریحی در زیر هر سوال
- اصول و فلسفه تعلیم و تربیت ۲۳۲
به همراه پاسخ تشریحی در زیر هر سوال
- سوالات تخصصی آزمون استخدام آتش نشانی سال ۹۸ - فاقد پاسخنامه ۲۳۳
- زبان تخصصی ۲۳۴
- مدیریت بحران ۲۳۶
- ایمنی و حوادث و آتش سوزی ۲۳۹
- پیشگیری از بروز و گسترش حریق ۲۴۲
- آئین نامه های حفاظت فنی و بهداشت کار (HSE) ۲۴۵

سوالات عمومی آزمون استخدام فراگیر دهم ۱۴۰۲

با پاسخ تشریحی

بخش اول:

فناوری اطلاعات و مهارت‌های هفتگانه I.C.D.L

۱- کدام گزینه در مورد ایمیل صحیح می‌باشد؟ (www.iranestekhdam.ir)

(۱) هر فرد، یک آدرس ایمیل منحصر به فرد دارد.

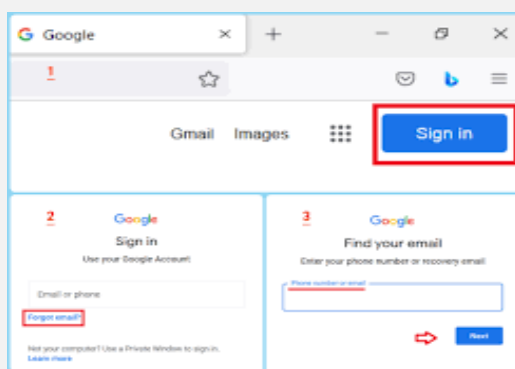
(۲) هر ایمیل، صرفاً یک گیرنده منحصر به فرد دارد.

(۳) هر ایمیل، برای دسترسی یک نفر کاربر منحصر به فرد ساخته می‌شود.

(۴) هر ایمیل صرفاً یک فرستنده منحصر به فرد دارد.

پاسخ کارشناس سایت ایران استخدام: گزینه ۴

ایمیل یا همان پست الکترونیک به روش ارسال نامه با استفاده از اینترنت گفته می‌شود. با استفاده از ایمیل می‌توانید هر نوع پیامی را به صورت‌های مختلف متنی، صوتی و تصویری ارسال نمایید. برای داشتن ایمیل باید از خدمات سرویس دهندگان ایمیل استفاده کنید. آدرس یا نشانی ایمیل به شناسه‌ای یکتا گفته می‌شود که در اختیار فرد یا شرکتی که برای اولین بار حساب کاربری ایجاد می‌کند، قرار می‌گیرد. این آدرس در واقع برای شناسایی افراد مورد استفاده قرار گرفته و با استفاده از آن می‌توان ایمیل را ارسال یا دریافت کرد.



۲- برای پاسخگویی به ایمیل دریافت شده، از گزینه استفاده می‌کنیم. (www.iranestekhdam.ir)

(۱) replay

(۲) delete

(۳) froward

(۴) send

پاسخ کارشناس سایت ایران استخدام: گزینه ۱

برای پاسخگویی به یک ایمیل از دکمه Reply استفاده می‌کنیم. این دکمه هم در سربرگ Home وجود دارد و هم در بالای ایمیل. با کلیک بر روی هر کدام از دکمه‌های Reply، این پنجره باز می‌شود. می‌توانیم در همین جا به ایمیل پاسخ بدهیم و یا اینکه برای دسترسی به پنجره کامل پاسخگویی بر روی دکمه Pop Out کلیک کنیم. اگر بخواهیم پیام را به چندین گیرنده ارسال کنیم، از گزینه Reply to all استفاده می‌کنیم.



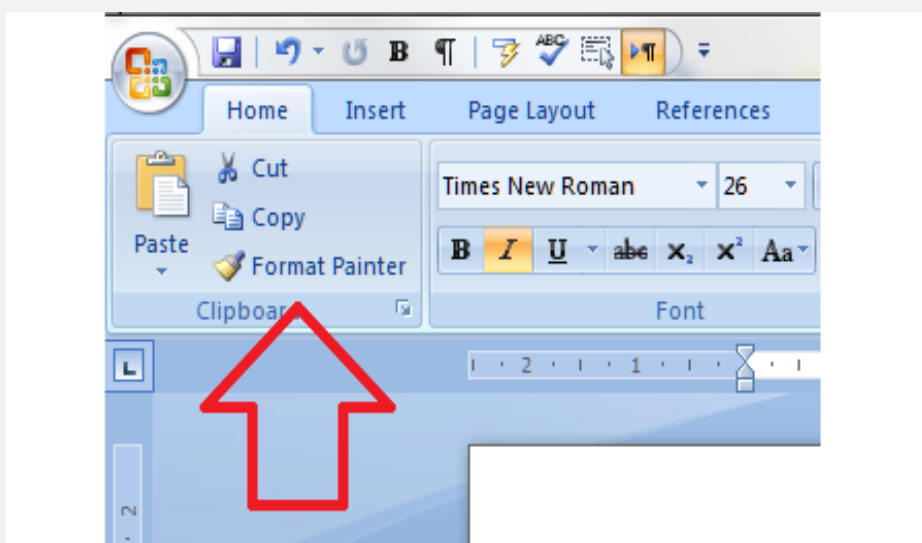
۳- برای کپی گرفتن از فرمت نوشتاری یک متن در نرم افزار ورد علاوه بر ابزار **format painter** از کدام کلید میانبر می توان استفاده نمود؟ (www.iranestekhdam.ir)

Ctrl+Alt+C (۲) Al+C (۱)

Ctrl+Shift+C (۴) Ctrl+C (۳)

پاسخ کارشناس سایت ایران استخدام: گزینه ۴

روش اول کپی کردن یک متن به متن دیگر به "Format Painter" اختصاص دارد. برای این منظور در قسمت تب‌های موجود در بالای صفحه، وارد تب "Home" شوید و در قسمت "Clipboard" بر روی آیکن "Format Painter" کلیک نمایید. تکنیک دوم به وسیله کلیدهای میانبر صورت می‌گیرد. برای این منظور پس از انتخاب متن و قالب مورد نظر، کلیدهای Ctrl+Shift+C را به صورت همزمان فشار دهید. سپس به پاراگرافی که خواستار اعمال تغییرات هستید، رفته و متن را هایلایت کنید و کلیدهای Ctrl+Shift+V را فشار دهید.



۴- در نرم افزار ورد، اگر بخواهیم متنی را در اطراف یک عکس قرار دهیم، نحوه چیدمان عکس باید کدام یک از گزینه‌های زیر باشد؟ (www.iranestekhdam.ir)

through (۲) in front of text (۱)

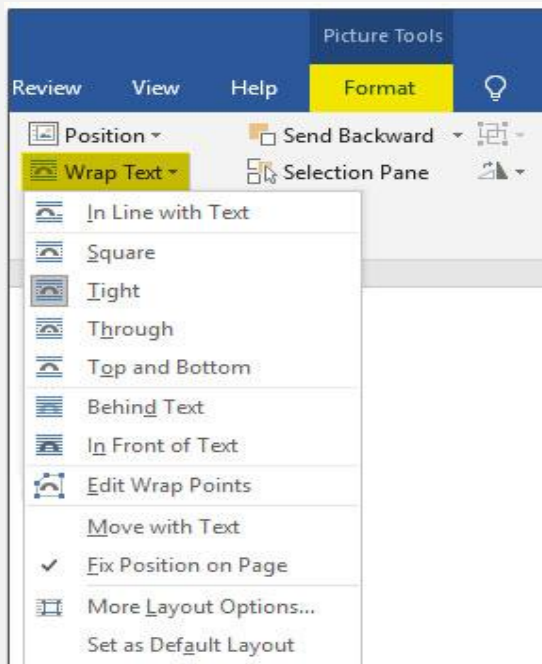
in line with text (۴) behind text (۳)

پاسخ کارشناس سایت ایران استخدام: گزینه ۲

هنگامی که یک تصویر را به سندتان اضافه می‌کنید، یک دکمه کوچک را در بالا و سمت راست آن تصویر مشاهده می‌کنید که یک منو شامل گزینه‌های چیدمان متن می‌باشد. فقط کافی است روی گزینه‌ای کلیک کنید تا سبک چیدمان تغییر کند. این منو به صورت کامل‌تر در دو سربرگ Layout و Format نیز قرار دارد. بعد از انتخاب شی، به سربرگ Layout یا Format بروید و روی گزینه Wrap Text کلیک کنید، مجموعه کاملی از گزینه‌های چیدمان در دسترس شماست. می‌توانیم این گزینه‌ها را به ۴ گروه تقسیم کنیم:

In line with text: این گزینه تصویر را در راستای خط متن قرار می‌دهد؛ یعنی تصویر خطوط متن را قطع می‌کند.

Through ، Square ، Tight و Top and bottom: این سه گزینه متن را در هر چهار طرف تصویر قرار می‌دهند و تصویر خطوط متن را قطع می‌کند.
 Top and bottom: این گزینه متن را در بالا و پایین تصویر قرار می‌دهد و در نتیجه خطوط متن قطع نمی‌شوند.
 In Front Of text و behind text: این دو گزینه به هیچ وجه روی متن تأثیر نمی‌گذارند و تصویر پشت یا روی متن قرار می‌گیرد.



۵- تب (سربرگ) mailings برای ارتباط کدام نرم افزار با مجموعه‌ای از اطلاعات از پیش ثبت شده می‌باشد؟
www.iranestekhdam.ir

- (۱) نرم افزار excel
 (۲) نرم افزار powerpoint
 (۳) نرم افزار word
 (۴) نرم افزار access

پاسخ کارشناس سایت ایران استخدام: گزینه ۳

یکی از پرکاربردترین قابلیت‌های مایکروسافت انتقال اطلاعات از اکسل به ورد، Mailings است که با استفاده از آن می‌توانید به طور همزمان برای چندین نفر یک لیست، دعوت‌نامه، گواهی نامه و غیره بفرستید. در مرحله اول باید یک لیست در اکسل تهیه نمایید. این لیست می‌تواند یک سند از اطلاعات شرکت باشد و یا یک لیست از کسانی که قرار است به آن‌ها ایمیل بفرستید. بعد از ساخت سرفصل‌ها، اطلاعات و داده‌ها را وارد ستون‌ها کنید. سپس بعد از اتمام کار، لیست اکسل خود را ذخیره کنید. گام دوم، ادغام اطلاعات نامه از اکسل به ورد است. در این مرحله کافی است که یک سند خالی ورد باز کرده و به تب Mailings بروید و گزینه Start Mail Merge را انتخاب نمایید.



۶- کارکرد کدام تابع در نرم افزار اکسل، اشتباه ذکر شده است؟ (www.iranestekhdam.ir)

- (۱) countif: شمارش مقدار دارای شرایط خاص
 (۲) find: پیدا کردن موقعیت یک متن در متن دیگر
 (۳) concatenate: جمع کردن دو مقدار عددی
 (۴) rank: رتبه بندی مجموعه ای از اعداد

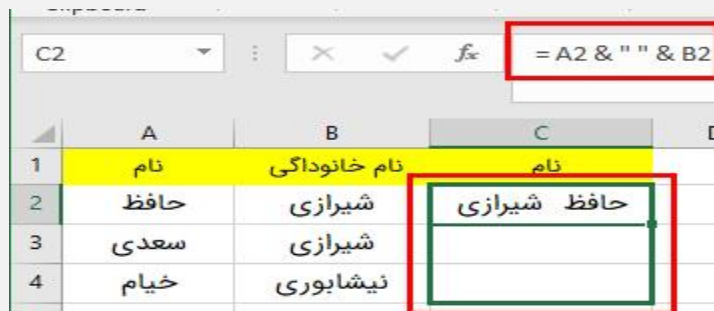
پاسخ کارشناس سایت ایران استخدام: **گزینه ۲**

تابع COUNTIF در اکسل برای شمارش سلول‌های دارای شرایط خاص به کار گرفته می‌شود.

تابع FIND در اکسل به شما کمک می‌کند تا موقعیت کاراکترها را در یک رشته پیدا کنید.

تابع Rank تابع رتبه بندی در اکسل هست. در واقع جایگاه یک عدد را بین یک سری اعداد به ما می‌دهد.

تابع Concatenate در اکسل محتوای درون سلول‌ها را ترکیب می‌کند. به عبارت دیگر، با استفاده از این تابع، محتوای دو یا چند سلول را با هم ادغام می‌کنیم.

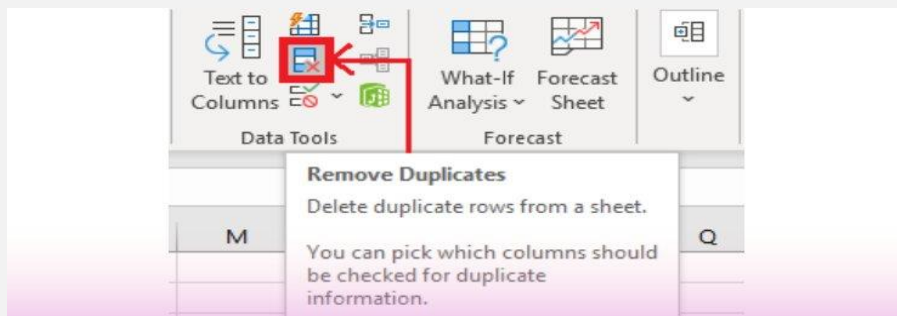


۷- گزینه **remove duplicates** در اکسل چه کاری را انجام می‌دهد؟ (www.iranestekhdam.ir)

- (۱) حذف کردن اطلاعات تکراری
 (۲) merge کردن خانه‌های دارای اطلاعات تکراری
 (۳) جابجا کردن اطلاعات تکراری
 (۴) رنگ کردن خانه‌های حاوی اطلاعات تکراری

پاسخ کارشناس سایت ایران استخدام: **گزینه ۱**

اکسل یک ابزار داخلی دارد که به حذف ورودی‌های مکرر در مجموعه داده شما کمک می‌کند. برای این کار ابتدا روی هر سلول یا محدوده خاصی در مجموعه داده‌ای که می‌خواهید موارد تکراری را از آن حذف کنید، کلیک کنید. اگر روی یک سلول کلیک کنید، اکسل به طور خودکار محدوده را در مرحله بعد برای شما تعیین می‌کند. سپس از تب DATA در بخش Data Tools گزینه Remove Duplicates را انتخاب می‌کنیم. یک پنجره جدید ظاهر می‌شود، که می‌توانید ستون‌هایی را که می‌خواهید مقایسه کنید انتخاب کنید و داده‌های تکراری را بررسی کنید. در صورتی که داده‌های شما شامل سرصفحه‌های ستون است، گزینه My data has headers را انتخاب کرده و روی OK کلیک کنید. با بررسی گزینه header، ردیف اول برای حذف مقادیر تکراری در نظر گرفته نمی‌شود. اکسل اکنون ردیف‌های تکراری را حذف می‌کند و یک پنجره جدید نمایش می‌دهد. این پنجره خلاصه‌ای از تعداد مقادیر تکراری که پیدا و حذف شده‌اند همراه با تعداد مقادیر منحصر به فرد در جدول اکسل را نشان می‌دهد.



۸- کدام یک از اصطلاحات زیر در نرم افزار اکسس، با بقیه متفاوت است؟ (www.iranestekhdam.ir)

- (۱) report
(۲) query
(۳) form
(۴) table

پاسخ کارشناس سایت ایران استخدام: گزینه ۱

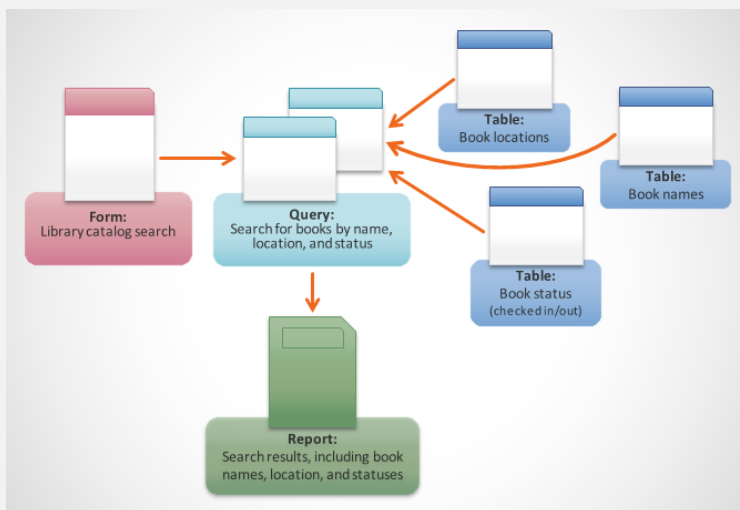
جدول (Table): ساختاری برای نگهداری اطلاعات به صورت سطری و ستونی با مشخص کردن فیلدها و رکوردها.

کوئری (Query): روشی برای جستجو در جدول یا جدول‌های اطلاعاتی مرتبط با یکدیگر. علاوه بر عملیات جستجو می‌توانید از کوئری‌ها برای ایجاد تغییرات مورد نظر خود در اطلاعات ذخیره شده در جداول خود بهره ببرید.

فرم (Form): ساختاری منظم برای نمایش، ویرایش و حذف رکوردهای جدول‌های اطلاعاتی.

گزارش (Report): بهره‌گیری از صفحه بندی برای نمایش یا چاپ گزارشات تهیه شده از طریق جدول، فرم یا پرس و جوها.

دلیل متفاوت بودن report با بقیه گزینه‌ها در این است که با بقیه گزینه‌ها امکان ورود داده به جدول وجود دارد.

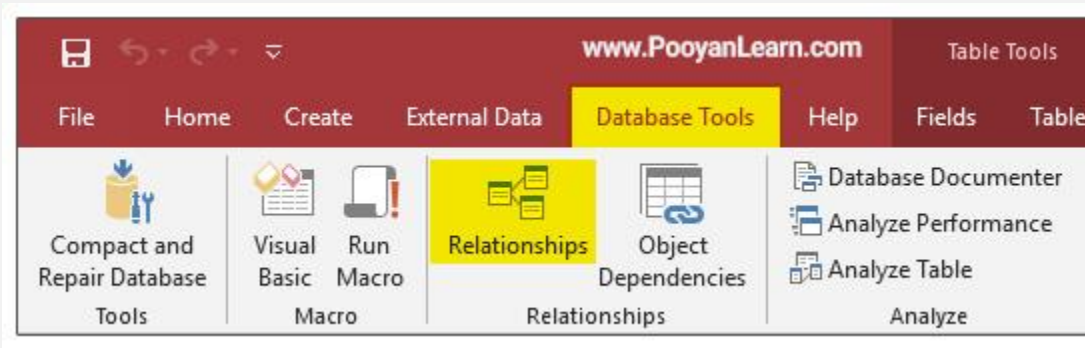


۹- relationships در نرم افزار اکسس، چه کاربردی دارد؟ (www.iranestekhdam.ir)

- (۱) نحوه ارتباط بین جداول یک دیتابیس با دیتابیس دیگر را نشان می‌دهد.
(۲) نحوه ارتباط بین جداول یک دیتابیس را نشان می‌دهد.
(۳) نحوه ارتباط بین فرم‌ها و جداول یک دیتابیس را نشان می‌دهد.
(۴) نحوه ارتباط بین فیلدهای متفاوت یک جدول را نشان می‌دهد.

پاسخ کارشناس سایت ایران استخدام: گزینه ۲

در نرم افزار اکسس برای مدیریت بهتر یک پایگاه داده می توان بین جدول ها ارتباط (relationship) برقرار کرد. برای ایجاد ارتباط بین جدول ها باید فیلدی را به عنوان کلید اصلی در نظر بگیرید. وقتی ارتباطی را در اکسس تعریف می کنید، در واقع بین داده های دو جدول ارتباط برقرار می کنید.

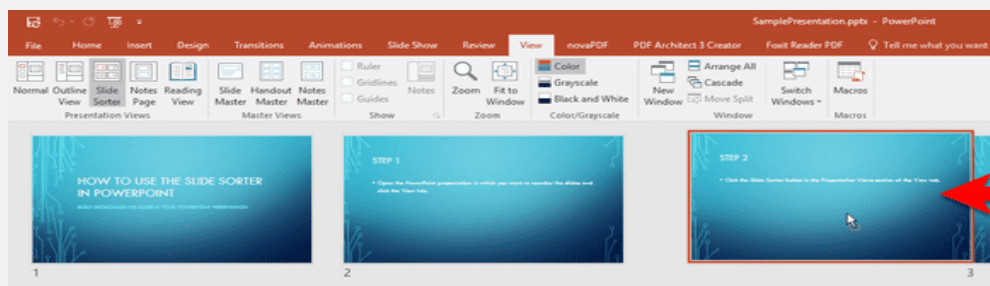


۱۰- نحوه نمایش slide sorter در نرم افزار پاورپوینت، برای کمک در کدام یک از موارد زیر است؟
(www.iranestekhdam.ir)

- ۱) مشخص نمودن ترتیب نمایش اسلایدها
- ۲) مشخص نمودن نحوه اتصال دو اسلاید به همدیگر
- ۳) مشخص نمودن نحوه نمایش هر اسلاید
- ۴) مشخص نمودن نحوه ترتیب نمایش اجزاء یک اسلاید

پاسخ کارشناس سایت ایران استخدام: گزینه ۱

این نما برای اعمالی مانند حذف کردن، کپی کردن، جا به جا کردن و تعیین ترتیب نمایش اسلایدها مناسب است. در این نوع نمایش، اسلایدها به صورت کوچک شده در کنار یکدیگر قرار گرفته اند و هر کدام دارای شماره مربوط به خود می باشد.

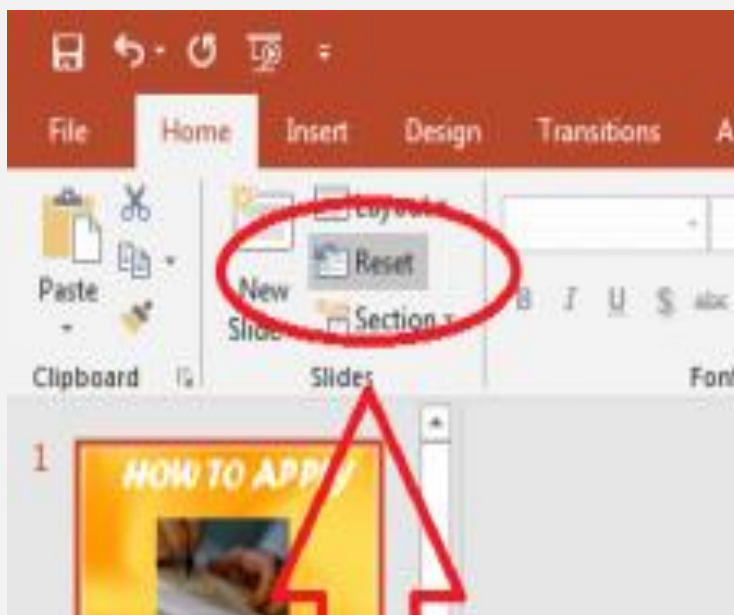


۱۱- گزینه reset slide در پاورپوینت چه عملی را انجام می دهد؟ (www.iranestekhdam.ir)

- ۱) اسلاید موجود را خالی از اجزا کرده و به فرمت پیش فرض در می آورد.
- ۲) نمایش سند فعلی پاورپوینت را قطع می کند.
- ۳) همه متن ها و اجزا اسلاید را به فرمت اولیه تبدیل می کند.
- ۴) یک اسلاید جدید ایجاد می کند.

پاسخ کارشناس سایت ایران استخدام: گزینه ۳

گزینه Reset موجود در بخش Home قالب و تنظیمات درون اسلاید را به حالت اولیه باز می‌گرداند و گزینه Delete نیز اسلاید انتخاب شده را حذف می‌کند.



۱۲- کدام ویژگی زیر فقط در ویندوز 11 وجود دارد؟ (www.iranestekhdam.ir)

(۱) پین کردن برنامه‌ها در منوی استارت

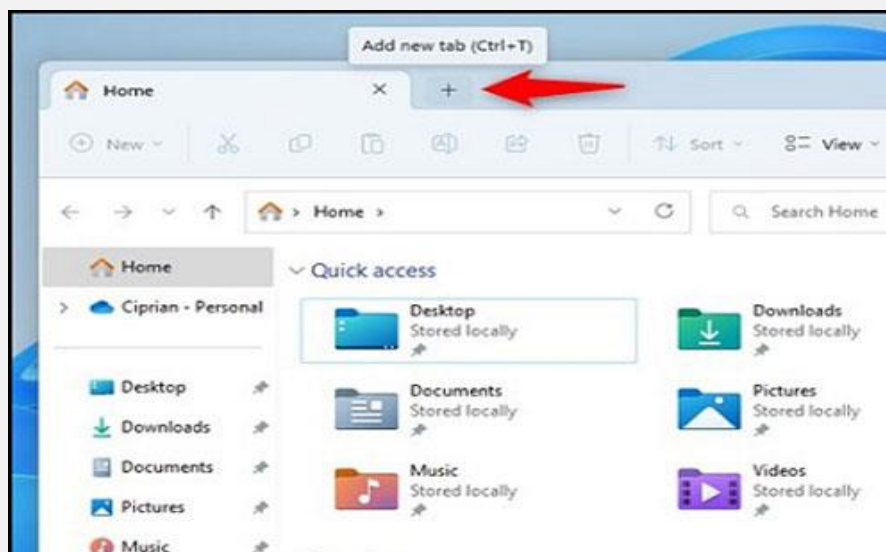
(۲) ایجاد تب جدید در اکسپلورر

(۳) ماشین حساب علمی

(۴) وجود نوتیفیکیشن

پاسخ کارشناس سایت ایران استخدام: گزینه ۲

یکی از قابلیت‌های ویندوز ۱۱ اضافه کردن تب در فایل اکسپلورر است. این قابلیت باعث می‌شود تا شما نیازی به باز کردن چند فایل اکسپلورر به طور همزمان نداشته باشید.



۱۳- در کدام یک از حالت‌های نمایش فایل در اکسپلورر، اندازه آیکن فایل‌ها بزرگتر از دیگر حالت‌ها می‌باشد؟

(www.iranestekhdam.ir)

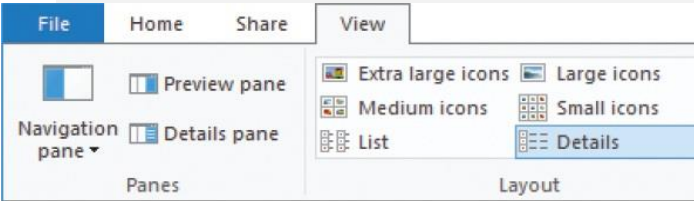
tiles (۱) small icons (۲)

list (۴) details (۳)

پاسخ کارشناس سایت ایران استخدام: گزینه ۱

Tiles: برای پوشه‌ها، یک آیکون میان اندازه را نمایش می‌دهد که در آن نام پوشه و نوع آن نمایش داده شده است. برای فایل‌ها، این آیکون نشان دهنده نوع فایل است و همراه با نام فایل، نوع آن و اندازه اش می‌باشد.

نحوه نمایش آیکن ها	آیکن
اندازه آیکون ها را خیلی بزرگ نمایش می دهد	Extra large icons
اندازه آیکون ها را بزرگ نمایش می دهد	large icons
اندازه آیکون ها را متوسط نمایش می دهد	medium icons
اندازه آیکون ها را کوچک نمایش می دهد	small icons
آیکون ها را بصورت لیست نمایش می دهد	list
جزئیات و اطلاعات فایل ها را نمایش می دهد	Details
آیکون ها را مرتب و بصورت کاشی نمایش می دهد	Tiles
آیکون ها را مانند جدول نمایش می دهد	Content



۱۴- کدام یک از نرم افزارهای زیر یک مرورگر اینترنتی می‌باشد؟ (www.iranestekhdam.ir)

onenote (۱) edge(۲)

explorer(۳) webcam(۴)

پاسخ کارشناس سایت ایران استخدام: گزینه ۲

مرورگر یک برنامه کاربردی یا نرم افزاری است که امکان مشاهده و تعامل با تمام اطلاعات موجود در وب جهانی را فراهم می‌کند. این اطلاعات صفحات وب می‌تواند شامل فیلم‌ها و تصاویر و مطالب شود. کروم، مایکروسافت اج (به دنبال اینترنت اکسپلورر)، سافاری، اپرا و فایرفاکس، از محبوب‌ترین مرورگرهای وب هستند.



۱۵- از کدام یک از نرم افزارهای زیر برای ویرایش عکس استفاده نمی‌شود؟ (www.iranestekhdam.ir)

paint (۱)

coreldraw(۲)

photoshop(۳)

winimage(۴)

پاسخ کارشناس سایت ایران استخدام: گزینه ۴

WinImage نام یک محصول نرم افزاری جدید و قدرتمند در زمینه تهیه بک‌آپ و ایمپج از هارد درایو است که به کمک آن کاربر می‌تواند از انواع حافظه‌های ذخیره‌سازی در سیستم عامل ویندوز یک نسخه پشتیبان در قالب ایمپج تهیه کند تا در آینده بتوان آن را به طرق مختلف مورد استفاده قرار داد. این نرم افزار در واقع یک راهکار جدید و ساده به منظور ساخت، خواندن و ویرایش دیسک ایمپج در فرمت‌های DMF, VHD, FAT, ISO, NTFS و ... است که می‌تواند یک نسخه کاملاً دقیق از محتوا و ساختار هارد درایو را ایمپج بگیرد.

بخش دوم:

آشنایی با قوانین و مقررات اداری

۱۶- چند روز مرخصی کاری با حقوق و مزایا در سال به کارمندان دستگاه‌های اجرایی تعلق می‌گیرد؟
(www.iranestekhdam.ir)

- (۱) ۲۰ روز
(۲) ۲۵ روز
(۳) ۱۵ روز
(۴) ۳۰ روز

پاسخ کارشناس سایت ایران استخدام: گزینه ۴

طبق ماده ۸۴ قانون مدیریت خدمات کشوری، کارمندان دستگاه‌های اجرائی سالی سی روز حق مرخصی کاری با استفاده از حقوق و مزایای مربوط را دارند و حداکثر نیمی از مرخصی کارمندان در هر سال قابل ذخیره شدن است.

۱۷- مسئولی است که از لحاظ سلسله مراتب سازمانی به طور مستقیم مسئولیت سرپرستی و ارجاع کار به ارزشیابی شونده را دارد و از وی گزارش دریافت می‌کند. (www.iranestekhdam.ir)

- (۱) ارزشیابی کننده
(۲) مدیر بلافصل
(۳) تایید کننده
(۴) گزینه الف و ب

پاسخ کارشناس سایت ایران استخدام: گزینه ۴

ارزشیابی کننده (مدیر بلافصل): مسئولی است که از لحاظ سلسله مراتب سازمانی به طور مستقیم مسئولیت سرپرستی و ارجاع کار به ارزشیابی شونده را دارد و از وی گزارش دریافت می‌کند.

۱۸- کارمندانی که به صورت غیر منظم و بر حسب نوبت به صورت کشیک یا عناوین مشابه آن در هر یک از حالت زمانی عهده دار انجام مسئولیت‌های محوله باشند..... (www.iranestekhdam.ir)

- (۱) مشمول پرداخت فوق العاده نوبت کاری نیستند.
(۲) با رعایت مقررات مربوط از فوق العاده اضافه کار ساعتی برخوردار خواهد بود.
(۳) مشمول پرداخت فوق العاده نوبت کاری می‌شوند.
(۴) گزینه الف و ب

پاسخ کارشناس سایت ایران استخدام: گزینه ۴

کارمندانی که به صورت غیر منظم و بر حسب نوبت به صورت کشیک یا عناوین مشابه آن در هر یک از حالات زمانی عهده دار انجام مسئولیت‌های محوله باشند مشمول پرداخت فوق العاده نوبت کاری نبوده و با رعایت مقررات مربوط از فوق العاده اضافه کار ساعتی برخوردار خواهد بود.

۱۹- کارمندان دستگاه‌های اجرائی می‌توانند در طول مدت خدمت خود با موافقت دستگاه ذیربط حداکثر از مرخصی بدون حقوق استفاده نمایند و اگر مرخصی برای ادامه تحصیلات عالی باشد تا قابل افزایش خواهد بود.
(www.iranestekhdam.ir)

(۱) یک سال - یک سال

(۲) دو سال - یک سال

(۳) یک سال - دو سال

(۴) سه سال - دو سال

پاسخ کارشناس سایت ایران استخدام: گزینه ۴

کارمندان دستگاه‌های اجرائی می‌توانند در طول مدت خدمت خود با موافقت دستگاه ذی‌ربط حداکثر سه سال از مرخصی بدون حقوق استفاده نمایند و در صورتی که کسب مرخصی برای ادامه تحصیلات عالی تخصصی در رشته مربوط به شغل کارمندان باشد تا مدت دو سال قابل افزایش خواهد بود.

۲۰- کدام گزینه غلط است؟ (www.iranestekhdam.ir)

(۱) پرداخت اضافه کاری بدون انجام کار اضافی وجاهت قانونی ندارد.

(۲) پرداخت اضافه کاری بدون انجام کار اضافی به نظر مدیر سازمان بستگی ندارد.

(۳) پرداخت اضافه کاری تنها در قبال انجام کار اضافی در ساعات اداری مجاز می‌باشد.

(۴) پرداخت اضافه کاری بدون انجام کار اضافی در حکم تصرف غیر قانونی وجوه و اموال عمومی است.

پاسخ کارشناس سایت ایران استخدام: گزینه ۳

بر اساس ماده ۹۹ قانون مدیریت خدمات کشوری، پرداخت اضافه کاری تنها در قبال انجام کار اضافی در ساعات غیر اداری مجاز می‌باشد و هرگونه پرداخت تحت این عنوان بدون انجام کار اضافی در حکم تصرف غیر قانونی وجوه و اموال عمومی است. بر این اساس گزینه ۳ غلط است.

۲۱- کارمندان می‌توانند با موافقت دستگاه اجرائی ساعات کار خود را تا حداکثر چند ساعت تقلیل دهند؟

(www.iranestekhdam.ir)

(۱) ۸ ساعت

(۲) ۴ ساعت

(۳) ۱۱ ساعت

(۴) ۶ ساعت

پاسخ کارشناس سایت ایران استخدام: گزینه ۳

کارمندان می‌توانند با موافقت دستگاه اجرائی ساعات کار خود را تا یک چهارم ساعت کار روزانه (حداکثر ۱۱ ساعت) تقلیل دهند.

۲۲- کدام گزینه صحیح می‌باشد؟ (www.iranestekhdam.ir)

(۱) در به کارگیری و جذب نیروی انسانی جدید و مورد نیاز توسط واحد مجری، اولویت با نیروی انسانی جدید است.

(۲) کاهش قانونی حقوق و مزایای کارکنان واحد مجری در دوره اجرای تفاهم نامه، به عنوان تعهدات دستگاه در تفاهم نامه منظور و توسط دستگاه اجرایی تأمین می‌شود.

(۳) هزینه‌های ناشی از انعقاد تفاهم نامه نباید از مجموع اعتبارات هزینه‌هایی که در بودجه مصوب سالانه پیش بینی شده است، تجاوز کند.

(۴) موارد الف و ب

پاسخ کارشناس سایت ایران استخدام: گزینه ۳

از بین گزینه‌های بالا گزینه ۳ صحیح است.

گزینه ۱ صحیح نیست. زیرا در به کارگیری و جذب نیروی انسانی جدید و مورد نیاز توسط واحد مجری، اولویت با نیروی انسانی شاغل در دستگاه ذی‌ربط یا سایر دستگاه‌های اجرایی کشور می‌باشد.

گزینه ۲ نیز صحیح نیست. زیرا افزایش‌های قانونی حقوق و مزایای کارکنان واحد مجری در دوره اجرای تفاهم‌نامه، به عنوان تعهدات دستگاه در تفاهم‌نامه منظور و توسط دستگاه اجرایی تأمین می‌شود.

۲۳- چه میزان مرخصی با حقوق سالانه کارمندان در دستگاه‌های اجرائی در طول سال قابل ذخیره کردن است؟

(www.iranestekhdam.ir)

(۱) کل مرخصی‌ها (۲) ۲۰ روز

(۳) نصف مرخصی‌ها (۴) ۱۰ روز

پاسخ کارشناس سایت ایران استخدام: گزینه ۳

حداکثر نیمی از مرخصی کارمندان در هر سال قابل ذخیره شدن است.

۲۴- حداقل چند ماه پیش از پایان اعتبار گواهینامه متقاضیان تمدید گواهینامه صلاحیت خدمات مشاوره مدیریتی باید درصدد

تمدید آن برآیند؟ (www.iranestekhdam.ir)

(۱) حداقل ۲ ماه پیش از پایان اعتبار گواهینامه (۲) دو ماه پس از انقضای اعتبار گواهینامه

(۳) حداقل ۱ ماه پیش از پایان اعتبار گواهینامه (۴) یک ماه پس از انقضای اعتبار گواهینامه

پاسخ کارشناس سایت ایران استخدام: گزینه ۱

متقاضیان تمدید گواهی‌نامه صلاحیت خدمات مشاوره مدیریتی، بایستی حداقل ۲ ماه پیش از پایان اعتبار گواهی‌نامه، جهت تمدید آن اقدام نمایند. بدیهی است در صورت عدم تمدید، گواهی‌نامه شرکت مشاوره ای ابطال خواهد شد.

۲۵- پیشنهاد بازنگری و بهبود دستورالعمل از وظایف.....است. (www.iranestekhdam.ir)

(۱) رئیس امور مدیریت عملکرد و ارتقای فرهنگ سازمانی (۲) وزارتخانه

(۳) معاون نوسازی اداری (۴) کمیته تشخیص صلاحیت

پاسخ کارشناس سایت ایران استخدام: گزینه ۴

اهداف و وظایف کمیته تشخیص صلاحیت عبارتند از:

(۱) پیشنهاد بازنگری و بهبود دستورالعمل

(۲) بررسی و تعیین تیم تخصصی رای اجرا و انجام مصاحبه از متقاضیان تشخیص صلاحیت

تصمیمات این کمیته با نظر اکثریت آرا قابل اجرا می‌باشد.

۲۶- در اجرای ماده ۲ آیین نامه اجرایی ماده ۲۰ قانون مدیریت خدمات کشوری هر نوع نظر، فکر و راهکاری که بتواند وضعیت موجود را آسان تر، سریع تر، صحیح تر، ارزان تر، ایمن تر و مطلوب تر کند، نام دارد. (www.iranestekhdam.ir)

- | | |
|-------------|---------------|
| (۱) رویکرد | (۲) بهره وری |
| (۳) پیشنهاد | (۴) آیین نامه |

پاسخ کارشناس سایت ایران استخدام: گزینه ۳

تعریف پیشنهاد: هر نوع نظر، فکر و راهکاری که بتواند وضعیت موجود را آسان تر، سریع تر، صحیح تر، ارزان تر، ایمن تر و مطلوب تر کند.

۲۷- تعیین و تایید پاداش ها و سایر هزینه ها از محل ۲۰ درصد منافع حاصل از اجرای پیشنهادهای از وظایف کدام نهاد زیر است؟ (www.iranestekhdam.ir)

- | | |
|--------------|------------------|
| (۱) دبیرخانه | (۲) کمیته تخصصی |
| (۳) شورا | (۴) گروه ارزیابی |

پاسخ کارشناس سایت ایران استخدام: گزینه ۳

تعیین و تایید پاداش ها و سایر هزینه ها از محل ۲۰ درصد منافع حاصل از اجرای پیشنهادهای از وظایف شورا می باشد.

۲۸- تامین خدمات عمومی و تخصصی مورد نیاز دستگاه اجرایی با استفاده از ظرفیت بخش خصوصی و تعاونی..... نام دارد. (www.iranestekhdam.ir)

- | | |
|----------------|----------------|
| (۱) قیمت خدمات | (۲) خرید خدمات |
| (۳) خدمت دهنده | (۴) تعیین قیمت |

پاسخ کارشناس سایت ایران استخدام: گزینه ۲

تامین خدمات عمومی و تخصصی مورد نیاز دستگاه اجرایی با استفاده از ظرفیت بخش خصوصی و تعاونی خرید خدمات نام دارد.

۲۹- تعداد واحدهای سازمانی که عهده دار وظایف عمومی در ستاد مرکزی دستگاه هستند نباید از.....تجاوز نماید. (www.iranestekhdam.ir)

- | | |
|----------------------|-----------------------|
| (۱) یک دوم کل واحدها | (۲) ۵۰ درصد کل واحدها |
| (۳) یک سوم کل واحدها | (۴) ۲۵ درصد کل واحدها |

پاسخ کارشناس سایت ایران استخدام: گزینه ۴

در ستاد مرکزی دستگاه، تعداد واحدهای سازمانی که عهده دار وظایف عمومی هستند به کل واحدها، نباید از ۲۵٪ تجاوز نماید.

۳۰- کدام یک از امور زیر حاکمیتی نیست؟ (www.iranestekhdam.ir)

- ۱) ایجاد فضای سالم برای رقابت و جلوگیری از انحصار و تضييع حقوق مردم
- ۲) آموزش و پرورش عمومی و فنی و حرفه‌ای
- ۳) برقراری عدالت و تأمین اجتماعی و باز توزیع درآمد
- ۴) فراهم نمودن زمینه‌ها و مزیت‌های لازم برای رشد و توسعه کشور و رفع فقر و بیکاری

پاسخ کارشناس سایت ایران استخدام: گزینه ۲

امور حاکمیتی عبارتند از:

۱- سیاستگذاری، برنامه‌ریزی و نظارت در بخش‌های اقتصادی، اجتماعی، فرهنگی و سیاسی ۲- برقراری عدالت و تأمین اجتماعی و باز توزیع درآمد ۳- ایجاد فضای سالم برای رقابت و جلوگیری از انحصار و تضييع حقوق مردم ۴- فراهم نمودن زمینه‌ها و مزیت‌های لازم برای رشد و توسعه کشور و رفع فقر و بیکاری ۵- قانونگذاری، امور ثبتی، استقرار نظم و امنیت و اداره امور قضائی ۶- حفظ تمامیت ارضی کشور و ایجادآمدگی دفاعی و دفاع ملی ۷- ترویج اخلاق، فرهنگ و مبانی اسلامی و صیانت از هویت ایرانی، اسلامی ۸- اداره امور داخلی، مالیه عمومی، تنظیم روابط کار و روابط خارجی ۹- حفظ محیط زیست و حفاظت از منابع طبیعی و میراث فرهنگی ۱۰- تحقیقات بنیادی، آمار و اطلاعات ملی و مدیریت فضای فرکانس کشور ۱۱- ارتقاء بهداشت و آموزش عمومی، کنترل و پیشگیری از بیماری‌ها و آفت‌های واگیر، مقابله و کاهش اثرات حوادث طبیعی و بحران‌های عمومی ۱۲- بخشی از امور مندرج در مواد (۹)، (۱۰) و (۱۱) این قانون نظیر موارد مذکور در اصول بیست و نهم (۲۹) و سی‌ام (۳۰) قانون اساسی که انجام آن توسط بخش خصوصی و تعاونی و نهادها و مؤسسات عمومی غیردولتی با تأیید هیأت وزیران امکانپذیر نمی‌باشد. ۱۳- سایر مواردی که با رعایت سیاست‌های کلی مصوب مقام معظم رهبری به موجب قانون اساسی در قوانین عادی جزء این امور قرار می‌گیرد.

گزینه ۲ جز امور حاکمیتی نمی‌باشد.

بخش سوم:

زبان و ادبیات فارسی

۳۱- اگر جمله «خاکستر خانه او زیاد است» به مفهوم «او مهمان نواز است» باشد کدام صفت ادبی به کار برده است؟
(www.iranestekhdam.ir)

- (۱) مجاز
(۲) کنایه
(۳) تشبیه
(۴) استعاره

پاسخ کارشناس سایت ایران استخدام: گزینه ۲

خاکستر خانه زیاد بودن کنایه از مهمان نوازی است. یعنی آتش آن خانه همیشه به راه است برای مامان.

۳۲- با توجه به بیت زیر نقش «سهیل» به ترتیب کدام است؟ (www.iranestekhdam.ir)

- هر شب بگرایم به یمین تا تو بی آبی زیرا که سهیلی و سهیل از یمین آید
- (۱) مسند - مسند (۲) فاعل - مسند
(۳) مسند اله - مسند اله (۴) مسند - فاعل

پاسخ کارشناس سایت ایران استخدام: گزینه ۴

زیرا که تو سهیل هستی (سهیل در نقش مسند) و سهیل از یمین می آید (سهیل در نقش فاعل است).

۳۳- به کاربردن کدام کلمه در نگارش فارسی درست است؟ (www.iranestekhdam.ir)

- (۱) اولی تر (۲) افضل تر
(۳) اعلی تر (۴) اعلم تر

پاسخ کارشناس سایت ایران استخدام: گزینه ۳

اعلی یعنی عالی و ممتاز. اما اولی یعنی شایسته تر، افضل یعنی برتر، اعلم یعنی داناتر. این کلمات با "تر" جمع بسته نمی شود.

۳۴- در کدام گزینه غلط املائی وجود دارد؟ (www.iranestekhdam.ir)

- (۱) سایر علل بر ایشان طار می شود.
(۲) نیکبختی به امتثال او منوت باشد.
(۳) هر گونه زلزله از ایشان پدید آمد.
(۴) زفتی به جای خویشتن، انصافی بزرگ باشد.

پاسخ کارشناس سایت ایران استخدام: گزینه ۱

سایر علل بر ایشان تار می شود.

گزینه دو: زلزله نیست، زلال است.

۳۵- در بیت زیر «گل» در همه نقش‌ها به جز..... به کار رفته است. (www.iranestekhdam.ir)

ای گل فروش! گل چه فروشی بجای سیم

وز گل عزیزتر چه ستانی به سیم گل

(۱) مسند اله (۲) مضاف اله

(۳) مفعول (۴) متمم

پاسخ کارشناس سایت ایران استخدام: گزینه ۱

گل را برای چه می‌فروشی. در نقش مفعول. از گل عزیزتر. در نقش متمم. سیم گل در نقش مضاف‌الیه. در این بیت، گل در نقش مسندالیه وجود ندارد.

۳۶- کدام کلمه با توجه به معنی آن صحیح نیست? (www.iranestekhdam.ir)

(۱) نسق: شیوه (۲) فحل: دلیر

(۳) ضیاع: املاک (۴) نمت: روش

پاسخ کارشناس سایت ایران استخدام: گزینه ۲

فحل به معنی نامدار، برجسته، چیره‌دست و... است.

۳۷- نوع «را» در کدام گزینه با گزینه‌های دیگر متفاوت است؟ (www.iranestekhdam.ir)

(۱) فلک را سقف بشکافیم و طرحی نو دراندازیم

(۲) امیر را دل به حال آن بنده سوخت

(۳) دل می‌رود ز دستم صاحب‌دلان خدا را

(۴) نیت را معنی، قصد است

پاسخ کارشناس سایت ایران استخدام: گزینه ۱

سقف فلک را بشکافیم. در این گزینه را در نقش مفعولی آمده است. اما در گزینه‌های دیگر حرف اضافه‌ای است.

۳۸- در بیت زیر ترکیب «مرغ حق» استعاره از کیست؟ (www.iranestekhdam.ir)

چون صغیری شنوی از مرغ حق

ظاهرش را یادگیری چون سبق

(۱) عارف روش ضمیر (۲) عالم خردمند

(۳) دانشمند ساده اندیش (۴) صوفی ظاهر بین

پاسخ کارشناس سایت ایران استخدام: گزینه ۱

صغیر نیست و صغیر است. یعنی چون بانگی از مرغ حق بشنوی. مرغ حق منظور اولیا الله است. همان عارف روشن ضمیر که معرفت به دل آن تابیده باشد.

۳۹- نوشتار کدام گزینه صحیح است؟ (www.iranestekhdam.ir)

- (۱) کج دار و مریض
(۲) کژدار و مریز
(۳) کژدار و مریض
(۴) کج دار و مریز

پاسخ کارشناس سایت ایران استخدام: گزینه ۲

کژدار و مریز درست است. مریز هم به معنای نریختن است در این ضرب‌المثل.

۴۰- در مصرع «لاله و گل زخمی خمیازه اند» منظور از «خمیازه» چیست؟ (www.iranestekhdam.ir)

- (۱) بسته شدن
(۲) پرپر شدن
(۳) شکفته شدن
(۴) پویا شدن

پاسخ کارشناس سایت ایران استخدام: گزینه ۳

همان‌گونه که موقع خمیازه دهان باز می‌شود، خمیازه‌ی گل نیز اشاره به شکفتن آن دارد.

۴۱- کدام کتاب از آثار شیخ بهایی نیست؟ (www.iranestekhdam.ir)

- (۱) نان و حلوا
(۲) درو نادر
(۳) شیر و شکر
(۴) کشکول

پاسخ کارشناس سایت ایران استخدام: گزینه ۲

نان و حلوا، شیر و شکر، کشکول از آثار شیخ بهایی است.

درو نادر؟ فکر می‌کنم در تایپ این عنوان اشتباه شده است.

۴۲- در کدام بیت آرایه تشبیه وجود ندارد؟ (www.iranestekhdam.ir)

- (۱) یک کس به فکر عاقبت کار خویشتن نیست
حیف از شعور مردم این روزگار، حیف
(۲) حیف و صد حیف که از آب مروت خالی است
این همه کاسه زرین که بر این دولاب است
(۳) خواهم سخنی گفتم مرغ ای گل رعنا
حیف است که با چون تو گلی بوی وفا نیست
(۴) هرگز گلی سراغ شبستان ما نکرد
حیف از چراغ عمر که تنها بسوختیم

پاسخ کارشناس سایت ایران استخدام: گزینه ۱

در گزینه اول تشبیهی وجود ندارد. اما آب مروت در گزینه دوم و گل رعنا در گزینه سوم و چراغ عمر در گزینه آخر تشبیه هستند.

۴۳- مستفید یعنی: (www.iranestekhdam.ir)

- (۱) بهره داد
(۲) استفاده کردن
(۳) فایده برد
(۴) بهره گیرنده

پاسخ کارشناس سایت ایران استخدام: گزینه ۴

مستفید در اصل مستفید است و این واژه در ادبیات کهن به ویژه تاریخ بیهقی بسیار دیده می‌شود. به معنای بهره‌گیرنده و سودخواه است.

در ۲ سوال زیر، زیر سه قسمت از هر یک از جملات خط کشیده شده است. هر یک از این جملات را به دقت بخوانید و مشخص کنید آیا در یکی از این قسمت‌ها، خطایی از نظر دستور زبان، به کارگیری مناسب کلمات و اصطلاحات وجود دارد یا خیر در صورت وجود خطا گزینه‌ای که دارای خطاست را در برگ پاسخ نامه علامت بزنید.

۴۴- اخبار رفته رفته نشت کرد و همه فهمیدند که در هزینه اجرای طرح حیف و میل شد. (www.iranestekhdam.ir)

- (۱) نشت کرد
(۲) خطایی در جمله وجود ندارد
(۳) رفته رفته
(۴) هزینه اجرای طرح

پاسخ کارشناس سایت ایران استخدام: گزینه ۴

در هزینه اجرای طرح حیف و میل شد اشتباه است. حرف اضافه در مناسب بافت جمله نیست و نیازی نیست آن را بیاوریم. اما در صورتی این گزینه صحیح خواهد بود که جمله به درستی تایپ شده باشد و یک کلمه هم در تایپ اشتباه نوشته نشده باشد. (مانند تمام اشتباه‌های تایپی گذشته)

۴۵- سپاسگذاری از والدین که گاه به آن بی‌اعتنایی می‌شود ضروری است. (www.iranestekhdam.ir)

- (۱) گاه
(۲) خطایی در جمله وجود ندارد
(۳) سپاسگذاری
(۴) بی‌اعتنایی می‌شود

پاسخ کارشناس سایت ایران استخدام: گزینه ۳

سپاسگزاری درست است. البته در سوال نوشته شده ایراد دستوری پیدا شود. پس حتما در تایپ سوال اشتباهی رخ داده است.

بخش چهارم:

معارف اسلامی

۴۶- هدف نهایی آفرینش انسان از دیدگاه آیات قرآن چیست؟ (www.iranestekhdam.ir)

- (۱) پرستش و عبودیت
(۲) تدبر و تأمل
(۳) خدمت و امداد
(۴) مجاهده

پاسخ کارشناس سایت ایران استخدام: گزینه ۱

قرآن کریم در آیه ۵۶ سوره مبارکه ذاریات می‌فرماید:

و ما خلقت الجن و الانس الا ليعبدون

ترجمه: و من جن و انس را نیافریدم مگر برای اینکه مرا (به یکتایی) پرستش کنند.

هدف نهایی آفرینش انسان از دیدگاه آیات قرآن پرستش و عبودیت است.

۴۷- رابطه ایمان و معرفت از دیدگاه قرآن چگونه است؟ (www.iranestekhdam.ir)

- (۱) معرفت مبتنی بر ایمان است
(۲) ایمان مبتنی بر معرفت است
(۳) معرفت لازمه ایمان است
(۴) ایمان لازمه معرفت است

پاسخ کارشناس سایت ایران استخدام: گزینه ۳

معرفت و ایمان نه به طور کلی مابین یکدیگرند، به طوری که هیچ ارتباطی بین آنها نباشد و نه کاملاً مساوی یکدیگر باشند، به طوری که کاملاً بر هم منطبق شوند، بلکه ارتباط میان ایمان و معرفت، ارتباط ویژه‌ای است؛ بدین معنا که معرفت، مقدمه ایمان است و ایمان مرحله‌ای بالاتر از معرفت می‌باشد. پس معرفت شرط لازم ایمان است.

۴۸- ویژگی اصلی خداوند در تمام ادیان چیست؟ (www.iranestekhdam.ir)

- (۱) یکتا بودن
(۲) قداست ذاتی
(۳) مشترک بودن نام خداوند
(۴) قادر بودن

پاسخ کارشناس سایت ایران استخدام: گزینه ۲

در تمام ادیان ویژگی اصلی خداوند قداست ذاتی اوست. یکتا بودن، قادر بودن و مشترک بودن نام خداوند در تمام ادیان وجود ندارد.

۴۹- برهان علی در اثبات وجود خدا از چه مسیری می‌گذرد؟ (www.iranestekhdam.ir)

- (۱) بی‌نهایت بودن جهان
(۲) علیت خدا
(۳) خالقیت خدا
(۴) معلولیت جهان

پاسخ کارشناس سایت ایران استخدام: گزینه ۴

برهان علت و معلول در حقیقت بر دو پایه استوار است؛ ۱- جهانی که ما در آن زندگی می‌کنیم حادث و ممکن الوجود است. ۲- هر موجود حادث و ممکن الوجود باید منتهی به واجب الوجود گردد، و یا به عبارت دیگر وجودهای وابسته باید سرانجام به یک وجود مستقل منتهی شوند و آلاً تسلسل پیش می‌آید. از مجموع این سخن نتیجه می‌گیریم که وجود ممکنات و حوادث جهان باید به یک وجود واجب و ازلی منتهی گردد که او را خدا (الله) می‌نامیم. برهان علی از معلولیت جهان می‌گذرد و به علیت خدا می‌رسد.

۵۰- برهان نظم چگونه برهانی است؟ (www.iranestekhdam.ir)

- (۱) عقلی است با یک مقدمه تجربی
(۲) تجربی است با یک مقدمه عقلی
(۳) تجربی است با دو مقدمه عقلی
(۴) عقلی است با دو مقدمه تجربی

پاسخ کارشناس سایت ایران استخدام: گزینه ۲

شکل کلی برهان نظم را می‌توان چنین بیان نمود: جهان منظم (دارای نظم) است و هر منظومی، ناظمی دارد، پس جهان ناظم دارد. مقدمه اول، مقدمه‌ای تجربی و مقدمه دوم، مقدمه‌ای عقلی است.

۵۱- کدام گزینه در مورد صفات ثبوتی صحیح است؟ (www.iranestekhdam.ir)

- (۱) نقص و کاستی را از خداوند نفی می‌کند
(۲) صفات ذاتی از ذات خدا انتزاع می‌شود
(۳) کمالی از کمالات خدا را بیان می‌کند
(۴) از ارتباط ذاتی الهی با مخلوقات انتزاع می‌شود

پاسخ کارشناس سایت ایران استخدام: گزینه ۳

صفات ثبوتی را گاهی صفات جمال یا کمال نیز می‌نامند. مقصود از صفات ثبوتی، صفاتی است که دارای معنای وجودی است و در حقیقت کمالی است که سزاوار ذات متعالی خداوند است؛ مانند: علم، قدرت، وحدت، حیات، اراده، ادراک، سمیع و بصیر بودن.

۵۲- کدام گزینه از شاخه‌های عدل الهی نیست؟ (www.iranestekhdam.ir)

- (۱) تکوینی
(۲) تشریحی
(۳) جزایی
(۴) اجتماعی

پاسخ کارشناس سایت ایران استخدام: گزینه ۴

شاخه‌های اصلی عدل خداوند عبارتند از: تکوینی، تشریحی و جزایی

۵۳- سوره توحید مربوط به کدام یک از مراتب توحید است؟ (www.iranestekhdam.ir)

- (۱) توحید در خالقیت
(۲) توحید در ذات
(۳) توحید در صفات
(۴) توحید در عبادت

پاسخ کارشناس سایت ایران استخدام: گزینه ۲

توحید ذاتی از بارزترین صفات خداست و دارای دو شاخه است.

الف) خداوند مثل و مانندی ندارد، یگانه و بی همتاست، از این معنا به توحید واحدی تعبیر می‌شود و ذیل سوره اخلاص به همین معنی اشاره دارد «ولم یکن له کفواً احد» خدا واحد است که ثانی ندارد و اصلاً برای او متصور نیست.
ب) خداوند جزء ندارد، بسیط و غیر مرکب است از این معنا به توحید احدی تعبیر می‌شود. که صدر سوره اخلاص به آن اشاره دارد «قل هو الله احد» پس توحید ذاتی یعنی نفی شریک و نفی ترکیب از خداوند.

بخش پنجم:

زبان انگلیسی – عمومی

Direction: Choose the word or phrase (a), (b), (c) or (d) that best completes each sentence.

راهنما: گزینه پاسخی (1)، (2)، (3) یا (4) که برای پر کردن جای خالی مناسبترین است را انتخاب کنید.

61- This is where you leave your baggage and get your boarding card. (www.iranestekhdam.ir)

- | | |
|---------------------|------------------|
| 1) duty free | 2) check-in desk |
| 3) departures board | 4) gate |

پاسخ کارشناس سایت ایران استخدام: گزینه ۲

اینجا جایی است که ساک و چمدان خود را می‌گذارید و کارت پرواز خود را دریافت می‌کنید.

- | | |
|-------------------------------------|------------------------------------|
| (۱) معاف از مالیات (یا عوارض گمرکی) | (۲) میز پذیرش (فرودگاه، هتل و ...) |
| (۳) تابلوی پرواز | (۴) ورودیه |
- (با توجه به ترجمه جمله، میز پذیرش پاسخ صحیح گزینه ۲ است).

62- This glass lets us see in front of the car and protects us from the wind and the weather.

(www.iranestekhdam.ir)

- | | |
|---------------|------------|
| 1) bonnet | 2) mirrors |
| 3) windscreen | 4) bumper |

پاسخ کارشناس سایت ایران استخدام: گزینه ۳

این شیشه به ما کمک می‌کند تا جلوی ماشین را ببینیم و در برابر باد و هوا از ما محافظت می‌کند.

- | | |
|------------------------|-----------------|
| (۱) کاپوت اتومبیل | (۲) آینه |
| (۳) شیشه جلو (اتومبیل) | (۴) سپر اتومبیل |
- با توجه به معنی جمله، منظور همان شیشه جلوی اتومبیل است.

63- This is a soft bed cover. It has feathers inside. (www.iranestekhdam.ir)

- | | |
|-----------|-------------|
| 1) duvet | 2) blanket |
| 3) carpet | 4) wardrobe |

پاسخ کارشناس سایت ایران استخدام: گزینه ۱

این روتختی نرمی است که داخلش از پر، پر شده است.

- | | |
|--------------------------------|-------------|
| (۱) لحاف روتختی (پر شده از پر) | (۲) پتو |
| (۳) فرش | (۴) جا رختی |
- با توجه به معنی جمله، منظور لحاف روتختی است.

64- I usually..... up at 6 a.m. when my alarm clock goes off. (www.iranestekhdam.ir)

- | | |
|----------|---------|
| 1) brush | 2) go |
| 3) get | 4) wake |

پاسخ کارشناس سایت ایران استخدام: گزینه ۴

من بطور معمول ساعت ۶ صبح با شنیدن صدای زنگ ساعت از خواب بیدار می‌شوم.

- | | |
|-----------------|---------------|
| (۱) برس زدن | (۲) رفتن |
| (۳) دریافت کردن | (۴) بیدار شدن |

ترکیب دو کلمه wake و up به معنای از خواب بیدار شدن است، بنابراین گزینه ۴ صحیح است.

65- This drink is made from fruit such as oranges. (www.iranestekhdam.ir)

- | | |
|--------------|---------|
| 1) ice cubes | 2) milk |
| 3) juice | 4) soda |

پاسخ کارشناس سایت ایران استخدام: گزینه ۳

این نوشیدنی از میوه‌ای مثل پرتغال تهیه شده است.

- | | |
|-------------|----------------------------------|
| (۱) قالب یخ | (۲) شیر |
| (۳) آبمیوه | (۴) سودا (مشروب غیرالکلی گازدار) |

طبق معنای جمله، منظور آب پرتغال است.

66- The dessert was..... delicious. (www.iranestekhdam.ir)

- | | |
|---------------|---------------|
| 1) very | 2) absolutely |
| 3) completely | 4) totally |

پاسخ کارشناس سایت ایران استخدام: گزینه ۱

دسر خیلی خوشمزه بود.

- | | |
|------------|-------------|
| (۱) خیلی | (۲) مسلماً |
| (۳) کاملاً | (۴) بطور کل |

از قید very برای بیان جملاتی استفاده می‌شود که مثبت بوده و فقط درجه بالاتری از صفت را مورد تاکید قرار می‌دهند.

67- If he.....the penalty, we would have won Saturday's game. (www.iranestekhdam.ir)

- | | |
|---------------|----------------|
| 1) has scored | 2) would score |
| 3) has scored | 4) scored |

پاسخ کارشناس سایت ایران استخدام: گزینه ۱

اگر ضربه پنالتی را گل زده بود، بازی شنبه را می بردیم.

- | | |
|----------------|--------------|
| (۱) گل زده بود | (۲) گل می زد |
| (۳) گل زده است | (۴) گل زد |

این یک جمله شرطی است که دو بخش دارد. بخش اول آن عبارت شرطی یا If clause است و بصورت Past perfect می آید و بخش دوم آن به پیامد انجام یا عدم انجام آن اشاره دارد و از فعل کمکی would به علاوه have به علاوه شکل گذشته فعل استفاده می شود.

68-they'd only known each other for two months, they got engaged. (www.iranestekhdam.ir)

- | | |
|----------------|----------------|
| 1) despite | 2) even though |
| 3) in spite of | 4) even if |

پاسخ کارشناس سایت ایران استخدام: گزینه ۲

با اینکه فقط دو ماه بود که همدیگر را می شناختند، نامزد کردند.

- | | |
|-------------|----------------------|
| (۱) با وجود | (۲) هرچند - با اینکه |
| (۳) علی رغم | (۴) حتی اگر |

برای بیان مغایرت و تضاد کلی از even though استفاده می شود و در اینجا از ساختار even though + subject + verb بیشتر در جمله استفاده شده است، کلمات in spite of , despite نیز برای نشان دادن تضاد بکار می روند اما بعد از آنها نمی توان یک جمله بکار برد بلکه پس از این کلمات فقط یک اسم، ضمیر، گروه اسمی و یا اسم مصدر (ing فعل) استفاده می شود، از گرامر even if نیز زمانی استفاده می کنیم که عمل یا نتیجه عملی تحت هر شرایطی اتفاق بیفتد.

69- I've decided that..... to my boss about the situation. (www.iranestekhdam.ir)

- | | |
|---------------|-----------------------|
| 1) speak | 2) I'm going to speak |
| 3) I'll speak | 4) I'm having |

پاسخ کارشناس سایت ایران استخدام: گزینه ۲

من تصمیم گرفته ام که در مورد وضعیت با رئیس صحبت کنم.

- | | |
|--------------------|-----------------------|
| (۱) صحبت کردن | (۲) قصد دارم صحبت کنم |
| (۳) صحبت خواهم کرد | (۴) خواهم داشت |

وقتی از قبل برای آینده برنامه ریزی کرده ایم یا قصد داریم در آینده کاری را انجام دهیم از گرامر going to استفاده می کنیم.

70- Why were there no buses yesterday? Maybe it was the snow or they..... been on strike.

(www.iranestekhdam.ir)

- | | |
|---------------|-------------------|
| 1) must have | 2) could not have |
| 3) might have | 4) can't have |

پاسخ کارشناس سایت ایران استخدام: گزینه ۳

چرا دیروز اتوبوسها نیامده بودند؟ شاید برف آمده بود یا اینکه اعتصاب کرده بودند.

(۱) فعل کمکی بیانگر یک چیز لازم و ضروری

(۲) نمی توانست باشد (برای تاکید بر احساسات یا احتمالات گذشته)

(۳) فعل کمکی بیانگر شک و تردید

(۴) نمی تواند باشد

زمانی که بخواهیم بگوییم احتمال وقوع کاری یا عملی در زمان گذشته به صورت خفیف وجود داشته است از ساختار *might have pp* و *may have pp* استفاده می کنیم، بنابراین گزینه ۳ صحیح است.

Direction: Read the following passage carefully and answer the questions that follow:

Jesse Ownes was one of the world's most famous track stars. The newspapers of his day called him "the world's fastest human." This was because he could run faster and jump further than any other man of the time. He was born in 1913. The son of a poor black family with six other brothers and sisters, the first years of his life were very difficult. He was close to death many times during his youth, due to time. He started running and training in school and while in college at Ohio State illness. However, the care of his mother and father helped him to pull through each University he entered a national competition. During this competition, he set four world records. In 1936, the Olympic Games took place in Germany. This was the Germany of Hitler who did not believe that any race of people was better than the Germans. Jesse won the gold medal for each of the events he entered during the games and became one of the most popular athletes in the world

راهنما: متن زیر را با دقت بخوانید و به سوالات مربوط به آن پاسخ دهید:

جسی اونز یکی از معروفترین ستاره‌های دومیدانی جهان بود. از آنجاییکه او می‌توانست سریعتر و بیشتر از هر شخص دیگری در آن زمان بپرد، روزنامه‌های زمان او لقب "سریع‌ترین انسان جهان" را به او داده بودند. او در سال ۱۹۱۳ به دنیا آمد. او پسر یک خانواده سیاهپوست و فقیر، که شش برادر و خواهر دیگر هم داشت و سال‌های اول زندگی را به سختی گذرانده بود. او در دوران جوانی بارها به اقتضای آن زمان تا پای مرگ رفته بود. او تمرین و دویدن را در مدرسه آغاز کرده بود، و سپس وارد کالج دانشگاه ایالت اوهایو شد. با این وجود، توانست به کمک مادر و پدرش در هر دانشگاهی مسابقات کشوری را پشت سر بگذارد. او طی این مسابقات چهار رکورد جهانی را به نام خود ثبت کرد. در سال ۱۹۳۶، بازی‌های المپیک در آلمان برگزار شد. این آلمان هیتلر بود که نژاد آلمانی‌ها را برتر از دیگران می‌دانست. جسی برای هر یک از مسابقاتی که در طول بازی‌ها در آن شرکت کرده بود، مدال طلا گرفت و به یکی از معروفترین ورزشکاران در سراسر جهان تبدیل شد.

71- Hitler..... (www.iranestekhdam.ir)

- 1) did not believe that his athletes could win the races
- 2) was in power when the 1936 Olympic Games were held
- ۳) resented the people of the German race
- ۴) had Jesse train at Ohio State University

پاسخ کارشناس سایت ایران استخدام: گزینه ۲

هیتلر

- (۱) باور نداشت که ورزشکارانش بتوانند در مسابقات برنده شوند.
 - (۲) در زمان برگزاری بازی‌های المپیک در سال ۱۹۳۶ بر سر کار بود
 - (۳) از مردم نژاد آلمانی رنجیده بود
 - (۴) جسی را در دانشگاه ایالت اوهایو آموزش داد
- با توجه به ترجمه متن گزینه ۲ مناسب‌ترین گزینه است.

72- Jesse Ownes's..... (www.iranestekhdam.ir)

- 1) was brought up in poverty
- 2) first competed in the Olympic Games
- ۳) started to run Because his mother and father pulled him through
- 4) ran faster than anyone could jump

پاسخ کارشناس سایت ایران استخدام: گزینه ۲

جسی اونز.....

- (۱) در فقر بزرگ شده بود.
 - (۲) اولین بار بود که در بازی‌های المپیک شرکت می‌کرد.
 - (۳) شروع به دویدن کرد، چون مادر و پدرش در پشت سر گذشتن آن مراحل به او کمک کردند.
 - (۴) سریعتر از هر شخص دیگری که می‌توانست بپرد، می‌دوید.
- چون برای اولین بار در سال ۱۹۳۶ در المپیک شرکت کرده بود.

73- According to the passage, (www.iranestekhdam.ir)

- 1) Jesse caused Hitler to worry about his athletes
- 2) Jesse was one of the world's most popular athletes
- 3) Jesse is the only man to have set four world records

4) Jesse was the only black athlete to have obtained an Olympic medal

پاسخ کارشناس سایت ایران استخدام: گزینه ۲

طبق این متن

- (۱) جسی باعث شد هیتلر در مورد ورزشکارانش نگران شود.
 - (۲) جسی یکی از معروفترین ورزشکاران جهان بود.
 - (۳) جسی تنها مردی است که چهار رکورد جهانی را از آن خود کرده بود.
 - (۴) جسی تنها ورزشکار سیاهپوستی بود که به مدال المپیک دست یافته بود.
- در متن دقیقاً همین جمله آورده شده که او یکی از معروفترین ورزشکاران جهان بود.

74- What did the newspapers of his day call him? (www.iranestekhdam.ir)

- 1) The world's most famous track star
- 2) The only man of the time
- 3) The world's fastest human
- 4) All of the above

پاسخ کارشناس سایت ایران استخدام: گزینه ۳

روزنامه‌های زمان او، او را چه می‌نامیدند؟

- (۱) معروفترین ستاره دو و میدانی جهان
 - (۲) تنها مرد آن زمان
 - (۳) سریعترین انسان جهان
 - (۴) همه موارد فوق
- طبق ترجمه متن روزنامه‌ها او را سریعترین انسان جهان خطاب کرده بودند.

75- All of the following are true about Jesse Ownes EXCEPT that..... (www.iranestekhdam.ir)

- 1) He was born in 1936
- 2) He was the son of a poor black family
- 3) He was born in a big family
- 4) He was close to death many times during his youth

پاسخ کارشناس سایت ایران استخدام: گزینه ۱

همه موارد زیر بجز در مورد جسی اونس درست است.

- (۱) او در سال ۱۹۳۶ متولد شده بود.
 - (۲) او فرزند یک خانواده فقیر و سیاهپوست بود.
 - (۳) او در خانواده بزرگی متولد شده بود.
 - (۴) او در دوران جوانی بارها تا پای مرگ رفته بود.
- او در سال ۱۹۱۳ متولد شده بود.

بخش ششم:

اطلاعات عمومی، دانش اجتماعی و قانون اساسی

۷۶- آیه شریفه «وَإِن يَكَادُ الَّذِينَ كَفَرُوا لِيُزْلِقُونَكَ بِأَبْصَارِهِمْ لَمَّا سَمِعُوا الذِّكْرَ وَيَقُولُونَ إِنَّهُ لَمَجْنُونٌ وَمَا هُوَ إِلَّا ذِكْرٌ لِلْعَالَمِينَ» در کدام سوره قرآن وجود دارد؟ (www.iranestekhdam.ir)

- (۱) آل عمران
(۲) طه
(۳) بقره
(۴) قلم

پاسخ کارشناس سایت ایران استخدام: گزینه ۴

این آیه در ۶۸ مین سوره از قرآن کریم به نام القلم و جزء ۲۹ وجود دارد.

۷۷- ماه‌های حرام کدامند؟ (www.iranestekhdam.ir)

- (۱) محرم - رجب - ذیقعدہ - ذیحجه
(۲) محرم - شوال - رجب - ذیحجه
(۳) محرم - صفر - ذیقعدہ - ذیحجه
(۴) محرم - ذیقعدہ - ذیحجه - شوال

پاسخ کارشناس سایت ایران استخدام: گزینه ۱

ماه‌های حرام در قرآن به معنی ماه‌هایی در سال می‌باشند که خداوند ننگه داشتن حرمت آنها را بر مومنان واجب دانسته است. ذی القعدہ، ذی الحججه، محرم و رجب. از زمان حضرت ابراهیم، این ماه‌ها دارای حرمت بودند و در دسته ماه‌های حرام قرار گرفته‌اند که بر مومنان واجب است حرمت این ماه‌ها را ننگه دارند. از جمله احکام فقهی ماه‌های حرام، حرمت جنگ و تشدید ديه قتل می‌باشد.

۷۸- کدام کشور عضو اتحادیه اروپا می‌باشد؟ (www.iranestekhdam.ir)

- (۱) نروژ
(۲) سوئیس
(۳) انگلیس
(۴) رومانی

پاسخ کارشناس سایت ایران استخدام: گزینه ۴

۲۷ کشور عضو اتحادیه اروپا هستند که عبارتند از: رومانی، فرانسه، اسلواکی، آلمان، بلغارستان، ایتالیا، اسپانیا، مجارستان، هلند، بلژیک، دانمارک، سوئد، فنلاند، مالت، پرتغال، ایرلند، چک، لتونی، کرواسی، لهستان، یونان، اسلونی، لوکزامبورگ، استونی، لیتوانی، اتریش و قبرس.

۷۹- کانال سوئز کدام دریاها را به هم پیوند می‌دهد؟ (www.iranestekhdam.ir)

- (۱) دریای مدیترانه و دریای سرخ
(۲) اقیانوس اطلس و اقیانوس کبیر
(۳) دریای سرخ و دریای مدیترانه
(۴) دریای سفید و اقیانوس اطلس

پاسخ کارشناس سایت ایران استخدام: گزینه ۱

کانال سوئز آبراهی ساختگی در مصر به درازای ۱۹۲ کیلومتر است که دریای مدیترانه را به دریای سرخ پیوند می‌دهد. این کانال در غرب صحرای سینا و شمال شرق کشور مصر واقع شده است. آبراه سوئز به عنوان میان‌بری برای کشتی‌ها و قایق‌هایی که از بندرهای قاره اروپا و آمریکا به سمت بندرهای جنوب شرق آسیا، شرق آفریقا و قاره اقیانوسیه در رفت و آمد هستند، ساخته شده است تا ناچار به دور زدن قاره آفریقا یا انتقال زمینی بارها نباشند. کانال سوئز سریع‌ترین مسیر کشتی‌رانی بین اروپا و آسیاست. چیزی حدود ۱۲ درصد کل تجارت دریایی دنیا از این کانال انجام می‌شود. این کانال یکی از منابع اصلی درآمد ارزی کشور مصر پس از اهرام مصر است.

۸۰- کدام کارگردان بیشترین سیمرغ کارگردانی جشنواره فجر را دریافت کرده است؟ (www.iranestekhdam.ir)

- (۱) مجید مجیدی
(۲) داریوش مهرجویی
(۳) اصغر فرهادی
(۴) ابراهیم حاتمی کیا

پاسخ کارشناس سایت ایران استخدام: گزینه ۱

مجید مجیدی کارگردان کهنه کار و با سابقه سینمای ایران که آخرین فیلمش، "محمد (ص)" موفقیت‌های فراوانی را به دست آورد با دریافت ۴ سیمرغ بلورین بیشترین تعداد سیمرغ را در اختیار دارد. بعد از مجیدی، "اصغر فرهادی" کارگردان بین المللی سینمای ایران با ۳ سیمرغ در رده سوم قرار دارد.

۸۱- کدام شاعر بر دیگری تقدم زمانی دارد؟ (www.iranestekhdam.ir)

- (۱) فردوسی
(۲) نظامی گنجوی
(۳) ناصر خسرو
(۴) حافظ شیرازی

پاسخ کارشناس سایت ایران استخدام: گزینه ۱

قرن ۳ و ۴ هـ شمسی	رودکی
قرن ۴ هـ شمسی	دقیقی
قرن ۴ هـ شمسی	فردوسی توسی
قرن ۵ و ۴ هـ شمسی	بابا طاهر
قرن ۵ و ۴ هـ شمسی	ناصر خسرو قبادیانی
قرن ۵ و ۴ هـ شمسی	خواجه عبدالله انصاری
قرن ۶ و ۵ هـ شمسی	خیام نیشابوری
قرن ۶ و ۵ هـ شمسی	سنایی غزنوی
قرن ۶ هـ شمسی	خاقانی شروانی
قرن ۶ هـ شمسی	نظامی گنجوی
قرن ۶ هـ شمسی	عطار نیشابوری
قرن ۷ و ۶ هـ شمسی	مولوی
قرن ۷ و ۶ هـ شمسی	سعدی شیرازی
قرن ۸ هـ شمسی	حافظ شیرازی

۸۲- علامت اختصاری سازمان تجارت جهانی چیست؟ (www.iranestekhdam.ir)

- (۱) WHO
(۲) FAO
(۳) WTO
(۴) ILO

پاسخ کارشناس سایت ایران استخدام: گزینه ۳

سازمان تجارت جهانی به شکل مخفف WTO یک سازمان بین‌المللی است که قوانین جهانی تجارت را تنظیم و اختلافات بین اعضا را حل و فصل می‌کند. اعضای سازمان تجارت جهانی کشورهایی هستند که موافقت‌نامه‌های (حدود ۳۰ موافقت‌نامه) این سازمان را امضا کرده‌اند. مقر سازمان تجارت جهانی در ژنو، سوییس قرار دارد. تا سال ۲۰۲۳ تعداد ۱۶۶ کشور عضو این سازمان شده‌اند. افغانستان در حال حاضر جدیدترین عضو این سازمان محسوب می‌شود.

۸۳- رییس سازمان امور مالیاتی توسط چه کسی منصوب می‌شود؟ (www.iranestekhdam.ir)

- (۱) وزیر اقتصاد پس از موافقت رئیس جمهور
(۲) رییس سازمان برنامه و بودجه
(۳) وزیر اقتصاد پس از موافقت هیات وزیران
(۴) رییس جمهور

پاسخ کارشناس سایت ایران استخدام: گزینه ۳

سازمان امور مالیاتی کشور یکی از سازمان‌های وابسته به وزارت امور اقتصادی و دارایی است. از جمله وظایف این سازمان اصلاح و دگرگونی نظام مالیاتی و مکانیزه نمودن سیستم مالیاتی ایران و اجرای مالیات بر ارزش افزوده است. رئیس کل این سازمان معاون وزیر امور اقتصادی و دارایی محسوب و با پیشنهاد وزیر و تصویب هیئت وزیران منصوب می‌شود.

۸۴- پر افتخارترین ورزشکار ایرانی المپیک کیست؟ (www.iranestekhdam.ir)

- (۱) حسین رضازاده
(۲) غلامرضا تختی
(۳) هادی ساعی
(۴) رسول خادم

پاسخ کارشناس سایت ایران استخدام: گزینه ۳

رده بندی بهترین ورزشکاران کشورمان در ادوار مختلف المپیک به شرح زیر است:

- ۱- هادی ساعی: دو مدال طلا (۲۰۰۴) و (۲۰۰۸)، یک برنز (۲۰۰۰)
۲- حسین رضازاده: دو مدال طلا (۲۰۰۴ و ۲۰۰۰)
۳- غلامرضا تختی: یک طلا (۱۹۵۶)، دو نقره (۱۹۵۲ و ۱۹۶۰) و یک مقام چهارم (۱۹۶۴)
۴- محمد نصیری: یک طلا (۱۹۶۸)، یک نقره (۱۹۷۲) و یک برنز (۱۹۷۶) و یک مقام پانزدهم (۱۹۶۴)
۵- رسول خادم: یک طلا (۱۹۹۶) و یک برنز (۱۹۹۲)
۶- عسکری محمدیان: دو نقره (۱۹۸۸ و ۱۹۹۲)
۷- محمود نامجو: یک نقره (۱۹۵۲) و یک برنز (۱۹۵۶)
۸- امیررضا خادم: دو برنز (۱۹۹۲ و ۱۹۹۶)، چهارم (۲۰۰۰) و حذف (۱۹۸۸)

۸۵- عقیده به ایجاد امپراتوری اقتصادی از راه تصرف سایر ممالک به هر وسیله‌ای عبارت است از: (www.iranestekhdam.ir)

- (۱) آنارشیسم
(۲) سکولاریسم
(۳) فاشیسم
(۴) امپریالیسم

پاسخ کارشناس سایت ایران استخدام: گزینه ۴

واژه امپریالیسم از امپراتوری گرفته شده و بطور کلی، عنوانی است برای قدرتی (یا دولتی) که بیرون از حوزه ملی خود به تصرف سرزمین‌های دیگر بپردازد و مردم آن سرزمین‌ها را به زور وادار به فرمان‌برداری از خود کند و از منابع اقتصادی، مالی و انسانی آنها به سود خود بهره‌برداری کند.

۸۶- به کدام یک از علوم زیر، جایزه نوبل تعلق نمی‌گیرد؟ (www.iranestekhdam.ir)

- (۱) شیمی
(۲) پزشکی
(۳) ریاضی
(۴) زیست‌شناسی

پاسخ کارشناس سایت ایران استخدام: گزینه ۳

نوبل شیمی دان سوئدی وصیت کرده بود در رشته‌های شیمی، فیزیک، زیست (پزشکی)، صلح و ادبیات هر ساله به کسی که کاری بزرگ در آن رشته انجام داده اهدا شود. بعدها اقتصاد نیز به جمع نوبلی‌ها اضافه شد اما در ریاضیات نوبل نداریم. نوبل خواسته بود جایزه‌اش در حوزه‌هایی اهدا شوند که به شکل مستقیم به پیشرفت بشر کمک می‌کنند و متأسفانه این تصور سنتی وجود داشت (و هنوز هم وجود دارد) که ریاضیات از چنین ظرفیتی برخوردار نیست.

۸۷- مقاوم‌ترین ماهیچه در بدن انسان کدام است؟ (www.iranestekhdam.ir)

- (۱) چشم
(۲) بازو
(۳) قلب
(۴) زبان

پاسخ کارشناس سایت ایران استخدام: گزینه ۴

مقاوم‌ترین ماهیچه در بدن زبان است. زبان یک ماهیچه سفت است و از گروهی از ماهیچه‌ها تشکیل شده و مثل قلب، همیشه آماده به کار است. زبان در ترکیب مواد غذایی در دهان نقش دارد. این عضله باعث تکلم نیز می‌شود، حتی زمانی که انسان می‌خوابد، زبانش به‌طور مداوم بزاق را به سمت گلو هل می‌دهد.

۸۸- کدام تابلو از آثار استاد فرشچیان است؟ (www.iranestekhdam.ir)

- (۱) پیر خرابات
(۲) ابراهیم نبی
(۳) مژده بهار
(۴) تخت جمشید و اسب‌ها

پاسخ کارشناس سایت ایران استخدام: گزینه ۲

آثار غدیر خم، پیراهن یوسف، ابراهیم بت‌شکن، ضامن آهو امام رضا، شهید، حمایت، در کمین‌گاه، رایحه دلنواز، رایحه شادمانی، به سوی نور، عصر عاشورا از آثار استاد فرشچیان هستند.

۸۹- شهید مهدی باکری در کدام عملیات به شهادت رسید؟ (www.iranestekhdam.ir)

- (۱) بدر
(۲) رمضان
(۳) بیت المقدس
(۴) خبیر

پاسخ کارشناس سایت ایران استخدام: گزینه ۱

مهدی باکری از فرماندهان سپاه پاسداران در جنگ تحمیلی عراق علیه ایران که فرماندهی لشکر ۳۱ عاشورا را بر عهده داشت. شهید باکری پیش از انقلاب اسلامی از مبارزین علیه رژیم پهلوی بود و بعد از انقلاب به عضویت سپاه درآمد و مسئولیت‌هایی بر عهده گرفت. دادستان دادگاه انقلاب ارومیه، شهردار ارومیه، فرمانده عملیات سپاه ارومیه از جمله مسئولیت‌های ایشان بود. با شروع جنگ تحمیلی در جبهه حضور پیدا کرده و در عملیات‌های فتح المبین و بیت المقدس با سمت معاون تیپ و در عملیات رمضان با سمت فرماندهی تیپ عاشورا و در عملیات‌های مسلم بن

عقیل، والفجر مقدماتی و والفجر یک، دو، سه و چهار با سمت فرمانده لشکر عاشورا و سرانجام عملیات بدر را فرماندهی کرده و در همان عملیات به شهادت رسید. پیکر شهید باکری در هنگام انتقال هدف آر پی جی دشمن قرار گرفت و جسدش مفقود گردید.

۹۰- به موجب قانون اساسی، کدام مرجع می‌تواند در حدود وظایف قانونی خود، طرح‌هایی تهیه و به مجلس شورای اسلامی پیشنهاد دهد؟ (www.iranestekhdam.ir)

(۱) شورای عالی امنیت ملی

(۲) شورای عالی انقلاب فرهنگی

(۳) کمیسیون متشکل از چند وزیر

(۴) شورای عالی استان‌ها

پاسخ کارشناس سایت ایران استخدام: گزینه ۴

شورای عالی استانها حق دارد در حدود وظایف خود طرح‌هایی تهیه و مستقیماً یا از طریق دولت به مجلس شورای اسلامی پیشنهاد کند. این طرح‌ها باید در مجلس مورد بررسی قرار گیرد.

بخش هفتم:

هوش و توانمندی‌های عمومی

۹۱- مورد ۱: تبلیغ تلویزیونی اثر بخشی کمی دارد تعداد، مارک‌های تجاری که در تلویزیون تبلیغ می‌شوند و بینندگان آگهی ممکن است آنها را به یاد آورند در حال کاهش است.

مورد ۲: بینندگان تلویزیون آگهی‌هایی را که در ابتدا یا انتهای مجموعه‌ای از آگهی‌های متوالی پخش می‌شوند بهتر از آگهی‌هایی که در وسط پخش می‌شوند به یاد می‌آورند.

در کدام یک از گزینه‌های زیر مورد ۲ به موضوع اشاره شده در مورد ۱ کمک می‌کند؟ (www.iranestekhdam.ir)

(۱) زمان کلی اختصاص داده شده به مجموعه آگهی‌های متوالی در تلویزیون در حال کاهش است.

(۲) میانگین تعداد آگهی‌های تلویزیونی در مجموعه آگهی‌های متوالی در حال افزایش است.

(۳) یک بیننده تلویزیون در حال حاضر کمتر از نصف مارک‌های تجاری را که در آگهی‌ها دیده است را به یاد می‌آورد.

(۴) میانگین آسمانی که مردم در هر روز صرف تماشای تلویزیون می‌کنند در حال کاهش است.

پاسخ کارشناس سایت ایران استخدام: گزینه ۱

مورد دو درباره کاربردی نبودن سری تبلیغ‌های متوالی طولانی مدت است.

مورد یک درباره کاربردی نبودن و کم شدن مدت زمان تبلیغات تلویزیونی است.

پس پاسخ گزینه‌ای است که درباره کاهش زمان تبلیغات بر اثر کاهش مدت زمان سری تبلیغات متوالی باشد.

۹۲- کسی که به صورت پیاده، جاده کنار رودخانه را طی می‌کند، از سمت روبه رو که به تابلو کنار جاده نزدیک می‌شود، عدد «۲۱» را می‌بیند و در پشت آن عدد «۲۳» را، و نتیجه می‌گیرد که تابلوی بعدی که مسافت روی آن نوشته شده نشان خواهد داد که او در نیمه راه است ولی تابلوی مسافتی که یک مایل بعد نصب شده از سمت روبه رو عدد «۲۰» و از سمت پشت عدد «۲۴» را نشان می‌دهد.

کدام یک از گزینه‌های زیر، در صورت صحیح بودن علت اختلاف تشریح شده را توضیح می‌دهد؟ (www.iranestekhdam.ir)

(۱) اعداد روی تابلوها براساس کیلومتر هستند نه مایل

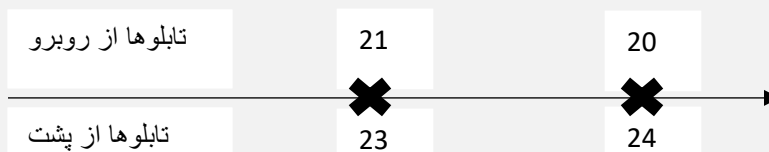
(۲) شخص پیاده رو یک تابلو بین این دو تابلو را ندیده است

(۳) اعداد روی تابلو مسافت بعدی بر عکس نصب شده اند

(۴) اعدادی که از روبه رو دیده می‌شود نشان می‌دهند که چند مایل تا پایان جاده مانده، نه این که چند مایل از ابتدای جاده طی شده است.

پاسخ کارشناس سایت ایران استخدام: گزینه ۴

جاده را به صورت زیر مدل می‌کنیم.



با جلو رفتن، عددی که از روبروی تابلوها دیده می‌شود، کم شده است. پس اعدادی که از روبرو دیده می‌شوند مسافت باقیمانده از جاده را نشان می‌دهند.

۹۳- کدام گزینه به تصویر عبارت روبه رو در آیینه شبیه تر است؟ (www.iranestekhdam.ir)

SUPERVISOR

SUPERVISOR (۲)

RSONPSEBIV (۱)

SUPERVISOR (۴)

ROZIVREPUZ (۳)

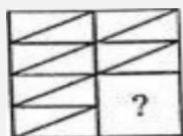
پاسخ کارشناس سایت ایران استخدام: گزینه ۳

تصاویر در آینه به صورت عمودی قرینه می‌شوند و به صورت افقی دست نخورده باقی می‌مانند. پس گزینه‌های ۱ و ۲ و ۴ نمی‌توانند صحیح باشند.

SUPERVISOR

ROZIVREPUZ

۹۴- کدام شکل تصویر را کامل می‌کند؟ (www.iranestekhdam.ir)



پاسخ کارشناس سایت ایران استخدام: گزینه ۴

شکل از کنار هم قرار گرفتن سه قطعه تشکیل شده نتیجه می‌شود قطعه خواسته شده هم است.

۹۵- ضرب المثل «مشت نمونه خروار است» از لحاظ استدلال با کدام یک از ضرب المثل‌های زیر مشابه است؟

(www.iranestekhdam.ir)

(۱) قطره قطره جمع گردد. وانگهی دریا شود.

(۲) شاهنامه آخرش خوش است.

(۳) سالی که نکوست از بهارش پیداست.

(۴) با یک گل بهار نمی‌شود.

پاسخ کارشناس سایت ایران استخدام: گزینه ۳

هر دو بیانگر این هستند که هر جزئی از مجموعه نمایانگر کل مجموعه است می‌باشند.

برای پاسخ به سوالات ۹۶ تا ۱۰۰ از متن زیر استفاده کنید.

هشت داوطلب در یک آزمون ورودی شرکت کرده‌اند. در مورد نتایج این افراد که آنها را با حروف S, T, UV, W, X, Y, Z نشان می‌دهیم اطلاعات زیر در دست است.

(۱) هیچ یک از داوطلبان نمره مساوی با داوطلب دیگر نداشته است.

(۲) فرد S نمره‌ای بالاتر از فرد Z بدست آورده است.

(۳) فقط نمره یک فرد بین نمره دو داوطلب T و X قرار گرفته است.

(۴) فرد Y درست یک رتبه پایین‌تر از فرد U است.

(۵) فرد V و Y هر دو رتبه‌ای بهتر از فرد S بدست آورده‌اند.

(۶) فرد W بالاترین نمره (رتبه اول) را بدست آورده است.

۹۶- کدام یک از موارد زیر می‌تواند ترتیب صحیح داوطلبان را از رتبه 1 تا 8 (از راست به چپ) مشخص کند؟

(www.iranestekhdam.ir)

X, S, T, V, Z, Y, U, W (۲)

X, Z, T, V, Y, S, U, W (۱)

X, Z, T, S, V, Y, U, W (۴)

X, Z, V, T, S, Y, U, W, E (۳)

پاسخ کارشناس سایت ایران استخدام: گزینه ۴

طبق مورد 6، W بالاترین است.

طبق مورد 4، U بالاتر از Y است.

طبق مورد 5 و نتیجه‌گیری از 4، U، V و Y هر سه از S بالاتر هستند.

با مراجعه به گزینه‌ها مشاهده می‌شود که در تمامی گزینه‌ها X رتبه آخر را دارد.

طبق 3 و نتیجه‌گیری‌های قبلی سه رتبه آخر به ترتیب T، Z و X هستند. پس داریم: (X, Z, T, S, V, Y, U, W)

۹۷- اگر Y رتبه چهارم و X رتبه پنجم را بدست آورده باشند کدام گزینه قطعاً صحیح است؟ (www.iranestekhdam.ir)

Z در رتبه هشتم قرار دارد. (۲)

T در رتبه سوم قرار دارد. (۱)

V در رتبه سوم قرار دارد. (۴)

S در رتبه دوم قرار دارد. (۳)

پاسخ کارشناس سایت ایران استخدام: گزینه ۴

طبق ۴، U رتبه سوم است. پس گزینه‌های ۱ و ۴ غلط هستند.

طبق ۳، T رتبه هفتم است.

طبق ۵، S نمی‌تواند دوم باشد.

طبق ۲ و نتیجه‌ای که از ۵ گرفتیم، S ششم است و Z هشتم.

رتبه بندی یکتای سوال: Z, T, S, X, Y, U, V, W

۹۸- اگر فرض کنیم فرد V رتبه‌ای کمتر از فرد T بدست آورده باشد کدام فرد باید در رتبه هفتم قرار داشته باشد؟

(www.iranestekhdam.ir)

- | | |
|-------|-------|
| T (۱) | X (۲) |
| S (۳) | V (۴) |

پاسخ کارشناس سایت ایران استخدام: گزینه ۳

طبق ۵ و طبق فرض سوال، V، U و T بالاتر از S هستند.

طبق ۳، X هم بالاتر از S هست.

طبق ۲، Z پایین تر از S هست.

پس Z هشتم و S هفتم هستند.

۹۹- در صورتی که رتبه‌های چهارم و پنجم به ترتیب به افراد X و U تعلق گرفته باشد، رتبه دوم متعلق به کدام فرد می‌تواند

باشد؟ (www.iranestekhdam.ir)

- | | |
|-------|-------|
| T (۱) | V (۲) |
| S (۳) | Y (۴) |

پاسخ کارشناس سایت ایران استخدام: گزینه ۱

طبق مورد ۴، Y ششم است.

طبق موردهای ۲ و ۵، S هفتم و Z هشتم‌اند.

طبق مورد ۳، T دوم است.

۱۰۰- کدام فرد نمی‌تواند در رتبه آخر یا ماقبل آخر قرار گیرد؟ (www.iranestekhdam.ir)

- | | |
|-------|-------|
| T (۱) | Z (۲) |
| S (۳) | V (۴) |

پاسخ کارشناس سایت ایران استخدام: گزینه ۴

طبق موارد ۵، ۴، Y حداقل از دو نفر بالاتر است.

در سوالات ۱۰۱ تا ۱۰۳ یک سوال و دو گزاره که با I و II مشخص گردیده و در آنها اطلاعاتی داده شده است، تشکیل می‌شود.

1) اگر اطلاع (I) به تنهایی برای پاسخگویی به سوال کافی باشد ولی اطلاع (II) به تنهایی کافی نباشد و یا اینکه اطلاع (II) به

تنهایی برای پاسخگویی به سوال کافی باشد ولی اطلاع (I) به تنهایی کافی نباشد گزینه «الف» صحیح است.

۲) اگر هر یک دو اطلاع (I) و (II) به تنهایی برای پاسخگویی به سوال کافی نباشد ولی هر دو با هم کافی باشد، گزینه «ب» صحیح است.

۳) اگر هر یک از دو اطلاع (I) و (II) به تنهایی برای پاسخگویی به سوال کافی باشند، گزینه «ج» صحیح است.

۴) اگر هر دو اطلاع (I) و (II) با هم نیز برای پاسخگویی به سوال کافی نباشند، گزینه «د» صحیح است.

۱۰۱- بهزاد ۵۰ عدد تمبر خریداری کرده است. تمبرها در دو قیمت ۲۰ تومانی و ۲۵ تومانی عرضه می‌شوند. چه تعداد از تمبرها ۲۵ تومانی است؟ (www.iranestekhdam.ir)

(I) این شخص کلاً ۱۱۰۰ تومان برای تمبرها خرج کرده است.

(II) تعداد تمبرهای ۲۰ تومانی $1\frac{1}{2}$ برابر تعداد تمبرهای ۲۵ تومانی خریداری شده است.

پاسخ کارشناس سایت ایران استخدام: **گزینه ۳**

• اطلاعات (الف) کافی است:

$$1100 = 20(x) + 25(50 - x) \rightarrow x = 30$$

۳۰ تمبر ۲۰ تومانی و ۲۰ تمبر ۲۵ تومانی

• اطلاعات (ب) به تنهایی کافی است:

$$x = \frac{3}{2}y \quad \text{۲۰ تومانی: } x \quad \text{۲۵ تومانی: } y$$

$$x + y = 50 \rightarrow \frac{5}{2}y = 50 \rightarrow y = 20$$

۱۰۲- سه ظرف با گنجایش‌های متفاوت (کوچک، متوسط، بزرگ) در اختیار داریم گنجایش ظرف بزرگ چند برابر گنجایش ظرف متوسط است؟ (www.iranestekhdam.ir)

(I) اگر ظرف بزرگ را پر از آب کرده و در ظرف متوسط خالی کنیم، به اندازه گنجایش ظرف کوچک آب سرریز می‌شود.

(II) ظرف بزرگ و ظرف کوچک بر روی هم دو برابر ظرف متوسط گنجایش دارند

پاسخ کارشناس سایت ایران استخدام: **گزینه ۲**

هر دو اطلاعات به تنهایی کافی نیستند ولی با هم کافی‌اند.

ظرف بزرگ: a ظرف متوسط: b ظرف کوچک: c $a = b + c$

$$a + c = 2b \rightarrow b + c + c = 2b \rightarrow b = 2c \rightarrow c = \frac{b}{2}$$

$$a = \frac{3b}{2}$$

۱۰۳- آب با چه نرخی با واحد متر مکعب در ساعت داخل یک استخر مستطیل شکل می‌ریزد؟ (www.iranestekhdam.ir)

(I) حجم استخر ۵۰ متر مکعب است.

(II) سطح آب با نرخ ۱ متر در ساعت بالا می‌آید.

پاسخ کارشناس سایت ایران استخدام: گزینه ۴

هر دو اطلاعات کافی نیستند.

۱۰۴- یک فروشنده نوعی کالا را با سود ۵ درصد می‌فروشد اگر وی همان نوع از کالا را با ۱۵ درصد سود بفروشد. تعداد فروش این نوع کالا ۲۴ عدد کم می‌شود ولی همان سود نصیب فروشنده خواهد شد تعداد کالای به فروش رفته پس از افزایش درصد سود کدام است؟ (www.iranestekhdam.ir)

(۱) ۸

(۲) ۱۸

(۴) ۱۲

(۳) ۳۶

پاسخ کارشناس سایت ایران استخدام: گزینه ۴

تعداد کالای فروش رفته با ۵ درصد سود: X

$$\frac{5}{100}x = \frac{15}{100}(x - 24) \rightarrow x = 36 \rightarrow x - 24 = 12$$

۱۰۵- کلمه بعدی دنباله زیر کدام است؟ (www.iranestekhdam.ir)

«سینا - نامه - مهام - امیر -»

(۲) ییلاق

(۱) یاری

(۴) یرقان

(۳) یراق

پاسخ کارشناس سایت ایران استخدام: گزینه ۳

تمامی کلمات ۴ حرفی هستند، پس گزینه‌های ۲ و ۴ حذف می‌شوند.

الگوی موجود در کلمات: دو حرف آخر کلمه قبلی، دو حرف اول کلمه بعدی هستند. پس کلمه بعدی دنباله با (ید) شروع می‌شود.

سوالات عمومی آزمون استخدام قوه قضائیه سال ۱۴۰۰

با پاسخ تشریحی

بخش اول:

معارف اسلامی

۱- واجب کفایی در حوزه احکام شرعی یعنی چه؟ (Www.iranestekhdam.ir)

- ۱) در صورتی که بعضی از مکلفین به آن قیام کنند از دیگران ساقط می شود.
- ۲) همه مکلفین موظف به انجام آن هستند و با عمل کردن برخی از دیگران ساقط نمی شود.
- ۳) واجبی که تنها بر مردان تکلیف است و از زنان ساقط است.
- ۴) واجبی که دارای مراتب عرضیه بوده و با انجام برخی از دیگران ساقط می شود.

پاسخ کارشناس سایت ایران استخدام : گزینه ۱

واجب کفایی گونه ای از واجبات دینی که مخاطب آن فرد مشخصی نیست و با انجام آن از سوی هر یک از مکلفین هدف شارع برآورده می شود و دیگر کسی تکلیفی ندارد.

۲- اساسی ترین پایه جهان بینی الهی را کدام اصل تشکیل می دهد؟ (Www.iranestekhdam.ir)

- ۱) امامت
- ۲) توحید
- ۳) معاد
- ۴) نبوت

پاسخ کارشناس سایت ایران استخدام : گزینه ۳

در میان انسانها انواعی از جهان بینی وجود داشته و دارد ولی همگی آنها را می توان براساس پذیرفتن ماوراء طبیعت و انکار آن، به دو بخش کلی تقسیم کرد: جهان بینی الهی ، و جهان بینی مادی. معاد، اساسی ترین اساسی ترین پایه جهان بینی الهی است.

۳- منظور از ایمان راستین چیست؟ (Www.iranestekhdam.ir)

- ۱) ایمان با تقوا
- ۲) ایمان بدون نیاز به توبه
- ۳) ایمان توأم با عمل
- ۴) ایمان در کار علم

پاسخ کارشناس سایت ایران استخدام : گزینه ۳

در برخی روایات درباره ایمان و عمل آمده که خداوند متعال یکی را بدون دیگری نمی پذیرد. همچنین از روایات بر می آید که عمل نمود ظاهری ایمان است و اگر عمل نباشد، آشکار می شود که ایمان در قلب ریشه ندوانیده است. از این رو است که در آیات فراوانی ایمان و عمل صالح با هم ذکر شده اند. بنابر این ایمان بدون عمل، ایمان راستین و نجات بخش نیست.

۴- روزه گرفتن در کدام روز حرام است؟ (Www.iranestekhdam.ir)

- ۱) عید فطر
- ۲) عید قربان
- ۳) عید مبعث
- ۴) گزینه های الف و ب

پاسخ کارشناس سایت ایران استخدام : گزینه ۴

روزه گرفتن در روز عید فطر و عید قربان حرام است.

۵- جمله ی «لا حول و لا قوه الا بالله» کدام مرتبه توحید را بیان می کند؟ (Www.iranestekhdam.ir)

- ۱) علمی
- ۲) ذاتی
- ۳) افعالی
- ۴) صفاتی

پاسخ کارشناس سایت ایران استخدام : گزینه ۳

جمله " لا حول و لا قوه الا بالله العلی العظیم " به توحید افعالی اشاره دارد. ویژگی هایی از خدا را بیان میکنند که در کس دیگر نیست. یعنی بدانیم که تنها عامل موثر در عالم خداست و این عاملیت را از دانستن به ایمان به آن تبدیل کنیم و این ایمان بتواند عاملی برای حرکت ما در زندگیمان شود.

۶- کدام سوره سجده واجب ندارد؟ (Www.iranestekhdam.ir)

- ۱) تکویر
- ۲) علق
- ۳) نجم
- ۴) فصلت

پاسخ کارشناس سایت ایران استخدام : گزینه ۱

در قرآن کریم ۴ سوره علق، فصلت، نجم و سجده دارای سجده واجب می باشند.

۷- کدام مورد از ارکان نماز نیست؟ (Www.iranestekhdam.ir)

- (۱) خواندن حمد و سوره (۲) دو سجده (۳) قیام متصل به رکوع (۴) نیت و تکبیره الاحرام

پاسخ کارشناس سایت ایران استخدام: گزینه ۱

ارکان نماز عبارتند از: نیت، قیام، تکبیر الاحرام، سجده و رکوع اما قرائت حمد و سوره از واجبات نماز است.

۸- در کدام توحید گفته می شود ذات خدا، تعدد و کثرت پذیر نیست؟ (Www.iranestekhdam.ir)

- (۱) توحید ذاتی (۲) توحید عبادی (۳) توحید افعالی (۴) توحید صفاتی

پاسخ کارشناس سایت ایران استخدام: گزینه ۱

توحید ذاتی یعنی شناختن ذات حق به وحدت و یگانگی. یعنی ذات خدا تعدد و کثرت پذیر نیست.

۹- کدام گزینه از معجزات حضرت موسی (ع) است؟ (Www.iranestekhdam.ir)

- (۱) ید بیضا (۲) تبدیل شدن عصا به اژدها

- (۳) زنده کردن مردگان (۴) گزینه های الف و ب

پاسخ کارشناس سایت ایران استخدام: گزینه ۴

ید بیضا و تبدیل شدن عصا به اژدها از معجزات حضرت موسی (ع) و زنده کردن مردگان از معجزات حضرت عیسی (ع) است.

۱۰- در قلمرو برهان نظم در قرآن مجید از نظامات موجود در عالم هستی به چه عنوان یاد می شود؟ (Www.iranestekhdam.ir)

- (۱) آفرینش قدیم (۲) آیات الهی (۳) خلقت جدید (۴) معجزات الهی

پاسخ کارشناس سایت ایران استخدام: گزینه ۲

برهان نظم، ساده ترین و عمومی ترین برهانی است که برای اثبات وجود خداوند ارائه شده است. قرآن کریم از موجودات جهان به عنوان «آیات» یعنی علائم و نشانه هایی از خداوند یاد می کند. در این برهان به طور خلاصه چنین گفته میشود که نظم و نظام اشیاء دلیل و نشانه ای است بر این که نیروی نظم دهنده ای در کار است.

بخش دوم:

زبان انگلیسی – عمومی

Direction: Choose the word or phrase (a), (b), (c) or (d) that best completes each sentence.

۱۱ – It seems to me that they never gave a thought to future problems when the plans were being laid down five years ago. (Www.iranestekhdam.ir)

- ۱) unbelievable ۲) probable ۳) unreasonable ۴) impossible

پاسخ کارشناس سایت ایران استخدام: گزینه ۲

گزینه ۱ به معنی باورنکردنی، گزینه ۳ به معنی غیر منطقی و گزینه ۴ به معنی غیرممکن با توجه به ترجمه جمله "به نظر می رسد که آن ها هرگز به مشکلات احتمالی آینده زمانی که برنامه ها ۵ سال پیش تعیین می شد، فکر نکرده بودند" صحیح نیستند بنابراین گزینه ۲ به معنای احتمالی پاسخ صحیح می باشد.

۱۲- Every substance has a melting point and a boiling point. The former is the temperature at which it changes from solid to liquid. The is the temperature at which it changes from liquid to gas. (Www.iranestekhdam.ir)

- ۱) later ۲) latest ۳) latter ۴) last

پاسخ کارشناس سایت ایران استخدام: گزینه ۳

گزینه ۱ به معنی بعدا، گزینه ۲ به معنی آخرین و گزینه ۴ به معنی آخر با توجه به ترجمه جمله "هر ماده یک نقطه ذوب و یک نقطه جوشان دارد. اولین مورد دمایی است که ماده را از حالت جامد به مایع تغییر می دهد. دومین مورد دمایی است که در آن ماده از حالت مایع به گاز تبدیل می شود" صحیح نیستند بنابراین گزینه ۳ به معنای دومی پاسخ صحیح می باشد.

۱۳- You could being a little bit more friendly, couldn't you? (Www.iranestekhdam.ir)

- ۱) afford ۲) comfort ۳) effort ۴) support

پاسخ کارشناس سایت ایران استخدام: گزینه ۳

گزینه ۱ به معنی به دست آوردن، گزینه ۲ به معنی راحت و گزینه ۴ به معنی حمایت با توجه به ترجمه جمله "شما می توانستید سعی کنید تا کمی صمیمی تر باشید، نمی توانستید؟" صحیح نیستند بنابراین گزینه ۳ به معنای سعی کردن پاسخ صحیح می باشد.

۱۴- She is very You just couldn't make her walk past under a ladder.

(Www.iranestekhdam.ir)

- ۱) religious ۲) deformed ۳) supernatural ۴) superstitious

پاسخ کارشناس سایت ایران استخدام: گزینه ۴

گزینه ۱ به معنی مذهبی، گزینه ۲ به معنی معیوب و گزینه ۳ به معنی فرا طبیعی با توجه به ترجمه جمله "او بسیار خرافاتی است. شما نمی توانید مجبور کنید تا از زیر نردبان عبور کند" صحیح نیستند بنابراین گزینه ۴ به معنای خرافاتی پاسخ صحیح می باشد.

۱۵- Despite these overwhelmingly difficult trading conditions, the company has produced outstanding results. (Www.iranestekhdam.ir)

- ۱) therefore ۲) accordingly ۳) nevertheless ۴) consequently

پاسخ کارشناس سایت ایران استخدام: گزینه ۳



۲۰ - of the countries of Western Europe used to have its own currency, but now
..... of them use the Euro. (www.iranestekhdam.ir)

۱) either/any

۲) all/whole

۳) each/most

۴) whole/every

پاسخ کارشناس سایت ایران استخدام: گزینه ۳

از نظر نقش دستوری در زبان انگلیسی اگر همه اعضای گروه به صورت جداگانه و انفرادی در نظر گرفته شوند از each استفاده می گردد و متعاقباً بخش دوم جمله نیز از عبارت most استفاده خواهد شد لذا با توجه به این توضیحات گزینه ۳ پاسخ صحیح می باشد.

بخش سوم:

اطلاعات عمومی، دانش اجتماعی و حقوق اساسی

۲۱- در چند رشته ورزشی، مدال طلای المپیک برای کشورمان به دست آمده است؟(www.iranestekhdam.ir)

- (۱) ۳ رشته (۲) ۴ رشته (۳) ۵ رشته (۴) ۷ رشته

پاسخ کارشناس سایت ایران استخدام: گزینه ۳

از نخستین حضور رسمی ایران در المپیک در بازی‌های المپیک تابستانی ۱۹۴۸ تا بازی‌های المپیک تابستانی ۲۰۲۰، ورزشکاران ایرانی موفق شدند تا در مجموع ۷۶ مدال برای کشورشان تصاحب کنند. ۲۴ مدال طلا، ۲۳ مدال نقره و ۲۹ مدال برنز حاصل تلاش ۶۱ ورزشکار ایرانی در ۱۸ دوره از بازی‌های تابستانی المپیک می‌باشد. ورزشکاران ایرانی در طی این مدت توانستند در ۵ رشته ورزشی: کشتی (آزاد- فرنگی)، وزنه برداری، تکواندو، تیر اندازی و کاراته مدال طلای المپیک را کسب کنند.

۲۲- کودتای ۲۸ مرداد ۱۳۳۲ در دوران ریاست جمهوری چه فردی روی داد؟(www.iranestekhdam.ir)

- (۱) آیزنهاور (۲) ترومن (۳) کندی (۴) ویلسون

پاسخ کارشناس سایت ایران استخدام: گزینه ۱

کودتای ۲۸ مرداد با طرح و حمایت مالی و اجرایی سرویس اطلاعات مخفی بریتانیا (اس‌آی‌اس) و اژانس اطلاعات مرکزی آمریکا (سیا) در دوران ریاست جمهوری آیزنهاور و با همراهی بخشی از ارتش شاهنشاهی ایران و کمک طرفداران محمدرضا پهلوی و پشتیبانی مخالفان محمد مصدق مانند سید ابوالقاسم کاشانی با هدف سرنگونی دولت قانونی محمد مصدق در ۲۸ مرداد ۱۳۳۲ رخ داد.

۲۳- علی اکبر دهخدا، سردبیر کدام روزنامه بود؟(www.iranestekhdam.ir)

- (۱) پرورش (۲) اختر (۳) نوبهار (۴) صور اسرافیل

پاسخ کارشناس سایت ایران استخدام: گزینه ۴

علی اکبر دهخدا (۱۲۵۷ - ۷ اسفند ۱۳۳۴)، ادیب، لغت‌شناس، سیاستمدار و شاعر ایرانی بود. او مؤلف و بنیان‌گذار لغت‌نامه دهخدا نیز بوده است. دهخدا از درخشان‌ترین چهره‌های فرهنگ و ادب فارسی معاصر است. وی همزمان با آغاز مشروطیت، با همکاری جهانگیرخان صور اسرافیل و قاسم خان صور اسرافیل، روزنامه صور اسرافیل را تاسیس و منتشر کرد.

۲۴- رئیس قوه قضاییه برای مدت سال منصوب می‌شود.(www.iranestekhdam.ir)

- (۱) ۵ سال (۲) ۴ سال (۳) ۶ سال (۴) ۳ سال

پاسخ کارشناس سایت ایران استخدام: گزینه ۱

رئیس قوه قضاییه جمهوری اسلامی ایران با حکم رهبر این کشور و به مدت پنج سال گمارده می‌شود و این زمان قابل تمدید است. این مقام را باید «یک نفر مجتهد عادل و آگاه به امور قضایی و مدیر و مدبر» تصدی کند. هم‌اکنون غلامحسین محسنی اژه‌ای از تاریخ ۱۰ تیر ۱۴۰۰ این مقام را بر عهده دارد.

۲۵- حق یا حقوقی که برای اشخاص نسبت به اموال آنها صادر می‌شود، کدام است؟(www.iranestekhdam.ir)

- (۱) حق انتفاع (۲) حق ارتفاق به ملک غیر (۳) حق مالکیت (اعم از عین یا منفعت) (۴) همه موارد

پاسخ کارشناس سایت ایران استخدام: گزینه ۴

طبق ماده ۲۹ قانون مدنی اشخاص نسبت به اموال ممکن است علاقه‌های زیر را دارا باشند: مالکیت (عین یا منافع) (هرمالکی نسبت به مایملک خود حق هرگونه تصرف و انتفاع دارد مگر در مواردی که قانون استثنا کرده باشد)، حق انتفاع (حقی که به موجب آن شخص می‌تواند از مالی که عین آن ملک دیگری است یا مالک خاصی ندارد استفاده کند)، حق ارتفاق به ملک غیر (در مواردی استفاده می‌شود که حق کسی در ملک دیگری باشد).

بخش چهارم:

هوش و توانمندی های عمومی

*** با توجه به متن زیر به سوالات ۲۶ و ۲۷ پاسخ دهید:

پنج خانواده که شامل خانواده سعید، خانواده خاله سعید، خانواده عمه سعید، خانواده دایی سعید و خانواده عموی سعید هستند، توسط پنج خودروی پراید، پژو، سمند، تندر ۹۰ و پیکان (هر خانواده با یک خودرو) به پیک نیک می روند و با رعایت محدودیت های زیر، در مقصد وارد یک ویلا می شوند:

- خودروی پراید که متعلق به عموی سعید نمی باشد، یا اولین خودرویی است که وارد ویلا می شود یا چهارمین خودرو.
- خودروی تندر ۹۰ دقیقاً بعد از خودروی عمه سعید و دقیقاً قبل از خودروی دایی سعید وارد ویلا می شود.
- دقیقاً قبل از خودروی پژو، خودروهای عموی سعید و دایی سعید، به ترتیب وارد ویلا می شوند.
- خودروی خاله سعید، دقیقاً جلوی خودروی سمند وارد ویلا می شوند.

۲۶- خودروی تندر ۹۰، به عنوان چندمین خودرو می تواند توسط خانواده سعید وارد ویلا شود؟ (www.iranestekhdam.ir)

- (۱) چهارمین خودرو (۲) خانواده سعید نمی تواند تندر ۹۰ داشته باشد
(۳) سومین خودرو (۴) دومین خودرو

پاسخ کارشناس سایت ایران استخدام: گزینه ۲

در این گونه سوال چارتی رسم می کنیم و تمام شروط مسئله را با توجه به فرض سوال در نظر می گیریم. با توجه به محدودیت های موجود گزینه ۲ صحیح است.

۲۷- اگر خودرو خاله سعید، پیکان باشد، خودروی عمه سعید کدام است؟ (www.iranestekhdam.ir)

- (۱) پراید (۲) تندر ۹۰ (۳) پژو (۴) سمند

پاسخ کارشناس سایت ایران استخدام: گزینه ۴

با توجه به توضیحات داده شده در بالا و رعایت محدودیت های گفته شده در سوال خودروی عمه سعید فقط سمند می تواند باشد.

۲۸- با توجه به معادلات روبرو، مقدار X کدام گزینه است؟ (www.iranestekhdam.ir)

- (۱) ۴۲ (۲) ۴۰ (۳) ۴۴ (۴) ۳۸

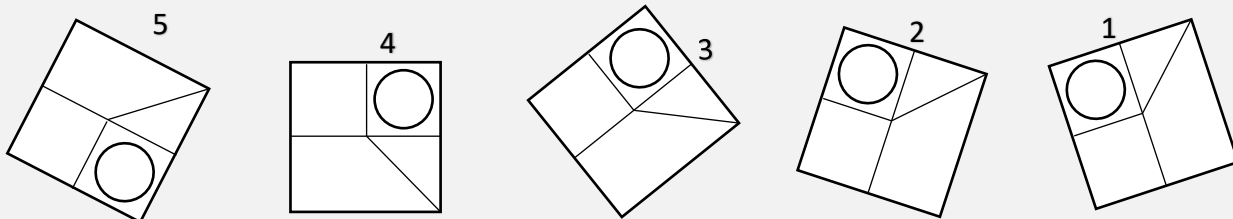
$$\begin{cases} 1 + 3 = 6 \\ 2 + 4 = 12 \\ 3 + 5 = 20 \\ 4 + 6 = 30 \\ 5 + 7 = x \end{cases}$$

پاسخ کارشناس سایت ایران استخدام: گزینه ۱

اگر دقت کنید در ستون پاسخ که طرف دوم تساوی است اگر از بالا به پایین به حاصل عبارات توجه کنیم ابتدا ۶+ سپس ۸+ سپس ۱۰+ تا به آنها اضافه شد و اکنون باید ۱۲+ تا به عدد ۳۰+ اضافه کنیم و عدد ۴۲ به دست می آید.

۲۹- کدام تصویر روبرو، با بقیه متفاوت است؟ (www.iranestekhdam.ir)

- (۱) ۲ (۲) ۳ (۳) ۴ (۴) ۵



پاسخ کارشناس سایت ایران استخدام: گزینه ۴

هر یک از ۴ شکل اول را می توان با چرخاندن روی هم منطبق کرد ولی تصویر آخر را نمی توان با هیچ دورانی به شکل های دیگر تبدیل کرد و مثلث باید سمت راست دایره باشد ولی در این شکل سمت چپ آن است. (اگر در جهت حرکت عقربه های ساعت به آن نگاه کنیم).

۳۰- بر اساس قانون تبعیت ایران، هر زن تبعه خارجی که شوهر ایرانی اختیار کند، در چه صورتی به عنوان تبعه ایران شناخته میشود؟ (www.iranestekhdam.ir)

- (۱) همین که به ازدواج مرد ایرانی درآید.
 (۲) در صورتی که از شوهر ایرانی اش فرزندی به دنیا آورد.
 (۳) در صورتی که قبلاً با مرد غیر ایرانی ازدواج نکرده باشد.
 (۴) به شرطی که بعد از ازدواج بپذیرد که در ایران زندگی کند.

پاسخ کارشناس سایت ایران استخدام: گزینه ۱

درباره تغییر تابعیت زن بیگانه که با مرد ایرانی ازدواج میکند در بند ۶ ماده ۹۷۶ قانون مدنی این عبارت آمده است: "هر زن تبعه خارجی که شوهر ایرانی اختیار کند" تبعه ایران محسوب میشود". برای اینکه یک زن خارجی بتواند به موجب این بند تبعه ایران گردد، باید ازدواج او با مرد ایرانی ازدواجی صحیح باشد. اثرات تابعیت ایران به محض وقوع ازدواج تولید میشود و زن خارجی که شوهر ایرانی اختیار مینماید از تاریخ ازدواج ایرانی میگردد. به موجب این بند لازم نیست ازدواج در ایران صورت بگیرد، بلکه کافی است شوهر تابعیت ایرانی و زن تابعیت کشور خارجی را داشته باشد. همچنین تابعیتی که زن خارجی در اثر ازدواج با مرد ایرانی اکتساب میکند قطعی است به این معنی که اگر شوهر در مدت زناشوئی از تابعیت ایران خارج گردد، زن مزبور به تابعیت ایران باقی خواهد ماند (مگر اینکه مطابق ماده ۹۸۸، اجازه دولت برای ترک تابعیت شامل زن مزبور نیز بشود) و همچنین با پایان یافتن ازدواج (فوت شوهر، طلاق) خود به خود از بین نمیروند.


سوالات عمومی آزمون استخدام نهضت سواد آموزی سال ۱۴۰۰

فاقد پاسخنامه

بخش اول:

فناوری اطلاعات و مهارت های هفتگانه I.C.D.L

۱- تصویر روبه روتنظیمات قلم را در نرم افزار پاورپوینت نشان می دهد. اعمال زیر به ترتیب توسط کدام بخش های نمایش داده شده در تصویر انجام می شود؟ «کوچک کردن اندازه قلم - تغییر رنگ قلم- فاصله اندازی بین کاراکترها»



(Www.iranestekhdam.ir)

- ۱) ۱ و ۴ و ۳
۲) ۲ و ۴ و ۵
۳) ۳ و ۶ و ۵
۴) ۱ و ۶ و ۲

۲- وظیفه سیستم عامل چیست؟(Www.iranestekhdam.ir)

- ۱) ارتباط بین اجزای مختلف سخت افزاری
۲) ارتباط بین نرم افزار ها و سخت افزارها
۳) رابط بین کاربر و سخت افزار
۴) همه موارد

۳- اصطلاح REPLAY در هنگام کار کردن با سایت های مربوط به پست الکترونیک به چه

معناست؟(Www.iranestekhdam.ir)

- ۱) پاسخ دادن به ایمیل دریافت شده
۲) بار ارسال ایمیل برای یک شخص دیگر
۳) ارسال ایمیل به یک شخص
۴) پیش نویس ایمیلی که می خواهیم ارسال کنیم

۴- در نرم افزار ورد، کدام یک از بخش های مشخص شده در تصویر زیر برای کم یا زیاد کردن روشنایی (brightness) تصویر



انتخاب شده استفاده می شود؟(Www.iranestekhdam.ir)

- ۱) ۱
۲) ۳
۳) ۵
۴) ۶

۵- در نرم افزار اکسل کدام گزینه های روبه رو به ترتیب عملیات های زیر را روی خانه های انتخاب شده اعمال می کنند؟

«محاسبه میانگین، نمایش بزرگترین عدد، محاسبه مجموع» (عکس نامشخص)(Www.iranestekhdam.ir)

- ۱) ۲ و ۵ و ۳
۲) ۲ و ۴ و ۱
۳) ۳ و ۵ و ۱
۴) ۳ و ۴ و ۱

۶- اگر در نرم افزار پاورپوینت، روی یک اسلاید یا دکمه راست ماوس کلیک کنیم، منوی روبرو نمایش داده می شود. کدام گزینه

اسلایدی مانند اسلاید انتخاب شده را به فایل ها اضافه خواهد کرد؟ (عکس نامشخص)(Www.iranestekhdam.ir)

- ۱) ۱
۲) ۲
۳) ۴
۴) ۵

۷- کدام یک از وسایل زیر، براساس نوع استفاده در یک کامپیوتر با بقیه متفاوت تر است؟(Www.iranestekhdam.ir)

- ۱) ماوس
۲) کیبورد
۳) پرینتر
۴) وب کم

۸- وقتی در ویندوز ۱۰، برای خاموش کردن کامپیوتر اقدام می کنیم، ۴ گزینه روبه رو به ما نمایش داده می شود. اگر بخواهیم بدون

بسته شدن برنامه های در حال اجرا، کامپیوتر به صورت کامل خاموش شود. از کدام گزینه استفاده می کنیم؟

(Www.iranestekhdam.ir)



Sleep (۴)

Hibernate (۳)

Shut down (۲)

Restart (۱)

۹- تصویر روبه رو بخشی از تنظیمات مربوط به پاراگراف بندی در نرم افزار ورد است. کدام یک از بخش های مشخص شده نوع

پاراگراف را از راست به چپ تنظیم می کند؟ (Www.iranestekhdam.ir)



۳ (۲)

۱ (۱)

۵ (۴)

۴ (۳)

۱۰- گزینه **Filter** در نرم افزار اکسل چه کاربردی دارد؟ (Www.iranestekhdam.ir)

(۲) انتخاب بخش خاصی از اطلاعات یک سند

(۱) مرتب نمودن اطلاعات یک سند

(۴) مخفی کردن اطلاعات چند سلول

(۳) حذف بخش مشخصی از اطلاعات سند

بخش دوم:

ریاضی و آمار مقدماتی

۱۱- فاصله نقطه $A \left| \frac{1}{2} \right|$ از خط $3x + 4y - 5 = 0$ کدام است؟ (www.iranestekhdam.ir)

- (۱) $\frac{6}{5}$ (۲) $\frac{5}{6}$ (۳) $\frac{1}{2}$ (۴) $-\frac{7}{3}$

۱۲- کوچکترین مضرب مشترک دو عدد ۲۴ و ۳۶ چند واحد از بزرگترین مقسوم علیه مشترک آنها بیشتر؟؟؟

(www.iranestekhdam.ir)

- (۱) ۴۸ (۲) ۵۴ (۳) ۷۲ (۴) ۶۰

۱۳- محیط مستطیلی ۵۰ واحد است اگر طول مستطیل یک واحد از عرض مستطیل بیشتر باشد، مساحت مستطیل چقدر است؟

(www.iranestekhdam.ir)

- (۱) ۱۳۲ (۲) ۱۲۶ (۳) ۱۴۴ (۴) ۱۵۶

۱۴- در دسته بندی ۱۵۰ داده آماری در طبقه فراوانی، دسته پنجم برابر ۲۶ است. درصد فراوانی نسبی این دسته کدام است؟

(www.iranestekhdam.ir)

- (۱) ۲۴ (۲) ۱۸ (۳) ۲۷ (۴) ۲۱

۱۵- اگر به ۳ برابر عددی، ۴ واحد اضافه گردد و از نصف حاصل، همان عدد کم شود، باقیمانده برابر ۵ خواهد بود. آن عدد چند

است؟ (www.iranestekhdam.ir)

- (۱) ۱۴ (۲) ۸ (۳) ۶ (۴) ۱۹

۱۶- حاصل عبارت $\frac{a^2-b^2}{ab-b^2} - \frac{ab-b^2}{b^2}$ برابر کدام گزینه است؟ (www.iranestekhdam.ir)

- (۱) $2b$ (۲) -2 (۳) 2 (۴) $2a-2b$

۱۷- مقدار $\frac{1}{\sqrt{2}-1}$ برابر است با: (www.iranestekhdam.ir)

- (۱) $\sqrt{2}-1$ (۲) $\sqrt{2}+1$ (۳) $\sqrt{2}-8$ (۴) $\sqrt{2}+1$

۱۸- ساده شده عبارت $\left(4x - \frac{1}{x-1}\right) \times \left(1 - \frac{1}{2x-1}\right)$ کدام است؟ (www.iranestekhdam.ir)

- (۱) $2x-1$ (۲) $2x+1$ (۳) $4x-2$ (۴) $2x-2$

۱۹- در یک مجموعه ۱۲ داده با میانگین $\bar{x}_1 = 8$ و در مجموعه دیگری ۸ داده با میانگین $\bar{x}_2 = 3$ وجود دارد، میانگین داده ها

چند است؟ (www.iranestekhdam.ir)

- (۱) $9/6$ (۲) 10 (۳) 5 (۴) 6



۲۰- واریانس داده های آماری مقابل کدام است؟ ([Www.iranestekhdam.ir](http://www.iranestekhdam.ir))

$$\begin{array}{cccc} x & 1 & 2 & 3 & 4 \\ \hline F & 1 & 2 & 9 & 4 \end{array}$$

$$\frac{5}{4} \text{ (۴)}$$

$$\frac{5}{8} \text{ (۳)}$$

$$\frac{7}{8} \text{ (۲)}$$

$$\frac{3}{5} \text{ (۱)}$$

بخش سوم:

زبان و ادبیات فارسی

۲۱- از کدام نشانه نگارشی به جای حرف ربط در جمله استفاده می کنیم؟ (Www.iranestekhdam.ir)

- (۱) (،) (۲) (-) (۳) (:) (۴) (.)

۲۲- اسم از نظر داشتن یا نداشتن بن فعل چه تقسیماتی دارد؟ (Www.iranestekhdam.ir)

- (۱) ذات یا معنی (۲) ساده یا مرکب (۳) مشتق یا جامد (۴) خاص یا عام

۲۳- «چراغ روشن» چه نوع اضافه ای است؟ (Www.iranestekhdam.ir)

- (۱) استعاری (۲) تشبیهی (۳) بیانی (۴) تخصیصی

۲۴- زمان فعل «می رفته ام» در کدام گزینه آمده است؟ (Www.iranestekhdam.ir)

- (۱) ماضی بعید (۲) ماضی الزامی (۳) ماضی نقلی استمراری (۴) ماضی استمراری

۲۵- کیاست به چه معناست؟ (Www.iranestekhdam.ir)

- (۱) زیرکی (۲) هنروری (۳) پاکیزگی (۴) جنگاوری

۲۶- «خواستار» و «خطاکار» به ترتیب چه نوع صفتی هستند؟ (Www.iranestekhdam.ir)

- (۱) نسبی- مفعولی (۲) فاعلی-مفعولی (۳) فاعلی-نسبی (۴) فاعلی- فاعلی

۲۷- کدام شاعر به شاعر تک بیت ها معروف است؟ (Www.iranestekhdam.ir)

- (۱) شهریار (۲) صائب تبریزی (۳) نیما یوشیج (۴) جامی

۲۸- کتاب هفت اورنگ از آثار کدام یک از شعرای زیر می باشد؟ (Www.iranestekhdam.ir)

- (۱) مولوی (۲) جامی (۳) نظامی (۴) امیر خسروی دهلوی

۲۹- جمله یا عبارتی که در وسط جمله می آید و درباره آن توضیح می دهد، جمله نامیده می شود.

(Www.iranestekhdam.ir)

- (۱) بدل (۲) مکمل (۳) معترضه (۴) مستقل

۳۰- مفهوم بیت زیر در کدام گزینه به درستی آمده است؟ (Www.iranestekhdam.ir)

- چیست دنیا از خدا غافل بدن نی قماش و نقره و میزان و زن
 (۱) ترک کسب و کار (۲) ترک امور دنیوی
 (۳) غفلت کردن از خداوند (۴) ترک تعلق خاطر و علاقه به دنیا

بخش چهارم:

معارف اسلامی

۳۱- قرآن کریم کدام مورد را به عنوان الگو معرفی می کند؟(Www.iranestekhdam.ir)

- (۱) امامان (۲) مراجع تقلید (۳) حضرت پیامبر (ص) (۴) بزرگان

۳۲- کدام یک از موارد زیر مربوط به مرحله اول قیامت نمی باشد؟(Www.iranestekhdam.ir)

- (۱) شنیده شدن صدای مهیب (۲) مرگ اهل آسمان ها و زمین
(۳) تغییر در ساختار زمین و آسمان (۴) برپاشدن دادگاه عدل الهی

۳۳- صفات آن دسته از صفات خداوند هستند که از ذات الهی انتزاع می یابند و صفات کاستی ها را از خداوند نفی می

کنند.(Www.iranestekhdam.ir)

- (۱) ذاتی-سلبی (۲) ثبوتی-سلبی (۳) نفسی-ثبوتی (۴) ذاتی-فعلی

۳۴- کدام یک از سوره های زیر سجده واجب ندارد؟(Www.iranestekhdam.ir)

- (۱) تکویر (۲) نجم (۳) علق (۴) فصلت

۳۵- معنی لغوی معاد می باشد.(Www.iranestekhdam.ir)

- (۱) ایجاد بعد از وجود (۲) خلقت بعد از عدم (۳) بازگشتن (۴) زنده شدن

۳۶- آیه «قل هو الله احد» بر چه توحیدی دلالت دارد؟(Www.iranestekhdam.ir)

- (۱) توحید عبادی (۲) توحید ذاتی (۳) توحید ربوبی (۴) توحید تشریحی

۳۷- فلسفه خلقت انسان و جنیان چیست؟(Www.iranestekhdam.ir)

- (۱) حیات (۲) عبادت (۳) محبت (۴) کمک به هم نوع

۳۸- از منظر قرآن مهمترین عبادت است.(Www.iranestekhdam.ir)

- (۱) روزه گرفتن (۲) نماز خواندن (۳) خواندن قرآن (۴) دادن خمس

۳۹- حداقل مرتبه ایمان کدام است؟(Www.iranestekhdam.ir)

- (۱) همراه با عمل باشد (۲) اختیار داشتن در عبادت
(۳) همراه با خردورزی باشد (۴) گواهی دادن به توحید، نبوت و پذیرش اطاعت

۴۰- اساس دعوت به همه پیامبران الهی چیست؟(Www.iranestekhdam.ir)

- (۱) توحید در عبادت (۲) توحید در حاکمیت
(۳) توحید در تشریح (۴) توحید در ربوبیت

بخش پنجم:

زبان انگلیسی – عمومی

Direction: choose the word or phrase (۱), (۲), (۳), or (۴) that best complete sentence.

۴۱- Some who like rock music think that classical music is boring . (Www.iranestekhdam.ir)

- ۱) experts ۲) pilots ۳) Pupils ۴) fans

۴۲- Many people say that they are working too many hours, They don't have time with their families. They can't take care of things at home. (Www.iranestekhdam.ir)

- ۱) enough ۲) common ۳) nervous ۴) exact

۴۳- work hours from one country to another. In France, people ??? about ۱,۶۴۶ hours a year at work. In Japan, however, people work ۲,۱۵۹hour year. (Www.iranestekhdam.ir)

- ۱) different ۲) expand ۳) vary ۴) disturb

۴۴- In the United States, you probably shouldn't ask the question " How ??? money do you earn?" many people think that their salary is info(Www.iranestekhdam.ir)

- ۱) duty ۲) general ۳) academic ۴) private

۴۵- In my families today, both the mother and the father have jobs outside home. This can make it difficult to The children. (Www.iranestekhdam.ir)

- ۱) look up ۲) take care of ۳) keep on ۴) insist on

۴۶- Some companies offer good insurance rates to those who have had Violations.

(Www.iranestekhdam.ir)

- ۱) few ۲) the least ۳) the fewest ۴) fewest

۴۷- Since she didn't have bread, she couldn't make sandwiches(Www.iranestekhdam.ir)

- ۱) few ۲) little ۳) much ۴) many

۴۸- Although Terry sometimes works as a plumber, he is..... an ??? (Www.iranestekhdam.ir)

- ۱) chief ۲) chiefly ۳) the chief ۴) the chiefly

۴۹- The officer explained to the driver that the the law by ??? signal while he was turning left. (Www.iranestekhdam.ir)

- ۱) has broke ۲) ?????? ۳) ?????????? ۴) ??????????

بخش ششم:

اطلاعات عمومی، دانش اجتماعی و حقوق اساسی

$$\begin{cases} 5U + 3U + 4 = 16 \\ 5 + U + 4 = 12 \\ 5U + 3U = 12 \\ 4 + 3U = X \end{cases}$$

۵۰- در عبارت روبرو، مقدار X چقدر است؟ (Www.iranestekhdam.ir)

- (۱) ۱۰
(۲) ۱۲
(۳) ۴
(۴) ۱۶



۵۱- کدام شکل تصویر مقابل را کامل می کند؟ (Www.iranestekhdam.ir)



(۲)



(۱)



(۴)



(۳)

۵۲- بیشترین مرز خاکی ایران با کدام کشور است؟ (Www.iranestekhdam.ir)

- (۱) افغانستان (۲) عراق (۳) ترکمنستان (۴) پاکستان

۵۳- نظارت بر انتخابات شورای اسلامی شهر و روستا به عهده کدام سازمان است؟ (Www.iranestekhdam.ir)

- (۱) شورای نگهبان (۲) مجلس شورای اسلامی
(۳) شورا بر عهده مجلس و روستا بر عهده بخشداری ها (۴) وزارت کشور

۵۴- تامین آموزش و پرورش رایگان برای همه مردم از وظایف کدام دستگاه و سطح آن چقدر است؟ (Www.iranestekhdam.ir)

- (۱) آموزش و پرورش-ابتدائی (۲) آموزش و پرورش-متوسطه
(۳) شورای عالی انقلاب فرهنگی-متوسطه (۴) شورای عالی انقلاب فرهنگی-ابتدائی

۵۵- نسبت «مکار» به «اکرم» مثل نسبت عدد ۲۴۷۳ است به عدد: (Www.iranestekhdam.ir)

- (۱) ۲۳۴۷ (۲) ۳۲۷۴ (۳) ۷۴۳۲ (۴) ۴۲۷۳

۵۶- آپارتمانی به شکل روبرو داریم. واحد رضا واحد دوم در سمت راست واحد حسن و واحد حسن دو طبقه بالاتر واحد احمد است. کدام یک از گزینه ها، می تواند، محل قرار گرفتن واحد احمد باشد؟ (Www.iranestekhdam.ir)



- (۱) واحد شماره ۷ (۲) واحد شماره ۱۱
(۳) واحد شماره ۶ (۴) واحد شماره ۱۰

۵۷- صندوق کودکان سازمان ملل متحد نام دارد و محل استقرار آن در می باشد و سازمان آموزش علمی و فرهنگی سازمان ملل متحد نام دارد و مقر آن در می باشد. (Www.iranestekhdam.ir)

- (۱) یونیسف-پاریس-یونسکو-ژنو (۲) یونیسف-نیویورک-یونسکو-پاریس
(۳) یونسکو-پاریس-یونیسف-زوریخ (۴) یونیسف-ژنو-یونسکو-نیویورک

۵۸- نتایج یک پژوهش بر روی دانش آموزان پسر یک شهرستان، که به مدت حداقل دوسال در هر روز یک یا بیشتر از یک سیگار مصرف می کردند، نشان داد ۱۵ درصد ظرفیت ریه ها در ۸۵ درصد دانش آموزانی که در یک دوره ۲۵ سیگار کشیدن را ترک کردند بهبود یافته است. در این آزمایش مطمئن شدیم که بهبود ریه ها اتفاقی و تصادفی اگر مطالب بالا درست باشد این یافته ها تایید می کند که: ([Www.iranestekhdam.ir](http://www.iranestekhdam.ir))

- (۱) رژیم غذایی عامل رابط بین مصرف سیگار و ظرفیت ریه ها محسوب می شود.
- (۲) محدودیت مصرف سیگار در محیط های آموزشی باید به صورت قانونی درآید.
- (۳) مصرف سیگار با کاهش ظرفیت ریه ها در دانش آموزان پسر از نظر آماری همبسته است.
- (۴) پژوهشگر علاقه زیادی به ممنوعیت مصرف سیگار داشته است.

۵۹- کدام یک از ماه های زیر، حرام نیست؟ ([Www.iranestekhdam.ir](http://www.iranestekhdam.ir))

- (۱) صفر (۲) رجب (۳) ذی الحجه (۴) ذی القعدة

سوالات عمومی آزمون استخدام نهضت سواد آموزی سال ۹۹

با پاسخنامه تستی



بخش اول:

I.C.D.L فناوری اطلاعات و مهارت های هفتگانه



۱- از کدام ابزار WORD برای کپی قالب بندی کاراکتر یا پاراگراف مورد نظر به کاراکتر یا پاراگراف دیگر استفاده می شود؟
([Www.iranestekhdam.ir](http://www.iranestekhdam.ir))

REPLACE(۴) CLIP BOARD (۳) FORMAT PAINTER(۲) COPY (۱)

پاسخ کارشناس ایران استخدام: گزینه ۲

۲- با فشار کدام کلیدها می توان یک کپی از اسلایدر ابعاد از همان اسلاید POWER POINT ایجاد کرد؟
([Www.iranestekhdam.ir](http://www.iranestekhdam.ir))

CTRL+D(۴) CTRL+V(۳) CTRL+X(۲) CTRL+C (۱)

پاسخ کارشناس ایران استخدام: گزینه ۴

۳- کدامیک از گزینه های زیر می تواند آدرس یک سلول در اکسل باشد؟([Www.iranestekhdam.ir](http://www.iranestekhdam.ir))

BA۲(۴) CAD(۳) B۲D(۲) ۲C (۱)

پاسخ کارشناس ایران استخدام: گزینه ۴

۴- مقررات و ضوابط ارتباط بین کامپیوترها در شبکه را اصطلاحاً.....می نامند([Www.iranestekhdam.ir](http://www.iranestekhdam.ir)) .

TOKEN(۴) PROTOCOL(۳) CLIENT(۲) SERVER (۱)

پاسخ کارشناس ایران استخدام: گزینه ۳

۵- برای درج شماره تلفن و مبلغ به ریال در اکسس چه فرمتی است؟([Www.iranestekhdam.ir](http://www.iranestekhdam.ir))

TEXT/NUMBER(۲) NUMBER/NUMBER (۱)
CURRENCY/TEXT(۴) NUMBER/TEXT(۳)

پاسخ کارشناس ایران استخدام: گزینه ۴

۶- وجود کدامیک از موارد زیر برای راه اندازی یک کامپیوتر ضروری است؟([Www.iranestekhdam.ir](http://www.iranestekhdam.ir))

کارت شبکه (۱) کارت گرافیک (۲) کارت مودم (۳) کارت صوتی (۴)

پاسخ کارشناس ایران استخدام: گزینه ۲

۷- کدام روش مرتب سازی فایل ها را براساس پسوند (نوع فایل) مرتب می کند؟([Www.iranestekhdam.ir](http://www.iranestekhdam.ir))

NAME(۴) DATE(۳) SIZE(۲) TYPE (۱)

پاسخ کارشناس ایران استخدام: گزینه ۱

۸- TASK BAR در ویندوز شامل کدامیک از موارد زیر است؟([Www.iranestekhdam.ir](http://www.iranestekhdam.ir))

دکمه STAR (۱) برنامه های در حال اجرا (۲)
ابزار QUICK LAUNCH (۳) تمام گزینه ها (۴)

پاسخ کارشناس ایران استخدام: گزینه ۴



۹- برای اینکه سلول یک جدول را در WORD به چند سلول فرعی تقسیم کنیم از کدام گزینه استفاده می کنیم؟

([Www.iranestekhdam.ir](http://www.iranestekhdam.ir))

TABLE AUTO FORMAT(۲)

MERGE CELL (۱)

؟(۴)

SPLIT CELLS(۳)

پاسخ کارشناس ایران استخدام: گزینه ۳

۱۰- پروتکل ارتباطی جهت نقل و انتقال اطلاعات در وب..... نام دارد.([Www.iranestekhdam.ir](http://www.iranestekhdam.ir))

(۴) همه موارد

HTTP(۳)

URL(۲)

WWW (۱)

پاسخ کارشناس ایران استخدام: گزینه ۳

بخش دوم:

ریاضی و آمار مقدماتی

$$f'(x) = 2x \rightarrow 2(1) = 2$$

۱۱- مشتق تابع $F(X) = X^2$ در $X=1$ برابر است با: (www.iranestekhdam.ir)
 (۱) مشتق پذیر نیست (۲) ۲ (۳) ۱ (۴) صفر

پاسخ کارشناس ایران استخدام: گزینه ۲

۱۲- اگر $\log x + \log 20 = 2$ باشد آنگاه x برابر است با: (www.iranestekhdam.ir)

$$\log x + \log 20 = 2 \rightarrow \log 20 \cdot x = 100 \rightarrow x = \frac{100}{20} = 5$$

(۱) ۱۸- (۲) ۵ (۳) ۸۰ (۴) $\frac{1}{10}$

پاسخ کارشناس ایران استخدام: گزینه ۲

۱۳- مجموعه A دارای ۴۰ عضو و مجموعه B دارای ۳۵ عضو هستند چنانچه $A \cap B$ دارای ۱۰ عضو باشد آنگاه $A \cup B$ چند عضو دارد؟ (www.iranestekhdam.ir)

(۱) ۷۵ (۲) ۷۰ (۳) ۶۵ (۴) ۸۵

پاسخ کارشناس ایران استخدام: گزینه ۳

$$P(A \cup B) = P(A) + P(B) - P(A \cap B) = 40 + 35 - 10 = 65$$

۱۴- حاصل $\log_2 8$ کدام گزینه است؟ (www.iranestekhdam.ir)

(۱) ۴ (۲) ۳ (۳) ۲ (۴) ۱۶

پاسخ کارشناس ایران استخدام: گزینه ۲

$$\log_2 8 = \log_2 2^3 = 3 \log_2 2 = 3$$

۱۵- در یک مسابقه اتومبیل رانی سه ماشین شرکت نموده اند احتمال برد ماشین A دو برابر احتمال برد ماشین B و احتمال برد ماشین B دو برابر احتمال برد ماشین C است احتمال برد ماشین B چقدر است؟ (www.iranestekhdam.ir)

(۱) $\frac{3}{8}$ (۲) $\frac{2}{8}$ (۳) $\frac{2}{7}$ (۴) $\frac{4}{7}$

پاسخ کارشناس ایران استخدام: گزینه ۳

۱۶- اگر X و Y اعداد مثبت باشند $\frac{x}{4} - \frac{3}{y}$ برابر است با: (www.iranestekhdam.ir)

(۱) $\frac{3x}{4y}$ (۲) $\frac{3x-4y}{12xy}$ (۳) $\frac{x-3}{4y}$ (۴) $\frac{xy-12}{4y}$

پاسخ کارشناس ایران استخدام: گزینه ۴

۱۷- وسط اضلاع یک مربع به طول a را به هم وصل کرده ایم نسبت مساحت مربع بزرگ به مساحت مربع کوچک برابر است با:

(Www.iranestekhdam.ir)

- (۱) $4a^2$ (۲) $4(۲)$ (۳) $2a^2$ (۴) $۲(۴)$

پاسخ کارشناس ایران استخدام: گزینه ۴

با توجه به ابهام صورت سوال

روش اول

مساحت مربع بزرگ = a^2

$$= \frac{a^2}{2}$$

مساحت مربع کوچک =

۱۸- در یک جعبه ۱۲ لامپ وجود دارد که ۳ عدد آن سوخته است ۲ لامپ به تصادف انتخاب کرده ایم احتمال آن که هر دو

سوخته باشد کدام است؟ (Www.iranestekhdam.ir)

- (۱) $\frac{9}{12}$ (۲) $\frac{2}{12}$ (۳) $\frac{5}{11}$ (۴) $\frac{6}{11}$

پاسخ کارشناس ایران استخدام: گزینه ۳

۱۹- ۴ سال پیش رضا و علی جمعا ۸ سال داشتند و هم اکنون رضا ۱۰ سال از خواهر علی مه نصف علی سن دارد بزرگ تر است

در این صورت ۴ سال پیش اختلاف سن رضا و علی چند سال بوده است؟ (Www.iranestekhdam.ir)

- (۱) ۱۲ (۲) ۸ (۳) ۶ (۴) ۴

پاسخ کارشناس ایران استخدام: گزینه ۲

۲۰- جواب نامعادله $\frac{3x+1}{x-1} \leq 2$ برابر است با: (Www.iranestekhdam.ir)

- (۱) $1 < x \leq 3$ (۲) $x < 1$ یا $x \leq -3$ (۳) $-3 \leq x < 1$ (۴) $-3 \leq x < -1$

پاسخ کارشناس ایران استخدام: گزینه ۳

نامعادله و تعیین علامت

بخش سوم:

زبان و ادبیات فارسی

۲۱- معنی (مشر فان) با توجه به عبارت (مشر فان گماشت که انفاس وی می شمردند) چیست؟ (Www.iranestekhdam.ir)

- (۱) جاسوسان (۲) دانشمندان (۳) زورمندان (۴) سروران

پاسخ کارشناس ایران استخدام: گزینه ۱

۲۲- مفهوم کدام بیت با ابیات دیگر نامتناسب است؟ (Www.iranestekhdam.ir)

- (۱) قصه ها گفتند بی اصل و اساس دزدها بگماشتند از بهر یاس
(۲) رودها از خود نه طغیان می کنند آنچه می گوئیم ما آن می کنند
(۳) روشنی خواستند اما ز دود قصه ها افراشتند اما به رود
(۴) درس ها خواندند اما درس عار اسب ها راندند اما بی فسار

پاسخ کارشناس ایران استخدام: گزینه ۲

۲۳- کدام یک از گزینه های زیر جزو آثار ناصر خسرو نیست؟ (Www.iranestekhdam.ir)

- (۱) مصیبت نامه (۲) وجه دین (۳) سفرنامه (۴) زادالمسافرین

پاسخ کارشناس ایران استخدام: گزینه ۱

۲۴- به کار بردن کدام گزینه در نگارش فارسی صحیح است؟ (Www.iranestekhdam.ir)

- (۱) فرمایشات (۲) سفارشات (۳) پیشنهادات (۴) اشارات

پاسخ کارشناس ایران استخدام: گزینه ۴

۲۵- کدام شاعر با سایر گزینه ها هم عصر نمی باشد؟ (Www.iranestekhdam.ir)

- (۱) فخرالدین عراقی (۲) جلال الدین مولوی بلخی (۳) سعدی شیرازی (۴) عبدالرحمان جامی

پاسخ کارشناس ایران استخدام: گزینه ۴

۲۶- در بیت زیر کدام آرایه وجود ندارد؟ (Www.iranestekhdam.ir)

- سر برگ گل ندارم به چه رو روم به گلشن که شنیده ام ز گل ها همه بوی بی وفایی
(۱) ایهام (۲) مراعات نظیر (۳) حسن آمیزی (۴) کنایه

پاسخ کارشناس ایران استخدام: گزینه ۱

۲۷- در عبارت (برخاطر گذشتن گرفت) (گرفت) به چه معناست. (Www.iranestekhdam.ir)

- (۱) انجام یافتن (۲) اتخاذ کردن (۳) شروع شدن (۴) دربر گرفتن

پاسخ کارشناس ایران استخدام: گزینه ۳

۲۸- کدام فعل ماضی نقلی است؟ (Www.iranestekhdam.ir)

- (۱) رفته ای (۲) رفته باشی (۳) رفته بودی (۴) می رفتی

پاسخ کارشناس ایران استخدام: گزینه ۱

۲۹- کدام کتاب در شرح حال مولانا نوشته شده است؟ (Www.iranestekhdam.ir)



- (۱) یکی قطره باران (۲) فرار از مدرسه (۳) پله پله تا ملاقات خدا (۴) از کوچه رندان
پاسخ کارشناس ایران استخدام: گزینه ۳

۳۰- کدام قالب شعری مسائل عرفانی اخلاقی و اجتماعی را به صورت حکایت بیان می کند؟ ([Www.iranestekhdam.ir](http://www.iranestekhdam.ir))

- (۱) قطعه (۲) غزل (۳) قصیده (۴) مثنوی
پاسخ کارشناس ایران استخدام: گزینه ۴
-

بخش چهارم:

معارف اسلامی

۳۱- مفهوم عصمت چیست؟ (Www.iranestekhdam.ir)

- (۱) گناه نکردن
(۲) استغفار از گناه
(۳) پرهیز از گناه
(۴) مصونیت از گناه و اشتباه

پاسخ کارشناس ایران استخدام: گزینه ۴

۳۲- آخرین مرحله از سیر اخروی انسان کدام مرحله است؟ (Www.iranestekhdam.ir)

- (۱) بهشت و جهنم
(۲) یوم الحساب
(۳) برزخ
(۴) قیامت

پاسخ کارشناس ایران استخدام: گزینه ۱

۳۳- قرآن کریم چه کسانی را برادران شیطان معرفی کرده است؟ (Www.iranestekhdam.ir)

- (۱) گرانفروشان
(۲) منافقین
(۳) اسرافکاران
(۴) مشرکین

پاسخ کارشناس ایران استخدام: گزینه ۳

۳۴- (کتاب سنت اجماع و عقل) از منابع اصلی کدام علم دین هستند؟ (Www.iranestekhdam.ir)

- (۱) احکام
(۲) تفسیر
(۳) حدیث
(۴) فقه

پاسخ کارشناس ایران استخدام: گزینه ۱

۳۵- از دیدگاه امام علی (ع) بزرگترین سعادت و کامیابی چیست؟ (Www.iranestekhdam.ir)

- (۱) خداشناسی
(۲) خودشناسی
(۳) هستی شناسی
(۴) جهان شناسی

پاسخ کارشناس ایران استخدام: گزینه ۲

۳۶- کدام گزینه زیر نمود ظاهری ایمان و ازارکان ایمان است؟ (Www.iranestekhdam.ir)

- (۱) علم
(۲) خداباوری
(۳) عدالت طلبی
(۴) عمل

پاسخ کارشناس ایران استخدام: گزینه ۱

۳۷- آرامش راستین انسان.....می باشد که.....بدست می آید. (Www.iranestekhdam.ir)

- (۱) انس با خدا و تبعیت از فرامین الهی-تعقل و خردورزی
(۲) ایمان به خدا رسول خدا و قیامت-تفکر در پیام خدا و پیامبران
(۳) خودشناسی و کشف استعدادهای درونی-تفکر و خردورزی در خویشتن
(۴) تقوا پیشگی و پرهیزکاری-پیروی و تبعیت از فرامین الهی

پاسخ کارشناس ایران استخدام: گزینه ۱

۳۸- در خصوص والدین قرآن در چه صورتی می فرماید (فلا تطعهما). (Www.iranestekhdam.ir)

- (۱) مانع از انجام عمل مستحب شوند
(۲) دعوت به شرک نمایند
(۳) در امور دینی بی تفاوت باشند
(۴) جلوگیری از انجام کار خیر

پاسخ کارشناس ایران استخدام: گزینه ۲



۳۹- (اداره جهان هستی همانند ایجاد و احداث آنت فعل خداوند یکتاست) این نکته به کدام توحید اشاره دارد؟

(Www.iranestekhdam.ir)

- (۱) توحید در ربوبیت
(۲) توحید در حاکمیت
(۳) توحید در تشریح
(۴) توحید در ذات

پاسخ کارشناس ایران استخدام: گزینه ۱

۴۰- میل به جاودانگی و بقا اشاره به کدام برهان در اثبات معاد دارد؟ (Www.iranestekhdam.ir)

- (۱) برهان نقلی
(۲) برهان عدالت
(۳) برهان فطرت
(۴) برهان معقولیت

پاسخ کارشناس ایران استخدام: گزینه ۳

بخش پنجم:

زبان انگلیسی – عمومی

۴۱- A big piece of dark cloud covered the sun while we were swimming but after a couple of minutes the sun.....a gain. (Www.iranestekhdam.ir)

- (۱) recovered (۲) presented (۳) exposed (۴) appeared

پاسخ کارشناس ایران استخدام: گزینه ۴

یک قطعه بزرگ ابر تیره در حالی که شنا می کردیم خورشید را پوشانده بود امام بعد از چند دقیقه خورشید دوبار ظاهر شد

۴۲- the teacher got tired when the..... kid kept asking lots of questions.

(Www.iranestekhdam.ir)

- (۱) curious (۲) questionable (۳) powerful (۴) doubtful

پاسخ کارشناس ایران استخدام: گزینه ۱

معلم وقتی کودک کنجکاو سوالات زیادی پرسید خسته شد

۴۳- what causes some people not be successful in life is that they don't find it easy to..... themselves the new conditions- (Www.iranestekhdam.ir)

- (۱) transfer (۲) adapt (۳) involve (۴) position

پاسخ کارشناس ایران استخدام: گزینه ۲

آنچه باعث می شود بعضی از افراد در زندگی موفق نباشند این است که آنها پیدا نمی کنند رهی که خودشان را با شرایط جدید تطبیق دهند.

۴۴- you had better avoid.....very fast when the streets are too busy and crowded.

(Www.iranestekhdam.ir)

- (۱) to drive (۲) driving (۳) drives (۴) drive

پاسخ کارشناس ایران استخدام: گزینه ۲

۴۵- as a general rule tourists don't travel to any country.....crime rate is said to very high.

(Www.iranestekhdam.ir)

- (۱) that (۲) which (۳) whom (۴) whose

پاسخ کارشناس ایران استخدام: گزینه ۴

نکات تکمیلی موصول ها

۴۶- I have a good.....for names but I cant remember faces very easily. (Www.iranestekhdam.ir)

- (۱) memory (۲) view (۳) heart (۴) opinion

پاسخ کارشناس ایران استخدام: گزینه ۱

۴۷- The doctor told the patient that daily exercise is.....for his physical and health.

(Www.iranestekhdam.ir)

- (۱) attractive (۲) common (۳) essential (۴) continuous

پاسخ کارشناس ایران استخدام: گزینه ۳



۴۸-I ve decided to apply for the.....of sales manager advertised in the Sunday.

(Www.iranestekhdam.ir)

- (۱) point (۲) position (۳) situation (۴) place

پاسخ کارشناس ایران استخدام: گزینه ۲

۴۹-Theof small businesses is a good solution to the problem of/Www.iranestekhdam.ir

- (۱) production (۲) construction (۳) invention (۴) establishment

پاسخ کارشناس ایران استخدام: گزینه ۴

۵۰-Human body is largely composed of water and to remain...It needs a continuous supply of water. (Www.iranestekhdam.ir)

- (۱) influential (۲) forceful (۳) healthy (۴) creative

پاسخ کارشناس ایران استخدام: گزینه ۳

بخش ششم:

اطلاعات عمومی، دانش اجتماعی و حقوق اساسی



۵۱- بزرگ ترین جزیره ایران کدام است؟(Www.iranestekhdam.ir)

- (۱) کیش (۲) تنگ بزرگ (۳) قشم (۴) ابوموسی
- پاسخ کارشناس ایران استخدام: گزینه ۳

۵۲- علامت اختصاری WHO مخفف کدام سازمان بین المللی است؟(Www.iranestekhdam.ir)

- (۱) سازمان ملل متحد (۲) سازمان بهداشت جهانی
(۳) سازمان تجارت جهانی (۴) صندوق بین المللی پول
- پاسخ کارشناس ایران استخدام: گزینه ۲

۵۳- مسافت دوی ماراتن چند کیلومتر است؟(Www.iranestekhdam.ir)

- (۱) ۴۰ (۲) ۴۱ (۳) ۴۲ (۴) ۴۴
- پاسخ کارشناس ایران استخدام: گزینه ۳

۵۴- ۱۰ ذی الحجه مصادف با کدامیک از روزهای زیر است؟(Www.iranestekhdam.ir)

- (۱) عید قربان (۲) عید غدیر خم (۳) روز عرفه (۴) روز مباهله
- پاسخ کارشناس ایران استخدام: گزینه ۱

۵۵- تعداد نمایندگان مجلس شورای اسلامی چند نفر و رئیس آن برای چند سال انتخاب می

شود؟(Www.iranestekhdam.ir)

- (۱) ۲۷۲-۲ سال (۲) ۲۹۲-۴ سال (۳) ۲۷۰-۱ سال (۴) ۲۹۰-۱ سال
- پاسخ کارشناس ایران استخدام: گزینه ۴


۵۶- اگر میوه فروشی میوه هایش را کیلویی ۱۰۰ تومان بفروشد ۲۳۰ تومان ضرر می کند و اگر ۱۲۰ تومان بفروش می برد او چند

کیلو میوه دارد؟(Www.iranestekhdam.ir)

- (۱) ۱۶ (۲) ۳۰ (۳) ۲۵ (۴) ۲۴
- پاسخ کارشناس ایران استخدام: گزینه ۳

۵۷- از یک میله فلزی میله دیگری که شعاع قاعده و ارتفاع آن نصف میله اول است مطابق شکل تراشیده است در این صورت:

(Www.iranestekhdam.ir)



- (۱) حجم و مساحت میله اول تغییر نکرده است
(۲) حجم میله کم و مساحت آن زیاد شده است
(۳) حجم میله اول کم شده مساحت آن بدون تغییر مانده
(۴) از حجم و مساحت میله اول کم شده است
- پاسخ کارشناس ایران استخدام: گزینه ۳

۵۸- عدد بعدی در مجموعه اعداد روبرو کدام است؟(Www.iranestekhdam.ir)

- ۱ ۲
۲ ۴
۵ ۳۲
۷ ۹

- (۱) ۵۱۲ (۲) ۲۵۶
(۳) ۱۲۸ (۴) ۶۴

پاسخ کارشناس ایران استخدام: گزینه ۳



۵۹- اگر عددی را در ۸ ضرب کنیم ۵۰۴ واحد به آن افزوده می شود آن عدد کدام است؟(Www.iranestekhdam.ir)

- (۱) ۷۲ (۲) ۵۶ (۳) ۸۰ (۴) ۶۳

پاسخ کارشناس ایران استخدام: گزینه ۱

۶۰- نسبت خباز به آرد مثل: (Www.iranestekhdam.ir)


- (۱) بافنده است به نخ (۲) نجار است به میز (۳) بنا است به ساختمان (۴) خیاط است به اباس

پاسخ کارشناس ایران استخدام: گزینه ۱

سوالات عمومی آزمون استخدام شرکت کار و تامین سال ۹۹

(شغل خدمات اداری، عمومی و داروئی، انباردار، منشی)

با پاسخ تشریحی



بخش اول:

فناوری اطلاعات و مهارت های هفتگانه I.C.D.L



۱- از کدام یک از وسایل زیر برای boot کردن یک کامپیوتر رومیزی استفاده نمی شود؟ (Www.iranestekhdam.ir)

CD(۱) flash (۲) HDD (۳) motherboard (۴)

پاسخ کارشناس سایت ایران استخدام: گزینه ۴

فرآیند بوت شدن سیستم عامل به فرآیندی اطلاق میشود که یک کامپیوتر از زمان روشن شدن در طی چندین فرآیند (از تست سلامت سخت افزار ها تا اجرا شدن هسته سیستم عامل) پشت سر گذاشته شده و در نهایت کنترل سیستم به دست سیستم عامل داده میشود تا برای ما قابل استفاده باشد. Booting، Boot up و start up سیستم اصطلاحات یکسانی هستند که برای بوت شدن سیستم عامل از زمان فشردن کلید پاور تا بارگزاری سیستم عامل و سرویس های آن به کار گرفته میشوند.

۲- کدام یک از اصلاحات زیر در ایمیل استفاده نمی شود؟ (Www.iranestekhdam.ir)

subject (۱) from(۲) BCC(۳) TCC(۴)

پاسخ کارشناس سایت ایران استخدام: گزینه ۴

ایمیل یا رایانامه یا پست الکترونیک به نامه الکترونیکی می گویند. محتوای آن می تواند چندرسانه ای باشد که در شبکه های رایانه ای از یک فرستنده به یک یا چند گیرنده فرستاده می شود. سرویس ایمیل سامانه ای است که این خدمات را ارائه می کند. نشانی رایانامه نشانی است که برای رایانامه مشخص شده است. یکی از کاربردهای اینترنت فرستادن و دریافت نامه های الکترونیک است؛ نامه الکترونیکی پرونده ای است که از طریق شبکه اینترنت برای مخاطبی که دارای رایانشانی است، فرستاده می شود.

۳- اصطلاح homepage در مرورگرهای اینترنتی به چه معناست؟ (Www.iranestekhdam.ir)

(۱) صفحه شخصی کاربر
(۲) پر مراجعه ترین وب سایت کاربر
(۳) صفحه پیش فرض در هنگام باز شدن مرورگر
(۴) اولین صفحه مشاهده شده توسط کاربر

پاسخ کارشناس سایت ایران استخدام: گزینه ۳

صفحه خانه یا Homepage به صفحه ابتدایی یا صفحه اصلی یک وبسایت یا مرورگر وب گفته می شود. صفحه شروع یا صفحه آغاز (Start Page) نیز نام های دیگری است که برای این صفحات به کار می رود.

۴- در نرم افزار word در صورتی که مکان نما در ابتدای یک پاراگراف باشد، کلیدهای ترکیبی Ctrl+ Shift+ ↓ چه کاری را انجام خواهد داد؟ (Www.iranestekhdam.ir)

(۱) انتخاب کل متن صفحه (۲) انتخاب اولین کلمه پاراگراف (۳) انتخاب اولین خط پاراگراف (۴) انتخاب کل متن پاراگراف

پاسخ کارشناس سایت ایران استخدام: گزینه ۴

۵- در کدام یک از اجزا زیر در اکسس می توان داده های خام را ذخیره نمود؟ (Www.iranestekhdam.ir)

report (۱) form(۲) table(۳) query(۴)

پاسخ کارشناس سایت ایران استخدام: گزینه ۳

هر جدول محلی برای نگهداری داده های خام بانک اطلاعاتی است. در واقع جدول مجموعه ای از داده ها پیرامون موضوعاتی ویژه از قبیل محصولات، مشتریان یا لیست کارمندان است.

بخش دوم:

معارف اسلامی

۶- در انجام هر عمل هم باید نیت درونی و قلبی انسان الهی باشد و هم مطابق با شکلی که خدا فرمان داده است. انجام شود شرط اول را..... و شرط دوم را می نامند. (Www.iranestekhdam.ir)

- (۱) حسن فعلی_حسن فاعلی
(۲) حسن فاعلی_حسن فعلی
(۳) هر دو حسن فعلی هستند
(۴) هر دو حسن فاعلی هستند.

پاسخ کارشناس سایت ایران استخدام : گزینه ۲

حسن فاعلی بدین معناست که انجام دهنده ی کار، دارای معرفت درست و نیت الهی باشد. حسن فعلی نیز بدین معناست که کار به درستی و به همان صورت که خدا فرمان داده است انجام شود

۷- دعوت قرآن کریم به تفکر و تعقل در آیات و نشانه های الهی به چه مقصودی است؟ (Www.iranestekhdam.ir)

- (۱) تقویت روحیه حق پذیری
(۲) یاد معاد و روز حساب
(۳) افزایش معرفت به خداوند
(۴) انجام عمل صالح

پاسخ کارشناس سایت ایران استخدام : گزینه ۳

تفکر و تعقل در آیات و نشانه های الهی، بر معرفت نسبت به خداوند می افزاید

۸- کدامیک از نشانه های اختیار است؟ (Www.iranestekhdam.ir)

- (۱) تفکر و تصمیم
(۲) احساس رضایت یا پشیمانی
(۳) مسئولیت پذیری
(۴) همه موارد صحیح هستند

پاسخ کارشناس سایت ایران استخدام : گزینه ۴

تفکر و تصمیم، احساس رضایت یا پشیمانی و مسئولیت پذیری هر سه از نشانه های اختیار هستند

۹- امداد خاص خدای متعال نسبت به آنان که به نیت پاک، قدم در راه حق گذارند و سعادت جهان آخرت و رضایت پروردگار را هدف خود قرار دهند..... نام دارد. (Www.iranestekhdam.ir)

- (۱) توفیق الهی
(۲) املاء و استخراج
(۳) امداد الهی
(۴) امتحان

پاسخ کارشناس سایت ایران استخدام : گزینه ۱

امداد خاص خدای متعال نسبت به آنان که با نیت پاک قدم در راه حق می گذارند و سعادت جهان آخرت و رضایت پروردگار را هدف خود قرار دهند، توفیق الهی نام دارد.

۱۰- کدامیک از نماز های زیر واجب نیست؟ (Www.iranestekhdam.ir)

- (۱) نماز شب اول قبر (وحشت)
(۲) نماز میت
(۳) نماز آیات
(۴) نماز قضای پدر و پدر بزرگ

پاسخ کارشناس سایت ایران استخدام : گزینه ۱

نماز شب اول قبر (وحشت) مستحب است.

۱۱- اولین ثمره اخلاص کدام است؟ (Www.iranestekhdam.ir)

- (۱) عدم نفوذ شیطان در انسان و یاس او از فرد با اخلاص
(۲) احساس اطمینان و آرامش درونی
(۳) احساس لذت واقعی از زندگی
(۴) انجام عمل صالح

پاسخ کارشناس سایت ایران استخدام : گزینه ۱

با توجه به آیه شریفه " الا عبادک منهم المخلصین " اولین ثمره ی اخلاص عدم نفوذ شیطان در انسان و یاس او از فرد با اخلاص



۱۲- کدامیک از عوامل عصمت نمی باشد؟ ([Www.iranestekhdam.ir](http://www.iranestekhdam.ir))

- (۱) شایستگی ذاتی
(۲) مجاهدت های فردی و اجتماعی
(۳) عنایت خداوند
(۴) عمل به تعالیم دین

پاسخ کارشناس سایت ایران استخدام : گزینه ۲

مجاهدتهای فردی از عاملان عصمت است نه اجتماعی

۱۳- بر اساس آیات مختلف مهمترین فایده روزه کدام است؟ ([Www.iranestekhdam.ir](http://www.iranestekhdam.ir))

- (۱) یاد خدا
(۲) تقوا
(۳) دوری از گناه
(۴) رسیدن به عزت الهی

پاسخ کارشناس سایت ایران استخدام : گزینه ۲

طبق آیهی ۱۸۳ سوره بقره، مهم ترین فایدهی روزه گرفتن تقوا می باشد

۱۴- کدام یک از شروط زیر از شرایط مرجع تقلید نمی باشد؟ ([Www.iranestekhdam.ir](http://www.iranestekhdam.ir))

- (۱) عادل بودن
(۲) زمان شناس باشد و بتواند احکام دین را متناسب با نیاز روز به دست آورد.
(۳) علم بودن
(۴) مدیر و مدبر بودن

پاسخ کارشناس سایت ایران استخدام : گزینه ۴

مدیر و مدبر بودن از شرایط ولی فقیه است نه مرجع تقلید

۱۵- کدام یک از موارد ذیل بر ضرورت معاد دلالت دارد؟ ([Www.iranestekhdam.ir](http://www.iranestekhdam.ir))

- (۱) لازمه حکمت الهی
(۲) اشاره به پیمایش نخستین انسان
(۳) لازمه عدل الهی
(۴) موارد الف و ج

پاسخ کارشناس سایت ایران استخدام : گزینه ۴

حکمت الهی و عدل الهی هر دو ضرورت معاد را می رسانند. زیرا تحقق اجرای عدالت کامل و اعطای ثواب و عقاب در این حیات دنیوی ممکن نیست و خلق انسان بدون وجود حیات جاودان در حقیقت امری بیهوده است

بخش سوم:

زبان انگلیسی – عمومی

۲۲-The new engineer is not very experienced. He cant work.....as the other engineers.

(Www.iranestekhdam.ir)

- ۱) as well ۲) good ۳) well ۴) as good

پاسخ کارشناس سایت ایران استخدام : گزینه ۱

هنگام مقایسه افراد از لحاظ برابری با یک صفت مشخص از ساختار as + adjective + as + noun استفاده می گردد و اصطلاح as good به معنای بسیار نزدیک می باشد و به دلیل عدم تطابق معنایی گزینه ۱ پاسخ صحیح می باشد.

۲۳-In this weeks column. I.....you some tips on haw to perform this most enjoyable activity.

(Www.iranestekhdam.ir)

- ۱) am going to give ۲) will give ۳) given ۴) have given

پاسخ کارشناس سایت ایران استخدام : گزینه ۲

برای بیان رویدادهای آینده که در زمان حال برای آن ها برنامه ریزی می شود از فعل کمکی will استفاده می شود، با توجه به متن سوال که برنامه ریزی هفته پیش رو مد نظر است گزینه ۲ صحیح می باشد.

۲۴-Bargaining is a ritual.....for centuries. (Www.iranestekhdam.ir)

- ۱) exists ۲) has existed ۳)existed ۴)have existed.

پاسخ کارشناس سایت ایران استخدام : گزینه ۳

هنگام کوتاه کردن جملات وصفی بعد از حذف which یا that که در سوال فوق کاربرد دارند و حذف فعل to be, فعل وصفی به شکل verb + ing یا past participle به کار برده می شود بنابراین گزینه ۳ صحیح می باشد.

۲۵-American officials.....that climate change presents a serious threat to national security. (Www.iranestekhdam.ir)

- ۱) warned ۲) are waring ۳) has been warned ۴) have been warned

پاسخ کارشناس سایت ایران استخدام : گزینه ۱

در جملات مطبوعاتی برای گزارش خبر در زمان حال افعال در قالب past participle به کار برده می شود بنابراین گزینه ۱ صحیح می باشد...

Reading

Direction: Read the passage and choose the best answer to each question.if you are like most people, your intelligence differs from season to season. You are probably a lot sharper in the spring than you are at any other time of the year. A scientist bellevs climate and temperature have a certain effect on our mental abilities . He found out that cool weather is much more helpful for better thinking than is summer heat. This does not mean that all people are less intelligent in the summer than they are during the rest of the year. Spring appears to be the best period of the year for thinking. One reason may be that in the spring, peoples mental abilities are influenced by the same factors that all nature.

۲۶-Which statement is correct about spring? (Www.iranestekhdam.ir)

- ۱) It has no affect peoples mental abilities.
۲) It affects some peoples mental abilities negatively.
۳) It makes all peoples less intelligent in comparison to other seasons.
۴) Its the best period of the year for thinking.

پاسخ کارشناس سایت ایران استخدام : گزینه ۴

با توجه به جمله " peoples' mental abilities are influenced by the same factors that all nature "، عوامل تاثیر گذار در فصل بهار بر طبیعت بر انسان نیز تاثیر می گذارد، بنابراین گزینه ۴ پاسخ صحیح می باشد.

۲۷- According to the passage..... (Www.iranestekhdam.ir)

- ۱) You intelligence is not the same all through the year.
- ۲) Summer heal has no effect on your intelligence.
- ۳) Most people think better in summer than in spring.
- ۴) Spring is most peoples favorite season.

پاسخ کارشناس سایت ایران استخدام : گزینه ۱

با توجه به جمله " your intelligence differs from season to season. "، هوش انسان فصل به فصل تغییر می کند، بنابراین گزینه ۱ پاسخ صحیح می باشد.

۲۸-What is the main idea of the passage? (Www.iranestekhdam.ir)

- ۱) How spring changes nature thoroughly.
- ۲) How climates is influence peopl's lives.
- ۳) How weather and climate affect people's intelligence.
- ۴) How mental abilities change the whole nature.

پاسخ کارشناس سایت ایران استخدام : گزینه ۳

با توجه به جمله "A scientist believes climate and temperature have a certain effect on our mental abilities". "، شرایط جوی و آب و هوایی اثر مشخصی بر توانایی های ذهنی ما دارد، بنابراین گزینه ۳ پاسخ صحیح می باشد

۲۹-The word "sharper" in line ۳ means: (Www.iranestekhdam.ir)

- ۱) more stupid ۲) more intelligent ۳) slower ۴) worst

پاسخ کارشناس سایت ایران استخدام : گزینه ۲

با توجه به مفهوم جمله " Spring appears to be the best period of the year for thinking "، فصل بهار بهترین زمان برای تفکر است در نتیجه گزینه ۲ به معنای باهوش تر پاسخ صحیح می باشد.

۳۰-Which sentence is crrect according to the passage? (Www.iranestekhdam.ir)

- ۱) Our intelligence may change as seasons change.
- ۲) We enjoy cool weather because it has greal influence.
- ۳) Your mental abillittes are more active in hot climates.
- ۴) Scientisis are a lot sharper than other people.

پاسخ کارشناس سایت ایران استخدام : گزینه ۱

با توجه به مفهوم جمله " your intelligence differs from season to season "، هوش انسان از فصلی به فصل دیگر تغییر پیدا می کند. بنابراین گزینه ۱ پاسخ صحیح می باشد.

بخش چهارم:

اطلاعات عمومی ، دانش اجتماعی و حقوق اساسی

۳۱- مفهوم دو اصطلاح (آنارشسیسم) و (لائیک) در کدام گزینه بیان شده است؟ (Www.iranestekhdam.ir)

- (۱) تجدد گرایی - بدون دین و مذهب
(۲) آزادی خواهی - جدایی دین از سیاست
(۳) نداشتن دین و حکومت - بدون دین و مذهب
(۴) آزادی خواهی - تجدد گرایی

پاسخ کارشناس سایت ایران استخدام: گزینه ۳

آنارشسیسم یک فلسفه و جنبش سیاسی است که نسبت به انحصارطلبی در قدرت ریشه ضدیت دارد و همه اشکال اجبار و سلسله مراتب را رد می کند. آنارشسیسم خواستار از بین بردن قدرت رهبری است و به نظر آن تمامی دولت های تک حزبی نامطلوب، غیر ضروری و مضر هستند. لائیک به کسی یا اجتماعی گفته می شود که پیرو اصل لائیسیته باشد به این معنی که وجود دین را برای تعالی فردی/ اجتماعی یک ملت لازم نشناخته و فقط با تکیه بر آزادی عقیده و بیان در پناه قانون به حراست و دفاع از امنیت و آینده ی مردم بپردازد و دین و مسلک تقدس را از زندگی اجتماعی مردم خارج نگاه دارد.

۳۲- بر اساس اصل ۷۳ قانون اساسی، شرح و تفسیر قوانین عادی در صلاحیت کدام نهاد است؟ (Www.iranestekhdam.ir)

- (۱) مجمع تشخیص مصلحت نظام (۲) مجلس شورای اسلامی (۳) معاونت حقوقی رئیس جمهور (۴) شورای نگهبان

پاسخ کارشناس ایران استخدام: گزینه ۲

شرح و تفسیر قوانین عادی در صلاحیت مجلس شورای اسلامی است. مفاد این اصل مانع از تفسیری که دادرسان، در مقام تمیز حق، از قوانین می کنند نیست.

۳۳- در مورد ترکیب اعضای بازنگری در قانون اساسی، تعداد کدام گزینه صحیح می باشد؟ (Www.iranestekhdam.ir)

- (۱) ۵ نفر به انتخاب رهبری
(۲) ۳ نفر از قوه قضائیه
(۳) ۴ نفر از هیات وزیران
(۴) ۱۲ نفر از نمایندگان مجلس شورای اسلامی

پاسخ کارشناس ایران استخدام: گزینه ۲

مقام رهبری پس از مشورت با مجمع تشخیص مصلحت نظام طی حکمی به رئیس جمهور موارد اصلاح قانون اساسی را به شورای بازنگری با ترکیب زیر پیشنهاد می نماید: (۱) اعضای شورای نگهبان (۲) رؤسای قوای سه گانه (۳) اعضای ثابت مجمع تشخیص مصلحت نظام (۴) پنج نفر از اعضای مجلس خبرگان رهبری (۵) ده نفر به انتخاب مقام رهبری (۶) سه نفر از هیأت وزیران (۷) سه نفر از قوه قضائیه (۸) ده نفر از نمایندگان مجلس شورای اسلامی (۹) سه نفر از دانشگاهیان

۳۴- کدامیک از شرکت های زیر تابعه سازمان تامین اجتماعی نمی باشد؟ (Www.iranestekhdam.ir)

- (۱) شرکت سرمایه گذاری خانه ایران
(۲) شرکت پالایش نفت لاوان
(۳) آهنگ آتیه
(۴) گروه توسعه اقتصادی تدبیر

پاسخ کارشناس ایران استخدام: گزینه ۴

سازمان های تابعه تامین اجتماعی عبارتند از: شرکت سرمایه گذاری تامین اجتماعی (شستا) - بانک رفاه کارگران - تولید تجهیزات سنگین هپکو - سهامی ذوب آهن اصفهان - پالایشگاه نفت لاوان - مؤسسه خدمات بهداشتی، درمانی میلاد سلامت تهران - مؤسسه حسابرسی تامین اجتماعی - شرکت گروه پزشکی حکمت - شرکت مشاور مدیریت و خدمات ماشینی تامین - شرکت سرمایه گذاری خانه سازی ایران - شرکت آهنگ آتیه - شرکت رفاه گستر تامین اجتماعی - مؤسسه املاک و مستقالات تامین اجتماعی - مؤسسه عالی پژوهش تامین اجتماعی.

۳۵- بر اساس اصل قانون اساسی، برخورداری از تامین اجتماعی از نظر بازنشستگی، بیکاری، پیری، از کار افتادگی، بی سرپرستی، در راه ماندگی، حوادث و سوانح، نیاز به مراقبت های پزشکی به صورت بیمه و غیره، چگونه حقی است؟
(www.iranestekhdam.ir)

- (۱) اصل ۲۹- همگانی
(۲) اصل ۲۶ لازم الاجرا
(۳) اصل ۲۹- حقی که در ازای پرداخت بیمه لازم الاجرا است
(۴) اصل ۲۶- همگانی

پاسخ کارشناس ایران استخدام: گزینه ۱

اصل بیست و نهم: برخورداری از تامین اجتماعی از نظر بازنشستگی، بیکاری، پیری، از کارافتادگی، بی سرپرستی، در راه ماندگی، حوادث و سوانح و نیاز به خدمات بهداشتی و درمانی و مراقبت های پزشکی به صورت بیمه و غیره حقی است همگانی. دولت مکلف است طبق قوانین از محل درآمدهای عمومی و درآمدهای حاصل از مشارکت مردم، خدمات و حمایت های مالی فوق را برای یک فرد کشور تامین کند.

۳۶- کدام کشور آسیایی به سرزمین هزار لبخند معروف است؟ (www.iranestekhdam.ir)

- (۱) ژاپن (۲) تایلند (۳) هند (۴) کره جنوبی

پاسخ کارشناس ایران استخدام: گزینه ۲

کشور تایلند با عنوان پادشاهی تایلند شناخته می شود و عنوان تقریباً ناشناخته "سرزمین هزاران لبخند" را دارد. تقریباً در هر بروشور تبلیغاتی از تایلند تصویری از یک فرد محلی تایلندی درج شده که هنگام فروش کالاها در بازار یا انجام کار دیگری لبخند می زند. در واقع باید بگوییم که تایلندی ها همیشه لبخند می زنند. ظاهراً فرهنگ این کشور با لبخند درآمیخته شده و تقریباً در هر شرایطی شاهد لبخندی زیبا از مردم تایلند هستیم.

۳۷- علامت اختصاری سازمان تجارت جهانی کدام است و مقر آن در کجا قرار دارد؟ (www.iranestekhdam.ir)

- (۱) WTO - زوریخ (۲) WFP - وین (۳) WTO - ژنو (۴) WMO - ژنو

پاسخ کارشناس ایران استخدام: گزینه ۳

سازمان تجارت جهانی به شکل مخفف : WTO یک سازمان بین المللی است که قوانین جهانی تجارت را تنظیم و اختلافات بین اعضا را حل و فصل می کند. مقر سازمان تجارت جهانی در ژنو، سوییس قرار دارد.

۳۸- اولین مدال ایران در مسابقات المپیک توسط چه کسی بدست آمد؟ (www.iranestekhdam.ir)

- (۱) محمود نامجو (۲) امام علی حبیبی (۳) غلامرضا تختی (۴) جعفر سلماسی

پاسخ کارشناس ایران استخدام: گزینه ۴

اولین ایرانی که در مسابقات المپیک مدال گرفت جعفر سلماسی بود که در المپیک ۱۹۴۸ لندن در دسته ۶۰ کیلو وزنه برداری برنز گرفت.

۳۹- آخرین سوره ای که بر پیامبر (ص) نازل شده است، سوره است. (www.iranestekhdam.ir)

- (۱) جن (۲) توبه (۳) ناس (۴) نصر

پاسخ کارشناس ایران استخدام: گزینه ۴

در خصوص اولین آیات نازل شده سه یا پنج آیه از اول سوره علق به طور قطع با آغاز بعثت مقارن بوده است و اولین سوره کامل که بر پیامبر نازل گردیده سوره حمد است؛ اما در خصوص آخرین آیات نازل شده که پایان کار رسالت را خبر می دهد، آیه اکمال است و آخرین سوره که به طور کامل نازل شده، سوره نصر است.



۴۰- ایران با چند کشور مرز خاکی مشترکی دارد؟ ([Www.iranestekhdam.ir](http://www.iranestekhdam.ir))

(۴) ۵ کشور

(۳) ۸ کشور

(۲) ۶ کشور

(۱) ۷ کشور

پاسخ کارشناس ایران استخدام: گزینه ۱

ایران بیش از ۶۰۰۰ کیلومتر با کشورهای ترکیه، جمهوری آذربایجان، ترکمنستان، پاکستان، عراق، افغانستان و ارمنستان مرز زمینی دارد.

بخش پنجم:

هوش و توانمندی های عمومی

۴۱- علی در سال ۱۳۴۵ و رضا در سال ۱۳۴۸ متولد شده اند. اگر حسین از رضا جوان تر باشد، کدام رابطه سنی زیر بین این افراد برقرار است؟ (Www.iranestekhdam.ir)

- (۱) رضا بزرگتر از علی و کوچکتر از حسین است.
 (۲) رضا کوچکتر از علی و بزرگتر از حسین است.
 (۳) علی بزرگتر از رضا و کوچکتر از حسین است.
 (۴) علی کوچکتر از رضا و بزرگتر از حسین است.

پاسخ کارشناس ایران استخدام: گزینه ۲

با توجه به سال تولد، علی از رضا بزرگتر است و چون رضا از حسین بزرگتر است پس علی هم از حسین بزرگتر است و رضا بین این دو نفر است.

۴۲- مربع خالی را با چه عددی پر کنیم تا ترتیب کامل شود؟ (Www.iranestekhdam.ir)

۱۸	۲۰	۲۴	۳۲	
----	----	----	----	--

(۱) ۳۴ (۲) ۴۸ (۳) ۶۴ (۴) ۱۲۸

پاسخ کارشناس ایران استخدام: گزینه ۲

هر بار به عدد مربع قبلی توان های ۲ را اضافه می کنیم. ابتدا ۲ تا اضافه می کنیم، بعد ۴ تا و بعد ۸ تا و حالا باید ۱۶ تا به ۳۲ اضافه کنیم که ۴۸ حاصل می شود.

۴۳- اندازه طول سر ماهی ۹ سانتی متر و اندازه دم آن به اندازه سر به اضافه نصف تنه است، اگر تنه ماهر برابر با سر بعلاوه دم باشد، طول ماهی چند سانتی نتر است؟ (Www.iranestekhdam.ir)

- (۱) ۳۶ (۲) ۲۵ (۳) ۵۴ (۴) ۷۲

پاسخ کارشناس ایران استخدام: گزینه ۴

با قرار دادن d به جای دم ماهی و x به جای طول تنه ماهی، معادلات زیر طبق اطلاعات مسئله نوشته میشود:

$$\left\{ \begin{array}{l} d = 9 + \frac{x}{2} \\ x = 9 + d \end{array} \right. \Rightarrow x = 18 + \frac{x}{2} \Rightarrow x = 36 \text{ تنه ماهی}$$

و در نتیجه دم ماهی برابر با ۲۷ می شود. برای محاسبه طول ماهی، تنه و سر و دم را با هم جمع می کنیم:

$$36 + 27 + 9 = 72$$

۴۴- رابطه ساعت با زمان، مثل رابطه ... (Www.iranestekhdam.ir)

- (۱) هواسنج با گرما (۲) قطب نما است با قطب
 (۳) دماسنج است با دما (۴) بادنما است با باد

پاسخ کارشناس ایران استخدام: گزینه ۳

ساعت وسیله سنج زمان است و دماسنج وسیله اندازه گیری دما است، دقت کنید قطب نما و باد نما فقط جهت قطب و باد را نشان می دهند.

۴۵- در یک دایره کدام دو خط نمیتوانند موازی باشند؟ (Www.iranestekhdam.ir)

- (۱) یک شعاع و یک مماس (۲) دو مماس
 (۳) دو قطر (۴) دو وتر

پاسخ کارشناس ایران استخدام: گزینه ۳

دقت کنید دو قطر چون باید از مرکز دایره رد شوند، نمیتوانند موازی باشند و حتما دو قطر همدیگر را قطع می کنند.

۴۶- کدامیک از اعداد زیر به ۷ نزدیکتر است؟ (Www.iranestekhdam.ir)

- (۱) $\frac{50}{7}$ (۲) $6\frac{1}{8}$ (۳) $7\frac{1}{6}$ (۴) $7\frac{1}{5}$

پاسخ کارشناس ایران استخدام: گزینه ۱

$\frac{50}{7}$ برابر با $7\frac{1}{7}$ است و $\frac{1}{7}$ از $\frac{1}{6}$ کوچکتر است. اما گزینه ۴ برابر است با $7\frac{3}{20}$ که $\frac{3}{20}$ هم از $\frac{1}{7}$ بزرگتر است. بنابراین $7\frac{1}{7}$ از همه به ۷ نزدیکتر است.

۴۷- خرگوشی در طول ۵ روز ۱۰ هویج خورده است، چنانچه هر روز ۶ هویج بیشتر از روز قبل خورده باشد، روز دوم چند هویج خورده است؟ (Www.iranestekhdam.ir)

- (۱) ۱۴ (۲) ۲۰ (۳) ۲۴ (۴) ۱۶

پاسخ کارشناس ایران استخدام: گزینه ۱

البته در صورت سوال باید گفته شود، خرگوش در ۵ روز ۱۰۰ هویج می خورد. با محاسبه ۵ عدد که جمع آنها ۱۰۰ باشد و هر کدام از قبلی ۶ واحد بیشتر باشند به اعداد زیر می رسم:

$$۸ + ۱۴ + ۲۰ + ۲۶ + ۳۲ = ۱۰۰$$

بنابراین روز دوم ۱۴ هویج می خورد.

۴۸- جمع محصولات باغ سیب ۳ کشاورز در طول سال گذشته ۱۸ تن بوده است، اگر کشاورز ۳،۲ برابر کشاورز ۳ و کشاورز ۱، برابر کشاورز ۲ برداشت کرده باشد، کشاورز ۲ چند کیلو برداشت کرده است؟ (Www.iranestekhdam.ir)

- (۱) ۱۸۰۰ (۲) ۲۶۰۰ (۳) ۵۴۰۰ (۴) ۷۲۰۰

پاسخ کارشناس ایران استخدام: گزینه ۳

با قرار دادن k_1 و k_2 و k_3 به جای کشاورزان و تشکیل معادله های فوق خواهیم داشت:

$$k_2 = 3k_3 \text{ و } k_1 = 2k_2$$

از طرفی $k_1 + k_2 + k_3 = 18000$. با جایگذاری از بالا داریم:

$$2k_2 + k_2 + \frac{k_2}{3} = 18000 \quad \longrightarrow \quad \frac{10k_2}{3} = 18000 \quad k_2 = \quad \longrightarrow \quad 5400$$

۴۹- ارتباط خاصی بین اعداد روبرو برقرار است به جای علامت سوال چه عددی قرار دهیم؟

(Www.iranestekhdam.ir)

۱	۲	۱
۱	۴	۴
۱	۶	۹
۱	۹	؟

- (۱) ۹ (۲) ۴ (۳) ۱ (۴) ۶

پاسخ کارشناس ایران استخدام: گزینه ۳

اعداد سطر اول را در کنار هم بگذاریم یعنی $۱۲۱ = ۱۱۲$ و در سطر دوم $۱۴۴ = ۱۲۲$ و $۱۶۹ = ۱۳۲$ و در سطر چهارم $۱۹۶ = ۱۴۲$ خواهد بود.

بخش ششم:

آشنایی اجمالی با تامین اجتماعی



۵۰- سازمان تامین اجتماعی یک است. ([Www.iranestekhdam.ir](http://www.iranestekhdam.ir))

(۱) سازمان دولتی (۲) شرکت تعاونی (۳) نهاد عمومی غیر دولتی (۴) شرکت سهامی

۵۱- کدامیک از ارگان سازمان نمی باشند؟ ([Www.iranestekhdam.ir](http://www.iranestekhdam.ir))

(۱) هیات امناء (۲) هیات مدیره (۳) سهامداران (۴) مدیر عامل

۵۲- چند نفر از اعضای هیات امناء با پیشنهاد وزیر تعاون، کار و رفاه اجتماعی تعیین می شوند؟ ([Www.iranestekhdam.ir](http://www.iranestekhdam.ir))

(۱) ۳ (۲) ۴ (۳) ۵ (۴) ۶

بخش هفتم:

اخلاق کارگزاران / تکریم ارباب رجوع



۵۳- مهمترین تفاوت های اخلاق شغلی و اخلاق فردی چیست؟ (Www.iranestekhdam.ir)

- (۱) پیچیدگی تنوع پذیری
(۲) تخصص گرایی پیچیدگی
(۳) تنوع پذیری فردی بودن
(۴) تنوع پذیری تخصص گرایی

۵۴- وجه تمایز جهان بینی اسلام با مکاتب دیگر چیست؟ (Www.iranestekhdam.ir)

- (۱) صرفا توجه به آخرت
(۲) دنیا گریز بودن
(۳) تک بعدی بودن انسان
(۴) توجه به تمامی ابعاد انسان

۵۵- کدام گزینه در تحلیل مسئولیت پذیری فاقد اهمیت است؟ (Www.iranestekhdam.ir)

- (۱) جبر و اختیار
(۲) فرماندهی
(۳) مسئولیت در قبال اعمال
(۴) مسئولیت فرد و گروه

۵۶- کدام رفتار انسان به راحتی به دیگران سرایت می کند؟ (Www.iranestekhdam.ir)

- (۱) خنده
(۲) خوش رفتاری
(۳) خوش خلقی
(۴) خوش رویی

**سوالات عمومی آتش نشان، راننده وسایل نقلیه تندرو و سنگین،
کاردان آتش نشان آزمون استخدام آتش نشانی سال ۹۸
با پاسخ تشریحی**

بخش اول:

فناوری اطلاعات و مهارت های هفتگانه I.C.D.L

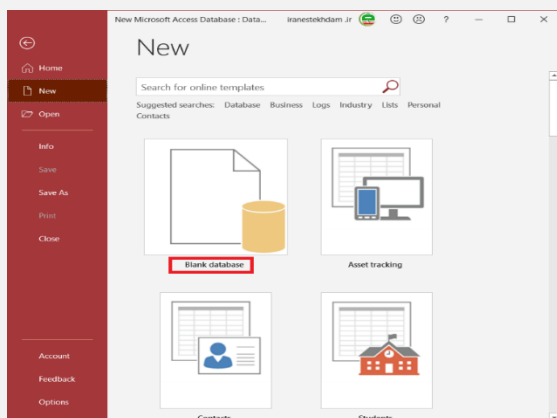
۱- پیش فرض نام فایل در برنامه اکسس چیست؟ (Www.iranestekhdam.ir)

- (۱) Document (۲) Book (۳) Dbl (۴) هیچکدام

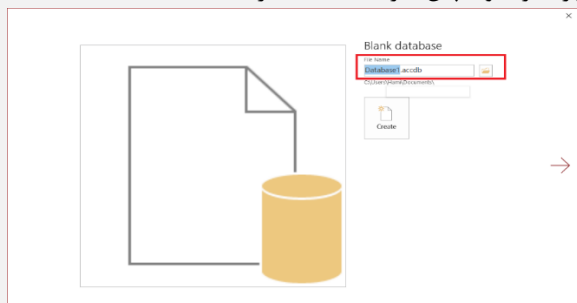
پاسخ کارشناس سایت ایران استخدام: گزینه ۴

ایجاد یک دیتابیس در اکسس:

برای ساخت دیتابیس کافی است از گزینه File وارد منوی New شوید.



با کلیک بر روی گزینه Blank database پنجره زیر باز میشود که در این قسمت میتوانید دیتابیس را نامگذاری کنید و نام پیشفرض Database می باشد با پسوند .accdb. که می توانید نام دلخواه خود را وارد کرده و سپس گزینه Create را انتخاب کنید.

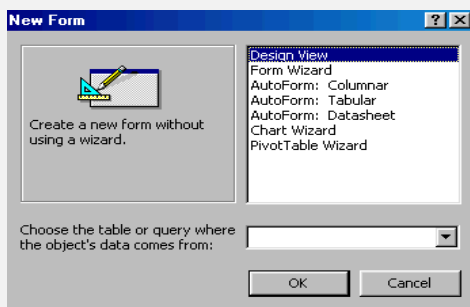


۲- سریع ترین روش ایجاد فرم در اکسس کدام است؟ (Www.iranestekhdam.ir)

- (۱) Auto Form (۲) Form Wizard (۳) Form Design (۴) هیچکدام

پاسخ کارشناس سایت ایران استخدام: گزینه ۱

AutoForm ها قابلیت ایجاد فرم از جدول و پرسو جو را به طور خودکار و سریع امکان پذیر میسازد، کفایت از قسمت New گزینه فرم یکی از AutoForm ها را انتخاب کرده و سپس در قسمت تعیین نام جدول یا پرسو جو گزینه مورد نظر را انتخاب کنیم سپس با Ok کردن فرم ایجاد میگردد.



۳- صفحه ای که در هنگام اجرای IE به طور اتوماتیک نمایش داده می شود چه نامیده می شود؟ (Www.iranestekhdam.ir)

- (۱) Home Page (۲) Startup Page (۳) Last Page (۴) Final Page

پاسخ کارشناس سایت ایران استخدام: گزینه ۱

یک صفحه خانگی (Home Page) ، صفحه وبی است که وقتی شما Internet Explorer را اجرا می کنید ، این صفحه نمایش داده میشود.

۴- شبکه داخلی یک اداره از چه نوعی است؟ (Www.iranestekhdam.ir)

- INTERNET (۴) MAN (۳) LAN (۲) WAN (۱)

پاسخ کارشناس سایت ایران استخدام: گزینه ۲

شبکه کامپیوتری LAN:

شبکه یک گروه از رایانه ها و دستگاه های جانبی می باشند که یک خط ارتباطی مشترک به شکل سیمی یا بی سیم ، به یک دستگاه مرکزی سرور متصل هستند. به طور معمول ، یک شبکه کامپیوتری LAN ، از تعدادی رایانه و لوازم جانبی متصل شده به یک مودم یا سرور در یک دفتر اداری یا خانه تشکیل شده است که به شبکه LAN، شبکه محلی یا خانگی نیز گفته می شود زیرا در یک مکان محدود و از تعداد تجهیزات محدودی تشکیل شده است.

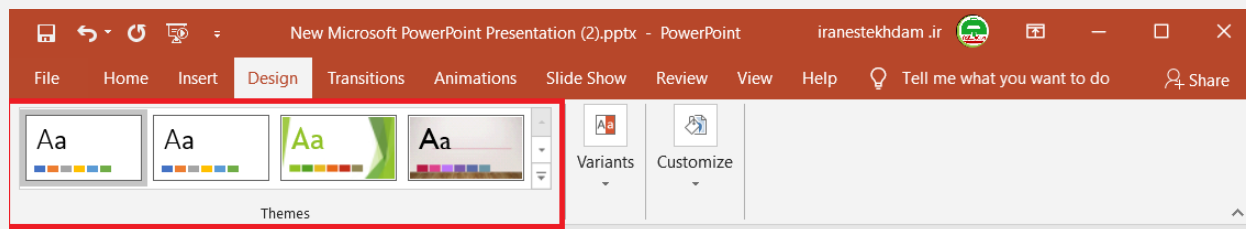
۵- برای استفاده از طرح های آماده در پاورپوینت از کدام گروه زبانه design استفاده می کنید؟ (Www.iranestekhdam.ir)

- View (۴) Paragraph (۳) Theme (۲) Font (۱)

پاسخ کارشناس سایت ایران استخدام: گزینه ۲

تغییر تم اسلایدها در پاورپوینت:

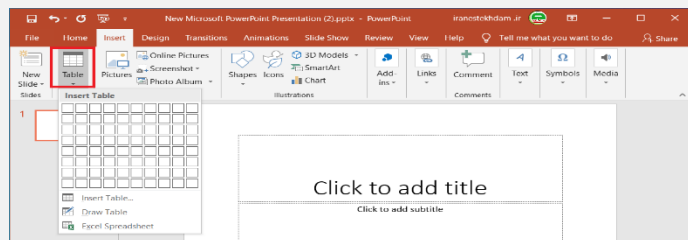
در پاورپوینت، تمها (Theme) یک راه سریع و آسان برای تغییر طراحی اسلایدها هستند. تم ها طرح های آماده از پیش تعریف شده از رنگ ها، فونت ها و افکت ها هستند. برای استفاده از تم در اسلایدهای خودتان مراحل زیر را دنبال کنید:
به سربرگ Design بروید. از گروه Theme، تم مورد نظر خود را انتخاب کنید. با کلیک بر روی مثلث پایین لیست تمها، تم های بیشتری خواهید دید. با کلیک بر روی هر کدام از تمها، تمام اسلایدهای شما از الگوی آن تم تبعیت خواهند کرد. کفایت نگاهی به اسلایدهایتان بباندازید و تغییرات آنها را ببیند.



۶- برای درج جدول در پاورپوینت از چه زبانه ای استفاده می کنیم؟ (Www.iranestekhdam.ir)

- View (۴) Insert (۳) Home (۲) Design (۱)

پاسخ کارشناس سایت ایران استخدام: گزینه ۳



یکی از روش های که برای درج جدول در پاورپوینت وجود دارد استفاده از منوی Insert است. اولین گزینه از سمت چپ درون منوی Insert، گزینه ی Table میباشد. با کلیک بر روی این گزینه منویی برای شما باز میشود و میتوانید تعداد ستونها و ردیفهای جدول را تعیین کنید.

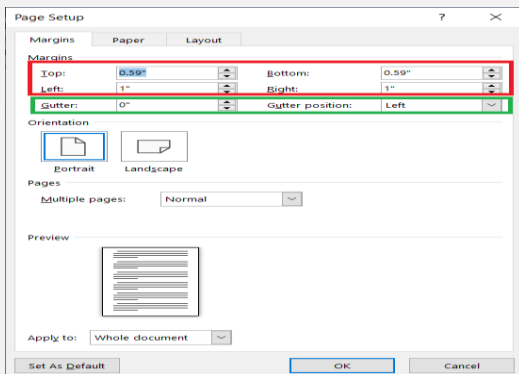
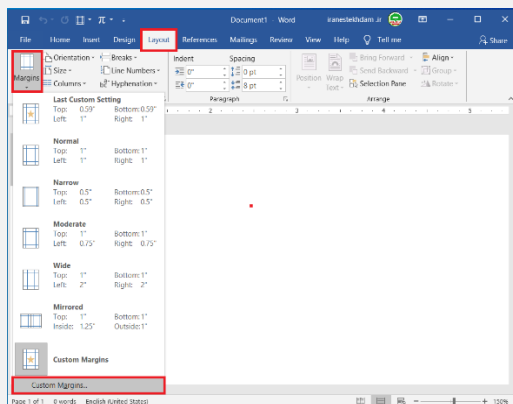
۷- برای ایجاد شیرازه در word جهت سیمی یا صحافی کردن صفحات باید را تنظیم کنیم.

(Www.iranestekhdam.ir)

- Header (۴) Gutter (۳) Footer (۲) Margin (۱)

پاسخ کارشناس سایت ایران استخدام: گزینه ۳

برای ایجاد حاشیه در ورد از تب Page Layout قسمت Page setup گزینه Margins کلیک می کنیم. در صفحه باز شده یک سری از حاشیه گذاری های پیش فرض را مشاهده می کنید. برای اندازه گذاری دلخواه می توانید از گزینه Custom Margins استفاده کنید.



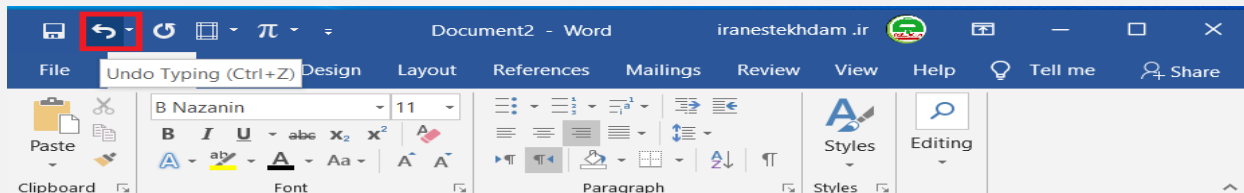
در این صفحه با استفاده از چهار گزینه Top و Right, Left, Bottom می‌توانید اندازه دلخواه در جهات مختلف را وارد کنید. از گزینه Gutter برای فاصله عمق شیرازه استفاده می‌شود. به قسمتی که سیمی می‌شود یا در یک کتاب برای صحافی به داخل میرود عمق شیرازه می‌گویند. نکته قابل توجه اینکه عددی که به عمق شیرازه می‌دهید به حاشیه‌ها اضافه می‌شود. یعنی اگر حاشیه راست ۲ و چپ ۲ باشد و شما عمق شیرازه را ۱ سانتیمتر بدهید در کتابهای فارسی حاشیه راست در صفحات فرد ۳ خواهد شد و حاشیه چپ ۲ سانتیمتر باقی خواهد ماند.

۸- کدام از دکمه‌های زیر در word معادل عمل undo می‌باشد؟ (www.iranestekhdam.ir)

- Ctrl+x (۱) Ctrl+u (۲) Ctrl+z (۳) Ctrl+y (۴)

پاسخ کارشناس سایت ایران استخدام: گزینه ۳

Undo: برای لغو کردن آخرین عملیات به کار می‌رود و کلید ترکیبی آن Ctrl+z می‌باشد.



۹- بالاترین اولویت در خواندن فرمول‌ها در اکسل کدام است؟ (www.iranestekhdam.ir)

- (۱) توان (۲) پرانتز (۳) ضرب (۴) تقسیم

پاسخ کارشناس سایت ایران استخدام: گزینه ۲

اولویت عملگرها در عبارات ریاضی و برنامه اکسل:

- ۱- اولین اولویت با محاسبه عبارت داخل پرانتز می‌باشد. (در واقع عبارت داخل پرانتز دارای بالاترین اولویت از نظر محاسبه می‌باشد)
- ۲- دومین اولویت با محاسبه درصد می‌باشد.
- ۳- سپس عدد تواندار محاسبه می‌گردد. (نماد توان می‌باشد)
- ۴- سپس ضرب و تقسیم (که از چپ به راست محاسبه می‌گردد). در برنامه اکسل هم به همین منوال می‌باشد چون برای خواندن فرمول در برنامه و ریاضی از چپ به راست عمل می‌شود.
- ۵- سپس جمع و تفریق (که از چپ به راست عمل می‌شود)

۱۰- کدامیک از موارد زیر می تواند نام یک خانه از خانه های کاربرگ اکسل باشد؟ (Www.iranestekhdam.ir)

ZZA(۴)

AZZ (۳)

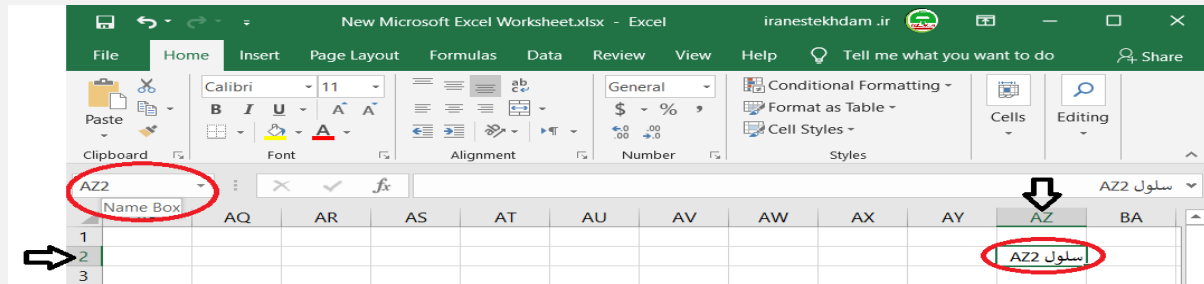
ZA (۲)

2AZ (۱)

پاسخ کارشناس سایت ایران استخدام: گزینه ۳

به صورت پیش فرض هر سلول یا محدوده اکسل یک نام منحصر به فرد دارد، نام سلول در اکسل از کنار هم قرار گرفتن شماره ستون و شماره سطر هر سلول تشکیل میگردد، به عنوان مثال سلول A1.

اگر سلول مورد نظر را انتخاب کنید نام آن را در Name Box (کادر سمت چپ نوار فرمول که تصویر آنرا مشاهده می کنید) مشاهده خواهید کرد.



۱۱- مهمترین نرم افزار روی هر سیستم که وظیفه مدیریت، کنترل و ایجاد ارتباط بین نرم افزار، سخت افزار و کاربر را دارد چه نام

دارد؟ (Www.iranestekhdam.ir)

سیستم عامل (۴)

زبان برنامه نویسی (۳)

CPU(۲)

برنامه مترجم (۱)

پاسخ کارشناس سایت ایران استخدام: گزینه ۴

سیستم عامل:

سیستم عامل بدون شک یکی از مهمترین نرم افزارها در رایانه است و به عنوان نرم افزار رابط بین کاربر و سخت افزار با روشن شدن رایانه، فعال شده و پس از آغاز به کار، محیط را برای کار با نرم افزارهای کاربردی آماده می کند. هنگام خاموش کردن نیز سیستم عامل پس از بستن همه برنامه ها، به عنوان آخرین نرم افزار کار خود را به اتمام می رساند. سیستم عامل با سازماندهی، مدیریت و کنترل منابع سخت افزاری امکان استفاده بهینه از آن ها را فراهم می کند. اکثر رایانه ها برای کار به یک سیستم عامل نیاز دارند و معمولا سیستم عامل اولین نرم افزاری است که در رایانه نصب می شود.

وظایف اصلی هر سیستم عامل عبارتند از:

مدیریت منابع: منابع یک سیستم رایانه عبارتند از: واحد پردازنده مرکزی، حافظه اصلی، وسایل ورودی/خروجی، حافظه های جانبی، داده ها و دستورالعمل ها، که سیستم عامل وظیفه مدیریت آن ها را بر عهده دارد. ایجاد سهولت جهت کار با رایانه: سیستم عامل نقش یک رابط را برای ماشین و کاربر ایفا می کند. رابط کاربر قسمتی از سیستم عامل است که توسط کاربر قابل کنترل بوده و به او اجازه می دهد از طریق آن با سیستم ارتباط برقرار کند. رابط کاربر تعیین کننده شیوه دریافت دستورات از کاربر است. رابط ها به دو شکل دستوری و گرافیکی می باشند. رابط دستوری کاربر را ملزم می سازد که دستور مورد نظرش را مستقیما با کد یا کلمات تایپ نماید. اما کار با رابط گرافیکی ساده تر و جذاب تر از رابط دستوری می باشد. رابط گرافیکی به کاربر اجازه می دهد که با استفاده از اشکال گرافیکی، عملیاتی از قبیل اجرای برنامه ها، نمایش لیستی از فایل ها و غیره را انجام دهد. اجرای برنامه های کاربردی: برنامه های کاربردی بدون وجود سیستم عامل قابل اجرا نیستند. سیستم عامل، محیط مناسب برای اجرای برنامه های کاربردی را فراهم می کند. به عنوان مثال، در اجرای یک برنامه واژه پرداز، نیاز به سیستم عاملی داریم که داده ی ورودی را بگیرد، آن را روی دیسک ذخیره کرده و متن تایپ شده را چاپ نماید.

۱۲- محتوای کدام یک از حافظه‌های زیر با قطع جریان برق پاک می‌شود؟ (Www.iranestekhdam.ir)

ROM(۱) PROM(۲) RAM(۳) EPROM (۴)

پاسخ کارشناس سایت ایران استخدام : گزینه ۳

RAM حافظه دسترسی تصادفی (Random Access Memory) کامپیوتر است که یک قطعه سخت افزاری است و امکان ذخیره و بازیافت اطلاعات را برای کامپیوتر فراهم می‌سازد. RAM برخلاف ROM یا هارد درایو یک حافظه فرار است و برای نگهداری داده‌ها به برق نیاز دارد. اگر کامپیوتر خاموش شود، تمامی داده‌های موجود در رم (RAM) از دست می‌رود.

۱۳- برای انتخاب متوالی آیکن‌ها در ویندوز، هنگام کلیک کردن چه کلیدی را پایین نگه می‌داریم؟ (Www.iranestekhdam.ir)

Alt (۱) Ctrl (۲) Shift (۳) Tab (۴)

پاسخ کارشناس سایت ایران استخدام : گزینه ۳

برای انتخاب یک گروه از پرونده‌های مجاور، روی اولین پرونده کلیک کنید. سپس کلید Shift را پایین نگه داشته و روی آخرین پرونده گروه کلیک کنید.

۱۴- میانبر معادل select all کدام است؟ (Www.iranestekhdam.ir)

Ctrl+A (۱) Alt+Z (۲) Shift + C(۳) هیچکدام (۴)

پاسخ کارشناس سایت ایران استخدام : گزینه ۱

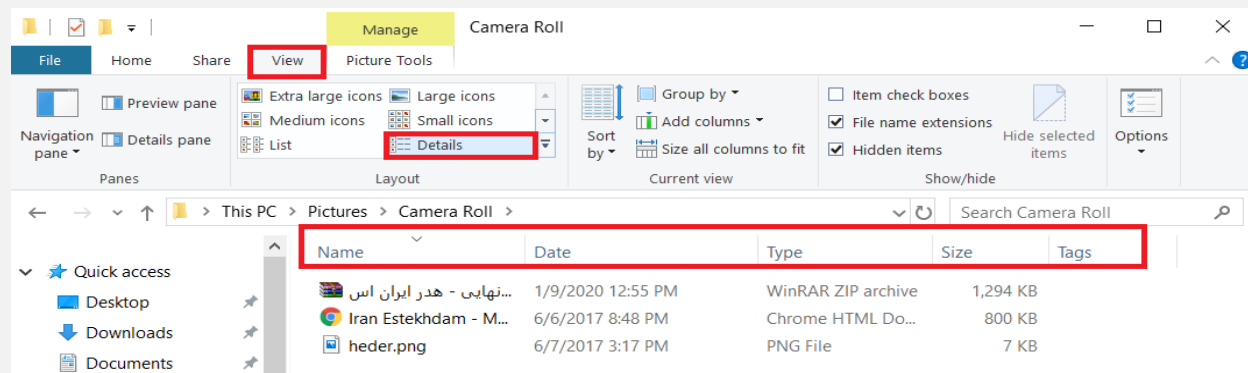
Ctrl+A: میانبر معادل select all بوده و کار آن انتخاب همه اقلام در یک پنجره می‌باشد.

۱۵- برای نمایش جزییات آیکن‌ها در ویندوز از چه نمایی استفاده می‌کنیم؟ (Www.iranestekhdam.ir)

Sort By (۱) Large Icon (۲) Details (۳) Tile (۴)

پاسخ کارشناس سایت ایران استخدام : گزینه ۳

ویندوز می‌تواند آیکونها را با نمایشهای مختلفی در هر پنجره ویندوز نشان دهد که شاید نمای Details مفیدترین روش برای مشاهده محتویات یک فولدر باشد. برای انجام این کار گزینه Details را از منوی View انتخاب کنید. محتویات فولدر در یک لیست که چند ستون دارد نشان داده می‌شود. این ستونها شامل جزئیات فایل نظیر اندازه، نوع فایل و زمانی که فایل برای آخرین بار اصلاح شده است می‌باشد.



بخش دوم:

ریاضی و آمار مقدماتی

۱۶- تابع با ضابطه $f(x) = \begin{cases} x+1 & x \geq 1 \\ ax^2 + bx & x < 1 \end{cases}$ در نقطه $x=1$ مشتق پذیر است. مقدار $a \times b$ کدام است؟
(Www.iranestekhdam.ir)

- (۱) ۲ (۲) -۲ (۳) ۳ (۴) -۳

پاسخ کارشناس سایت ایران استخدام: گزینه ۴

دو شرط برای مشتق پذیری یک تابع در یک نقطه بدین ترتیب است: اول باید تابع در آن نقطه پیوسته باشد، یعنی علاوه بر اینکه در آن نقطه حد دارد، حد آن با مقدار تابع در آن نقطه برابر باشد. دوم این که مشتق چپ و راست آن برابر باشند. در زیر این دو شرط را برای تابع اعمال می کنیم. شرط اول:

$$\lim_{x \rightarrow 1^+} x + 1 = 2 \quad \text{و} \quad \lim_{x \rightarrow 1^-} ax^2 + bx = a + b \Rightarrow a + b = 2 \quad (1)$$

و شرط دوم منجر به معادله زیر می شود:

$$f'_-(1) = 2ax + b = 2a + b$$

$$\Rightarrow 2a + b = 1 \quad (2)$$

$$f'_+(1) = 1$$

با حل معادله (۱) و (۲) در یک دستگاه، مقدار a و b به دست می آید: $a = -1$ و $b = 3$

۱۷- اگر $\lim_{x \rightarrow 3} \frac{f(x)-8}{x^2-9} = 1$ باشد، مشتق تابع $y = f^2(3\sin \pi x + 1)$ در نقطه $x=1$ کدام است؟
(Www.iranestekhdam.ir)

- (۱) 288π (۲) -288π (۳) 162π (۴) -162π

پاسخ کارشناس سایت ایران استخدام: گزینه ۲

صورت سؤال ناقص است ولی با توجه به مشتق تابع که باید به ۶ بخش پذیر باشد و این که $\cos x = -1$ است،

۱۸- اگر $f(x) = x^2 - 3x + 2$ و $g(x) = \frac{1}{x^2-5x+6}$ باشد، حاصل $f'(4)g(4) + f(4)g'(4)$ کدام است؟
(Www.iranestekhdam.ir)

- (۱) -۲ (۲) -۳ (۳) -۴ (۴) -۵

پاسخ کارشناس سایت ایران استخدام: گزینه ۱

عبارت خواسته شده همان مشتق حاصل ضرب دو تابع f و g می باشد که می توانیم اول حاصل ضرب را محاسبه کنیم و سپس مشتق بگیریم:

$$f \times g = x^2 - 3x + 2 \times \frac{1}{x^2 - 5x + 6} = (x - 3)(x - 2) = \frac{x - 1}{x - 3}$$

مشتق $\frac{x-1}{x-3}$ را محاسبه می کنیم و سپس به جای x عدد ۴ را جایگزین می کنیم:

$$\left(\frac{x-1}{x-3}\right)' = \frac{-2}{(x-3)^2} \xrightarrow{x=4} -2$$

۱۹- اختلاف مشتق چپ و راست تابع $f(x) = |ax^2 + b|$ در نقطه $x=1$ برابر ۶ است. $|a + b|$ کدام است؟
(Www.iranestekhdam.ir)

- (۱) ۱ (۲) ۲ (۳) ۳ (۴) ۴

پاسخ کارشناس سایت ایران استخدام: گزینه ۳

چون مشتق چپ و راست در نقطه $x=1$ اختلاف دارند، بنابراین $x=1$ ریشه $ax^2 + b$ است؛ یعنی داریم:

$$ax^2 + b = 0 \Rightarrow x = \pm \sqrt{\frac{b}{a}} = 1$$



که در نتیجه $a = b$ خواهد بود. حال مشتق تابع را محاسبه می‌کنیم که برابر است با $2ax$ و در نقطه $x = 1$ اختلاف مشتق چپ و راست به صورت زیر است:

$$2a - (-2a) = 6 \Rightarrow 4a = 6 \Rightarrow a = \frac{3}{2}$$

و $b = \frac{3}{2}$ و پاسخ گزینه (ج) است.

۲۰- نمودار تابع با ضابطه $f(x) = e^{ax} - 1$ ، محور x ها را با زاویه 45° قطع می‌کند. خط مماس بر تابع، در نقطه بر خورد با محور x ها از کدام یک از نقاط زیر عبور می‌کند؟ (www.iranestekhdam.ir)

- (۱) (۳ و ۳) (۲) (۲ و $\ln 2$) (۳) (۰ و ۱) (۴) ($\ln 2$ و ۳)

پاسخ کارشناس سایت ایران استخدام: گزینه ۲

Ran زاویه‌ای که با محور x ها ساخته می‌شود، همان شیب خط مماس است که برابر است با $\tan 45^\circ = 1$. از طرفی برای پیدا کردن نقطه تلاقی محور با تابع، باید $f(x)$ را برابر صفر قرار دهیم و همزمان مشتق هم برابر با $\tan 45^\circ$ خواهد بود. از این دو رابطه خواهیم داشت:

$$f'(x) = ae^{ax} = 1 \quad (I)$$

$$e^{ax} - 1 = 0 \Rightarrow e^{ax} = 1 \Rightarrow a = 0 \text{ یا } x = 0 \quad (II)$$

اگر در رابطه (II) $a = 0$ باشد، رابطه (I) به تناقض می‌رسد، بنابراین $x = 0$ است و $a = 1$ خواهد بود. با شیب ۱ و نقطه (۰ و ۱) معادله خط مماس $y = x - 1$ خواهد بود که از نقطه (۰ و ۱) عبور می‌کند.

۲۱- مقدار ماکزیموم مطلق $f(x) = x^2 + \sqrt{1 - x^2}$ تابع کدام است؟ (www.iranestekhdam.ir)

- (۱) ۱ (۲) $\frac{5}{4}$ (۳) $\frac{3}{2}$ (۴) ۲

پاسخ کارشناس سایت ایران استخدام: گزینه ۲

ابتدا باید مشتق تابع را محاسبه کنیم و ریشه‌های مشتق را به دست آوریم. با محاسبه مقدار ریشه‌های مشتق، یعنی قرار دادن ریشه‌های مشتق در تابع نقاط ماکزیمم به دست می‌آید.

$$f'(x) = 2x + \frac{-2x}{2\sqrt{1-x^2}} \Rightarrow f'(x) = 0 \Rightarrow 2x + \frac{-x}{\sqrt{1-x^2}} = 0$$

$$\Rightarrow x = \pm \frac{\sqrt{x}}{4}$$

با قرار دادن در تابع مقدار $f(x) = \frac{5}{4}$ به دست خواهد آمد.

۲۲- مساحت مثلثی که با محور y ها و مجانب‌های مایل تابع $f(x) = \sqrt{\frac{x^2+2x^2}{x+1}}$ ساخته می‌شود، کدام است؟

(www.iranestekhdam.ir)

- (۱) ۲ (۲) ۱ (۳) $\frac{1}{2}$ (۴) $\frac{1}{4}$

پاسخ کارشناس سایت ایران استخدام: گزینه ۲

البته صورت سؤال به شکل زیر تصحیح شود. تابع $f(x) = \sqrt{\frac{x^2+2x}{x+1}}$ صحیح است. برای یافتن مجانب مایل یک تابع که به صورت $y = ax + b$ است، a و b به روش استاندارد به صورت زیر محاسبه می‌شوند:

$$a = \lim_{x \rightarrow \pm\infty} \frac{f(x)}{x} \quad \text{و} \quad b = \lim_{x \rightarrow \pm\infty} (f(x) - ax)$$

به محاسبه‌ی این حدها، معادله دو خط مجانب تابع به صورت $y_1 = x + 1$ و $y_2 = -x - 1$ به دست می‌آید که نقطه تلاقی آن‌ها -1 است. x خواهد بود و مثلثی تشکیل می‌شود با ارتفاع ۱ و قاعده ۲ واحد و مساحت آن ۱ خواهد بود.



۲۳- تقعر نمودار $y = x^{\frac{4}{3}} - 8x^{\frac{1}{3}}$ در بازه (b, a) رو به پایین است. بیشترین مقدار $b - a$ کدام است؟

(Www.iranestekhdam.ir)

۲ (۱) ۳ (۲) ۴ (۳) ۴ (۴) ۵ (۴)

پاسخ کارشناس سایت ایران استخدام: گزینه ۴

تقعر تابع زمانی اتفاق می‌کند که مشتق مرتبه اول آن در آن بازه نزولی و مشتق مرتبه دوم آن منفی باشد. در این صورت تابع تقعر رو به پایین دارد. مشتقات مرتبه ۱ و ۲ تابع را به صورت زیر محاسبه می‌کنیم:

$$y' = \frac{4}{3}x^{\frac{1}{3}} - \frac{8}{3}x^{-\frac{2}{3}}$$

$$y' = 0 \Rightarrow x^{\frac{1}{3}} - 8 = 0$$

$$y'' = \frac{4}{9}x^{-\frac{2}{3}} + \frac{16}{9}x^{-\frac{5}{3}} \Rightarrow y'' = 0 \Rightarrow x^{\frac{1}{3}} + 4 = 0$$

با یافتن ریشه‌های این دو معادله و کشیدن جدول تعیین علامت، به دنبال فاصله‌ای هستیم که در آن مشتق اول و دوم هر دو منفی باشند. این بازه $(-4, -\infty)$ خواهد بود.

۲۴- اگر $f(x) = \frac{1}{x^2 - 5x + 6}$ و $g(x) = e^x$ ، حاصل حد راست تابع $g \circ f$ نقطه $x=2$ کدام است؟ (Www.iranestekhdam.ir)

۱ (صفر) ۲ (۱) ۳ (+∞) ۴ (-∞)

پاسخ کارشناس سایت ایران استخدام: گزینه ۱

ابتدا تابع $g \circ f$ را تشکیل می‌دهیم:

$$g \circ f = e^{\frac{1}{x^2 - 5x + 6}}$$

حال حد این تابع را محاسبه می‌کنیم:

$$\lim_{x \rightarrow 2^+} e^{\frac{1}{x^2 - 5x + 6}} = e^{-\infty} = \frac{1}{e^{\infty}} = 0$$

زیرا ریشه‌های مخرج توان، ۲ و ۳ است و وقتی به ۲ از سمت راست نزدیک می‌شویم، مقدار تابع $x^2 - 5x + 6$ منفی است. بنابراین $\frac{1}{x^2 - 5x + 6}$ برابر با $-\infty$ خواهد بود و حاصل حد صفر خواهد شد.

۲۵- حاصل حد روبرو کدام است؟ (Www.iranestekhdam.ir)

$$\lim_{x \rightarrow \left(\frac{\pi}{2}\right)^+} \frac{1}{1 + 3^{\tan x}}$$

۱ (صفر) ۲ (۱) ۳ (۲) ۴ ($\frac{1}{4}$)

پاسخ کارشناس سایت ایران استخدام: گزینه ۲

در حدهای یک‌طرفه، به خصوص در نقاطی که مقدار صفر یا بی‌نهایت می‌شود، باید دقت کنیم علامت صفر یا علامت بی‌نهایت چیست. در این سؤال $\tan x$ در نقطه $\frac{\pi}{2}$ وقتی از راست x به $\frac{\pi}{2}$ نزدیک می‌شود، به $-\infty$ میل می‌کند. بنابراین خواهیم داشت:

$$\lim_{x \rightarrow \left(\frac{\pi}{2}\right)^+} \frac{1}{1 + 3^{\tan x}} = \frac{1}{1 + 3^{-\infty}} = \frac{1}{1 + \frac{1}{3^{\infty}}} = \frac{1}{1 + 0} = 1$$

دقت کنید که مقدار عدد بر روی ∞ برابر صفر است.

۲۶- اگر تابع $f(x) = \begin{cases} x^2 - a & x > 1 \\ bx - 1 & x < 1 \\ 3 & x = 1 \end{cases}$ در $x=1$ پیوسته باشد. $a + b$ کدام است؟ (Www.iranestekhdam.ir)

۱ (۱-) ۲ (۱) ۳ (۲) ۴ (-۲)

پاسخ کارشناس سایت ایران استخدام: گزینه ۳



پیوستگی در یک نقطه یعنی حد چپ و راست تابع در آن نقطه موجود و با مقدار تابع در آن نقطه برابر باشند. بنابراین حد چپ و راست را محاسبه می‌کنیم و با ۳ برابر قرار می‌دهیم:

$$\Rightarrow \begin{cases} 1 - a = 3 \Rightarrow a = -2 \\ b - 1 = 3 \Rightarrow b = 4 \end{cases}$$

$$\lim_{x \rightarrow 1^+} x^2 - a = 1 - a$$

$$\lim_{x \rightarrow 1^-} bx - 1 = b - 1$$

بنابراین $a + b = 4 - 2 = 2$ خواهد بود.

۲۷- تابع $y = a[x] + [2x + 1]$ در نقطه $x=1$ پیوسته است. مقدار a کدام است؟ (Www.iranestekhdam.ir)

- (۱) ۱ (۲) -۱ (۳) ۲ (۴) صفر

پاسخ کارشناس سایت ایران استخدام: گزینه ۲

باز هم باید حد چپ و راست را محاسبه و با هم برابر قرار دهیم:

$$\lim_{x \rightarrow 1^-} a[x] + [2x + 1] = a \times 0 + [3^-] = 2$$

$$\lim_{x \rightarrow 1^+} a[x] + [2x + 1] = a \times 1 + [3^+] = a + 3$$

و خواهیم داشت: $a + 3 = 2$ و در نتیجه $a = -1$ خواهد بود.

۲۸- تابع $f(x) = \left[x \left\lfloor \frac{1}{x} \right\rfloor \right]$ در نقطه $x=1$ چگونه است؟ (Www.iranestekhdam.ir)

- (۱) پیوسته (۲) ناپیوسته و فاقد حد (۳) ناپیوسته و دارای حد (۴) پیوسته و فاقد حد

پاسخ کارشناس سایت ایران استخدام: گزینه ۱

در اطراف نقطه $x=1$ ، $\frac{1}{x}$ مثبت است بنابراین $\frac{1}{x}$ را از قدر مطلق خارج می‌کنیم:

$$f(x) = \left[x \times \frac{1}{x} \right] = [1] = 1$$

بنابراین تابع ثابت $f(x) = 1$ را خواهیم داشت که پیوسته است.

بخش سوم:

زبان و ادبیات فارسی

۲۹- کدام اثر در قالب مثنوی سروده نشده است؟ (Www.iranestekhdam.ir)

- (۱) شاهنامه فردوسی (۲) بوستان سعدی (۳) مخزن الاسرار نظامی (۴) گلستان سعدی

پاسخ کارشناس سایت ایران استخدام: گزینه ۴

گلستان سعدی نثر است. مابقی گزینه‌ها شعر و در قالب ادبی مثنوی سروده شده‌اند.

۳۰- کدام یک از جملات زیر سه جزئی گذرا به مسند است؟ (Www.iranestekhdam.ir)

- (۱) تنها ماهی دریای حق از غوطه خوردن در آب عشق و معرفت سیری ناپذیر است
(۲) لباس نظامی فوق‌العاده گشادی به تن داشت
(۳) تنوع آثار و تفاوت در مکاتب و سبک‌ها، انتخاب را بسیار مشکل می‌گرداند
(۴) ناگهان شوق تپش در دل و جانم جوشید

پاسخ کارشناس سایت ایران استخدام: گزینه ۱

تنها ماهی دریای حق از غوطه خوردن در آب عشق و معرفت سیری ناپذیر است. این جمله علاوه بر نهاد و گزاره به جزء سومی نیاز دارد که معنا را برساند و باتوجه به فعل اسنادی «است» آن جزء مسند است.

۳۱- کدام یک از گزینه‌های زیر به معنی کار بیهوده نمی‌باشد؟ (Www.iranestekhdam.ir)

- (۱) باد در مشت کردن (۲) آب در هاون کوبیدن (۳) خشت زدن (۴) باد در قفس کردن

پاسخ کارشناس سایت ایران استخدام: گزینه ۳

خشت زدن. آب در هاون کوبیدن و باد در قفس و مشت کردن کاری بیهوده است چون نه آب کوبیده می‌شود و نه باد در جایی قرار می‌گیرد.

۳۲- غزلیات شمس اثر کدام شاعر است؟ (Www.iranestekhdam.ir)

- (۱) شمس تبریزی (۲) حسام الدین چلبی (۳) مولوی (۴) شمس لنگرودی

پاسخ کارشناس سایت ایران استخدام: گزینه ۳

مولوی در سوز عشق و فراق شمس غزلیاتی برای وی سرود.

۳۳- از ویژگی‌های شعری او مسامحه‌های لفظی، مضمون‌سازی، تشبیهات تازه و تک بیت گویی است؟

(Www.iranestekhdam.ir)

- (۱) باباطاهر (۲) منوچهری دامغانی (۳) صائب تبریزی (۴) نیما یوشیج

پاسخ کارشناس سایت ایران استخدام: گزینه ۳

صائب تبریزی. وی یکی از بدیع‌گوی‌ترین شاعران بود و همیشه با تشبیهات تازه مضمون جدیدی می‌آفرید. او معروف‌ترین شاعر سبک هندی است و ویژگی‌های گفته‌شده خاص این سبک است.

۳۴- آوردن کلمات هم وزن یا دارای حرف روی یکسان و یا هم‌وزن و دارای حرف روی در پایان قرینه‌های نثر چه نام دارد؟

(Www.iranestekhdam.ir)

- (۱) مصرع (۲) قافیه (۳) سجع (۴) تلمیح

پاسخ کارشناس سایت ایران استخدام: گزینه ۳

سجع. در نثر از سجع استفاده می‌شود و قافیه در شعر به کار می‌رود. مصراع نیز جزیی از شعر است و تلمیح یکی از آرایه‌های ادبی است (اشاره به موضوعی شناخته‌شده)

۳۵- در جملهی «دریغا که ایام بر باد رفت» دریغا چه نوع کلمه‌ای است؟ (Www.iranestekhdam.ir)

- (۱) شبه جمله (۲) قید (۳) فاعل (۴) جمله

پاسخ کارشناس سایت ایران استخدام: گزینه ۲

قید. لازم به ذکر است که دریغا شبه جمله است. (صوت و مناداهایی که به‌تنهایی شبه جمله‌اند) اما این‌ها در جمله معمولن نقش قیدی دارند.

۳۶- در جملهی «به علت بارندگی خیابان لغزنده شد.» چه نوع فعلی به کار رفته است؟ (Www.iranestekhdam.ir)

- (۱) ساده (۲) فعلی (۳) اسنادی (۴) بی فعل

پاسخ کارشناس سایت ایران استخدام: گزینه ۳

اسنادی. فعل «شد» از افعال اسنادی است. در صورت حذف علت، جمله هنوز معنا دارد. (خیابان لغزنده است.)

۳۷- در جملهی «خوشبختانه استاد ما مهربان است.» خوشبختانه چه کلمه‌ای است؟ (Www.iranestekhdam.ir)

- (۱) قید (۲) فاعل (۳) صفت (۴) هیچ کدام

پاسخ کارشناس سایت ایران استخدام: گزینه ۱

قید. خوشبختانه را از جمله می‌توان حذف کرد و وجودش کل جمله را مقید می‌کند. صفت مهربانی را به حالت خوشبختی مقید می‌سازد.

۳۸- در بیت زیر به داستان بعثت کدام یک از انبیای الهی اشاره شده است؟ (Www.iranestekhdam.ir)

شب تار است و ره وادی ایمن در پیش آتش طور کجا موعد دیدار کجا

- (۱) یوسف (۲) ابراهیم (۳) موسی (۴) عیسی

پاسخ کارشناس سایت ایران استخدام: گزینه ۳

موسی. حضرت موسی در کوه طور با خدا قرار ملاقات و گفتگو داشت.

۳۹- توصیه شاعر در بیت زیر کدام است؟ (Www.iranestekhdam.ir)

نکته‌ای کان جست ناگه از زبان همچو تیری دان که جست آن از کمان

- (۱) با حزم و احتیاط سخن باید گفت (۲) بی هدف نباید تیر انداخت

(۳) سخن زشت مثل تیر دل آزار است (۴) سخن نیکو مثل تیر بر دل می‌نشیند

پاسخ کارشناس سایت ایران استخدام: گزینه ۱

با حزم و احتیاط سخن باید گفت. (کلامی که از دهان خارج می‌شود مانند تیری است که از کمان خارج شود و دیگر باز نمی‌گردد پس باید مراقب گفته‌های خود بود)

۴۰- بنای طنز بر است. (Www.iranestekhdam.ir)

- (۱) خنده و شوخی (۲) شوخی و مسخرگی (۳) رکاکت لفظ و دشنام (۴) خنده تلخ و ???

پاسخ کارشناس سایت ایران استخدام: گزینه ۴

با اینکه جزء دوم گزینه مشخص نیست اما خنده‌ی تلخ از ریشه‌های اصلی طنز است. برای بیان مطلبی که قصد اصلاح دارد و صرفن برای خندانیدن نیست. پس خنده و شوخی و مسخرگی ویژگی بارز طنز نیست و رکاکت لفظ و دشنام نیز در دسته‌ی هجو قرار می‌گیرد.

۴۱- مکابره یعنی: (Www.iranestekhdam.ir)

- (۱) رنج کشیدن (۲) بیم و رجا (۳) ترسناکی (۴) قهر و غلبه

پاسخ کارشناس سایت ایران استخدام: گزینه ۴



قهر و غلبه

۴۲- مفهوم کدام گزینه با گزینه‌های دیگر متفاوت است؟ ([Www.iranestekhdam.ir](http://www.iranestekhdam.ir))

- (۱) عنان اسب بازداشتن
(۲) عجب و تکبر به یک سوی نهادن
(۳) از ذره کبریا قدمی فروتر نهادن
(۴) عنان عظمت کشیده داشتن

پاسخ کارشناس سایت ایران استخدام: گزینه ۴

گزینه درست: الف. عنان اسب بازداشتن. این گزینه ربطی به دیگر گزینه‌ها که گویای فروتنی و تواضع است، ندارد.

بخش چهارم:

معارف اسلامی

۴۳- مفهوم بیت «گر توکل می کنی در کار کن / کشت کن پس تکیه بر جبار کن» چیست؟ (Www.iranestekhdam.ir)

- ۱) امداد خاص الهی به توکل کنندگان اهل معرفت، اخلاص و ایمان به خدا.
- ۲) توکل کنندگان حقیقی کسانی هستند که پیش از هرگونه فکر و مشورت بر خدا توکل میکنند.
- ۳) سرباری توکل کنندگانی که اهل کار و فعالیت هستند.
- ۴) توکل در جایی درست است که انسان مسئولیت و وظیفه‌ی خود را به خوبی انجام دهد.

پاسخ کارشناس سایت ایران استخدام: گزینه ۴

شرایط توکل حقیقی

توکل کردن فقط به معنای گفتن جمله ی «خدایا، بر تو توکل می کنم» نیست. بلکه انسان باید در قلب خود بر خدا توکل کند و واقعاً او را تکیه گاه خود ببیند.

نکته: توکل امری قلبی است نه لفظی.

اگر این گونه باشیم (یعنی بصورت قلبی بر خداوند توکل کنیم)، خداوند کارهای ما را به بهترین وجه چاره خواهد کرد و آن چیزی را که حقیقتاً به نفع ماست پیش خواهد آورد.

خداوند آینده هایی را می بیند که ما نمی بینیم و به مصلحت هایی توجه دارد که ما درک نمی کنیم. گاهی چیزهایی را به نفع خود می پنداریم در حالی که به ضرر ماست، یا اموری را به ضرر خود می دانیم در حالی که به نفع ماست.

بنابراین شایسته است که با اخلاص بر خدا اعتماد کنیم و بدانیم که هیچ قدرتی در جهان مانع چاره سازی خدا نیست.

امام صادق (ع) فرمود:

خداوند به داود (ع) وحی کرد هر بنده ای از بندگانش به جای پناه بردن به دیگری با نیت خالص به من پناه آورد، از کارش چاره جویی می کنم، گرچه همه ی آسمان ها و زمین و هرچه در آن هاست، علیه او برخیزند.

مفهوم حدیث: توکل باید با خلاص همراه باشد.

توکل در جایی درست است که انسان مسئولیت و وظیفه‌ی خود را به خوبی انجام دهد، یعنی:

۱. فکر و اندیشه ی خود را به کار گیرد،
 ۲. با دیگران مشورت کند،
 ۳. بهترین راه ممکن را انتخاب نماید و
 ۴. با عزم و اراده ی محکم برای رسیدن به مقصود تلاش کند.
- در این صورت است که می توان بر خدا توکل کرد. زیرا توکل، جانشین تنبلی و ندانم کاری افراد نیست بلکه کمک کننده و امیددهنده به کسی است که اهل همت، تعقل و پشتکار است.
- روزی، پیامبر اکرم (ص) به مردمی برخورد که اهل کار و فعالیت نبودند. به آنان فرمود:
- شما چگونه مردمی هستید؟
- گفتند: ما توکل کنندگان بر خدا هستیم.
- فرمود: نه، بلکه شما سربار دیگران هستید.
- مثنوی مولوی:

گر توکل می کنی در کار کن کشت کن پس تکیه بر جبار کن

نتیجه این که اگر می خواهی توکل کنی، در کار و سعی و عمل توکل کن. اول کشت کن، سپس بر خدا توکل کن.

ارتباط

۱. آیه: «... وَ شاورَهُمْ فِي الْأَمْرِ فَإِذَا عَزَمْتَ فَتَوَكَّلْ عَلَى اللَّهِ...»

۲. روایت: «روزی، پیامبر اکرم (ص) به مردمی برخورد که اهل کار و فعالیت نبودند...»

۳. بیت: «گر توکل می کنی در کار کن کشت کن پس تکیه بر جبار کن»

مفهوم همه‌ی موارد فوق: توکل در جایی درست است که انسان مسئولیت و وظیفه‌ی خود را به خوبی انجام دهد.

۴۴- کفاره ابطال روزه "با قسم دروغ بر خدا و پیامبر" و ره آورد توجه به تامین معاش از درآمد حلال در ماه مبارک رمضان کدام

است؟ (Www.iranestekhdam.ir)

- (۱) به جا آوردن دو ماه روزه و اطعام شصت فقیر - یاد خدا
- (۲) به جا آوردن دو ماه روزه یا اطعام شصت فقیر - تقوا
- (۳) به جا آوردن دو ماه روزه و اطعام شصت فقیر - تقوا
- (۴) به جا آوردن دو ماه روزه یا اطعام شصت فقیر - یاد خدا

پاسخ کارشناس سایت ایران استخدام: گزینه ۳

پاسخ قسمت اول سوال:

اگر کسی روزه ی ماه رمضان را عمدتاً نگیرد، باید:

۱. هم قضای آن را به جا آورد
۲. و هم «کفاره» بدهد. (یعنی برای هر روز دو ماه روزه بگیرد یا به شصت فقیر طعام دهد (به هر فقیر یک مُدّ) و این کار باید تا رمضان آینده انجام شود.)

اگر کسی به چیز حرامی روزه‌ی خود را باطل کند، مثلاً دروغی را به خدا نسبت دهد، کفاره‌ی جمع بر او واجب می شود. یعنی باید هر دو کفاره ی یاد شده را انجام بدهد. (به ازای هر روز: دو ماه روزه بگیرد + شصت فقیر را غذا بدهد.) پس "به جا آوردن دو ماه روزه و اطعام شصت فقیر" صحیح می باشد.

البته اگر هر دو برایش ممکن نباشد، می تواند هر کدام را که ممکن است، انجام دهد.

پاسخ قسمت دوم سوال:

روزه و تقویت تقوا

گفتیم که میزان موفقیت انسان در رسیدن به هدف های بزرگ، به میزان تسلط او بر خویش، خودنگهداری و «تقوا»ست و هر قدر هدف بزرگ تر باشد، تقوای بیشتری می طلبد.

روان شناسان و کارشناسان تربیت، کارهایی برای تسلط بر خود پیشنهاد کرده اند تا افراد بتوانند به موفقیت در درس، ورزش، کسب و کار و مانند آن برسند.

اما خداوند، انسان را به عملی راهنمایی می کند که اگر آن را به درستی و با معرفت انجام دهد، چنان قدرت و تسلطی بر خود پیدا می کند که می تواند موانع درونی را کنار بزند و گام های موفقیت به سوی برترین هدف های زندگی را به خوبی بردارد. و این عمل، «روزه» است.

روزه، مصداق کامل تمرین صبر و پایداری در برابر خواهش های دل است؛

۱. کسی که یک ماه گرسنگی روزانه را تحمل کند و در عین حال که میل به آب و غذا دارد، به سوی آن نرود،
 ۲. کسی که یک ماه چشم خود را از گناه حفظ کند،
 ۳. کسی که یک ماه زبان خود را از دروغ و غیبت نگه دارد،
 ۴. کسی که یک ماه گوش خود را از شنیدن بدی ها بازدارد،
 ۵. کسی که یک ماه تمرین خوشرویی و خوش رفتاری با مردم نماید،
 ۶. کسی که یک ماه تمرین کرده، از حجاب و پوشش خود به خوبی مراقبت کند،
 ۷. کسی که یک ماه بکوشد به دیگران ستم نکند و مردم را از خود نرنجاند،
 ۸. کسی که یک ماه مواظب باشد غذای سحری و افطاری او از درآمد پاک و حلال باشد،
- چنین کسی، پس از یک ماه، به تسلطی بر خود می رسد که قبل از ماه رمضان آن تسلط را نداشت و اگر هر سال یک ماه این عمل را تکرار کند، سال به سال خود نگهدارتر و باتقواتر می شود.

۴۵- بر اساس تعالیم ناب اسلام موارد مطروحه در کدام گزینه همگی جزء محارم نسبی برای یک مرد محسوب می شود؟

(www.iranestekhdam.ir)

- | | |
|--|--|
| (۱) عمه و عمه پدر و مادر، خاله و دختران خاله | (۲) نوه های دختری پسر، دختر خواهر و نوه های او |
| (۳) دختر برادر، همسر برادر و نوه های دختری پسر | (۴) مادر بزرگ و مادرزن، دختر و نوه های دختر |

پاسخ کارشناس سایت ایران استخدام: گزینه ۲

محارم نسبی (خونی)

خویشاوندی نسبی عبارت است از خویشاوندی که از تولد یکی از دیگری حاصل شود یا دو نفر که از یک منشا به وجود آمده باشند.

محارم مرد:

ازدواج مرد با این افراد حرام است:

- مادر، مادر بزرگ مادری و پدری، به بالا

- دختر، نوه‌های دختری و پسری به پایین

- خواهر

- دختر برادر و خواهر، و نوادگان آنها

- عمه و خاله، و عمه‌ها و خاله‌های پدر و مادر، و عمه و خاله جد‌ها

در گزینه ۱: دختران خاله اشتباه می باشد.

در گزینه ۳: همسر برادر اشتباه می باشد.

در گزینه ۴: مادرزن اشتباه می باشد چون محارم نسبی (خونی) مطرح است نه محارم سببی.

۴۶- سنگ محک مقبولیت گفته‌ها و راهنمایی‌های انبیاء الهی توسط مردم و اعتماد به آنان چیست؟

(www.iranestekhdam.ir)

(۱) معجزه (۲) عدالت (۳) وحی (۴) عصمت

پاسخ کارشناس سایت ایران استخدام: گزینه ۴

ویژگی‌های پیامبران

وحی

کلمه وحی در قرآن کریم برای موارد مختلف به کار رفته و اختصاص به پیامبران ندارد.

اما عالی‌ترین درجه آن که مخصوص پیامبران است، به معنای القای معانی و معارف به قلب پیامبر از سوی خداوند و سخن گفتن خداوند و جبرئیل با اوست.

از طریق وحی برنامه هدایت الهی به پیامبران داده می‌شد و آنان این برنامه را به مردم ابلاغ می کردند.

اعجاز

پیامبران از جانب خداوند، کارهای خارق العاده‌ای انجام می‌دهند که هیچ کس نمی‌تواند مانند آن را انجام دهد. تا مردم دریابند که آنان با خداوند ارتباط دارند و از طرف او مأمور به پیامبری شده اند.

قرآن کریم این آثار خارق العاده را «آیت» یعنی نشانه و علامت نبوت می‌خواند و دانشمندان اسلامی آن را معجزه می نامند.

زیرا عجز و ناتوانی سایر افراد را در انجام این امور آشکار می سازد.

عصمت

پیامبر زمانی می‌تواند مسئولیت خود را به درستی انجام دهد که تحت تأثیر هواهای نفسانی قرار نگیرد و مرتکب گناه و خطا نگردد.

مردم نیز زمانی گفته‌ها و هدایت‌های وی را می‌پذیرند که مطمئن باشند هیچ گاه مرتکب گناه و اشتباه نمی‌شود.

اگر آنان احتمال دهند که پیامبرشان گناه می‌کند و دچار خطا می‌شود، به او اعتماد نمی‌کنند و از وی پیروی نخواهند کرد.

بنابراین، پیامبران نه تنها باید در اجرای مأموریت خود از گناه و اشتباه مصون باشند بلکه این عصمت باید در مجموعه رفتارهای آنان متجلی شود.

توجه: کلید واژه این سوال انتهای سوال می باشد که نوشته شده اعتماد به آنان، که اگر نبود اعتماد نمی کردن. که مشخصا در تعریف عصمت از اعتماد سخن گفته شده است.

۴۷- اگر از فرهنگ فطرت پسند اسلام جوای مهم‌ترین معیار همسر شایسته باشیم کدام ویژگی را معرفی نموده و حکم ازدواج با

فردی که فاقد آن است چیست؟ (www.iranestekhdam.ir)

(۱) ایمان-کراهت (۲) اسلام-کراهت (۳) اسلام-حرام (۴) ایمان-حرام

پاسخ کارشناس سایت ایران استخدام: گزینه ۴

معیارهای همسر شایسته

اولین قدم برای تشکیل خانواده، انتخاب همسر خوب است.

هرگونه سهل انگاری و تصمیم گیری عجولانه که بیش تر تحت تأثیر احساسات یا اجبار و تحمیل بستگان و دوستان صورت می گیرد، پشیمانی بعدی را به دنبال دارد.

از نظر قرآن کریم، مهم ترین معیار همسر شایسته، با ایمان بودن اوست. اگر این معیار در فردی وجود نداشته باشد، ازدواج با او حرام می شود. هر قدر ایمان یک فرد قوی تر باشد، شایستگی او برای همسری بیش تر است.

وَلَا تُنكِحُوا الْمُشْرِكَاتِ: و با زنان مشرک، ازدواج نکنید

حَتَّىٰ يُؤْمِنَ: تا ایمان آورند

وَلَا تُنكِحُوا الْمُشْرِكِينَ: و به مردان مشرک زن ندهید

حَتَّىٰ يُؤْمِنُوا: تا ایمان آورند

(سوره بقره - آیه ۲۲۱)

۴۸- تفکر اصیل اسلام راستین چیست و احیای ارزشهای آن توسط امام کاظم (ع) با چه شیوه‌ای صورت پذیرفت؟

(Www.iranestekhdam.ir)

(۱) تشیع - آگاهی بخشی

(۲) تشیع - تقیه

(۳) تفقه - تقیه

(۴) تفقه - آگاهی بخشی

پاسخ کارشناس سایت ایران استخدام: گزینه ۲

انتخاب شیوه‌های درست مبارزه

امامان شیوه مبارزه با حاکمان را متناسب با شرایط زمان برمی‌گزیدند؛ به گونه‌ای که هم تفکر اصیل اسلام راستین - یعنی تشیع - باقی بماند و هم به تدریج، بنای ظلم و جور بنی‌امیه و بنی‌عباس سست شود، در عین حال، روش زندگی امامان، به عنوان اسلام حقیقی، به نسل‌های آینده معرفی گردد.

آنان می‌کوشیدند آن بخش از اقدامات و مبارزات خود را که دشمن به آن حساسیت دارد، در قالب «تقیه» به پیش ببرند.

یعنی اقدامات خود را مخفی نگه دارند، به گونه‌ای که در عین ضربه زدن به دشمن، کمتر ضربه بخورند.

از جمله این موارد، ارتباط میان امامان و یاران آن‌ها از نقاط مختلف سرزمین اسلامی بود.

امامان ما با مخفی نگه داشتن این ارتباط نمی‌گذاشتند حاکمان بنی‌امیه و بنی‌عباس، این یاران صمیمی، قابل اعتماد و فداکار را شناسایی کنند و به شهادت برسانند.

شیوه مبارزه امام کاظم(ع)

دوره امام کاظم(ع) دوره شدت اختناق بود اما ایشان دست از مبارزه برنداشت و آن را به صورت مخفیانه و در قالب «تقیه» ادامه داد و به تربیت شیعیان پرداخت. آن حضرت سال‌های طولانی را نیز در زندان‌ها به سر برد.

۴۹- تحقق انسداد راه تداوم غیبت که بازتابش منور شدن دیدگان مشتاقان بر جمال مهدی موعود «عج» می‌باشد، چیست؟

(Www.iranestekhdam.ir)

(۱) قدرشناسی و سپاسگزار بودن مردم، تحولات معنوی و درونی آنان و رفع موانع خطر از جان حضرت

(۲) آماده باش جامعه اسلامی برای بهره‌مندی از آخرین حجت، تغییرات درونی مردم و محبت کامل به امام زمان (عج)

(۳) رفع موانع خطر از جان حضرت، شایستگی جامعه انسانی برای ظهور و ناسپاس نبودن مردم

(۴) قدرشناسی و سپاسگزاری مردم، محبت و معرفت کامل به امام زمان و دعا برای ظهور

پاسخ کارشناس سایت ایران استخدام: گزینه ۳

علت غیبت امام مهدی(ع) چیست؟

علت نخست: سخت گیری و نقشه حاکمان بنی‌عباس در شهادت حضرت مهدی(عج)

پیامبر اکرم(ص) در زمان حیات، درباره دوازده جانشین و امام بعد از خود با مردم سخن گفته بود و حضرت مهدی(ع) را معرفی کرده بود.

امیرالمؤمنین و سایر امامان نیز درباره امام زمان و رسالتی که برعهده دارد، یاد کرده بودند.

از این رو حاکمان بنی‌عباس درصدد بودند که مهدی موعود(ع) را به محض تولد از بین ببرند. آنان امام دهم و سپس امام یازدهم و خانواده ایشان را در محله‌ای نظامی در شهر سامرا منزل دادند و رفت و آمدهای آنان را زیرنظر گرفتند تا در صورت امکان، امام دوازدهم را در همان کودکی به شهادت برسانند.

علت دوم: عدم آمادگی مردم برای ظهور حضرت مهدی(عج)

به سبب این قدرناشناسی و ناسپاسی و در خطر بودن جان آن حضرت، خداوند آخرین ذخیره و حجت خود را از نظرها پنهان کرد تا امامت در شکلی جدید و از پس پرده غیبت ادامه یابد.

ادامه یافتن این غیبت نیز بر اثر ماندن همان شرایط و عدم آمادگی مردم برای ظهور می‌باشد.

این غیبت آن‌قدر ادامه می‌یابد که نه‌تنها مسلمانان، بلکه جامعه انسانی (یعنی کل جهان) شایستگی درک ظهور و بهره‌مندی کامل از وجود آخرین حجت الهی را پیدا کند.

در آن زمان، بشریت عملی شدن وعده‌های الهی در مورد حکومت صالحان و برپایی عدالت جهانی را به چشم خواهد دید.

- دوران غیبت چه زمانی پایان می‌یابد؟

تعیین زمان ظهور در اختیار خداست و کسی جز او از آن آگاهی ندارد.

آنچه برای ظهور لازم است:

۱. احساس نیاز جهانی به کمک الهی،

۲. ناامیدی از همه مکتب‌های غیرالهی

۳. و آمادگی لازم پیروان و یاران امام برای همکاری با ایشان است

و از این امور جز خداوند، کس دیگری آگاهی ندارد.

۵۰- از استماع آیه شریفه « **إِنَّمَا وَلِيُّكُمُ اللَّهُ وَرَسُولُهُ وَالَّذِينَ آمَنُوا الَّذِينَ يُقِيمُونَ الصَّلَاةَ وَيُؤْتُونَ الزَّكَاةَ وَهُمْ رَاكِعُونَ** » از بیان مبارک

رسول اکرم (ص) کدام حقیقت به منصفه ظهور می‌رسد؟ (www.iranestekhdam.ir)

(۱) انحصار حق تصرف و سرپرستی مسلمانان به خدا و پیامبر (ص) و امامان بر حق از جانشینان ایشان

(۲) استمرار حرکت تکاملی انسان در اقامه نماز و اعیان زکات و استقامت بر رکوع و سجود

(۳) استقبال از ولایت خدا و رسول(ص) رمز استمرار حاکمیت جامعه اسلامی در تمام ادوار

(۴) احتیاج ذاتی انسان به ولایت خدا و رسولان و جانشینان بر حق ایشان

پاسخ کارشناس سایت ایران استخدام: گزینه ۱

نزول آیه ولایت

در یکی از روزها، نزدیک ظهر، فرشته وحی آمد و از جانب خداوند آیه‌ای آورد که در آن ویژگی‌های ولیّ و سرپرست مسلمانان مشخص شده بود. در این آیه، ابتدا خداوند و سپس پیامبر و پس از ایشان کسی به عنوان ولیّ معرفی شده بود که به خدا ایمان دارد (۱)، نماز را برپا می‌دارد (۲) و در حال رکوع صدقه می‌دهد(۳).

هنگامی که رسول خدا(ص) دریافت که چنین واقعه‌ای رخ داده است و کسی در رکوع صدقه داده و خداوند قصد معرفی او را دارد، با شتاب و در حالی که آیه را می‌خواند و مردم را از آن آگاه می‌کرد، به مسجد آمد و پرسید:

آیا کسی در حال رکوع صدقه داده است؟

فقیری که انگشتری در دست داشت، به حضرت علی(ع) که در حال نماز بود، اشاره کرد و گفت:

آری، این مرد در حال رکوع، انگشتری خود را به من بخشید.

صدای تکبیر یاران بلند شد و رسول خدا(ص) ستایش و سپاس خداوند را به جا آورد.

نزول این آیه در هنگام انجام واقعه‌ای که مردم ناظر آن بودند و اعلام این حقیقت از جانب رسول خدا(ص) که مصداق آیه امام علی(ع) است، برای آن بود که مردم به چشم خود ببینند و از زبان پیامبر بشنوند و امکان کتمان و مخفی کردن آن از بین برود.

ترجمه آیه:

إِنَّمَا وَلِيُّكُمُ اللَّهُ وَرَسُولُهُ: ولیّ و سرپرست شما، تنها خداوند و پیامبرش

وَالَّذِينَ آمَنُوا: و مؤمنانی هستند

الَّذِينَ يُقِيمُونَ الصَّلَاةَ: که نماز را برپا می‌دارند

و يُؤْتُونَ الزَّكَاةَ؛ و زکات می دهند
و هُمْ رَاكِعُونَ: در حالی که رکوع می کنند
(سوره مائده - آیه ۵۵)

پیام اصلی: آیه ولایت

این آیه وقتی نازل شد که حضرت علی(ع) در رکوع انگشتر خود را به فقیر داد. (يُؤْتُونَ الزَّكَاةَ وَ هُمْ رَاكِعُونَ)
برای توجه به محرومان، نماز هم مانع نیست. (يُؤْتُونَ الزَّكَاةَ وَ هُمْ رَاكِعُونَ) (آری، فقیر نباید از جمع مسلمانان دست خالی برگردد).
ولایت از آن کسی است که نسبت به اقامه نماز و پراخت زکات پایدار باشد. (يُقِيمُونَ الصَّلَاةَ وَ يُؤْتُونَ...) («يُقِيمُونَ» و «يُؤْتُونَ» نشانه دوام هستند).
ولایت‌ها در طول یک‌دیگرند، نه در عرض یک‌دیگر. ولایت بر مسلمانان، ابتدا از آن خداوند است، سپس پیامبر، آنگاه امام. (إِنَّمَا وَلِيُّكُمُ اللَّهُ وَ رَسُولُهُوَ
وَالَّذِينَ ءَامَنُوا...)

۵۱- موجودات جهان از حیث "خلق و ایجاد" و "نقش و جایگاه" به ترتیب چگونه‌اند و کدام شاهد وحیانی مهر تاییدی بر دومین آنهاست؟ (www.iranestekhdam.ir)

- ۱) مقدر به تقدیر الهی - مقضی به قضای الهی - «قَدْ جَاءَكُمْ بَصَائِرٌ مِنْ رَبِّكُمْ»
- ۲) مقضی به قضای الهی - مقدر به تقدیر الهی - «لَا الشَّمْسُ يَنْبَغِي لَهَا أَنْ تُدْرِكَ الْقَمَرَ»
- ۳) مقدر به تقدیر الهی - مقدر به تقدیر الهی - «لَا الشَّمْسُ يَنْبَغِي لَهَا أَنْ تُدْرِكَ الْقَمَرَ»
- ۴) مقضی به قضای الهی - مقضی به قضای الهی - «قَدْ جَاءَكُمْ بَصَائِرٌ مِنْ رَبِّكُمْ»

پاسخ کارشناس سایت ایران استخدام: گزینه ۲

قضا و قدر الهی

قدر الهی

«تقدیر» به معنای «اندازه گرفتن» است.

«قدر» و «قَدْر» نیز به معنای «اندازه» هستند.

موجودات جهان، از آن جهت که خداوند متعال حدود، اندازه، ویژگی، موقعیت مکانی و زمانی آنها را تعیین می‌کند، مقدر به تقدیر الهی هستند.
آیه ۱:

إِنَّ اللَّهَ يُمَسِّكُ: همانا خداوند نگه می‌دارد

السَّمَاوَاتِ وَالْأَرْضِ: آسمان‌ها و زمین را

أَنْ تَزُولَا: از منحرف شدن

وَلِئِنْ زَالَتَا: و اگر منحرف شوند

إِنْ أَمْسَكْتَهُمَا: نگه نمی‌دارد آن دو را

مِنْ أَحَدٍ مِنْ بَعْدِهِ: هیچ کسی بعد از او

أَنْتَهُوَ كَانَ حَلِيمًا غَفُورًا: اوست بردبار آمرزنده

(سوره‌ی فاطر - آیه ۴۱)

پیام اصلی: تقدیر الهی (إِنَّ اللَّهَ يُمَسِّكُ... أَنْ تَزُولَا)

آیه ۲:

لَا الشَّمْسُ يَنْبَغِي لَهَا: نه خورشید را سزد

أَنْ تُدْرِكَ الْقَمَرَ: که به ماه رسد

وَلَا اللَّيْلُ سَابِقُ النَّهَارِ: و نه شب بر روز پیشی جوید

وَكُلٌّ فِي فَلَكٍ يَسْبَحُونَ: و همه در مداری در گردشند.

(سوره‌ی یس - آیه ۴۰)

پیام اصلی: تقدیر الهی

قضای الهی

«قضا» به معنای «به انجام رساندن، پایان دادن، حکم کردن، و حتمیت بخشیدن» است.

موجودات جهان از آن جهت که با حکم و فرمان و اراده الهی ایجاد می‌شوند، مربوط به قضای الهی هستند.
آیه ۱:

هُوَ الَّذِي يُحْيِي وَيُمِيتُ: اوست که زنده کند و بمیراند
فَإِذَا قُضِيَ أَمْرًا: و چون به کاری حکم کند
فَأَنَّمَا يَقُولُ لَهُ: پس به آن می‌گوید
كُنْ فَيَكُونُ: باش، پس می‌باشد
(سوره‌ی غافر - آیه ۶۸)

پیام اصلی: قضای الهی (كُنْ فَيَكُونُ)

آیه ۲:

اللَّهُ الَّذِي سَخَّرَ لَكُمْ الْبَحْرَ: خداوند کسی است که دریا را برای شما رام کرد
لِتَجْرِيَ الْفُلُكُ فِيهِ بِأَمْرِهِ: تا به فرمان او کشتی‌ها در آن جریان پیدا کنند
وَلِتَبْتَغُوا مِنْ فَضْلِهِ: و تا از فضل او جستجو کنید
وَلَعَلَّكُمْ تَشْكُرُونَ: و شاید شکرگذاری کنید
(سوره‌ی جائیه - آیه ۱۲)

پیام اصلی: قضای الهی (بِأَمْرِهِ)

۵۲- تعبیر قرآنی به معنای هدیه و پیشکش که به عنوان «مهر» شناخته می‌شود، چه نام دارد و آیه‌ی شریفه‌ی «وَقَضَىٰ رَبُّكَ أَلَّا تَعْبُدُوا إِلَّا إِيَّاهُ وَبِالْوَالِدَيْنِ إِحْسَانًا إِمَّا يَبْلُغَنَّ عِنْدَكَ الْكِبَرَ أَحَدُهُمَا أَوْ كِلَاهُمَا ...» بیانگر چه می‌باشد؟ ([Www.iranestekhdam.ir](http://www.iranestekhdam.ir))

- ۱) «صداق» - لزوم پرهیز از راندن والدین از پیش خود و کریمانه سخن گفتن با آنان از سوی فرزندان
- ۲) «نحله» - بخشیده شدن گناهان فرزندان به سبب نیکی و احترام نسبت به والدین به هنگام پیری
- ۳) «نحله» - لزوم پرهیز از بیان سخنان ناخوشایند از سوی فرزند به والدین مسن
- ۴) «نحله» - اهمیت بالای موضوع نیکی به والدین به حدی که بلافاصله پس از توحید آمده است.

پاسخ کارشناس سایت ایران استخدام: گزینه ۳

پاسخ قسمت اول سوال:

در پیمان زناشویی، مرد به نشانه ارزشی که برای زن قائل است و اعلام صداقت خود در محبت به همسر، متعهد می‌شود که هدیه‌ای را به عنوان «مهر» به زن تقدیم کند.

قرآن کریم از دو کلمه «نِحْلَةٌ» و «صِدَاق» برای مهر استفاده کرده است.

نحله به معنای هدیه و پیشکش و صداق به معنای نشانه صداقت و راستی است.

بنابراین، مهر و محبت پشتوانه اصلی تحکیم خانواده است نه مهریه که جنبه اقتصادی و مالی دارد.

پاسخ قسمت دوم سوال:

وَقَضَىٰ رَبُّكَ: پروردگارت مقرر داشت

أَلَّا تَعْبُدُوا إِلَّا إِيَّاهُ: که جز او را نپرستید

وَبِالْوَالِدَيْنِ إِحْسَانًا: و به پدر و مادر نیکی کنید

إِمَّا يَبْلُغَنَّ عِنْدَكَ الْكِبَرَ: اگر نزد تو به پیری رسیدند

أَحَدُهُمَا أَوْ كِلَاهُمَا: یکی از آن دو یا هر دو

فَلَا تَقُلْ لَهُمَا أَفٍّ: به آنان اف (سخن درشت) نگو

وَلَا تَنْهَرَهُمَا: و آنان را از خود مران

وَقُلْ لَهُمَا قَوْلًا كَرِيمًا: و با آنان سنجیده و بزرگووارانه سخن بگو

(سوره‌ی اسراء - آیه ۲۳)

پیام اصلی:

وظیفه فرزند:

۱. نیکی کردن بی قید و شرط به والدین
۲. نگفتن کوچکترین سخن ناخوشایند به آنها

۵۳- براساس آیات قرآن، بهانه‌ی ستمکاران برای رهایی از مجازات در برزخ چیست و راه کار فرشتگان برای انسداد بهانه جویی

آنها چه می‌باشد؟ (Www.iranestekhdam.ir)

- (۱) فقدان قدرت استنباط - درخواست از خداوند برای بازگشت به دنیا جهت جبران گذشته‌ی خود
- (۲) استضعاف در زمین - درخواست از خداوند برای بازگشت به دنیا جهت جبران گذشته‌ی خود
- (۳) استضعاف در زمین - مهاجرت در زمین گسترده‌ی خدا
- (۴) فقدان قدرت استنباط - مهاجرت در زمین گسترده‌ی خدا

پاسخ کارشناس سایت ایران استخدام: گزینه ۳

آیه:

إِنَّ الَّذِينَ تَوَفَّاهُمُ الْمَلَائِكَةُ: همانا کسانی که فرشتگان، جانشان را می‌گیرند
ظالمی آنفُسِهِمْ: در حالی که بر خویشان ستم کرده‌اند
قَالُوا فِيمَ كُنْتُمْ: از آنان می‌پرسند: شما در چه وضعی بودید؟
قَالُوا كُنَّا مُسْتَضْعَفِينَ فِي الْأَرْضِ: گویند ما در سرزمین خود مستضعف بودیم (وبه ناچار در جبهه‌ی کافران قرار داشتیم)
قَالُوا أَلَمْ تَكُنْ أَرْضُ اللَّهِ وَاسِعَةً: (فرشتگان در پاسخ) گویند: مگر زمین خداوند گسترده نبود
فَتُهَاجَرُوا فِيهَا: تا در آن هجرت کنید؟
فَأَلَيْكَ مَاوَاهُمْ جَهَنَّمَ: آنان، جایگاهشان دوزخ است
وَسَاءَتْ مَصِيرًا: و بد سرنجامی است
(سوره نساء - آیه ۹۷)

پیام اصلی:

ویژگی‌های عالم برزخ:

۱. غیر مادی بودن زندگی برزخی (إِنَّ الَّذِينَ تَوَفَّاهُمُ الْمَلَائِكَةُ)
۲. گفتگو با ملائکه (قَالُوا فِيمَ كُنْتُمْ... فَتُهَاجَرُوا فِيهَا)
- این آیه به جهنم برزخی اشاره دارد (جَهَنَّمَ...سَاءَتْ)
- بخشی از عذاب کافران در جهنم برزخی داده می‌شود.
- اصل، خداپرستی است، نه وطن پرستی. (أَلَمْ تَكُنْ أَرْضُ اللَّهِ وَاسِعَةً فَتُهَاجَرُوا)
- هجرت، یکی از درمان‌های استضعاف فکری و عقیده‌ای است. (كُنَّا مُسْتَضْعَفِينَ... أَلَمْ تَكُنْ أَرْضُ اللَّهِ وَاسِعَةً فَتُهَاجَرُوا)

۵۴- تعبیر قرآنی «چون او را بیماراستم و از روح خود در او دمیدم» به ترتیب «ناظر بر چه موضوعی» و «در بردارنده چه پیامدی»

می‌باشد؟ (Www.iranestekhdam.ir)

- (۱) دوساحتی بودن انسان - «فَقَعُوا لَهُ سَاجِدِينَ»
- (۲) بعد مجرد انسان - «فَقَعُوا لَهُ سَاجِدِينَ»
- (۳) بعد جسمانی و روحانی انسان - «فَتَبَارَكَ اللَّهُ أَحْسَنُ الْخَالِقِينَ»
- (۴) بعد روحانی انسان - «فَتَبَارَكَ اللَّهُ أَحْسَنُ الْخَالِقِينَ»

پاسخ کارشناس سایت ایران استخدام: گزینه ۱

آیه:

إِذْ قَالَ رَبِّيَ لِلْمَلَائِكَةِ: آنگاه که پروردگارت به فرشتگان گفت:
إِنِّي خَالِقٌ بَشَرًا مِّن طِينٍ: همانا من آفریننده‌ی بشری از گل هستم (۷۱)
فَإِذَا سَوَّيْتَهُ: پس همین که او را نظام بخشیدم

و نَفَخْتُ فِيهِ مِنْ رُوحِي: و از روح خودم در او دمیدم
فَقَعُوا لَهُ سَاجِدِينَ: پس برای او به سجده درآیید (۷۲)
(سوره ص - آیات ۷۱ و ۷۲)

پیام اصلی: انسان دارای دو بعد روحی (مِنْ رُوحِي) و جسمی (مِنْ طِينِ) است. (دو بعدی بودن انسان) ابتدا بعد جسمانی شکل می‌گیرد و سپس روح در آن دمیده می‌شود (تقدم آفرینش بعد جسمانی بر بعد روحانی) (مِنْ طِينِ...مِنْ رُوحِي) سجده‌ی فرشتگان برای انسان، به‌خاطر بعد روحانی او است. (نَفَخْتُ فِيهِ مِنْ رُوحِي فَقَعُوا لَهُ سَاجِدِينَ) از تدبیر در آیات قرآن به دست می‌آید که وجود انسان از دو بعد تشکیل شده است:

۱. بعد جسمانی (مادی، غیر مجرد)
۲. بعد روحانی (معنوی، مجرد)

(مجرد یعنی اینکه روح فارق از ویژگی‌های محدود کننده‌ی جسم است)

۵۵- در کلام حضرت علی علیه السلام خداوند با چه کسانی بیش از دیگران انس می‌گیرد و پیامبر خوبی‌ها چه کسانی را سربار دیگران می‌دانستند؟ (Www.iranestekhdam.ir)

- ۱) با آنان که بیشتر بر او توکل می‌کنند - مردمی که به خدا توکل قلبی نداشتند.
- ۲) با آنان که بیشتر بر او توکل می‌کنند - مردمی که اهل کار و فعالیت نبودند.
- ۳) با آنان که به او بیش‌تر عشق می‌ورزند - مردمی که اهل کار و فعالیت نبودند.
- ۴) با آنان که به او بیش‌تر عشق می‌ورزند - مردمی که به خدا توکل قلبی نداشتند.

پاسخ کارشناس سایت ایران استخدام: گزینه ۳

پاسخ قسمت اول سوال:

حقیقت توکل بر خداوند

توکل بر خدا به معنای اعتماد به خداوند و سپردن نتیجه‌ی کارها به اوست.

انسان متوکل خداوند را تکیه‌گاه مطمئن خود می‌یابد و در عین عمل به وظایف، امورش را به او واگذار می‌کند. او می‌داند که در صورت انجام وظیفه، هر نتیجه‌ای که به دست آید، به مصلحت اوست، گرچه خود بدان مصلحت آگاه نباشد. زیرا خدای حکیمی که جهان را تدبیر و اداره می‌کند از هر کس نسبت به ما مهربان‌تر است.

نتیجه‌ی تکیه و اعتماد بر خدا:

۱. به انسان آرامش می‌دهد

۲. و به آینده امیدوار می‌کند.

حضرت علی (ع) در یکی از دعاهای خویش می‌گوید:

خداوند! تو با آنان که به تو بیش‌تر عشق می‌ورزند، بیش از دیگران انس می‌گیری و برای اصلاح کار آنان که بر تو توکل می‌کنند از خودشان آماده‌تری، اسرار ایشان را می‌دانی و بر اندیشه‌هایشان آگاهی و بر میزان بینش آنان دانایی.

در ادامه می‌گوید:

رازهایشان نزد تو آشکار و دل‌هایشان در حسرت دیدار تو داغدار. اگر تنهایی، آنان را به وحشت اندازد، یاد تو آنان را آرام سازد و اگر مصیبت‌ها بر آنان فرو بارد، به تو پناه آورند و روی به درگاه تو دارند، چون می‌دانند سر رشته‌ی کارها به دست توست.

پاسخ قسمت دوم سوال:

توکل در جایی درست است که انسان مسئولیت و وظیفه‌ی خود را به خوبی انجام دهد، یعنی:

۱. فکر و اندیشه‌ی خود را به کار گیرد،

۲. با دیگران مشورت کند،

۳. بهترین راه ممکن را انتخاب نماید و

۴. با عزم و اراده‌ی محکم برای رسیدن به مقصود تلاش کند.

در این صورت است که می‌توان بر خدا توکل کرد. زیرا توکل، جانشین تنبلی و ندانم‌کاری افراد نیست بلکه کمک‌کننده و امیددهنده به کسی است که اهل همت، تعقل و پشتکار است.



روزی، پیامبر اکرم (ص) به مردمی برخورد که اهل کار و فعالیت نبودند. به آنان فرمود:
شما چگونه مردمی هستید؟
گفتند: ما توکل کنندگان بر خدا هستیم.
فرمود: نه، بلکه شما سربار دیگران هستید.

۵۶- با توجه به آیهی «فَاسْتَقِمْ كَمَا أُمِرْتَ وَ مَنِ تَابَ مَعَكَ» لازمه‌ی پایداری پیامبر و همراهان در راه فرمان یافته‌ی الهی چیست؟
(Www.iranestekhdam.ir)

- (۱) تندخو نبودن
(۲) پرهیز از سرکشی و طغیان
(۳) مشورت با یکدیگر
(۴) جدال به بهترین روش با مخالفان خود

پاسخ کارشناس سایت ایران استخدام: گزینه ۲

ترجمه آیه:

فَاسْتَقِمْ كَمَا أُمِرْتُ: پایداری کن، همان‌طور که فرمان یافته‌ای
وَ مَنِ تَابَ مَعَكَ: هم‌چنین آنان که با تو به خدا روی آورده‌اند
وَ لَا تَطْغَوْا: و سرکشی و طغیان نکنید
أَنْهَوْ بِمَا تَعْمَلُونَ بَصِيرًا: که او بدانچه می‌کنید، بیناست
(سوره‌ی هود - آیه ۱۱۲)

پیام اصلی: آیه بیانگر حقوق متقابل رهبر و مردم است:

پایداری و قاطعیت رهبر (فَاسْتَقِمْ) = حق مردم بر رهبر

اطاعت و طغیان نکردن مردم (لَا تَطْغَوْا) = حق رهبر بر مردم

نتیجه تاریخ انبیا، استقامت است. (فَاسْتَقِمْ)

پایداری زمانی ارزش دارد که در همه‌ی امور باشد. در عبادت، در ارشاد، تحمل ناگواری‌ها و مانند آن. (فَاسْتَقِمْ)
پایداری رهبر بدون همراهی و پایداری امت بی‌نتیجه است. (مَنِ تَابَ مَعَكَ)

بخش پنجم:

زبان انگلیسی – عمومی



Part A. Grammar and vocabulary

Direction: choose the number of the answer choice (۱), (۲), (۳) or (۴) that best completes the blank. Then mark it on your answer sheet. (Www.iranestekhdam.ir)

۵۷. The meeting was supposed to be held today but was delayed at the of the members. (Www.iranestekhdam.ir)

- ۱) request ۲) struggle ۳) direction ۴) selection

پاسخ کارشناس سایت ایران استخدام: گزینه ۱

گزینه ۲ به معنی بحث و مشاجره، گزینه ۳ به معنی مسیر و گزینه ۴ به معنی انتخاب با توجه به ترجمه جمله "جلسه قرار بود امروز برگزار شود اما به خاطر درخواست اعضا به تاخیر افتاد" صحیح نیستند لذا گزینه ۱ به معنای درخواست پاسخ صحیح می باشد.

۵۸. Our flight is at ۷:۰۰ PM, but we should be at the airport an hour sooner for sport (Www.iranestekhdam.ir)

- ۱) application ۲) evaluation ۳) investigation ۴) inspection

پاسخ کارشناس سایت ایران استخدام: گزینه ۱

گزینه ۲ به معنی ارزیابی، گزینه ۳ به معنی تحقیق و بررسی و گزینه ۴ به معنی بازرسی با توجه به ترجمه جمله "پرواز ما راس ساعت ۷ عصر خواهد بود اما باید برای درخواست ویزای ورزشی یک ساعت زود تر در فرودگاه باشیم" صحیح نیستند لذا گزینه ۱ به معنای درخواست ویزا پاسخ صحیح می باشد.

۵۹. Today, almost all the world nations are..... Terrorism in one way or another. (Www.iranestekhdam.ir)

- ۱) interrupted by ۲) regulated by ۳) suffering from ۴) detached from

پاسخ کارشناس سایت ایران استخدام: گزینه ۳

گزینه ۱ به معنی قطع شده توسط، گزینه ۲ به معنی مقرر شده توسط و گزینه ۴ به معنی جدا شده از با توجه به ترجمه جمله "امروزه تقریباً همه دنیا به صورت مستقیم یا غیر مستقیم متحمل تروریسم هستند" صحیح نیستند لذا گزینه ۳ به معنای متحمل، رنج بردن پاسخ صحیح می باشد.

۶۰. Benson is retired, and he has to live on his which he does not think is enough (Www.iranestekhdam.ir)

- ۱) wages ۲) pension ۳) salary ۴) possession

پاسخ کارشناس سایت ایران استخدام: گزینه ۲

گزینه ۱ به معنی دستمزد، گزینه ۳ به معنی حقوق و گزینه ۴ به معنی مال و منال، ثروت با توجه به ترجمه جمله "بنسن بازنشسته شده است و او باید باحقوق بازنشستگی خود که فکر میکند کافی نیست، زندگی کند" صحیح نیستند لذا گزینه ۲ به معنای حقوق بازنشستگی پاسخ صحیح می باشد.

۶۱. Couldn't call my trip to London a vacation, because I was In my brothers ??? most of the time as he didn't have any time to show me around. (Www.iranestekhdam.ir)

- ۱) stayed ۲) trapped ۳) located ۴) remained

پاسخ کارشناس سایت ایران استخدام: گزینه ۲



گزینه ۱ به معنی ماندن، گزینه ۳ به معنی قرار گرفتن و گزینه ۴ به معنی اقامت کردن با توجه به ترجمه جمله "نتوانستم سفرم به لندن را از تعطیلات حساب کنم، چون در محل اقامت برادرم گیر افتاده بودم و او بیشتر اوقات فرصت بازدید از شهر را نداشت" صحیح نیست لذا گزینه ۲ به معنای گیر افتادن پاسخ صحیح می باشد.

۶۲. Although the flight attendants and the captain apologized for the late departure flight, some passengers were still (Www.iranestekhdam.ir)

- ۱) anxious ۲) desperate ۳) furious ۴) distracted

پاسخ کارشناس سایت ایران استخدام : گزینه ۳

گزینه ۱ به معنی مضطرب و نگران، گزینه ۲ به معنی نا امید و گزینه ۴ به معنی گیج با توجه به ترجمه جمله "با اینکه کادر پرواز و خلبان برای تاخیر در پرواز عذر خواهی کردند اما بعضی از مسافران هنوز عصبانی بودند" صحیح نیستند لذا گزینه ۳ به معنای عصبانی پاسخ صحیح می باشد.

۶۳. This bank account can help you with any kind and number of business activities, but you're charged a fixed amount of money on each (Www.iranestekhdam.ir)

- ۱) trade ۲) bargain ۳) procedure ۴) transaction

پاسخ کارشناس سایت ایران استخدام : گزینه ۴

گزینه ۱ و ۲ به معنی معامله یا داد و ستد و گزینه ۳ به معنی روش با توجه به ترجمه جمله "این حساب بانکی می تواند به شما با هر نوع و تعداد فعالیت های کسب و کارانه کمک کند اما شما در هر تراکنش مقدار ثابتی از پول را واریز کرده اید" صحیح نیستند لذا گزینه ۴ به معنای تراکنش پاسخ صحیح می باشد.

۶۴. A: Almost all the questions in the exam were..... weren't they?

(Www.iranestekhdam.ir)

B: Well, we never expected Mr. James to make it easy for every one of us to pass.

- ۱) tough ۲) dense ۳) ruthless ۴) intensive

پاسخ کارشناس سایت ایران استخدام : گزینه ۱

گزینه ۲ به معنی مترکم، گزینه ۳ به معنی ظالم و گزینه ۴ به معنی شدید با توجه به ترجمه جمله "آ: تقریباً همه سوالات امتحان سخت بودند، مگر این طور نیست؟ ب: خوب، ما از آقای جمیز هیچ وقت انتظار نداشتیم امتحان را آسان بگیرد تا همه قبول شوند" صحیح نیستند لذا گزینه ۱ به معنای سخت پاسخ صحیح می باشد.

۶۵. Mr. Norman never stops trying to reach his goal after he has made up his mind about it. He is a man of great (Www.iranestekhdam.ir)

- ۱) fortunate ۲) determination ۳) intention ۴) dominance

پاسخ کارشناس سایت ایران استخدام : گزینه ۲

گزینه ۱ به معنی خوشبخت، گزینه ۳ به معنی قصد، نیت و گزینه ۴ به معنی چیرگی با توجه به ترجمه جمله "آقای نورمن هیچ وقت پس از فکر کردن درباره چیزی از رسیدن به اهدافش باز نمی ایستد، او مرد بسیار با اراده ای است" صحیح نیستند لذا گزینه ۲ به معنای اراده پاسخ صحیح می باشد.

۶۶. Although Anna is quite a young woman, she feels really old because she restlessly all through her life. (Www.iranestekhdam.ir)

- ۱) works ۲) is working ۳) has been working ۴) would work



پاسخ کارشناس سایت ایران استخدام : گزینه ۳

برای نشان دادن استمرار کار که در گذشته شروع شده و تا به امروز ادامه دارد از حال کامل استمراری استفاده می کنیم لذا گزینه ۳ با ساختار has + been + verb + ing نشان دهنده این زمان بوده و پاسخ صحیح می باشد.

۶۷. A desert is usually described as a region an average of less than ten inches of rain falls in a year. (Www.iranestekhdam.ir)

- ۱) in that ۲) for which ۳) where is ۴) in which

پاسخ کارشناس سایت ایران استخدام : گزینه ۴

برای اتصال دو جمله یا جمله وارہ از قید های موصولی استفاده می شود که ساختار به صورت (قید های موصولی + حرف اضافه) بوده و در این سوال با توجه به اشاره به مکان از قید which استفاده می شود و حرف اضافه in به معنای "در چیزی" به همراه آن می آید لذا گزینه ۴ پاسخ صحیح می باشد.

۶۸. Both Ted and Jack had got the right answer to the teacher's question, but of them could clearly convey it. (Www.iranestekhdam.ir)

- ۱) neither ۲) each ۳) both ۴) none

پاسخ کارشناس سایت ایران استخدام : گزینه #۱ uncertainty

با توجه به ترجمه جمله "جک و تد هر دو پاسخ صحیح سوال را به معلم نشان دادند اما هیچ یک از آن ها نتوانستند آن را معنی کنند" گزینه ۱ به معنای هیچ کدام یک از آن دو نفر پاسخ صحیح می باشد.

۶۹. Teacher's punctuality is ... noticed and appreciated in this language school. (Www.iranestekhdam.ir)

- ۱) neither ۲) either ۳) not only ۴) both

پاسخ کارشناس سایت ایران استخدام : گزینه ۲

برای اشاره به دو کار یا دو چیز از حروف ربط neither, either و both استفاده می شود که بیشتر اوقات بعد از both از اسم می آید اما بعد از either و neither فعل آمده و either به طور مثبت به هر دو اشاره دارد و neither به صورت منفی هر دو را نفی می کنید لذا با توجه به مفهوم سوال فوق و توضیحات گزینه ۲، either صحیح می باشد.

۷۰. One of the planets revolving around the sun is our earth which..... to be cost ۲۵۰۰۰ miles in circumference. (Www.iranestekhdam.ir)

- ۱) has said ۲) say ۳) is said ۴) is saying

پاسخ کارشناس سایت ایران استخدام : گزینه ۳

با توجه به نامعلوم بودن فاعل، جمله فوق مجهول می باشد و می بایست از ساختار فعل مجهول استفاده گردد که ساختار جملات مجهول در زمان حال به صورت to be verb + past participle form of the verb می باشد لذا گزینه ۳ صحیح می باشد.

۷۱. A: I haven't seen your brother, and I don't know what he

B: He's pretty tall with green eyes and short, blonde hair. (Www.iranestekhdam.ir)

- ۱) likes ۲) is like ۳) would like ۴) looks like

پاسخ کارشناس سایت ایران استخدام : گزینه ۴



برای اشاره به ویژگی های ظاهری افراد از عبارت look like استفاده می شود لذا گزینه ۴ پاسخ صحیح می باشد.

بخش ششم:

اطلاعات عمومی ، دانش اجتماعی و حقوق اساسی

۷۲- در کدام شیوه حکومتی، ثروتمندترین اعضای جامعه که با پول متمایز می‌شدند. ساختار حکومت را اشغال می‌کردند؟
(www.iranestekhdam.ir)

- (۱) پلوتوکراسی (۲) پارتیتو کراسی (۳) مونارشی (۴) آریستوکراسی

پاسخ کارشناس سایت ایران استخدام: گزینه ۱

پلوتوکراسی (حکومت ثروتمندان):

پلوتوکراسی یا اغنیاسالاری، نظامی است که توسط ثروتمندان اداره می‌شود، در این نظام حکومتی طبقه‌ای که طبقه حاکم را تشکیل می‌دهند همگی از طبقه ثروتمند جامعه هستند.

پارتیتو کراسی (حزب سالاری):

رژیمی سیاسی ای است که با ظواهر همه سالاری و توده‌ای، اقتدار حزب واحد خود را بر همه تحمیل می‌نماید و به دیگر گرایش‌های سیاسی امکان تجلی و تظاهر نمی‌دهد؛ در این حالت حزب واحد پس از مدتی به صورت تنها حزب جامعه درآمد و درون رسوم و عادات الیگارش‌ی به منصفه بروز خواهد رسید.

مونارشی (حکومت پادشاهی):

حکومت پادشاهی، سلطنتی و عبارت از اداره حکومت و امور دولت توسط یک فرد زمامدار در قالب موروثی.

آریستوکراسی (نخبه‌سالاری):

آریستوکراسی یا اشراف سالاری، حکومتی است که به دست عده‌ای از شهروندان نخبه خود اداره می‌شود؛ در این نظام حکومتی، شخصی که به اداره کشور می‌پردازد خود از طبقه اشراف است. این اشرافیت هم بستگی به خاندان فرد و تولد وی در خانواده‌ای اشرافی دارد. یک آریستوکراسی حکومتی است از بهترین مردم. آریستوکراسی با اصالت خانوادگی تفاوت دارد. در اصالت خانوادگی فقط یک خاندان بر کشور حکومت می‌کنند ولی در آریستوکراسی چندین خاندان اشرافی به این کار مبادرت می‌ورزند و هر یک از ایشان می‌توانند رویکرد متفاوتی را در اداره کشور اتخاذ کند.

با توجه به تعریف هر یک از شیوه‌های حکومتی، پلوتوکراسی (حکومت ثروتمندان) پاسخ صحیح تست می‌باشد.

۷۳- در این نظام سیاسی حکومتی، وزیران در برابر پارلمان مسئولیت سیاسی ندارند و نمایندگان نمی‌توانند آن‌ها را استیضاح کرده و یا با رای عدم اعتماد برکنار کنند. در مقابل رئیس‌جمهور نیز حق پیشنهاد لایحه را ندارد؟ (www.iranestekhdam.ir)

- (۱) پارلمانی (۲) نیمه ریاستی - نیمه پارلمانی (۳) ریاستی (۴) توتالیتر

پاسخ کارشناس سایت ایران استخدام: گزینه ۳

نظام ریاستی یک نظام حکومتی است که نتیجه تفکیک کامل قواست. در رژیم‌های ریاستی قوه مجریه در استقلال از پارلمان (قوه مقننه) فعالیت می‌کند. در این سیستم رئیس‌جمهور که ریاست قوه مجریه و ریاست کشور را بر عهده دارد برای مدت محدودی با رأی مردم انتخاب می‌شود. انتخاب رئیس‌جمهور با رأی مردم به او اعتبار فوق‌العاده و قدرت قابل توجهی می‌بخشد و آزادی عمل و اختیار بیشتر او در انتخاب وزیران و همکاران و سیاست‌های کشور را موجب می‌شود. برخلاف نظام‌های پارلمانی که رئیس‌جمهور (پادشاه یا رئیس‌جمهور) نقش مهمی را برعهده ندارد و قدرت اصلی در دست نخست‌وزیر و هیئت دولت منتخب پارلمان است. از آنجا که تعیین وزیران در این نظام برعهده رئیس‌جمهور است و پارلمان در آن دخالتی ندارد، وزیران در برابر پارلمان مسئولیت سیاسی ندارند و نمایندگان نمی‌توانند آن‌ها را استیضاح کرده یا با رأی عدم اعتماد برکنار کنند. در مقابل رئیس‌جمهور نیز حق پیشنهاد لایحه را ندارد. در نظام ریاستی حاکمیت ملی در دو نوبت تجلی پیدا می‌کند و کارگزاران دو قوه (مجریه و مقننه) در یک سطح از اعتبار و پشتوانه سیاسی و آرای عمومی قرار می‌گیرند. ایالات متحده آمریکا اولین کشور جهان است که این نظام سیاسی را اجرایی کرده است و اولین جمهوری ریاستی جهان است.

۷۴- قانون اساسی جمهوری اسلامی ایران مصوب سال ۱۳۶۸ دارای چند فصل و چند اصل قانونی می‌باشد؟
(www.iranestekhdam.ir)

- (۱) چهارده فصل و یک صد و هفتاد و پنج اصل قانونی (۲) دوازده فصل و یک صد و هفتاد اصل قانونی
(۳) چهارده فصل و یک صد و هفتاد و هفت اصل قانونی (۴) دوازده فصل و یک صد و هفتاد و پنج اصل قانونی

پاسخ کارشناس سایت ایران استخدام: گزینه ۳

قانون اساسی جمهوری اسلامی ایران مصوب سال ۱۳۶۸ دارای ۱۷۷ اصل قانونی می‌باشد که این ۱۷۷ اصل در قالب ۱۴ فصل متفاوت بیان شده اند.

۷۵- مطابق با اصل ۱۰۹ قانون اساسی جمهوری اسلامی ایران کدام یک از گزینه های ذیل از شرایط و صفات اصلی رهبر شمار نمی آید؟ (Www.iranestekhdam.ir)

- ۱) صلاحیت علمی لازم برای افتاء در ابواب مختلف فقه
- ۲) عدالت و تقوای لازم برای رهبری امت اسلام
- ۳) بینش صحیح سیاسی و اجتماعی، تدبیر، شجاعت، مدیریت و قدرت کافی برای رهبری
- ۴) ایرانی الاصل و تابعیت ایرانی

پاسخ کارشناس سایت ایران استخدام : گزینه ۴

اصل یکصد و نهم قانون اساسی جمهوری اسلامی ایران: شرایط و صفات رهبر:

- ۱- صلاحیت علمی لازم برای افتاء در ابواب مختلف فقه.
 - ۲- عدالت و تقوای لازم برای رهبری امت اسلام.
 - ۳- بینش صحیح سیاسی و اجتماعی، تدبیر، شجاعت، مدیریت و قدرت کافی برای رهبری.
- در صورت تعدد واجدین شرایط فوق، شخصی که دارای بینش فقهی و سیاسی قوی تر باشد مقدم است.

۷۶- کدام بخش از بدن انسان ترمیم نمی‌شود؟ (Www.iranestekhdam.ir)

- ۱) استخوان
- ۲) دندان
- ۳) قلب
- ۴) کبد

پاسخ کارشناس سایت ایران استخدام : گزینه ۲

۶ عضو در بدن وجود دارد که قابلیت ترمیم خود را دارد؛ این اعضا عبارت است از: کبد، ریه، سیستم گوارشی، رگ های خونی ، استخوان و بخش هایی از مغز. نتایج تحقیقات نشان می دهد که سلول های پایه در ترمیم این اعضا نقش مهمی ایفا می سکند. دندان تنها عضو از بدن هستند که توان ترمیم و بازسازی خود را ندارد.

۷۷- کدام عملیات پس از پذیرش قطعنامه ۵۹۸ انجام شد؟ (Www.iranestekhdam.ir)

- ۱) والفجر
- ۲) نصر
- ۳) مرصاد
- ۴) قدس

پاسخ کارشناس سایت ایران استخدام : گزینه ۳

پس از پذیرش قطعنامه ۵۹۸ سازمان ملل از سوی ایران و اعلام آتش بس با عراق، گروهک منافقین که در طول جنگ نقش ستون پنجم و اهرم فشار بر جمهوری اسلامی را ایفا کرده بودند در نقش ارتش خصوصی صدام و با خیال اینکه نیروهای مردمی از جنگ خسته اند شعار از مهران تا تهران در ۳ روز را سر دادند که این عملیات بعدها به عملیات مرصاد معروف شد. تاریخ پذیرش قطعنامه ۵۹۸ و تاریخ عملیات های ذکر شده در گزینه های سوال: تاریخ پذیرش قطعنامه ۵۹۸ شورای امنیت از سوی ایران: ۲۷ تیر ۱۳۶۷ تاریخ عملیات مرصاد یا عملیات فروغ جاویدان: ۴-۸ مرداد ۱۳۶۷ (۴ روز) تاریخ عملیات والفجر ۸ یا نبرد اول فاو: ۲۰ بهمن ۱۳۶۴ تا ۲۹ فروردین ۱۳۶۵ تاریخ عملیات نصر: ۱۵ دی ۱۳۵۹ تا ۱۸ دی ۱۳۵۹

۷۸- اساس ترتیب عناصر جدول مندلیف چیست؟ (Www.iranestekhdam.ir)

- ۱) افزایش عدد اتمی
- ۲) ماهیت عنصر
- ۳) وزن اتمی
- ۴) ویژگی های شیمیایی

پاسخ کارشناس سایت ایران استخدام : گزینه ۱

جدول تناوبی عنصرهای شیمیایی، نمایش جدولی عنصرهای شیمیایی بر پایه عدد اتمی، آرایش الکترونی و ویژگی‌های شیمیایی آن‌ها است. ترتیب جایگیری عنصرها در این جدول از عدد اتمی (شمار پروتون‌های) کمتر به سوی عدد اتمی بالاتر است (یعنی عنصرها بر اساس افزایش عدد اتمی مرتب شده‌اند).

۷۹- کدام حیوان رنگ خورش آبی است؟ (Www.iranestekhdam.ir)

- (۱) وال (۲) کانگورو (۳) میگو (۴) ستاره دریایی

پاسخ کارشناس سایت ایران استخدام: گزینه ۳

دستگاه گردش خون در میگوها از نوع باز بوده و از چهار بخش اصلی سینوسها، قلب، سرخرگها و کانالهای خونی تشکیل می‌شود. قلب در میگو به صورت توده ای عضلانی و به شکل نامنظم می‌باشد. بافت خونی میگوها بی‌رنگ بوده و شامل پلاسما، گلبول سفید و رنگدانه‌های تنفسی (هموسیانین) می‌باشد. هموسیانین بی‌رنگ است و در ترکیب با اکسیژن رنگ آن به آبی تغییر می‌کند.

۸۰- غلظت خون چند برابر آب است؟ (Www.iranestekhdam.ir)

- (۱) ۵ (۲) ۶ (۳) ۷ (۴) ۸

پاسخ کارشناس سایت ایران استخدام: گزینه ۲

۸۱- پایتخت تمدن ایلام چه نام داشت؟ (Www.iranestekhdam.ir)

- (۱) هگمتانه (۲) شوش (۳) تیسفون (۴) بین النهرین

پاسخ کارشناس سایت ایران استخدام: گزینه ۲

در حدود ۲۷۰۰ پیش از میلاد پادشاهی ایلام به پایتختی شوش تشکیل شد. شوش در دوره ایلامی‌ها هزاران سال مرکز این تمدن مهم و در دوره هخامنشیان شوش پایتخت سیاسی این امپراتوری پهناور بوده‌است.

۸۲- شهر هویزه در کدام عملیات در دوران دفاع مقدس آزاد شد؟ (Www.iranestekhdam.ir)

- (۱) خیبر (۲) فتح المبین (۳) کربلای ۵ (۴) بیت المقدس

پاسخ کارشناس سایت ایران استخدام: گزینه ۴

عملیات بیت‌المقدس بزرگترین عملیات نیروهای مسلح ایران در جنگ ایران و عراق محسوب می‌شود. نتایج عملیات:

- طی عملیات بیت‌المقدس ۵/۰۳۸ کیلومتر مربع از اراضی اشغال شده توسط ارتش عراق، از جمله شهرهای خرمشهر، هویزه، پادگان حمید و جاده اهواز - خرمشهر توسط نیروهای مسلح ایران آزاد شدند. علاوه بر این شهرهای اهواز، حمیدیه و سوسنگرد از تیررس توپخانه ارتش عراق خارج گردیدند. همچنین ۱۸۰ کیلومتر از خط مرزی نیز تأمین شد.
- فتح خرمشهر موجب انفعال ارتش عراق شد؛ به گونه‌ای که نظامیان عراقی تا مدت زیادی نتوانستند از لاک دفاعی خارج شوند.
- عملیات بیت‌المقدس موجب شد تا کشورهای عرب منطقه به تقویت مالی و نظامی عراق مبادرت ورزند.
- طی این عملیات حدود ۱۹ هزار نفر از نیروهای ارتش عراق به اسارت ایرانیان درآمدند و بالغ بر ۱۶ هزار نفر از عراقی‌ها نیز کشته یا زخمی شدند.

۸۳- سیزدهم آبان چه روزی است؟ (Www.iranestekhdam.ir)

- (۱) تسخیر لانه جاسوسی (۲) شهادت دانش آموزان (۳) تبعید امام خمینی (۴) هر سه

پاسخ کارشناس سایت ایران استخدام: گزینه ۴

روز ۱۳ آبان که در تقویم نظام مقدس جمهوری اسلامی ایران به عنوان روز مبارزه با استکبار جهانی نام‌گذاری شده یادآور سه واقعه مهم در تاریخ معاصر ایران است که در سه دوره مختلف رخ داده و به همین دلیل این روز را در تاریخ کشور به عنوان روزی به یادماندنی به ثبت رسانده است.

در روز ۱۳ آبان ۱۳۴۳، مأموران رژیم شاه، حضرت امام خمینی(ره) را در قم دستگیر و به دستور آمریکا، به ترکیه تبعید کردند. در روز ۱۳ آبان ۱۳۵۷، دانش آموزان تهرانی در اعتراض به دخالت های آمریکا در ایران، راه پیمایی کردند، ولی دژخیمان رژیم شاه، به آنان حمله کرد و آنان را به خاک و خون کشید.

در روز ۱۳ آبان ۱۳۵۸، دانشجویان مسلمان پیرو خط امام، لانه ی جاسوسی آمریکا را در تهران تسخیر کردند و جاسوسان آمریکایی را به گروگان گرفتند.

بدین ترتیب، مبارزه ی ضد آمریکایی مردم ایران، ابعاد جدیدتری پیدا کرد. بنابراین، نمایندگان مجلس شورای اسلامی، این روز را به روز «مّلی مبارزه با استکبار» نام گذاری کردند.

۸۴- معلم ثانی لقب کدام فیلسوف ایرانی است؟ (www.iranestekhdam.ir)

- ۱) شیخ بها الدین سهروردی ۲) ابوسعید ابوالخیر ۳) ابونصر فارابی ۴) ابو علی سینا

پاسخ کارشناس سایت ایران استخدام : گزینه ۳

ابو نصر محمد بن محمد فارابی معروف به فارابی، از بزرگترین فیلسوفان ایرانی شرقی سده سوم و چهارم هجری است. اهمیت او بیشتر به علت شرحهایی است که بر آثار ارسطو نگاشته و به سبب همین مشروحات او را معلم ثانی خوانده‌اند و در مقام بعد از ارسطو قرار داده‌اند. وی آثاری نظیر «الجمع بین الرايين»، «اغراض ما بعدالطبیعه ارسطو»، «فصول الحکم» و «احصاءالعلوم» را از خود به یادگار نهاده است.

۸۵- ترکیب اعضای شورای نگهبان چگونه است؟ (www.iranestekhdam.ir)

- ۱) ۱۲ عضو - ۶ فقیه - ۶ حقوقدان ۲) ۱۱ عضو - ۶ فقیه - ۵ حقوقدان
۳) ۱۱ عضو - ۵ فقیه - ۶ حقوقدان ۴) ۱۰ عضو - ۵ فقیه - ۵ حقوقدان

پاسخ کارشناس سایت ایران استخدام : گزینه ۱

اصل نود و یکم قانون اساسی جمهوری اسلامی ایران:

به منظور پاسداری از احکام اسلام و قانون اساسی از نظر عدم مغایرت مصوبات مجلس شورای اسلامی با آنها، شورایی به نام شورای نگهبان با ترکیب زیر تشکیل می‌شود.

۱. شش نفر از فقهای عادل و آگاه به مقتضیات زمان و مسایل روز. انتخاب این عده با مقام رهبری است.
۲. شش نفر حقوقدان، در رشته‌های مختلف حقوقی، از میان حقوقدانان مسلمانی که به وسیله رئیس قوه قضاییه به مجلس شورای اسلامی معرف می‌شوند و با رأی مجلس انتخاب می‌گردند.

بخش هفتم:

هوش و توانمندی های عمومی



۸۶- عکس یک عدد با یک چهارم آن عدد برابر است، آن عدد کدام است؟ (Www.iranestekhdam.ir)

- (۱) ۲ و -۲ (۲) ۲ (۳) -۲ (۴) ۴ و -۴

پاسخ کارشناس سایت ایران استخدام: گزینه ۱

$$\frac{x}{4} = \frac{1}{x} \Rightarrow x^2 = 4 \Rightarrow x = \pm 2$$

۸۷- ۱۰ گنجشک روی درخت نشسته‌اند که ۶ تای آن در شرف پروازند، حال چه تعداد روی درخت می‌ماند؟

(Www.iranestekhdam.ir)

- (۱) ۴ (۲) ۶ (۳) ۱۰ (۴) هیچکدام

پاسخ کارشناس سایت ایران استخدام: گزینه ۳

۸۸- در سال کبیسه چه ماهی ۲۹ روزه می‌باشد؟ (Www.iranestekhdam.ir)

- (۱) بهمن (۲) اسفند (۳) هردو (۴) هیچکدام

پاسخ کارشناس سایت ایران استخدام: گزینه ۴

۸۹- اگر تنها یک کبریت داشته باشیم و وارد یک اتاق شویم که در آن یک بخاری نفتی، یک فانوس نفتی و یک شمع باشد

کدامیک را ابتدا روشن می‌کنیم؟ (Www.iranestekhdam.ir)

- (۱) بخاری نفتی (۲) فانوس نفتی (۳) شمع (۴) کبریت

پاسخ کارشناس سایت ایران استخدام: گزینه ۴

۹۰- کدام واژه با سه واژه‌ی دیگر تفاوت بسیار دارد؟ (Www.iranestekhdam.ir)

- (۱) برد (۲) برید (۳) برودت (۴) نبرید

پاسخ کارشناس سایت ایران استخدام: گزینه ۳

بقیه گزینه‌ها فعل هستند

۹۱- همه‌ی دانش‌آموزان این دبیرستان بیش از ۱۴ سال دارند، فرهاد ۱۲ ساله است. فرهاد دانش‌آموز این دبیرستان است. اگر

جمله‌ی اول و دوم درست باشد، جمله‌ی سوم: (Www.iranestekhdam.ir)

- (۱) حتما درست نیست. (۲) حتما درست است. (۳) ممکن است درست باشد. (۴) ممکن است درست نباشد.

پاسخ کارشناس سایت ایران استخدام: گزینه ۱

۹۲- حضرت عیسی از هر حیوان چند تا با خود به کشتی برد؟ (Www.iranestekhdam.ir)

- (۱) یک جفت (۲) دو جفت (۳) سه جفت (۴) هیچ حیوانی نبرد

پاسخ کارشناس سایت ایران استخدام: گزینه ۴

حضرت نوح با خود حیوانات را به کشتی برد.

۹۳- اگر علی بخواهد به خواهران خود پنج سیب بدهد یک سیب کم می‌آورد و اگر بخواهد چهار سیب بدهد دو سیب اضافه

می‌آورد. علی چند سیب دارد؟ (Www.iranestekhdam.ir)

- (۱) ۷ (۲) ۱۷ (۳) ۱۴ (۴) ۹



پاسخ کارشناس سایت ایران استخدام: گزینه ۳

این تعداد باید عددی باشد که در تقسیم به ۵، باقی مانده ۴ است. و در تقسیم به ۴ باقی مانده ۲ است که عدد، ۱۴ است

۹۴- اگر شعاع دایره‌ای ۲۰٪ افزایش یابد، مساحت دایره چند درصد افزایش می‌یابد؟ ([Www.iranestekhdam.ir](http://www.iranestekhdam.ir))

- (۱) ۴ (۲) ۲۰ (۳) ۴۴ (۴) ۴۰

پاسخ کارشناس سایت ایران استخدام: گزینه ۳

$\pi \times 14400 \times r^2 = \pi (120r)^2 = \pi r^2 =$ مساحت دایره $\pi r^2 =$ مساحت دایره که با مقایسه با مقدار اولیه ۴۴ درصد افزایش می‌یابد.

۹۵- نسبت نوا به نانا مانند نسبت: ([Www.iranestekhdam.ir](http://www.iranestekhdam.ir))

- (۱) نوا به نینوا (۲) دهخدا به کدخدا (۳) صدا به بیصدا (۴) خدا به ناخدا

پاسخ کارشناس سایت ایران استخدام: گزینه ۴

۹۶- کدام گزینه به عللی با سه گزینه‌ی دیگر فرق می‌کند؟ ([Www.iranestekhdam.ir](http://www.iranestekhdam.ir))

- (۱) اردک (۲) کارد (۳) ادراک (۴) راکد

پاسخ کارشناس سایت ایران استخدام: گزینه ۳

این کلمه یک حرف نسبت به بقیه بیشتر دارد.

۹۷- رابطه‌ی مرهم با سوختگی مثل رابطه‌ی است. ([Www.iranestekhdam.ir](http://www.iranestekhdam.ir))

- (۱) کره با نان (۲) غم با حسرت (۳) اشک با تسلی (۴) همدردی با اندوه

پاسخ کارشناس سایت ایران استخدام: گزینه ۳

۹۸- قیمت یک جوراب با ۲۵٪ تخفیف ۶۰۰ تومان است، قیمت جوراب قبل از تخفیف چند تومان بوده است؟

([Www.iranestekhdam.ir](http://www.iranestekhdam.ir))

- (۱) ۸۰۰ (۲) ۸۵۰ (۳) ۷۵۰ (۴) ۹۰۰

پاسخ کارشناس سایت ایران استخدام: گزینه ۱

در واقع این قیمت، قیمت ۷۵ درصد جوراب است. با محاسبه توسط جدول تناسب، قیمت اصلی ۸۰۰ خواهد بود.

۹۹- پنکه‌ای در هر دقیقه ۱۸۰۰ دور می‌زند. در چند مدت، ۲۱۰۰۰ دور خواهد زد؟ ([Www.iranestekhdam.ir](http://www.iranestekhdam.ir))

- (۱) ۱۲ دقیقه (۲) ۷۳۰ ثانیه (۳) ۱۱ دقیقه و ۴۰ ثانیه (۴) ۱۱ دقیقه و ۲۰ ثانیه

پاسخ کارشناس سایت ایران استخدام: گزینه ۳

با استفاده از تناسب خواهیم داشت.

$$\frac{60s}{x} = \frac{1800}{21000} \Rightarrow x = 11.66$$

یعنی ۱۱ دقیقه و $\frac{66}{100}$ از یک دقیقه که برابر ۴۰ ثانیه خواهد بود.

۱۰۰- عده کارمندان مرد یک شرکت سه برابر کارمندان زن است. کدام یک از اعداد زیر نمی‌تواند تعداد کارمندان شرکت را نشان

دهد؟ ([Www.iranestekhdam.ir](http://www.iranestekhdam.ir))

- (۱) ۲۴ (۲) ۳۲ (۳) ۲۶ (۴) ۳۶

پاسخ کارشناس سایت ایران استخدام: گزینه ۳



می توان تعداد کارمندان را به این صورت محاسبه کرد: $x + 3x = 4x$
بنابراین تعداد کارمندان باید به ۴ بخش پذیر باشد که فقط گزینه (ج) به ۴ بخش پذیر نیست.

**سوالات عمومی آزمون استخدام فراگیر ششم سال ۹۷
با پاسخ تشریحی**

بخش اول:

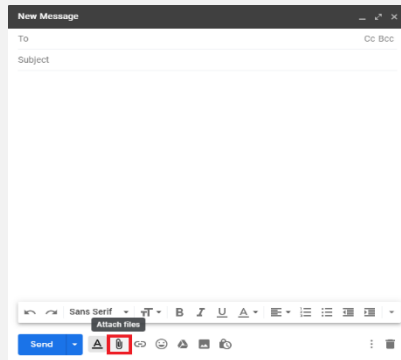
فناوری اطلاعات و مهارت های هفتگانه I.C.D.L

۱- برای ارسال کردن فایل به همراه نامه کدام گزینه استفاده می شود؟ (Www.iranestekhdam.ir)

- attach file (۱) insert (۲) copy (۳) send (۴)

پاسخ کارشناس سایت ایران استخدام: گزینه ۱

هر فایلی که بر روی رایانه شما باشد را می‌توانید از طریق Email ارسال کنید. برای این کار کافیست از منوی زیرین صفحه بر روی آیکن "سنجاق" یا "Attach File" کلیک کنید.



۲- کدام یک از موارد زیر یک سیستم عامل محسوب می شوند؟ (Www.iranestekhdam.ir)

- Netscape (۱) Photoshop (۲) PowerPoint (۳) Windows XP (۴)

پاسخ کارشناس سایت ایران استخدام: گزینه ۴

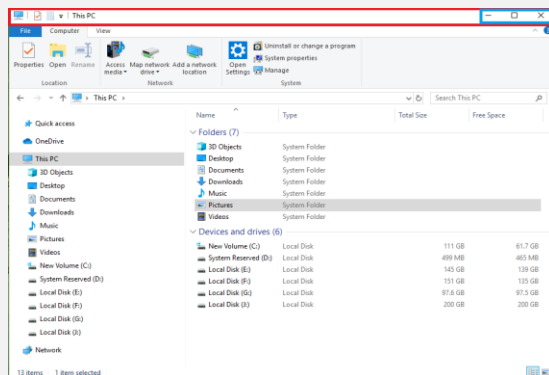
سیستم عامل، اساسی‌ترین برنامه سیستمی است که مدیریت کلیه منابع سیستم را به عهده گرفته و بستری را فراهم می‌سازد که برنامه‌های کاربردی می‌توانند بر روی آن اجرا شوند. در بین گزینه‌ها Windows XP سیستم عاملی است که برنامه‌های کاربردی روی آن اجرا می‌شوند. سایر گزینه‌ها Netscape یک شرکت خدمات کامپیوتری آمریکایی است، که در زمینه ارائه مجموعه نرم‌افزارهای اینترنتی، مرورگر وب، پورتال‌های وب و خدمات اینترنتی فعالیت می‌نماید. Photoshop یک نرم‌افزار ویرایشگر حرفه‌ای است که توسط Adobe Systems توسعه یافته که برای ساخت و ویرایش عکس‌ها بکار می‌رود. PowerPoint هم یک برنامه کامپیوتری و یکی از نرم‌افزارهای میکروسافت آفیس می‌باشد.

۳- نوار عنوان شامل کدام یک از موارد زیر نمی باشد؟ (Www.iranestekhdam.ir)

- maximize (۱) print (۲) minimize (۳) close (۴)

پاسخ کارشناس سایت ایران استخدام: گزینه ۲

در شکل زیر نوار عنوان یا تایتل بار (Title Bar) با کادر قرمز مشخص شده همانطور که مشاهده میکنید نوار عنوان شامل دکمه‌های بستن (close)، بزرگنمایی پنجره (maximize) و کوچک نمایی پنجره (minimize) می‌باشد و شامل دکمه print نمی‌باشد.



۴- کدام یک از موارد زیر سند جدید ایجاد می کند؟ (Www.iranestekhdam.ir)

- File/New (۱) Ctrl+N (۲) CTRL+S (۳) ۱ و ۲ (۴)

پاسخ کارشناس سایت ایران استخدام : گزینه ۴

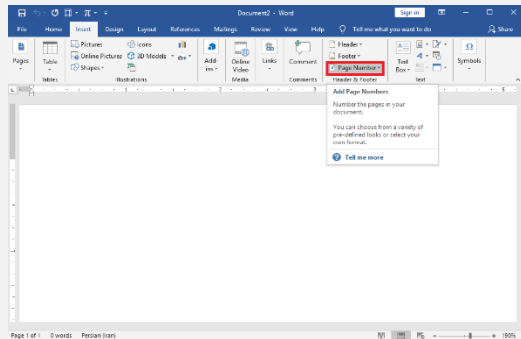
برای ایجاد یک سند جدید می‌توانید ابتدا File را انتخاب کنید تا به برگه Backstage view دسترسی پیدا کنید سپس New را انتخاب کنید و بعد روی Blank document کلیک کنید تا سند خالی و ساده شما ظاهر شود همچنین می‌توانید از کلیدهای ترکیبی Ctrl+N نیز برای ایجاد سند خالی استفاده کنید.

۵- جهت شماره گذاری صفحات کدام گزینه صحیح می باشد؟ (Www.iranestekhdam.ir)

- (۱) insert/date and time
 (۲) view/tool
 (۳) insert/page numbers
 (۴) home/paragraph

پاسخ کارشناس سایت ایران استخدام : گزینه ۳

برای شماره گذاری صفحات کافی است ابتدا وارد بخش insert شویم، سپس از بخش Header & Footer بر روی page number کلیک نماییم.



۶- برای انتقال متن از یک سطر به سطر دیگر کدام گزینه صحیح می باشد؟ (Www.iranestekhdam.ir)

- (۱) Cut
 (۲) Save as
 (۳) Copy
 (۴) Ctrl+s

پاسخ کارشناس سایت ایران استخدام : گزینه ۱

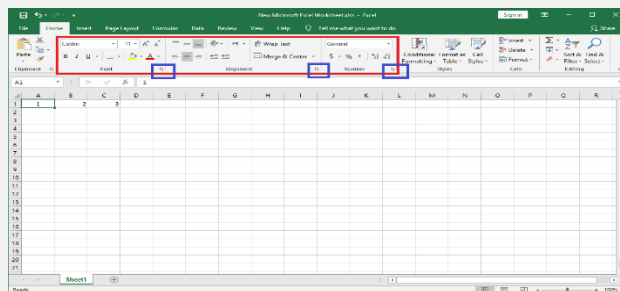
چون در صورت سوال از کلمه انتقال استفاده شده است یعنی متنی را از سطری جدا کنیم و به سطر دیگر منتقل کنیم در نتیجه برای این منظور Cut استفاده می شود.

۷- برای تعیین اینکه متن داخل سلول چگونه قرار بگیرد (چپ چین، راست چین و ..) از کدام تب مربوطه به format cells باید اقدام نمود؟ (Www.iranestekhdam.ir)

- (۱) Font
 (۲) Alignment
 (۳) Border
 (۴) Pattern

پاسخ کارشناس سایت ایران استخدام : گزینه ۲

بسیاری از تنظیمات سلول را در قسمت format cells می توان اعمال کرد برای دسترسی به پنجره format cells کافی است در هر یک از قسمت های Font ، Alignment و Number بر روی فلش کوچک رو به پایین کلیک کنید تا پنجره format cells نمایش داده شود.



پاسخ کارشناس سایت ایران استخدام : گزینه ۴

این نرم افزارها معمولا در فرآیندهای پس زمینه مشغول به کار هستند. این نرم افزارها، کار سخت افزار و دیگر برنامه ها را هماهنگ می کنند. در واقع به عنوان یک لایه، میان سخت افزار و برنامه های کاربردی قرار می گیرند. بعضی از انواع نرم افزارهای سیستمی شامل: سیستم عامل، ترجمه کننده های زبان، ابزارهای عمومی و درایور ها می باشد.

۱۲- کدامیک از برنامه های زیر جهت نسخه پشتیبان استفاده می شود؟ (Www.iranestekhdam.ir)

- Backup (۱) system tools (۲) restore (۳) defrag (۴)

پاسخ کارشناس سایت ایران استخدام : گزینه ۱

بکاپ گیری (Backup) برای تهیه یک نسخه پشتیبان از اطلاعات موجود در سیستم PC و یا موبایل ها و تبلت هاست. سه روش پشتیبان گیری (Backup) شامل:

- ۱- پشتیبان گیری کامل (Full Backup)
- ۲- پشتیبان گیری انتخابی (Selective Backup)
- ۳- پشتیبان گیری افتراقی (Differential Backup)

۱۳- بهترین راه برای جلوگیری از سرایت ویروس به سیستم کامپیوتری چیست؟ (Www.iranestekhdam.ir)

- ۱) بررسی نامه های الکترونیکی دارای فایل های الصاقی
- ۲) داشتن یک ویروس یاب که توانایی به روز شدن را داشته باشد.
- ۳) اتصال به اینترنت
- ۴) استفاده از حافظه های جانبی مثل cd و کول دیسک و ...

پاسخ کارشناس سایت ایران استخدام : گزینه ۱ و ۲

در مورد گزینه الف، یکی از راه های انتقال ویروس از طریق ایمیل است. ایمیل هایی که ویروس در آنها نهفته است با کلیک بر روی آن ها کامپیوترتان آلوده میشود ولی ایمیلی که دارای فایل آلوده است حتما باید فایل ضمیمه دانلود و اجرا گردد. راه مقابله با این ایمیل ها این است که در ابتدا ایمیل هایی که فرستنده آن را نمیشناسید باز نکنید. دوم از سرویس هایی استفاده کنید که خود ایمیل دارای آنتی ویروس بوده و اجازه ارسال ایمیل آلوده را به کاربری نمیدهد، و در صورت دریافت، اجازه باز کردن آن را به شما نمیدهد. ایمیل های ویروسی اغلب در قسمت Bulk و یا Spam هستند. پس در باز کردن آن ها دقت کنید. در مورد گزینه ب، این درست است که وجود یک آنتی ویروس و بروز رسانی آن میتواند تا حد زیادی از ورود ویروس جلوگیری کند ولی باید این نکته را در نظر داشت که استفاده از آنتی ویروس راه حل قطعی و نهایی حساب نمیشود و باز هم ممکن است ویروسی به کامپیوتر شما سرایت کند که هنوز در بانک اطلاعاتی آنتی ویروس ثبت نشده و به همین دلیل آن را شناسایی نکند. حتی احتمال این وجود دارد که یک آنتی ویروس، ویروسی را شناسایی کند ولی یک آنتی ویروس دیگر آن را به عنوان ویروس نشناسد و هیچ عکس العملی برای آن نشان ندهد به همین دلیل دانستن راههای پیشگیری از ورود ویروسها بدون در نظر گرفتن آنتی ویروس امری ضروری است و اینکه بدون نیاز به آن بتوانید تا حدی از ورود ویروس به کامپیوترتان و آلوده شدن فایلها جلوگیری کنید. با بررسی هر دو گزینه متوجه میشویم که هر دو گزینه میتواند جواب تست باشد.

۱۴- برای تغییر نام پوشه از کدام کلید استفاده می شود؟ (Www.iranestekhdam.ir)

- f1 (۱) f5 (۲) f2 (۳) f4 (۴)

پاسخ کارشناس سایت ایران استخدام : گزینه ۳

برای ویرایش نام یک پوشه یا فایل کافی است ابتدا فایلی را که می خواهید Rename کنید را انتخاب کنید سپس کلید F2 کیبورد را فشار دهید تا حالت ویرایش نام فایل فعال شود.

۱۵- کپی نامه ها بعد از ارسال در کجا نگهداری می شود؟ (Www.iranestekhdam.ir)



draft (۴)

inbox (۳)

outbox (۲)

sent (۱)

پاسخ کارشناس سایت ایران استخدام: **گزینه ۱**

این پوشه محل ذخیره نسخه پشتیبان نامه‌های ارسالی از صندوق پستی است و سابقه کلیه نامه‌های ارسالی از ابتدا تاکنون در این پوشه وجود دارد.

بخش دوم:

ریاضی و آمار مقدماتی

۱۶- در یک توزیع فراوانی دامنه تغییر برابر با ۲۰ و تعداد طبقات برابر با ۵ است. فاصله طبقاتی چند است؟

(Www.iranestekhdam.ir)

- ۵ (۱) ۱۰ (۲) ۴ (۳) ۲ (۴)

پاسخ کارشناس سایت ایران استخدام: گزینه ۳

فاصله طبقات از تقسیم دامنه بر تعداد طبقات با تقریبی اضافی به دست می آید.

$$C = \frac{\text{دامنه}}{\text{تعداد طبقات}} = \frac{R}{\text{تعداد طبقات}} = \frac{20}{4} = 5$$

۱۷- اگر ورودی یک تابع برابر ۱ بوده و ضابطه ضرب در ۲ باشد خروجی تابع چند است؟ (Www.iranestekhdam.ir)

- ۱ (۴) ۴ (۳) ۲ (۲) صفر (۱)

پاسخ کارشناس سایت ایران استخدام: گزینه ۲

در تابع، خروجی به طریقی به ورودی وابسته است. یک تابع معمولاً به صورت $f(x)$ نوشته می‌شود. بدین ترتیب « $f(x) = \dots$ » یک روش کلاسیک برای نوشتن تابع است.

سه بخش همیشه در یک تابع وجود دارند: ورودی، ضابطه و خروجی. طبق اطلاعات روی سوال داریم:

ورودی تابع یعنی: x

سوال گفته ضابطه تابع ضرب در ۲ یعنی: $f(x) = 2x$

برای درک بهتر سه بخش تابع اینجا نوشته شده اند:

خروجی	ضابطه	ورودی
۰	$\times 2$	0
2	$\times 2$	1

و همچنین از طریق نوشتن تابع داریم:

$$x = 1 \rightarrow f(1) = 2 \times 1 = 2$$

۱۸- تابع $f(x) = x$ چگونه تابعی است؟ (Www.iranestekhdam.ir)

- ۱) همانی ۲) ثابت ۳) صفر ۴) هیچ کدام

پاسخ کارشناس سایت ایران استخدام: گزینه ۱

به تابعی که ورودی و خروجی آن همواره باهم برابر باشند، تابع همانی گویند. و اگر بخواهیم آن را به صورت یک معادله بنویسیم به صورت $f(x) = x$ خواهد بود.

۱۹- دو نقطه $A(1, -2)$ و $B(-3, 0)$ دو سر قطری از یک مربع اند. مساحت مربع کدام است؟ (Www.iranestekhdam.ir)

- ۲۰ (۱) ۱۵ (۲) ۸ (۳) ۱۰ (۴)

پاسخ کارشناس سایت ایران استخدام: گزینه ۳

اگر دو نقطه A و B را در محور مختصات مشخص کنیم طول و عرض شکل مشخص می‌شود:

در نتیجه شکل مستطیل می‌باشد و طول آن ۴ و عرض آن ۲، پس برای مساحت داریم:

$$S = 4 \times 2 = 8$$

۲۰- اگر مجموعه جهانی اعداد طبیعی و A اعداد فرد باشند آنگاه A' کدام است؟ (Www.iranestekhdam.ir)

- (۱) مجموعه اعداد فرد
 (۲) مجموعه اعداد زوج
 (۳) مجموعه اعداد طبیعی
 (۴) مجموعه اعداد صحیح

پاسخ کارشناس سایت ایران استخدام: گزینه ۲

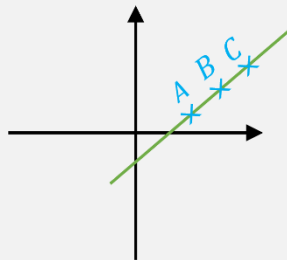
اگر U مجموعه اعداد طبیعی و A مجموعه اعداد زوج باشد، A' برابر است با مجموعه اعداد طبیعی فرد.

۲۱- عدد a را چنان تعیین کنید که سه نقطه $A(1, -1)$ و $B(0, 2)$ و $C(a, -2a)$ بر روی یک خط راست واقع باشند؟

(Www.iranestekhdam.ir)

- (۱) -۲ (۲) ۲ (۳) ۱ (۴) -۱

پاسخ کارشناس سایت ایران استخدام: گزینه ۲



اگر سه نقطه $A(x_1, y_1)$ و $B(x_2, y_2)$ و $C(x_3, y_3)$ بر روی یک خط راست باشند آنگاه:

$$m_{AB} = m_{AC} \rightarrow \frac{y_B - y_A}{x_B - x_A} = \frac{y_C - y_B}{x_C - x_B}$$

پس داریم:

$$m_{AB} = \frac{y_B - y_A}{x_B - x_A} = \frac{2 - (-1)}{0 - 1} = \frac{3}{-1} = -3 = m_{AC}$$

حال با در دست داشتن مقدار شیب، میتوان مقدار a را بدست آورد:

$$m_{AC} = -3 = \frac{y_C - y_B}{x_C - x_B} = \frac{-2a - 2}{a - 0} \rightarrow -3 = \frac{-2a - 2}{a} \xrightarrow{\text{طرفین وسطین}} 3a = -2a - 2 \rightarrow a = 2$$

۲۲- کدام دنباله فیبوناچی می باشد؟ (Www.iranestekhdam.ir)

- (۱) ۱، ۳، ۶، ۱۰، ۱۵، ...
 (۲) ۱، ۴، ۹، ۱۶، ۲۵، ...
 (۳) ۱، ۱، ۲، ۳، ۵، ۸، ...
 (۴) ۱، ۳، ۷، ۱۳، ۲۱، ...

پاسخ کارشناس سایت ایران استخدام: گزینه ۳

دنباله فیبوناچی دنباله ای است که غیر از دو عدد اول، اعداد بعدی از جمع دو عدد قبلی خود به دست می آیند:

$$1, 1, 2, \xrightarrow{1+2} 3, \xrightarrow{2+3} 5, \xrightarrow{3+5} 8$$

۲۳- دامنه تابع $y = \sqrt{x - 7}$ کدام است؟ (Www.iranestekhdam.ir)

- (۱) $[7, \infty)$ (۲) $(7, \infty)$ (۳) $(-\infty, 7]$ (۴) $(-\infty, 7)$

پاسخ کارشناس سایت ایران استخدام: گزینه ۱

برای تعیین دامنه توابع رادیکالی، اگر فرجه رادیکال زوج باشد، کفایت عبارت زیر رادیکال را بزرگتر مساوی صفر قرار دهیم؛ اگر فرجه

رادیکال فرد باشد، دامنه تابع برابر است با مجموعه اعداد حقیقی. $x - 7 \geq 0 \rightarrow x \geq 7 \rightarrow \text{دامنه} = [7, +\infty)$

۲۴- ساده شده ی عبارت $(12^{-2}) + (32^3)(0.75^5)$ کدام است؟ (Www.iranestekhdam.ir)

- (۱) ۱۸ (۲) ۲۷ (۳) ۳۶ (۴) ۵۴

پاسخ کارشناس سایت ایران استخدام: گزینه ۴

$$\left(\frac{75}{100}\right)^5 (32)^3 + (12)^{-2} = \left(\frac{3 \times 5^2}{2^2 \times 5^2}\right)^5 (2^5)^3 + \left(\frac{1}{3 \times 2^2}\right)^2 = \frac{3^5 \times 5^{10} \times 2^{15} \times 1}{2^{10} \times 5^{10} \times 3^2 \times 2^4} = 3^5 \times 2^1 = 54$$

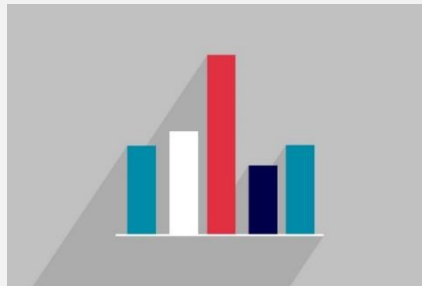
۲۵- برای نمایش داده هایی که با مقیاس اسمی اندازه گیری شده اند از کدام نمودار استفاده می شود؟

(Www.iranestekhdam.ir)

- (۱) هیستوگرام (۲) میله ای (۳) چند ضلعی (۴) اجابو

پاسخ کارشناس سایت ایران استخدام: گزینه ۲

نمودار میله ای: این نمودار هنگامی سود مند است که داده های جمع آوری شده متعلق به متغیر های گسسته و با استفاده از مقیاس اسمی رتبه ای، فاصله ای و نسبی اندازه گیری می شوند.



۲۶- متغیر تعداد دانشجو چه نوع متغیری است؟ (Www.iranestekhdam.ir)

- (۱) پیوسته (۲) گسسته (۳) کیفی (۴) اسمی

پاسخ کارشناس سایت ایران استخدام: گزینه ۲

انواع متغیر:

متغیرهای پیوسته (Continuous Variables)

متغیر پیوسته، متغیری است که بین دو واحد آن هر نقطه یا ارزشی را میتوان انتخاب کرد. در این متغیر درجات مختلف اندازه گیری وجود دارد و دقت وسیله اندازه گیری، تعداد این درجات را تعیین می کند. به عنوان مثال، وزن یک متغیر پیوسته است و میتواند بین صفر تا بینهایت باشد.

متغیرهای گسسته (Discreet Variables)

متغیر گسسته میتواند اعداد یا ارزشهایی را که مشخص کننده یک وجه مشخص و معین از یک مقیاس هستند، به خود اختصاص دهد. به عنوان مثال، جنس یک متغیر گسسته است: یک شخص یا زن است یا مرد. اختصاص هر نوع ارزش دیگری بین این دو نوع ارزش امکانپذیر نیست. تعداد دانشجو نیز یک متغیر گسسته است، زیرا فقط امکان داشتن ۱، ۲، ۳، ۴، ۵ و ... دانشجو وجود دارد و نه مثلاً ۷/۵ نفر دانشجو.

۲۷- به ارزش ها و اندازه های مربوط به نمونه آماری چه می گویند؟ (Www.iranestekhdam.ir)

- (۱) آماره (۲) متغیر (۳) پارامتر (۴) داده

پاسخ کارشناس سایت ایران استخدام: گزینه ۱

تعریف آماره:

برای محاسبه پارامتر جامعه نمونه ای از جامعه انتخاب می کنیم. (نمونه می تواند کل جامعه باشد(سرشماری)) و مقدار متغیرها (در این مثال معتاد بودن یا نبودن) را مشاهده می کنیم. حال برای محاسبه پارامتر جامعه نیاز است که به وسیله تابعی (شاخصی) این مقادیر را به یک عدد تبدیل نمائیم. به این تابع که برای برآورد (تخمین) مقدار پارامتر جامعه از آن استفاده می کنیم آماره می گوئیم. همان گونه که مشخص است مقدار آماره برای یک نمونه ثابت است ولی با تغییر نمونه مقدار آن نیز تغییر می کند بنابراین آماره نیز خود یک تابع تصادفی است.

۲۸- اگر مقیاس متغیر اسمی باشد برای اندازه گیری گرایش مرکزی آن از چه اندازه ای استفاده می شود؟

(Www.iranestekhdam.ir)

- (۱) میانگین (۲) میانه (۳) مد (۴) واریانس

پاسخ کارشناس سایت ایران استخدام: گزینه ۳

از آنجا که مقیاس اسمی ارزش عددی ندارد، بنابراین داده‌ای که در این مقیاس گردآوری شده را نمی‌توان در شاخص‌های گرایش مرکزی میانگین و میانه گزارش کرد. مد شاخص گرایش مرکزی است که برای گزارش چنین داده‌ای استفاده می‌شود. مد، رخداد فراوان‌ترین عدد در یک توزیع است. برای مثال، در گزارش تعداد مردان و زنان، گروهی که دارای بیشترین فراوانی باشد، مد آن توزیع به شمار می‌آید.

۲۹- برای مقایسه میزان پراکندگی داده‌هایی که واحدهای سنجش متفاوتی دارند از چه اندازه ای استفاده میشود؟

(Www.iranestekhdam.ir)

- (۱) واریانس (۲) انحراف معیار (۳) انحراف متوسط (۴) ضریب پراکندگی

پاسخ کارشناس سایت ایران استخدام: گزینه ۴

ضریب پراکندگی یکی از معیارهای پراکندگی نسبی است که با فرمول زیر بیان می‌شود:

$$CV = \frac{\sigma_x}{\mu_x}$$

ضریب پراکندگی برای مقایسه دو جامعه در مواردی استفاده می‌شود که:

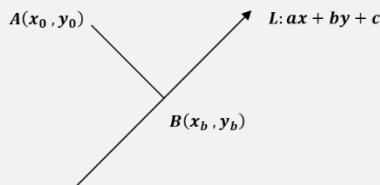
- ۱- مقیاس‌ها یکسان نیستند
- ۲- مقیاس یکسان ولی تفاوت زیادی در بزرگی مشاهدات وجود دارد
- ۳- واریانسهای جوامع یکسان ولی میانگین‌هایشان متفاوت است

۳۰- فاصله نقطه $A(0,1)$ از خط $3X - 4Y + 1 = 0$ کدام است؟ (Www.iranestekhdam.ir)

- (۱) ۱ (۲) $\frac{4}{5}$ (۳) $\frac{3}{5}$ (۴) $\frac{1}{5}$

پاسخ کارشناس سایت ایران استخدام: گزینه ۳

فاصله نقطه $A(x_0, y_0)$ از خط $ax + by + c$ از فرمول زیر بدست می‌آید:



$$|AB| = d = \frac{|ax_0 + by_0 + c|}{\sqrt{a^2 + b^2}} = \frac{|3 \times 0 - 4 \times 1 + 1|}{\sqrt{3^2 + (-4)^2}} = \frac{3}{5}$$

بخش سوم:

زبان و ادبیات فارسی

۳۱- اثری ادبی و اجتماعی از زبان حیوانات که بوسیله ابوالمعالی نصر الله منشی از عربی به زبان فارسی ترجمه شده است؟
(Www.iranestekhdam.ir)

- (۱) مرصاد العباد (۲) چهار مقاله (۳) مرزبان نامه (۴) کلیله و دمنه

پاسخ کارشناس سایت ایران استخدام: گزینه ۴

کلیله و دمنه کتابی است از اصل هندی که در دوران ساسانی به فارسی میانه ترجمه شد. کلیله و دمنه کتابی پندآمیز است که در آن حکایت‌های گوناگون (بیشتر از زبان حیوانات) نقل شده است. نام آن از نام دو شغال با نام‌های کلیله و دمنه گرفته شده است. کتاب ترجمه کلیله و دمنه نوشته ابوالمعالی نصر الله منشی در قرن ششم ه ق و به زبان فارسی صورت گرفت؛ وی در نزد بهرام شاه غزنوی تقرب تام داشت و بخاطر این اختصاص کلیله و دمنه را برای بهرام شاه غزنوی ترجمه کرد و آنرا کلیله و دمنه بهرام شاهی نام نهاد.

۳۲- وزیر الب ارسلان و نویسنده مشهور کتاب سیاست نامه؟ (Www.iranestekhdam.ir)

- (۱) عنصرالمعالی کیکاووس (۲) خواجه نظام الملک (۳) ابوالفضل بیهقی (۴) امام محمد غزالی

پاسخ کارشناس سایت ایران استخدام: گزینه ۲

سیاست‌نامه یا سیرالملوک، کتابی است به زبان فارسی در آیین فرمانروایی و کشورداری و اخلاق و سیاست پادشاهان پیشین، نوشته خواجه نظام‌الملک طوسی. خواجه نظام‌الملک طوسی وزیر نیرومند دو تن از شاهان دوره سلجوقیان (آلب ارسلان و ملکشاه) در ایران بود.

۳۳- املائی کدام کلمه نادرست است؟ (Www.iranestekhdam.ir)

- (۱) رزیت (۲) مصلا (۳) کسرا (۴) نقوی

پاسخ کارشناس سایت ایران استخدام: گزینه ۱

املائی صحیح رذیلت با «ذ» است. از ریشه ی «رذل» (رذیلت : ناکسی و فرومایگی)

۳۴- نشانه ای که به معنی نقل و قول به کار می رود؟ (Www.iranestekhdam.ir)

- (۱) سه نقطه (۲) دو نقطه (۳) نقطه ویرگول (۴) خط فاصله

پاسخ کارشناس سایت ایران استخدام: گزینه ۲

دو نقطه، نشانی در نگارش و املا است که در موارد زیر استفاده می‌شود:

۱- قبل از نقل قول:

صاحب‌نظران آموزشی می‌گویند: «شرط درست نوشتن، درست فهمیدن است.»

۲- هنگام برشمردن اجزای یک چیز:

اساس نگارش خوب، دانستن و رعایت چند نکته است: چشم باز، گوش شنوا، دقت و ...

۳- مقابل واژه‌هایی که می‌خواهیم آنها را معنی کنیم:

حلیت: پیرایه

۳۵- در نگارش عموماً با رقم نوشته می شود؟ (Www.iranestekhdam.ir)

- (۱) اعداد خاص (۲) اعداد ترتیبی (۳) اعداد یک رقمی (۴) اعداد آغاز جمله

پاسخ کارشناس سایت ایران استخدام: گزینه ۱

عددنویسی:

اصل:

اعداد یک‌تکه (بی‌واو)، به حرف: هشت، یازده، بیست، هفتاد، سیصد.

اعداد چندتکه (واودار)، به رقم: ۳۵، ۹۴، ۳۸۶

دو استثناى حرفی:

عدد ترتیبی (مُم مُین)، به حرف: ششم، بیست و یکم، سی و ششمین، هفتاد و هشتم، صد و بیست و نهمین.

عدد آغاز جمله، به حرف: صد و شصت نفر از این مرحله گذر کردند.

سه استثناى رقمی:

عددهای خاص، به رقم: پ ۱۲، منطقه ۵ شهرداری، اتاق ۱۹

درصدها، به رقم: ۲ درصد، ۳۶ درصد، ۹۹ درصد، ۱۰۰ درصد.

اعداد کسری کمتر از واحد: به حرف، دو پنجم، یک سوم.

۳۶- کدام گزینه از شاعران سبک خراسانی نیست؟ (Www.iranestekhdam.ir)

(۱) رودکی (۲) فردوسی (۳) مولوی (۴) مسعود سعد سلمان

پاسخ کارشناس سایت ایران استخدام: گزینه ۳

سبک ادبی خراسانی سبک و شیوه شاعران خراسان و فرارود بود که از اوایل قرن چهارم تا اواسط قرن ششم هجری کاربرد داشت. نخستین شعرهای زبان فارسی به این سبک سروده شده‌اند. از صاحبان سبک خراسانی می‌توان به شاعران زیر اشاره کرد: رودکی، شهید بلخی، ابوشکور بلخی، منجیک ترمذی، کسایى مروزی، دقیقی طوسی، فردوسی، عنصری بلخی، فرخی، غضایری، رازی، عسجدی، منوچهری دامغانی، فخرالدین اسعد گرگانی، مسعود سعد سلمان، امیر معزی، ابوالفرج رونی، ناصر خسرو و سنایی.

۳۷- جمع کدام یک از کلمه های زیر نادرست است؟ (Www.iranestekhdam.ir)

(۱) لبنیات (۲) دخانیات (۳) شیلات (۴) دستورات

پاسخ کارشناس سایت ایران استخدام: گزینه ۴

به کار بردن واژه دستورات اشتباه است برای جمع بستن این کلمه باید از علامت جمع فارسی؛ یعنی «ها» استفاده کرد. صورت درست این کلمه: دستورها.

۳۸- واژه قافیه در بیت زیر کدام است؟ (Www.iranestekhdam.ir)

با من بگو تا کیستی، مهری؟ بگو، ماهی؟ بگو / خوابی؟ خیالی؟ چیستی؟ اشکی؟ بگو، آهی؟ بگو

(۱) بگو و بگو (۲) مهری و اشکی (۳) ماهی و آهی (۴) آهی و آهی

پاسخ کارشناس سایت ایران استخدام: گزینه ۳

توجه داشته باشید که برای یافتن قافیه و قاعده ی آن ابتدا باید کلمات قافیه را به درستی بیابیم. برای این منظور، به وجود کلماتی که در پایان مصراع قرار میگیرند، دقت کنید.

۱. برای پیدا کردن قاعده ی قافیه، ابتدا باید «ردیف» را پیدا کرد و آن را کنار گذاشت و میدانیم که ردیف، کلمات همشکل و هم معنی

است. «با من بگو تا کیستی؟ مهری بگو، ماهی بگو / خوابی؟ خیالی؟ چیستی؟ اشکی بگو، آهی بگو»

در این بیت، واژه ی «بگو» در یک معنای واحد در انتهای هر دو مصراع تکرار شده و ردیف است. پس آن را کنار گذاشته و در میابیم که کلمات «ماهی» و «آهی» واژگان قافیه اند.

۳۹- در کدام مصراع کنایه است؟ (Www.iranestekhdam.ir)

(۱) هنوز از دهان بوی شیر آیدش (۲) دوست نگردند فقیر و غنی
(۳) حقایق سرایی است آراسته (۴) نرگس مست نوازش کن مردم دارش

پاسخ کارشناس سایت ایران استخدام: گزینه ۱

هنوز از دهان بوی شیر آیدش کنایه از این که هنوز بچه است و بارز ترین نشانه ی بچگی همان شیر خوردن است.

۴۰- او معروف به لسان الغیب است و قرآن را با چهارده روایت از بر داشت؟ (Www.iranestekhdam.ir)

- (۱) ابوعلی سینا (۲) خواجه نصیر الدین طوسی (۳) حافظ (۴) مولوی

پاسخ کارشناس سایت ایران استخدام: گزینه ۳

خواجه شمس‌الدین محمد شیرازی متخلص به "حافظ"، غزلسرای بزرگ و از خداوندان شعر و ادب پارسی است. وی حدود سال ۷۲۶ هجری قمری در شیراز متولد شد. علوم و فنون را در محفل درس استادان زمان فراگرفت و در علوم ادبی عصر پایه‌ای رفیع یافت. خاصه در علوم فقهی و الهی تأمل بسیار کرد و قرآن را با چهارده روایت مختلف از بر داشت

۴۱- بیت توانا بود هرکه دانا بود ز دانش دل پیر برنا بود از اوست؟ (Www.iranestekhdam.ir)

- (۱) سعدی (۲) رودکی (۳) فردوسی (۴) نظامی

پاسخ کارشناس سایت ایران استخدام: گزینه ۳

حکیم ابوالقاسم فردوسی توسی (زاده ۳۲۹ هـ، ۳۱۹ هـ - درگذشته پیش از ۴۱۱ هـ، ۳۹۷ هـ در توس خراسان)، سخن‌سرای نامی ایران و سراینده شاهنامه حماسه ملی ایرانیان. او را بزرگ‌ترین سراینده پارسی‌گو دانسته‌اند. نام و آوازه فردوسی در همه جای جهان شناخته و ستوده شده است. شاهنامه فردوسی به بسیاری از زبان‌های زنده جهان برگردانده شده است. در ایران روز ۲۵ اردیبهشت به نام روز بزرگداشت فردوسی نامگذاری شده است. بیت " توانا بود هرکه دانا بود ز دانش دل پیر برنا بود " در بخش آغازین کتاب شاهنامه فردوسی آورده شده است.

۴۲- پدر مثنوی سرای بزمی و عاشقانه ایران؟ (Www.iranestekhdam.ir)

- (۱) رودکی (۲) نظامی (۳) جمال الدین اصفهانی (۴) حافظ

پاسخ کارشناس سایت ایران استخدام: گزینه ۲

الیاس بن یوسف نظامی گنجه ای شاعر داستان سرا و رمزگوی سده ششم ایران، بزرگترین داستان سرای منظومه های حماسی عاشقانه به زبان پارسی است. اثر مشهور او پنج گنج است.

۴۳- از نویسندگان نثر مسجع است؟ (Www.iranestekhdam.ir)

- (۱) خواجه عبدالله انصاری (۲) ابوعلی بلخی (۳) ناصر خسرو قبادیانی (۴) غزالی

پاسخ کارشناس سایت ایران استخدام: گزینه ۱

نثر و شعری که در آن آرایه سجع به کار رود، مُسَجَّع یا آهنگین نامیده می‌شوند. در ادب پارسی، نثر مسجع با آثار خواجه عبدالله انصاری آغاز شد.

۴۴- شعر "آب را گل نکنیم در فرو دست انگار، کفتری میخورد آب" از اوست؟ (Www.iranestekhdam.ir)

- (۱) پروین اعتصامی (۲) ایرج میرزا (۳) اخوان ثالث (۴) سهراب سپهری

پاسخ کارشناس سایت ایران استخدام: گزینه ۴

این بیت مربوط به قطعه آب از کتاب حجم سبر، سهراب سپهری می باشد.



۴۵- کتاب سگ ولگرد از اوست؟ (www.iranestekhdam.ir)

(۱) صادق هدایت (۲) جمال زاده (۳) جلال آل احمد (۴) صادق چوبک

پاسخ کارشناس سایت ایران استخدام: گزینه ۱

«سگ ولگرد» داستان کوتاهی از صادق هدایت است که نخستین بار در سال ۱۳۲۱ خورشیدی همراه با هفت داستان دیگر در مجموعه داستانی به همین نام در تهران منتشر شد. داستان آن درباره سگ اصیل اسکاتلندی به نام پات است که پس از گم کردن صاحب خود، سرگردان شده و از سوی انسان‌ها مورد آزار و اذیت قرار می‌گیرد. پات سگی معمولی نیست، او در آرزوی بازگشت به دوران کودکی است و در ته چشم‌هایش، روحی انسانی دیده می‌شود.

بخش چهارم:

معارف اسلامی

۴۶- اگر از فرهنگ فطر پسند اسلام به ترتیب جویای «علت» و «ره آورد» پرورش روحیه عبودیت و یکتا پرستی باشیم، کدام گزینه وافی به این مقصود است؟ (Www.iranestekhdam.ir)

- (۱) توحید - تامین مصالح جامعه
(۲) ایمان - تامین مصالح جامعه
(۳) اخلاص - فضایل اخلاقی
(۴) اسلام - فضایل اخلاقی

پاسخ کارشناس سایت ایران استخدام : گزینه ۲

یکی از شرط های پذیرفته شدن نماز، اخلاص و دوری از انگیزه های مادی (جلب نظر دیگران، نفع مادی و یا ...) می باشد. مقصود از اخلاص این است که انگیزه ی عبادت و پرستش خدا فقط انجام تکالیف الهی، یا بالاتر از آن شایستگی ذات او برای عبادت باشد. عنصر اخلاص در آدمی باعث پرورش روحیه عبودیت به عنوان یک صفت متعالی می گردد و این روحیه مبدأ بسیاری از فضایل اخلاقی است.

۴۷- مولود مبارک استواری قوانین واپسین دین الهی بر ساختار وجودی و فطرت انسانی چیست و مصداقی از عوامل تاثیر گذار بر آن کدام است؟ (Www.iranestekhdam.ir)

- (۱) عدم تحریف قرآن کریم - مفتوح بودن باب اجتهاد
(۲) عدم تحریف قرآن کریم - پیروی از قواعد ثابت فقهی نفی ضرر و نفی حرج
(۳) جاودانگی دین اسلام - اراده الهی و اهتمام پیامبر (ص)
(۴) جاودانگی دین اسلام - ثبات قدم مسلمانان پس از رحلت پیامبر (ص) در اعتقاد و عمل

پاسخ کارشناس سایت ایران استخدام : گزینه ۴

اسلام دین ثابت و جاودانه:

در قرآن از دین الهی بعنوان اسلام یاد شده است و درباره ثبات آن براهین اقامه شده است که به بیان آن پرداخته می شود:

۱- این برهان که مبتنی است بر مبدأ فاعل دین از انضمام دو آیه حاصل می شود. آیه اول می فرماید: "ان الذین عند الله السلام" یعنی تسلیم و انقیاد در برابر حق تنها دینی است که در نزد خداوند به رسمیت شناخته شده است و آیه دوم نیز می فرماید: "ما عندکم ینفذ و ما عند الله باق" یعنی آنچه در نزد شماست فناپذیر و از بین رفتنی است و آنچه در نزد خداست همیشگی و باقی است. ملحض برهان اینست که دین اسلام نزد خداوند است و آنچه در نزد خداست باقی است پس دین اسلام باقی است.

۲- در برهان دوم که دین مبتنی بر فطرت است مبدأ قابلی دین مطرح شده است. به این بیان که اسلام برای پرورش و شکوفایی فطرت انسانی نازل شده است و فطرت انسانی امری ثابت و تغییر ناپذیر است. چنانکه فطرت اصیل همه انسانها متحد است. آنچه که در زندگی انسان محل تغییر است آداب، عادات و رسوم است که متعلق به طبیعت و زندگی مادی است. اما ساختار درونی و روحی انسان که امری خداتطلب است، ثابت و مشترک بین همگان است. پس دینی که برای تربیت فطرت انسانها تنظیم می شود ثابت و مشترک خواهد بود.

در مورد قسمت دوم سوال آیین مقدس اسلام علاوه بر ادعای خاتمیت، مدعی جاودانگی نیز است. ادعای خاتمیت با جاودانگی ملازمه ای ندارد، زیرا ممکن است خداوند با ارسال آخرین پیامبر خود دفتر نبوت و شریعت را ببندد و طی نمودن ادامه راه را به عقول مردم بسپارد.

۴۸- آیه شریفه «وَأَبْتَعُ فِيمَا آتَاكَ اللَّهُ الدَّارَ الْآخِرَةَ وَلَا تَنْسَ نَصِيْبَكَ مِنَ الدُّنْيَا وَأَحْسِنَ كَمَا أَحْسَنَ اللَّهُ إِلَيْكَ» مبین کدام معیار تمدن اسلامی است و کدام روایت شریفه مفسر آن می باشد؟ (Www.iranestekhdam.ir)

- (۱) عدالت در امور مادی و معنوی - امیر مومنان (ع) : « با دنیا آخرت کسب می شود»
(۲) عدالت در داوری - رسول خدا (ص) : « هر کس به یک ذمی (اهل کتاب) آزاری برساند من دشمن او میشوم»
(۳) مدارا و همزیستی مسالمت آمیز - امیر مومنان (ع) : « با دنیا آخرت کسب میشود»
(۴) حق محوری و مبارزه با باطل - رسول خدا (ص) : « هر کس به یک ذمی (اهل کتاب) آزاری برساند من دشمن او میشوم»

پاسخ کارشناس سایت ایران استخدام : گزینه ۱

این آیه قسمتی از آیه ۷۷ سوره قصص می باشد.

متن کامل آیه به همراه ترجمه:

وَأَبْتَعْ فِيمَا آتَاكَ اللَّهُ الدَّارَ الْآخِرَةَ وَ لَا تَنْسَ نَصِيبَكَ مِنَ الدُّنْيَا وَأَحْسِنْ كَمَا أَحْسَنَ اللَّهُ إِلَيْكَ وَ لَا تَبْغِ الْفُسَادَ فِي الْأَرْضِ إِنَّ اللَّهَ لَا يُحِبُّ
الْمُفْسِدِينَ ﴿٧٧﴾

و به هر چیزی که خدا به تو عطا کرده بکوش تا (ثواب و سعادت) دار آخرت تحصیل کنی و لیکن بهره‌ات را هم از (لذات و نعم حلال) دنیا فراموش مکن و (تا توانی به خلق) نیکی کن چنانکه خدا به تو نیکویی و احسان کرده و هرگز در روی زمین فتنه و فساد برمینگیز، که خدا مفسدان را ابدًا دوست نمی‌دارد. (۷۷)

نکته‌ها:

حضرت علی علیه السلام در تفسیر جمله‌ی «لَا تَنْسَ نَصِيبَكَ مِنَ الدُّنْيَا» فرمود: «یعنی از سلامتی، قوت، فراغت، جوانی و شادابی خود برای آخرت استفاده کن».

پیام‌های این آیه:

- ۱- دنیا مزروعی آخرت است. «وَأَبْتَعْ فِيمَا آتَاكَ اللَّهُ الدَّارَ الْآخِرَةَ» (به قارون گفته شد: از این امکانات سرای آخرت را دنبال کن.)
- ۲- دارایی ثروتمندان، از آن خداست. «آتَاكَ اللَّهُ»
- ۳- آخرت را باید با جدیت دنبال نمود، هر چند دنیا را نیز نباید فراموش کرد. «أَبْتَعْ - لَا تَنْسَ»
- ۴- مال و ثروت می‌تواند وسیله‌ی سعادت اخروی گردد. «وَأَبْتَعْ فِيمَا آتَاكَ اللَّهُ الدَّارَ الْآخِرَةَ»
- ۵- موعظه‌ی ثروتمندان، کار پسندیده‌ای است. وَ أَبْتَعْ ...
- ۶- هر کس به سهم و نصیب خود اکتفا کند و باقی را صرف آخرت نماید. وَ أَبْتَعْ ... وَ لَا تَنْسَ نَصِيبَكَ ...
- ۷- در موعظه، به نیازهای طبیعی هم توجه داشته باشیم. «لَا تَنْسَ نَصِيبَكَ»
- ۸- ثروت بی‌حد، بهره‌مندی بی‌حساب را دنبال ندارد. نصیب هر کس محدود و مشخص است. «نَصِيبَكَ»
- ۹- آخرت طلبی از طریق احسان به دیگران است. وَ أَبْتَعْ ... وَ أَحْسِنْ
- ۱۰- برای دعوت دیگران به احسان، یادآوری احسان الهی در حق آنان کارساز است. «أَحْسِنْ كَمَا أَحْسَنَ اللَّهُ إِلَيْكَ»
- ۱۱- سرمایه‌داران بی‌ایمان، در معرض فساد هستند. «لَا تَبْغِ الْفُسَادَ»

۴۹- زمینه ساز ظهور "سکولاریسم" و "راهکار برون رفت و رهایی از قیود بندگی نفس اماره و شیطان" به ترتیب در کدام گزاره مشهود است؟ (Www.iranestekhdam.ir)

- ۱) تفاسیر ناصواب از کتاب مقدس مسیحیان - تبعیت از هدایت تشریحی برای تامین سعادت دنیا و عقبی
- ۲) انتفاء مفاهیم ماوراء طبیعی از روی ناآگاهی - استمداد از حجت درون توأم با تزکیه نفس برای برقراری عدالت و انصاف
- ۳) تفاسیر ناصواب از کتاب مقدس مسیحیان - استمداد از حجت درون توأم با تزکیه نفس برای برقراری عدالت و انصاف
- ۴) انتفاء مفاهیم ماوراء طبیعی از روی ناآگاهی - تبعیت از هدایت تشریحی برای تامین سعادت دنیا و عقبی

پاسخ کارشناس سایت ایران استخدام: گزینه ۱

زمینه های شکل گیری سکولاریسم در غرب شامل:

- ۱-نارسایی تعالیم انجیل و مسیحیت
 - ۲-نهضت اصلاح دینی
 - ۳-تماس با فرهنگهای ملل جهان
- در قسمت دوم سوال، آشنایی با بدی‌ها و خوبی‌ها برای ترغیب انسان به درستکاری کافی نیست؛ بلکه ابزارهایی برای تشویق و ترغیب لازم است و این ابزارها همان انذارها و تبشیرهای وحیانی‌اند که در سایه هدایت تشریحی فراهم می‌آیند.

۵۰- عاملی که "عطش حقیقت طلبی آدمی رو تا حدی فرو می‌نشانند" و "نقش مهمی در شکل‌گیری افعال و اعمال او دارد" با حفظ رتبه تقدم و تاخر کدام است؟ (Www.iranestekhdam.ir)

(۱) پاسخ به پرسش هایی همچون آیا این دنیا کشتگاه آخرت است؟ - شناخت زاد سفر در مسیر بندگی

(۲) سوال هایی از قبیل آیا زندگی با مرگ پایان می پذیرد یا پس از آن زندگی دیگری خواهد بود؟ - حیات دنیوی توام با ایمان و عمل صالح

(۳) پاسخ به پرسش هایی همچون آیا این دنیا کشتگاه آخرت است؟ - آشنایی با حیات اخروی

(۴) پاسخ به پرسش هایی همچون آیا این دنیا کشتگاه آخرت است؟ - شناخت غایت و هدف زندگی

پاسخ کارشناس سایت ایران استخدام: گزینه ۴

«فلسفه حیات» یا «هدف زندگی» از مسائل مهم انسان شناسی به شمار می رود و یکی از اساسی ترین موضوعات زندگی انسان است. اگر انسان نتواند در یابد که «هدف از حیات چیست» و پاسخ مناسبی برای این پرسش نداشته باشد، زندگی را بی معنی خواهد یافت. تلاشهای روزمره زندگی انسان، زمانی مفهوم خواهد یافت که «هدف نهایی از زندگی» روشن باشد.

۵۱- "چگونگی صیانت از وحی الهی جهت تحقق غرض نبوت که ایصال صحیح پیام خداوند به انسان ها می باشد" و "بستر ساز

اعتماد مردم به پیامبران که حکما جملگی در قبول آن متفق القولند" به ترتیب کدام است؟ (Www.iranestekhdam.ir)

(۱) فرشتگان محیط پیامبر هستند و خداوند محیط فرشتگان و پیامبر - عصمت از گناه و معاصی

(۲) فرشتگان محاط پیامبر هستند و خداوند محاط فرشتگان و پیامبر - عصمت از گناه و معاصی

(۳) فرشتگان محاط بر پیامبر هستند و خداوند محاط فرشتگان و پیامبر - عصمت در حوزه دریافت، حفظ و ابلاغ وحی

(۴) فرشتگان محیط بر پیامبر هستند و خداوند محیط فرشتگان و پیامبر - عصمت در حوزه دریافت، حفظ و ابلاغ وحی

پاسخ کارشناس سایت ایران استخدام: گزینه ۴

در مورد قسمت اول سوال: محاط هیچ وقت محیط نمیشود و محیط هیچگاه محاط نمیگردد، عقل هر انسان عاقلی در ابتدا به این مطلب دلالت می کند، اگر چیزی محیط بوده و اشیاء دیگر را در بر گرفت دیگر معنا ندارد که اشیاء داخل آن شیء نیز بر آن شیء محیط، احاطه پیدا کنند. برای مثال دهان محیط بر زبان و دندان ها است و این دو توسط دهان احاطه شده اند، یعنی دهان محیط است و دندان و زبان محاط. معنا ندارد که بگوییم دندانی که دهان آن را احاطه کرده است، خود نیز بر دهان احاطه پیدا کند، که اگر چنین شود جای محیط و محاط عوض می شود. حال اگر اندکی تأمل کنیم می یابیم که خداوند متعال بر تمام مخلوقاتش احاطه دارد و و محیط بر آنان است. پس هیچ خلقی از خداوند نمی تواند بر وی احاطه یابد و محیط بر وی گردد. عقل نیز که حجت درونی خداوند است و اولین مخلوق او و آیت و تجلی عظیمی از سوی خداست نیز در هر مخلوق او بوده و محال است بر خالق خویش احاطه پیدا کند. بنابراین به شهادت و دلالت عقل، می یابیم که به وسیله عقل، خداشناسی، معرفت زایی، و احاطه علمی پیدا کردن نسبت به خداوند ممکن نیست. خداوند نیز در قرآن چنین می فرماید: *والله من ورائهم محیط (بروج ۲۰)* خداوند در پس تمام (مخلوقات) محیط است. در مورد قسمت دوم سوال: عصمت انبیاء در مقام دریافت، حفظ و ابلاغ وحی: این عصمت مورد اتفاق همه متکلمان اسلامی است چرا که بدون آن هدف نبوت تحقق نمی یابد. برای اثبات این نوع از عصمت می توان به دلایل عقلی و نقلی تمسک نمود.

۵۲- یک سنت حاکم بر زندگی انسان ها در طول تاریخ پر فراز و فرود بشریت چیست؟ (Www.iranestekhdam.ir)

(۱) سرنوشت آدمی از طریق اعجاز تغییر می کند.

(۲) تغییر سرنوشت انسان ها موخر از آماده شدن اندیشه و روان و فطرت آن ها است.

(۳) ایجاد انقلاب و دگرگونی در سرنوشت اجتماعی انسان ها به طور دفعی صورت می پذیرد.

(۴) خودسازی و دگرسازی برخی افراد جامعه مقدم بر اعطاء نعمت الهی است.

پاسخ کارشناس سایت ایران استخدام: گزینه ۲

عوض شدن سرنوشت انسان در دست اختیار خود اوست. خداوند هرگز بدون توجه به اعمال و رفتار انسان ها، و اراده و تلاش آنها سرنوشت حتمی را برای آنها رقم نمی زند، اگر هم سرنوشت حتمی بر اثر اعمال انسان ورق بخورد، خود انسان چنین سرنوشتی را رقم زده و قابل تعویض هم نیست. به بیان دیگر، دو نوع سرنوشت داریم، حتمی و غیر حتمی، حتمی آن است که یا فراتر از اختیار آدمی است مثل خروج از دنیا و ورود به

جهانی دیگر و یا بر اساس اسباب و عوامل و اراده و اختیار و تلاش نهایی انسان نهایی ترین سرنوشت برای او رقم خورده، این قابل عوض شدن نیست.

۵۳- مطابق اندیشه اسلامی پیروان ادیان دیگر غیر از اسلام در چه صورت قاصرند و استحقاق سکنی گزینی در بهشت برین را کسب نمی نمایند؟ (Www.iranestekhdam.ir)

- ۱) گروهی از اهل کتاب که علی رغم ادراک حقانیت آخرین شریعت الهی به پیروی از آئین نیاکان خود ابرام دارند.
- ۲) گروهی که بر اثر عوامل محیطی و تبلیغاتی از درک حقانیت دین اسلام عاجز مانده اند.
- ۳) عده ای از یهودیان و نصاری که به جهت استضعاف فکری، پیام دین نجات بخش را نشنیده اند.
- ۴) عده ای از پیروان ادیان قبل که عامل به شریعت خود هستند و از آمدن پیامبر جدید آگاه نشده اند.

پاسخ کارشناس سایت ایران استخدام: گزینه ۱

قرآن و روایات به طور صریح اعلام می دارد که تنها اسلام و تشیع که همان حقیقت اسلام ناب است، از افراد پذیرفته می شود و این به معنای آن نیست که همه شیعیان اسمی وارد بهشت می شوند.

افراد دیگر ادیان و مذاهب، به سه دسته تقسیم می شوند که هر یک حکمی جداگانه دارند:

- ۱- با اسلام و تشیع آشنا شده، ولی به دلیل تعصب یا عناد و لجاجت از پذیرفتن آن سر باز می زنند؛ چنین افرادی به فرموده قرآن کریم، اهل جهنم می باشند.
- ۲- با اسلام و تشیع آشنا نیستند، ولی در جهالت خود مقصرند؛ یعنی از وجود دینی به نام اسلام یا مذهبی به نام تشیع مطلع بوده، ولی با وجود همه امکانات و شرایط لازم، برای جست و جوی حقیقت اقدامی نمی کنند. چنین افرادی در حد تقصیر خویش، روز قیامت مجازات می شوند.
- ۳- با اسلام آشنا نیستند و در جهالت خود نیز تقصیری ندارند؛ بلکه یا اصلاً به گوششان نخورده یا آن که امکان تحقیق و پژوهش برای آنان وجود نداشته است و تنها آن چه را به آن ها رسیده - مثل مسیحیت - قبول کرده و به آن عمل نموده اند. چنین افرادی اهل جهنم نیستند و خداوند آنان را مشمول عفو و رحمت خود قرار می دهد و اعمال آن ها را با میزان حقیقت خواهی آنان و آن چه فکر می کردند حق است، می سنجد.

۵۴- عدم اعلام اتخاذ موضع مخالف و سکوت پیشگی معصوم (ع) در صورت انجام فعل یا بیان سختی در حضور ایشان از سوی اشخاص چه نام دارد و استناد به واگذاری تبیین آیات الهی بر عهده پیامبر چه موضوعی را مدلل می سازد؟

(Www.iranestekhdam.ir)

- ۱) سنت - برخورداری از اختیار
- ۲) تقریر - حجیت عقل
- ۳) امضا - حجیت سنت
- ۴) سیره - مقام نبوت

پاسخ کارشناس سایت ایران استخدام: گزینه ۱

منابع چهارگانه فقه اسلامی عبارتند از: ۱- قرآن ۲- سنت ۳- اجماع ۴- عقل

مقصود از سنت عبارت است از قول یا فعل یا تقریر معصوم علیه السلام در امور دینی. منظور از قول و فعل، گفتار و کردار و منظور از تقریر، سکوت و رفتار تأیید آمیز معصوم است، نسبت به فعل یا عقیده ای که در حضور ایشان انجام یا مطرح شده و آن را رد نکرده باشند. عدم رد و سکوت معصوم تأیید ضمنی واقعه ای است که رخ داده است.

۵۵- پیمان فطری که خداوند از فرزندان آدم اخذ نموده است چیست؟ (Www.iranestekhdam.ir)

- ۱) بندگی خدا که صراط مستقیم است و اطاعت از دستورات انبیا
- ۲) دوری از شیطان و نفس سرزنشگر لوامه
- ۳) بندگی خدا و عدم پرستش شیطان که دشمن آشکار است
- ۴) دوری از شیطان و اجتناب از وعده هایش که دروغین است

پاسخ کارشناس سایت ایران استخدام : گزینه ۳

این سوال مربوط به آیات ۶۰ و ۶۱ سوره یس می باشد:
وَأَمْتَارُوا الْيَوْمَ أَيَّهَا الْمُجْرِمُونَ ﴿۵۹﴾

و (گفته می شود) ای گناهکاران و مجرمین! امروز (از نیکوکاران) جدا شوید.

أَلَمْ أَعْهَدْ لَكُمْ يَا بَنِي آدَمَ أَنْ لَا تَعْبُدُوا الشَّيْطَانَ إِنَّهُ لَكُمْ عَدُوٌّ مُبِينٌ ﴿۶۰﴾ وَأَنْ أَعْبُدُونِي هَذَا صِرَاطٌ مُسْتَقِيمٌ ﴿۶۱﴾

ای فرزندان آدم! مگر با شما عهد نکرده بودم که شیطان را بپرستید زیرا وی دشمن آشکار شماست (۶۰). و تنها مرا بپرستید، که راه مستقیم همین است (۶۱).

وَلَقَدْ أَضَلَّ مِنْكُمْ جِبِلًّا كَثِيرًا أَفَلَمْ تَكُونُوا تَعْقِلُونَ ﴿۶۲﴾

اما شیطان گروه زیادی از شما را گمراه کرد، پس چرا تعقل نمی کردید؟

پیام ها:

۱- قیامت روز فیصله و جدایی است. «وَأَمْتَارُوا الْيَوْمَ»

۲- خداوند (از طریق انبیا، عقل و فطرت) از انسان پیمان گرفته است. «أَلَمْ أَعْهَدْ لَكُمْ»

۳- شیطان پدر شما را فریب داد و شما فرزندان کسی هستید که اطاعت شیطان کرد. یا بَنِي آدَمَ ... لَا تَعْبُدُوا الشَّيْطَانَ

۴- انسان، از دو حال خارج نیست، یا بنده خداست یا بنده شیطان. لَا تَعْبُدُوا الشَّيْطَانَ ... أَعْبُدُونِي

۵- دشمن بودن شیطان آشکار است. (فکری که سنگ و چوب را به جای خدا برای انسان جلوه می دهد در انحراف آن هیچ گونه ابهامی نیست).

«عَدُوٌّ مُبِينٌ»

۶- راه مستقیم که هر شبانه روز در نماز از خدا می خواهیم، همان اطاعت از او و عبادت اوست. «أَعْبُدُونِي هَذَا صِرَاطٌ مُسْتَقِيمٌ»

۷- از سرنوشت فریب خوردگان عبرت بگیرید. أَضَلَّ ... جِبِلًّا كَثِيرًا أَفَلَمْ تَكُونُوا تَعْقِلُونَ

۸- اندیشه در سرنوشت تلخ قربانیان فریب شیطان، راه نجات از وسوسه ها و دام های اوست. «أَفَلَمْ تَكُونُوا تَعْقِلُونَ»

۵۶- هدف خداوند متعال از ارسال رسل مبشر و منذر در آیه شریفه «رُسُلًا مَّبَشِّرِينَ وَمُنذِرِينَ لِنَلَّا يَكُونَ لِلنَّاسِ عَلَى اللَّهِ ...» برای

انسان ها چه بوده است؟ (www.iranestekhdam.ir)

(۱) اثبات حکمت (۲) اتمام حجت

(۳) استواری عدالت اجتماعی (۴) استمرار ولایت رسول خدا (ص)

پاسخ کارشناس سایت ایران استخدام : گزینه ۲

این آیه قسمتی از آیه ۱۶۵ سوره نساء می باشد. متن کامل آیه به همراه ترجمه:

رُسُلًا مَّبَشِّرِينَ وَمُنذِرِينَ لِنَلَّا يَكُونَ لِلنَّاسِ عَلَى اللَّهِ حُجَّةٌ بَعْدَ الرُّسُلِ وَكَانَ اللَّهُ عَزِيزًا حَكِيمًا ﴿۱۶۵﴾

پیامبرانی (را فرستادیم) که بشارت دهنده و بیم دهنده بودند، تا پس از پیامبران، برای مردم بر خدا حجتی نباشد و خداوند همواره شکست ناپذیر و حکیم است.

پیام ها

۱- شیوهی تبلیغ انبیا بر دو محور بیم و امید استوار است. «مَّبَشِّرِينَ وَمُنذِرِينَ»

۲- فلسفه ی بعثت پیامبران، اتمام حجت خدا بر مردم است، تا نگویند: رهبر و راهنما نداشتیم و نمی دانستیم. «لِنَلَّا يَكُونَ لِلنَّاسِ عَلَى اللَّهِ حُجَّةٌ»

۳- انبیا از نظر صفات شخصی و جسمی، و سوابق زندگی و موقعیت اجتماعی، سیاسی و خانوادگی، و نیز از جهت داشتن معجزه، بیان صریح و برخورداری از امدادهای غیبی، باید در مرحله ای باشند که کسی نتواند در هیچ زمینه بهانه ای بر آنان بگیرد. «لِنَلَّا يَكُونَ لِلنَّاسِ عَلَى اللَّهِ حُجَّةٌ بَعْدَ الرُّسُلِ»

۴- چون خداوند عزیز و حکیم است، هیچ کس حجتی بر او ندارد. «عَزِيزًا حَكِيمًا»

۵۷- با بررسی دیدگاه لادریه در امکان شناخت صفات خداوندی به ترتیب "اثبات" و "انتفاء" چه اموری دریافت می گردد؟

(Www.iranestekhdam.ir)

- ۱) تنزه و تعالی خداوند - تامل در اوصاف الهی
- ۲) تامل در اوصاف الهی - تنزه و تعالی خداوند
- ۳) اشتراک اوصاف خالق و مخلوقات - جسم انگاری برای خدا
- ۴) افتراق اوصاف عبد و معبود - انحصار شناخت آدمی به حوزه تجربی

پاسخ کارشناس سایت ایران استخدام: گزینه ۴

ندانم گرایی و یا اداری گری، دیدگاهی فلسفی است که دانستن درستی یا نادرستی برخی ادعاها و به طور ویژه، ادعاهای مربوط به امور فراطبیعی، مانند الهیات و زندگی پس از مرگ و وجود خدا و موجودات روحانی یا حتی حقیقت نهایی را نامعلوم و یا به شکل «ندانم گویی»، از اساس ناممکن می داند. لادری گری، از گرایش های فلسفی است که در عین باور به عینیت و واقعیت جهان، شناخت قسمتی از آن یا کل آن را ناممکن می داند. در هر حال، در جهان اسلام فلاسفه و متکلمان بر این عقیده اند که از طریق تفکر عقلی می توان خدا را شناخت. گرچه در حدود توانایی عقل اتفاق نظر ندارند.

۵۸- سنگ محک "راستی آزمایی خلوص بندگان" و "ثقل و خفت اعمال انسان ها در صحنه پر غوغای محشر" به ترتیب کدامند؟

(Www.iranestekhdam.ir)

- ۱) نعمت ها و منت هایی همچون پیامبران و کتب الهی - عدل
- ۲) کوران رنج و مصائب و مشکلات - حق
- ۳) نعمت ها و منت هایی همچون پیامبران الهی - حق
- ۴) کوران رنج و مصائب و مشکلات - عدل

پاسخ کارشناس سایت ایران استخدام: گزینه ۲

راستی آزمایی خلوص بندگان خدا، در رنج و سختی و اصطلاحاً در بلا مشخص می شود در شریعت اموری به عنوان سنگ محک معرفی شده اند که ما می توانیم طلای ایمان خود را به وسیله آن ها محک بزنییم، که آیا ایمان ما واقعی و خالص است یا بدلی و قلابی. همچنین سنگینی و سبکی اعمال انسان ها بر معیار حق سنجیده می شود.

۵۹- با توجه به اینکه از منظر قرآن شالوده جامعه اسلامی بایستی بر پایه دادگری باشد کدام آیه شریفه وافی به این مقصود است؟

(Www.iranestekhdam.ir)

- ۱) «لَقَدْ أَرْسَلْنَا رُسُلَنَا بِالْبَيِّنَاتِ وَأَنْزَلْنَا مَعَهُمُ الْكِتَابَ وَالْمِيزَانَ لِيَقُومَ النَّاسُ بِالْقِسْطِ»
- ۲) «وَلَقَدْ بَعَثْنَا فِي كُلِّ أُمَّةٍ رَسُولًا أَنْ اعْبُدُوا اللَّهَ وَاجْتَنِبُوا الطَّاغُوتَ»
- ۳) «فَاتَّقُوا اللَّهَ وَأَطِيعُوا أَمْرَ الْمُسْرِفِينَ»
- ۴) «هُوَ الَّذِي بَعَثَ فِي الْأُمِّيِّينَ رَسُولًا مِنْهُمْ يَتْلُوا عَلَيْهِمْ آيَاتِهِ وَ يُزَكِّيهِمْ وَيُعَلِّمُهُمُ الْكِتَابَ وَالْحِكْمَةَ وَإِنْ كَانُوا مِنْ قَبْلُ لَفِي ضَلَالٍ مُبِينٍ»

پاسخ کارشناس سایت ایران استخدام: گزینه ۱

مفهوم دادگری در جامعه اسلامی در آیه ۲۵ سوره حدید آمده است. متن کامل آیه به همراه ترجمه:

لَقَدْ أَرْسَلْنَا رُسُلَنَا بِالْبَيِّنَاتِ وَأَنْزَلْنَا مَعَهُمُ الْكِتَابَ وَالْمِيزَانَ لِيَقُومَ النَّاسُ بِالْقِسْطِ وَأَنْزَلْنَا الْحَدِيدَ فِيهِ بَأْسٌ شَدِيدٌ وَمَنْفَعٌ لِلنَّاسِ وَلِيَعْلَمَ اللَّهُ مِنْ يَنْصُرُهُ وَرُسُلَهُ بِالْغَيْبِ إِنَّ اللَّهَ قَوِيٌّ عَزِيزٌ ﴿۲۵﴾

همانا ما پیامبرانمان را با معجزات و دلایل آشکار فرستادیم و همراه آنان کتاب (آسمانی) و وسیله سنجش فرو فرستادیم تا مردم به دادگری برخیزند و آهن را که در آن نیرویی شدید است و منفعی برای مردم دارد فرو آوریم (تا از آن بهره گیرند) و تا خداوند معلوم دارد چه کسی او و پیامبرانش را به نادیده و در نهان یاری می کند. همانا خداوند، قوی و شکست ناپذیر است (۲۵).



۶۰- صحت و کمال معرفت در باب معاد و عالم غیب از چه مسیری حاصل می شود و علت آن چیست؟

(www.iranestekhdam.ir)

۱) شهود قلبی به عالم غیب به دلیل داشتن پاکی و صفای درونی

۲) علوم فلسفی به واسطه استدلال حکمت درباره آخرت و معاد

۳) وحی و تعالیم انبیاء الهی به دلیل مصونیت از خطا و اشتباه

۴) علوم تجربی با اتکا به حس و تجربه به دلیل مشاهده نظام مرگ و زندگی در طبیعت

پاسخ کارشناس سایت ایران استخدام: گزینه ۳

از موضوعات بسیار مهم و سرنوشت‌ساز انسان، معاد است. مهم‌ترین منبع ایمان به معاد، وحی الهی است که به وسیله پیامبران به بشر ابلاغ شده است. انسان پس از آنکه خدا را شناخت و به صدق گفتار پیامبران ایمان آورد، به روز قیامت که همه پیامبران ایمان به آن را سرلوحه تبلیغ و دعوت خود قرار داده اند، ایمان پیدا می‌کند. این خود نوعی برهان بر اثبات معاد است.

بخش پنجم:

زبان انگلیسی – عمومی

Part A. Grammar and vocabulary

Direction: choose the number of the answer choice (۱), (۲), (۳) or (۴) that best completes the blank. Then mark it on your answer sheet. (Www.iranestekhdam.ir)

۶۱- It ----- late to the teacher that students could get the answer complicated question from others through their cell phones. (Www.iranestekhdam.ir)

- ۱) presumed ۲) denoted ۳) occurred ۴) figured

پاسخ کارشناس سایت ایران استخدام: گزینه ۲

با توجه به ترجمه جمله، معلم دیر متوجه شد که دانش آموزان توانستند پاسخ سوالات مبهم را از دیگران با تلفن های همراهشان دریافت کنند. گزینه ۲ به معنای "متوجه شدن" بهترین پاسخ می باشد.

۶۲- Some present-day Arab nations were created during the twentieth cent did not practically exist as ----- states before that. (Www.iranestekhdam.ir)

- ۱) tenacious ۲) advantageous ۳) contiguous ۴) autonomous

پاسخ کارشناس سایت ایران استخدام: گزینه ۴

با توجه به ترجمه جمله، برخی ملل فعلی کشور عربستان که در طول قرن بیستم پدیدار شدند، در واقع قبل از تاریخ مذکور همانند ایالات مستقل وجود خارجی نداشتند، گزینه ۴ به معنای "مستقل" بهترین پاسخ می باشد.

۶۳- The new manager's inauguration speech was ----- critical of the management's performance. (Www.iranestekhdam.ir)

- ۱) desperately ۲) bitterly ۳) swiftly ۴) vitally

پاسخ کارشناس سایت ایران استخدام: گزینه ۱

با توجه به ترجمه جمله، سخنرانی معارفه مدیر جدید به شدت در عملکرد مدیریت حیاتی بود، گزینه ۱ به معنای "به شدت" بهترین پاسخ می باشد.

Part B: Reading Comprehension

Directions: Read the following five short passages carefully and choice (a), (b), (c), or (d) best fits each blank space. Then mark your answer. (Www.iranestekhdam.ir)

Passages ۱

Management's response to a predictable series of organizational and people crises the decisive factor in determining whether a firm dies early or goes on apparent. The situation may become particularly serious as a company goes from one did stage to the next. Organizations that get into trouble do not react correctly to the internal challenges create by the change. They fail to recognize the important occur in the organizational life cycle.

۶۴- A manager's response to organizational and people crises become sensitive when ----- .

(Www.iranestekhdam.ir)

- ۱) he fails to recognize the important crises
- ۲) he makes a decision about such crises
- ۳) his organization moves from one development phase to another
- ۴) he reacts to the internal challenges created by the crises

پاسخ کارشناس سایت ایران استخدام: گزینه ۳

با توجه به مفهوم استنباط شده از متن "قاطع بودن واکنش مدیر در تغییرات مرحله ای سازمان"، گزینه ۳ به معنای ارتقا سازمان از یک فاز پیشرفت به فاز دیگر مدیر سازمان، بهترین پاسخ می باشد.

Passages ۲

Experts believe that a child's family experiences are crucial for personality formation. The way that basic needs are met in infancy, along with later techniques of can have a permanent mark on personality. Children learn behavior approve sex by identifying with the parent of the same sex. A warm, caring relation parent helps such learning.

۶۵- According to the passage, a girl can learn the best female behavior -----.

(Www.iranestekhdam.ir)

- ۱) friends
- ۲) mother
- ۳) family environment
- ۴) sister

پاسخ کارشناس سایت ایران استخدام: گزینه ۲

با توجه به مفهوم استنباط شده از متن "تاثیر تجربیات پدر و مادر بر شخصیت فرزند و یادگیری وی از جنس مشابه"، گزینه ۲ به معنای مادر بهترین پاسخ برای جنس مونث (دختر) می باشد.

Passages ۳

It is crystal clear that, in addition to the emotional benefits, the shedding of tears has a specific biological function as well. Through tears, we can eliminate from our body certain chemicals which build up in response to stress and create a chemical imbalance in the body. Crying actually makes us feel better by correcting that imbalance and making us feel good again. Thus the emotional and the biological functions of tears merge into one and make us even more "human" than we would otherwise be.

۶۶- It is implied in the passage that ----- . (Www.iranestekhdam.ir)

- ۱) human life is completely dependent on shedding tears
- ۲) the emotional function of crying is more important than its biological function
- ۳) other animals share some of the characteristics of humans
- ۴) without tears we wouldn't be as human as we are now

پاسخ کارشناس سایت ایران استخدام: گزینه ۴

با توجه به مفهوم استنباط شده از متن "تاثیر اشک بر کارکرد احساسی و زیست شناختی بدن و بهبود و اثر گذاری آن در انسان" گزینه ۴ به معنای بدون اشک همانند انسان فعلی نبودن، بهترین پاسخ می باشد.

Passages ۴

The United States' soft power is said to be in decline. According to Gallup international polls, pluralities in ۲۹ countries say that Washington's policies have a negative effect on their view of the United States. A Euro barometer poll found that a majority of Europeans believes that Washington has hindered efforts to fight global poverty, protect the environment, and maintain peace. Such attitudes undercut soft power, reducing the ability of the United States to achieve its goals without resorting to coercion or payment.

۶۷- The evidence given in the passage reveals that America's soft power is -----.

(Www.iranestekhdam.ir)

- ۱) getting lessened
۲) the same as before
۳) increasing significantly
۴) being repaired

پاسخ کارشناس سایت ایران استخدام: گزینه ۱

با توجه به مفهوم استنباط شده از متن " با توجه به نگرش های منفی اروپا درباره سیاست های ایالات متحده که منجر به کاهش قدرت نرم این منطقه می شود " گزینه ۱ به معنای در حال کاهش بهترین پاسخ می باشد.

Passages ۵

Scientists believe what you do for your teeth can affect your heart. For example, they have come up with a few ideas about how flossing works to keep your heart healthy. One idea is that the germs that hurt your teeth can leave the mouth and travel into your blood. Germs that get into the blood can then attack your heart. Another idea is based on the fact that when there are too many germs in your mouth, the body tries to fight against these germs. For some reason, the way the body fights these mouth germs may lead to weakening of the heart over time.

۶۸- We can understand from the passage that germs in the mouth may harm your heart by --

----- (Www.iranestekhdam.ir)

- ۱) causing food to get into the blood
۲) hurting your teeth and gums
۳) speeding the blood flow to the heart
۴) forcing the body to fight against too many of them

پاسخ کارشناس سایت ایران استخدام: گزینه ۳

با توجه به مفهوم استنباط شده از متن " حرکت میکروب ها از دهان به قلب به وسیله خون " گزینه ۳ به معنی حرکت سریع جریان خون به قلب بهترین پاسخ می باشد.

بخش ششم:

اطلاعات عمومی، دانش اجتماعی و حقوق اساسی



۶۹- غلظت خون چند برابر آب است؟ (Www.iranestekhdam.ir)

- ۵ (۱) ۶ (۲) ۷ (۳) ۸ (۴)

پاسخ کارشناس سایت ایران استخدام: گزینه ۲

۷۰- اولین کشور از نظر ذخایر منابع گازی در جهان چه کشوری است؟ (Www.iranestekhdam.ir)

- ۱) ایران ۲) عربستان ۳) قطر ۴) روسیه

پاسخ کارشناس سایت ایران استخدام: گزینه ۴

بر طبق فهرست کشورها بر پایه ذخایر گاز مصنوعی، کشور روسیه در رتبه اول کشورها قرار دارد.

۷۱- قدیمی ترین نهاد منطقه ای در خاورمیانه، کدام است؟ (Www.iranestekhdam.ir)

- ۱) اوپک ۲) اتحادیه عرب
۳) شورای همکاری خلیج فارس ۴) سازمان همکاری اسلامی

پاسخ کارشناس سایت ایران استخدام: گزینه ۲

اتحادیه عرب : ۱۹۴۵

اوپک : ۱۹۶۰

شورای همکاری خلیج فارس : ۱۹۸۱

سازمان همکاری اسلامی : ۱۹۶۹

۷۲- بلندترین گنبد جهان چه نام دارد؟ (Www.iranestekhdam.ir)

- ۱) گنبد سلطانیه در شهر خدابنده (زنجان)
۲) گنبد قابوس در شهر گنبد
۳) گنبد هارونیه در شهر توس
۴) گنبد مسجد امام در شهر اصفهان

پاسخ کارشناس سایت ایران استخدام: گزینه ۱

بلندترین گنبد جهان "گنبد سلطانیه" در شهر خدابنده (زنجان) در ایران است.

۷۳- "دروگر" به چه معناست؟ (Www.iranestekhdam.ir)

- ۱) چوب تراش ۲) مسگر ۳) خیاط ۴) آهنگر

پاسخ کارشناس سایت ایران استخدام: گزینه ۱

دروگر کسی که پیشه‌اش ساختن اسباب و ابزار چوبی است؛ درگر؛ نجار؛ چوب‌تراش.

۷۴- دریاچه هامون در کدام استان واقع شده است؟ (Www.iranestekhdam.ir)

- ۱) خراسان جنوبی ۲) سیستان و بلوچستان ۳) هرمزگان ۴) استان مرکزی

پاسخ کارشناس سایت ایران استخدام: گزینه ۲

دریاچه هامون یکی از مهمترین ذخیره‌های زیستی در ایران است که بزرگترین دریاچه‌ی آب شیرین ایرانی به شمار می‌رود که در استان سیستان و بلوچستان واقع شده است.

۷۵- روشنفکری التقاطی چه چگونگی در کشورهای اسلامی پدید آمد و عدم موفقیت دولت های سکولار جوامع اسلامی در نزدیک شدن به کشورهای غربی اعتراض کدام قشر را بر می انگیزد؟ (Www.iranestekhdam.ir)

الف) با بیان برخی اندیشه های روشنفکرانه در پوشش های دینی، برخی از نخبگان این کشورها که به شاخص های دولت های غربی چشم دوخته اند.

ب) با مطرح کردن اندیشه های روشنفکرانه در قالب مکاتب الحادی، توده ی مردم که بیشترین آسیب های فرهنگی و مادی را در این جریان می بینند.

ج) با مطرح کردن اندیشه های روشنفکرانه در قالب الحادی، برخی از نخبگان این کشورها که به شاخصهای دولتهای غربی چشم دوخته اند.

د) با بیان بعضی اندیشه های روشنفکرانه در پوشش های دینی، توده ی مردم که بیشترین آسیبهای فرهنگی و مادی را در این جریان می بینند.

پاسخ کارشناس سایت ایران استخدام : گزینه ۱

«التقاطی» کسی است که مجموعه ای را از مجموعه دیگر برمی چیند و می گیرد. معمولاً افرادی که قدرت فهم صحیح یک دین را نداشته یا تحت تأثیر جوّ روانی و تبلیغاتی حاکم، دین یا هر نوع مکتبی فکری را کامل ندانسته اند و یا در پی سازگاری مکتب فکری با مسائل روز بوده و یا برخی آموزه های دینی را با هواهای نفسانی خود ناسازگار دیده اند، دچار التقاط شده اند. با توجه به مفاهیم گفته شده قسمت اول جواب " با بیان برخی اندیشه های روشنفکرانه در پوشش های دینی " درست می باشد.

با توجه به اینکه یک دولت سکولار یا کشور سکولار (به انگلیسی: Secular state) دولتی است که نه باورهای مذهبی را پشتیبانی می کند و نه با آنها مخالفت می کند. یک دولت سکولار با تمامی شهروندان فارغ از دینداری یا بی دینی شان، یکسان رفتار می کند. در بیشتر حالات چنین دولتی دین رسمی یا چیز مشابهی ندارد. با توجه به تعریف گفته شده قسمت دوم جواب " برخی از نخبگان این کشورها که به شاخص های دولت های غربی چشم دوخته اند " درست می باشد.

پس گزینه الف درست می باشد.

۷۶- روشفکری در معنای عام خود چه هنگامی و با استفاده از چه روشی، تفسیری دینی از انسان و جهان ارائه می دهد؟ (Www.iranestekhdam.ir)

۱) هنگامی که با معرفت شناسی قدسی، معنوی و هستی شناسی دینی همراه باشد- با استفاده از وحی و عقل تجربی

۲) هنگامی که با انسان شناسی قدسی، مادی و معرفت شناسی دینی همراه باشد- با استفاده از عقل تجربی و حسی

۳) هنگامی که با هستی شناسی قدسی، معنوی و انسان شناسی دینی همراه باشد- با استفاده از وحی و عقل تجربی و تجربی

۴) هنگامی که با انسان شناسی قدسی، معنوی و هستی شناسی دینی همراه باشد- با استفاده از وحی و عقل تجربی و حسی

پاسخ کارشناس سایت ایران استخدام : گزینه ۳

روشنگری در معنای عام خود ، پدیده ای مدرن و مربوط به فرهنگ معاصر غرب نیست. انبیای الهی از دیرباز برای روشنگری و برداشتن موانعی آمده اند که راه را بر حقیقت بسته اند. در فرهنگ دینی اسلام، عقل و وحی دو پیامبر باطنی و ظاهری برای روشن کردن حقیقت اند. روشنگری در این معنا هنگامی که با هستی شناسی قدسی و معنوی و انسان شناسی دینی همراه باشد ، با استفاده از وحی و عقل تجربی و تجربی ، تفسیری دینی از انسان و جهان ارائه می دهد، بنابراین گزینه ج درست می باشد.

۷۷- کدام دسته از ارزشهای بنیادین به ترتیب، به پرسشهایی درباره «روشهای رویارویی با حقیقت- مادی بودن یا معنوی بودن جهان - مختار و فعال یا مجبور و منفعل بودن انسان» پاسخ می دهند؟ (Www.iranestekhdam.ir)

۱) هستی شناسانه- معرفت شناسانه- انسان شناسانه

۲) معرفت شناسانه- انسان شناسانه- هستی شناسانه

۳) معرفت شناسانه- هستی شناسانه- انسان شناسانه

۴) انسان شناسانه- هستی شناسانه- معرفت شناسانه

پاسخ کارشناس سایت ایران استخدام : گزینه ۳

عقاید و ارزش های بنیادین به سه دسته اصلی تقسیم می شوند ک
 اول : هستی شناسه (پاسخ به پرسش های از قبیل اینکه آیا جهان هستی به همین جهان مادی محدود می شود)
 دوم : انسان شناسانه (پاسخ به پرسش های از قبیل اینکه آیا انسان موجودی مختار و فعال است یا مجبور و منفعل)
 سوم : معرفت شناسانه (پاسخ به پرسش های از قبیل اینکه آیا تنها راه شناخت واقعیت ، حس و تجربه است)
 با توجه به مفاهیم گفته شده گزینه ج درست می باشد.

۷۸- سلول های بنیادی از کدامیک از موارد زیر تهیه می شود؟ (Www.iranestekhdam.ir)

- (۱) مغز استخوان (۲) نخاع (۳) بند ناف (۴) گلبول های سفید

پاسخ کارشناس سایت ایران استخدام : گزینه ۳

سلول های بنیادی را می توان از سرچشمه هایی مانند بند ناف کودک نوزاد، مغز و مغز استخوان، به دست آورد. بند ناف در مقایسه با بافت های بالغی مانند مغز و مغز استخوان، سرچشمه ی دست یافتنی تری برای سلول های بنیادی است.
 لذا با توجه به توضیحات گفته شده هر دو گزینه الف (مغز و استخوان) و ج (بند ناف) می توانند جواب تست باشند اما گزینه ج به لحاظ منبع غنی بودن برای سلولهای بنیادی جواب تست انتخاب می شود.

۷۹- با ارزشترین متاع در دنیا چیست؟ (Www.iranestekhdam.ir)

- (۱) طلا (۲) الماس (۳) زمان (۴) غذا

پاسخ کارشناس سایت ایران استخدام : گزینه ۳

باتوجه به گزینه ها و مادی بودن آنها لذا زمان با ارزشترین متاع در دنیا محسوب میشود.

۸۰- در کشور ایران بیشترین نرخ بیکاری متعلق به کدامیک از گزینه های زیر است؟ (Www.iranestekhdam.ir)

- (۱) دارندگان زیر دیپلم (۲) افراد بالای ۵۵ سال
 (۳) فارغ التحصیلان دانشگاه ها (۴) سرپرست خانوارها

پاسخ کارشناس سایت ایران استخدام : گزینه ۳

فارغ التحصیلان دانشگاه ها بیشترین سهم را از جمعیت بیکار کشور دارند.

۸۱- کدام کتاب به زیور آل محمد معروف است؟ (Www.iranestekhdam.ir)

- (۱) نهج البلاغه (۲) مفاتیح الجنان (۳) صحیفه سجادیه (۴) تورات

پاسخ کارشناس سایت ایران استخدام : گزینه ۳

کتاب صحیفه سجادیه، مجموعه ای از دعاها و مناجات امام چهارم شیعیان، زین العابدین علی بن الحسین است. این کتاب به «انجیل اهل بیت» و «زیور آل محمد» و «أخت القرآن» معروف است.

۸۲- کدام سوره به مادر قرآن معروف است؟ (Www.iranestekhdam.ir)

- (۱) بقره (۲) یاسین (۳) توبه (۴) حمد

پاسخ کارشناس سایت ایران استخدام : گزینه ۴

سوره حمد، اولین سوره قرآن است، که اسامی مختلف و متعددی دارد که یکی از نام‌های این سوره «آمّ الکتاب» است؛ «ام» به معنای اصل است و چون این سوره، به طور مختصر، بر اصول و عنوان‌های اصلی قرآنی اشاره دارد، چنین نامی به آن اطلاق شده است. از جهت این‌که «ام» به معنای مادر نیز است، به آن مادر قرآن نیز گفته‌اند.

۸۳- اولین گروه اسرای ایرانی در چه تاریخی به میهن بازگشتند؟ ([Www.iranestekhdam.ir](http://www.iranestekhdam.ir))

(۴) ۲۹ مرداد ۱۳۶۹

(۳) ۲۹ مرداد ۱۳۶۸

(۲) ۲۶ مرداد ۱۳۶۹

(۱) ۲۶ مرداد ۱۳۶۸

پاسخ کارشناس سایت ایران استخدام: **گزینه ۲**

روز ۲۶ مرداد سال ۱۳۶۹، میهن اسلامی شاهد حضور آزادگان سرافرازی بود که پس از سال‌ها اسارت در زندان‌ها و اسارتگاه‌های مخوف رژیم بعث عراق، قدم به خاک پاک میهن اسلامی خود گذاشتند.

بخش هفتم:

هوش و توانمندی های عمومی

۸۴- مجموع سه عدد فرد متوالی ۶۳ است. نصف عدد بزرگتر کدام است؟ (Www.iranestekhdam.ir)

- (۱) ۲۳ (۲) ۱۱/۵ (۳) ۱۰/۵ (۴) ۱۱

پاسخ کارشناس سایت ایران استخدام: گزینه ۲

چون سه عدد فرد متوالی مجموعش ۶۳ شده، پس این سه عدد باید اطراف ۲۰ باشند:

$$19 + 21 + 23 = 63$$

عدد بزرگتر ۲۳ هست. نصف ۲۳ برابر ۱۱/۵ بوده پس گزینه ۲ صحیح می باشد.

۸۵- کدام کلمه مناسبت کمتری با سه کلمه دیگر دارد؟ (Www.iranestekhdam.ir)

- (۱) اریه (۲) اتوبوس (۳) کشتی (۴) هواپیما

پاسخ کارشناس سایت ایران استخدام: گزینه ۴

اگر معیار سرعت را در نظر بگیریم هواپیما نسبت به اریه، اتوبوس و کشتی متفاوت خواهد بود.

۸۶- علی دو برابر محمد سن دارد. اگر ۷ سال دیگر سن محمد ۱/۵ برابر سن فعلی او شود سن کنونی علی چند سال است؟

(Www.iranestekhdam.ir)

- (الف) ۵۶ (ب) ۲۸ (ج) ۱۴ (د) ۷

پاسخ کارشناس سایت ایران استخدام: گزینه ۲

فرض کنیم سن علی X و سن محمد Y باشد در اینصورت:

$$x = 2y$$

اگر ۷ سال دیگر سن محمد ۱/۵ برابر سن فعلی او شود: $y + 7 = 1/5y \rightarrow 7 = 1/5y - y \rightarrow 7 = 0/5y$

$$\rightarrow \left(\frac{7}{0/5} = y \rightarrow \frac{70}{5} = y\right) \rightarrow y = 14 \Rightarrow x = 28$$

۸۷- در رشته عددی زیر یک نظم منطقی وجود دارد به جای علامت ؟ چه عددی می توان قرار داد؟ (Www.iranestekhdam.ir)

؟ و ۶۱ و ۱۹ و ۷ و ۱

- (۱) ۶۷ (۲) ۱۰۳ (۳) ۱۸۷ (۴) ۲۴۷

پاسخ کارشناس سایت ایران استخدام: گزینه ۴

$$\begin{array}{ccccccc} 1 \times 1 + 6, & 7 \times 2 + 5, & 19 \times 3 + 4, & 61 \times 4 + 3 & & & \\ \downarrow & \downarrow & \downarrow & \downarrow & & & \\ 1, & 7, & 19, & 61, & ? = 247 & & \end{array}$$

۸۸- اگر شعاع دایره ای بیست درصد افزایش یابد، مساحت دایره چند درصد افزایش می یابد؟ (Www.iranestekhdam.ir)

- (۱) ۴ (۲) ۲۰ (۳) ۴۴ (۴) ۴۰

پاسخ کارشناس سایت ایران استخدام: گزینه ۳

شعاع دایره اول را با r_1 و مساحت آن S_1

شعاع دایره دوم را با r_2 و مساحت آن S_2

توجه شود که عبارت " اگر شعاع دایره ای بیست درصد افزایش یابد " یعنی r_2 برابر خواهد بود با r_1 بعلاوه $0/20r_1$. پس داریم:

$$r_2 = r_1 + 0/20r_1 \rightarrow r_2 = 1/20r_1$$

$$S_1 = \pi r_1^2, \quad S_2 = \pi r_2^2 = \pi (1/20r_1)^2 = 1/44\pi r_1^2$$

$$\rightarrow s_2 - s_1 = 1/44\pi r_1^2 - \pi r_1^2 = 0/44\pi r_1^2$$

پس ۰/۴۴ افزایش یافته و گزینه ج صحیح می باشد.

۸۹- اگر $\sin x = \cos(20 + x)$ باشد مقدار x کدام است؟ (Www.iranestekhdam.ir)

- (۱) ۷۰ (۲) ۹۰ (۳) ۳۵ (۴) ۴۵

پاسخ کارشناس سایت ایران استخدام: گزینه ۳

سینوس یک زاویه برابر است با کسینوس زاویه متمم آن و دو زاویه، متمم هستند در صورتی که جمع آنها برابر با ۹۰ درجه باشد. پس در این سوال باید $x + (20 + x) = 90$ باشد:

$$\rightarrow 2x = 70 \rightarrow x = 35$$

۹۰- محل اولیه عقربه های ساعت شمار و دقیقه شمار یک ساعت، ساعت ۴ را نشان می دهد، وقتی عقربه دقیقه شمار به محل

اولیه عقربه ساعت شمار برسد، زاویه بین دو عقربه چند درجه خواهد بود؟ (Www.iranestekhdam.ir)

- (۱) ۵ (۲) ۱۰ (۳) ۶ (۴) ۱۲

پاسخ کارشناس سایت ایران استخدام: گزینه ۲

وقتی عقربه دقیقه شمار به محل اولیه عقربه ساعت شمار می رسد، یعنی روی عدد ۴ قرار می گیرد، در واقع $\frac{1}{3}$ مسیر کل دایره را پیموده است، در این حال عقربه ساعت شمار $\frac{1}{3}$ به سمت عدد ۵ حرکت کرده است. بین عدد ۴ و ۵ زاویه ۳۰ درجه است (چون کل دایره ۳۶۰ درجه است و $\frac{360}{12} = 30^\circ$) پس زاویه بین دو عقربه $10 = \frac{30}{3} \times 30 = \frac{1}{3} \times 30$ می باشد.

۹۱- به جای علامت سوال عدد مناسب بگذارید. (Www.iranestekhdam.ir)

؟ و ۲۶ و ۲۴ و ۱۲ و ۱۰ و ۵ و ۳

- (۱) ۵۸ (۲) ۵۶ (۳) ۵۲ (۴) ۵۴

پاسخ کارشناس سایت ایران استخدام: گزینه ۳

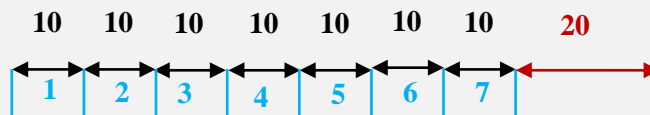
$$3 \xrightarrow{+2} 5 \xrightarrow{\times 2} 10 \xrightarrow{+2} 12 \xrightarrow{\times 2} 24 \xrightarrow{+2} 26 \xrightarrow{\times 2} ? = 52$$

۹۲- اگر بخواهیم از یک میله ۹۰ سانتی متری ۷ تکه ۱۰ سانتی متری ببریم، چند برش لازم است؟ (Www.iranestekhdam.ir)

- (الف) ۶ (ب) ۷ (ج) ۸ (د) ۹

پاسخ کارشناس سایت ایران استخدام: گزینه ۲

تعداد برش ها ۷ تا کافی است، تا ۷ تکه ۱۰ سانتی داشته باشیم.



۹۳- رابطه شیر با پنیر مثل رابطه: (Www.iranestekhdam.ir)

- (۱) نفت است با بنزین (۲) چوب است با کاغذ
(۳) نخ با پارچه (۴) انگور با سرکه

پاسخ کارشناس سایت ایران استخدام: گزینه ۴

پنیر یکی از گونه‌های لبنیات است که از شیر تهیه می‌شود. و هر دو جزو مواد غذایی محسوب می‌شوند. سرکه هم از انگور تهیه می‌شود و هر دو جزو مواد غذایی می‌باشند. توجه شود که در سوال علاوه بر این مورد که، باید عبارت دوم از عبارت اول بدست آید، چون شیر و پنیر جزو مواد غذایی محسوب می‌شوند، باید جواب سوال هم موردی باشد که جزو مواد غذایی محسوب شوند.

۹۴- در شکل زیر به جای علامت سوال چه عددی می‌توان قرار داد؟ (www.iranestekhdam.ir)

2	7	17
3	11	19
5	13	?

۲۱ (د)

۲۵ (ج)

۲۳ (ب)

۱۸ (الف)

پاسخ کارشناس سایت ایران استخدام: گزینه ۲

به توجه به شکل، تمامی اعداد، اول می‌باشند و در بین گزینه‌ها فقط گزینه ب عدد اول می‌باشد.
اعداد اول شامل:

2, 3, 5, 7, 11, 13, 17, 19, 23

۹۵- تصویر کدام یک از اعداد زیر در آینه خوانده می‌شود؟ (www.iranestekhdam.ir)

۷۵۶۹۴ (۴)

۷۶۶۹۴ (۳)

۲۰۵۳۸ (۲)

۷۸۰۵۱ (۱)

پاسخ کارشناس سایت ایران استخدام: گزینه ۱

تصویر ارقام (۹، ۴، ۳) در آینه بی معنی و تصویر ارقام (۸، ۷، ۵، ۱، ۰) برابر با خودشان است اما ارقام (۶ و ۲) در آینه به یکدیگر تبدیل می‌شوند.

۹۶- عدد ۶ یک عدد کامل نامیده می‌شود زیرا برابر است با مجموع مقسوم علیه‌هایش "به استثنای خود عدد ۶" کدام یک از

اعداد زیر عدد کامل است؟ (www.iranestekhdam.ir)

۱۶ (۴)

۳۶ (۳)

۲۸ (۲)

۱۲ (۱)

پاسخ کارشناس سایت ایران استخدام: گزینه ۲

مقسوم علیه‌های عدد ۲۸ عبارتند از 1, 2, 4, 7, 14 که مجموع مقسوم علیه‌هایش برابر است با:

$$\rightarrow 1 + 2 + 4 + 7 + 14 = 28$$

۹۷- چند عدد بین ۵۰ و ۹۵ وجود دارد که بر ۶ و ۹ قابل قسمت است؟ (www.iranestekhdam.ir)

۴ (۴)

۳ (۳)

۲ (۲)

۱ (۱)

پاسخ کارشناس سایت ایران استخدام: گزینه ۳

اعدادی که بین ۵۰ و ۹۵ بر ۹ بخش پذیرند عبارتند از:

50, 54, 63, 72, 81, 90, 95

از این اعداد فقط ۵۴ و ۷۲ و ۹۰ بر ۶ نیز بخش پذیرند.



۹۸- تمام دختران نابغه معدل بالای هجده دارند، بعضی از دختران معدل بالای هجده درسخوان هستند، کدام حکم درست است؟

(www.iranestekhdam.ir)

(۱) تمام دختران معدل بالای هجده نابغه می باشند

(۲) بعضی دختران درسخوان معدل بالای هجده دارند

(۳) دختران درسخوان نابغه اند

(۴) دختران نابغه درسخوانند

پاسخ کارشناس سایت ایران استخدام: **گزینه ۲**

سوالات تخصصی آزمون استخدام نهضت سواد آموزی سال ۱۴۰۰

فاقد پاسخنامه

بخش اول:

روانشناسی پرورشی



۱- کدامیک از گزینه های زیر از بخش های اصلی الگوی ساخت ذهنی گیلفورد نمی باشد؟ (Www.iranestekhdam.ir)

- (۱) عملیات (۲) فرآیند (۳) محتوا (۴) فرآورده

۲- معلم در کدام مرحله باید از اصول روانشناسی انگیزشی در طراحی و اجرای آموزش خود بهره ببرد؟

(Www.iranestekhdam.ir)

- (۱) سنجش آغازین (۲) فعالیت های پیش از عمل آموزش و ضمن آن
(۳) فعالیت های ضمن عمل آموزش (۴) فعالیت های پس از عمل آموزش

۳- «کم کردن مقداری از عامل تقویت کننده به دلیل انجام دادن رفتار نامطلوب» توضیح کدام یک از گزینه های زیر است؟

(Www.iranestekhdam.ir)

- (۱) محروم کردن (۲) جریمه کردن
(۳) تشبیه (۴) تقویت رفتار های مغایر

۴- براساس نظریه پیازه، طر حواره های شناختی کودکان بیشتر به صورت طر حواره های هستند. اما طر حواره های شناختی

دوره های بالاتر، طر حواره های نام دارند. (Www.iranestekhdam.ir)

- (۱) آشکار-عملیاتی (ذهنی) (۲) عملیاتی (ذهنی) - پنهان
(۳) عملیاتی (ذهنی) - آشکار (۴) پنهان- آشکار

۵- ساده ترین راه برای حذف یک رفتار، شف و قطع منبع تقویتی آن است. (Www.iranestekhdam.ir)

- (۱) خاموشی رفتار کنشگر (۲) محرک فراخوان
(۳) تصمیم محرک (۴) شاگرد محور-معلم محور

۶- براساس نظریه بندورا، در کدام مرحله رمز های کلامی یا تجسمی موجود در حافظه بصورت اعمال آشکار در می آیند؟

(Www.iranestekhdam.ir)

- (۱) مرحله توجه (۲) مرحله انگیزشی
(۳) مرحله به یادسپاری (۴) مرحله تولیدی یا بازآفرینی

۷- شاخص های «تاکید بر فرآورده های یادگیری» و «ارزش یابی پایانی» به ترتیب مربوط به کدام روش می باشند؟

(Www.iranestekhdam.ir)

- (۱) هر دو معلم محور (۲) هر دو شاگرد محور
(۳) معلم محور-شاگرد محور (۴) شاگرد محور-معلم محور

۸- کدام مورد از ویژگی های تفکر واگرا نیست؟ (Www.iranestekhdam.ir)

- (۱) سادگی (۲) ترکیب (۳) سیالی یا روانی (۴) تازگی یا اصالت



۹- در طبقه بندی برای یادگیری، آموزش و سنجش، بعد فرآیند شناختی شامل کدام مورد نمی باشد؟

([Www.iranestekhdam.ir](http://www.iranestekhdam.ir))

- (۱) کاربرد (۲) تحلیل (۳) آفریدن (۴) دانش فراشناختی

۱۰- براساس نظریه برونر، دومین مرحله رشد شناختی کدام است؟ ([Www.iranestekhdam.ir](http://www.iranestekhdam.ir))

- (۱) مرحله نمادی (۲) مرحله حرکتی (۳) مرحله رویدادی (۴) مرحله تصویری

۱۱- در کدام مرحله، تفکر کودک بیشتر جنبه ادراکی دارد و بر جنبه های ظاهری امور مبتنی است؟ ([Www.iranestekhdam.ir](http://www.iranestekhdam.ir))

- (۱) مرحله پیش مفهومی (۲) مرحله تفکر شهودی
(۳) مرحله ابداع وسایل (۴) مرحله عملیات محسوس

۱۲- براساس نظریه گشتالت یادگیری عبارت است از: ([Www.iranestekhdam.ir](http://www.iranestekhdam.ir))

- (۱) کشف روابط بین اجزا مساله (۲) پیدا کردن راه حل ناگهانی
(۳) بینش حاصل از درک موقعیت یادگیری (۴) حل مسائل با استفاده از تجارب

بخش دوم:

روانشناسی رشد

۱۳- وقتی کودکی دو گروه از اشیاء را جمع می کند. ابتدا محتوی هر گروه را می شمارد و بعد به جای آنکه دو عدد؟؟؟ را باهم جمع کند. شمارش همه اعداد را از سر می گیرد. این مشخصات مربوط به کدامیک از پارامترهای عمل می باشد.

(Www.iranestekhdam.ir)

(۱) تصمیم (۲) تفضیل عمل (۳) درونسازی (۴) طرز اجرا با درجه درونی شدن

۱۴- موارد ذیل به ترتیب مربوط به کدام مکانیزم دفاعی هستند؟ (Www.iranestekhdam.ir)

* فرد به وسیله این مکانیزم، افکار ناخواسته و امیال منع شده را به صورت ناهشیار از ذهن خود می راند.

* راهبرد بسیاری متوالی برای چیره شدن بر ترس و بی کفایتی است.

(۱) همانند سازی-توجه عقلی (۲) سرکوبی-جداسازی

(۳) سرکوبی-همانندسازی (۴) توجه عقلی-انکار

۱۵- وقتی کودک، خود را در رختخواب به خواب می زند و وانمود می کند که خوابیده است. کدام نوع بازی رمزی را به نمایش می

گذارد؟ (Www.iranestekhdam.ir)

(۱) جانشین سازی (۲) روان بنه (۳) تقلیدی (۴) جبرانی

۱۶- در کدامیک از روش های تحقیق روانشناسی رشد، پژوهشگر با یادداشت برداری میدانی می کوشد، ارزش های فرآیندهای

اجتماعی منحصر به فرد آن فرهنگ را درک کند؟ (Www.iranestekhdam.ir)

(۱) مورد پژوهی (۲) مشاهده ساخت دار (۳) مشاهده طبیعی (۴) قوم نگاری

۱۷- کدام نابهنجاری زیر در رده نابهنجاری های جنسی نیست؟ (Www.iranestekhdam.ir)

(۱) بیماری X شکننده (۲) قتیل کتونوریا (PKU) (۳) نشانگان کلاین فلتر (۴) نشانگان ترنر

۱۸- «جستجوی خویش» وظیفه مهم کدام مرحله رشد است؟ (Www.iranestekhdam.ir)

(۱) کودکی اول (۲) کودکی دوم (۳) نوجوانی (۴) جوانی

۱۹- طبق کدام اصل نظریه گزل، با استقرار الگوهای حرکتی و هماهنگی بین آنها، شکل گیری های حرکتی بد؟؟؟؟

(Www.iranestekhdam.ir)

(۱) اصل سوگیری نمو (۲) اصل تفرد

(۳) اصل نافرینگی کنشی (۴) اصل درهم تنیدگی های متقابل

۲۰- تخلیه تنش و ارضای کشاننده مربوط به کدامیک از مولفه های اصلی کشاننده است؟ (Www.iranestekhdam.ir)

(۱) هدف کشاننده (۲) منبع کشاننده (۳) موضوع کشاننده (۴) جنبش کشاننده

۲۱- به اعتقاد آنا فروید کدام مکانیزم مخصوص دوران نوجوانی است؟ (Www.iranestekhdam.ir)

(۱) فلسفه بافی (۲) واکنش وارونه (۳) انکار (۴) توانایی کار خلاق



۲۲- شاخص «ابتدا اعضا داخلی و سپس اعضا پیرامونی رشد می کنند» مربوط به کدامیک از الگوهای؟؟

(www.iranestekhdam.ir)

(۱) الگوی سری-پایی

(۲) الگوی عام به خاص

(۳) الگوی مرکزی-پیرامونی

(۴) وابستگی-استقلال

۲۳- از نظر جان لاک، هدف اصلی آموزش چیست؟(www.iranestekhdam.ir)

(۱) کنترل خود

(۲) شناخت خود

(۳) تغییر رفتار

(۴) رشد هوش

۲۴- در تغییر تکلم خود مدار به تکلم اجتماعی شده کدام عامل نقش تعیین کننده دارد؟(www.iranestekhdam.ir)

(۱) سن کودک

(۲) ارتباطات کودک

(۳) رشد ذهنی

(۴) شخصیت کودک

بخش سوم:

روش ها و فنون تدریس

۲۵- تعداد شرکت کنندگان بحث گروهی معمولاً بین تا نفر است. (Www.iranestekhdam.ir)

(۱) ۸ تا ۱۲ (۲) ۶ تا ۱۲ (۳) ۸ تا ۲۰ (۴) ۶ تا ۲۰

۲۶- هدف از ارزش یابی تعیین مقدار یادگیری دانش آموزان در طول یک دوره آموزش به منظور نمره دادن صدور گواهی نامه یا قضاوت درباره اثر بخشی کار معلم و برنامه درسی، یا مقایسه برنامه های مختلف با یکدیگر است.

(Www.iranestekhdam.ir)

(۱) تراکمی (۲) تشخیصی (۳) تکوینی (۴) آغازین

۲۷- کدام نوع از تفکر در مورد مسئله ساده روزانه است که ما به طور عادی به آن می پردازیم؟ (Www.iranestekhdam.ir)

(۱) تفکر تداعی آزاد (۲) تفکر خلاق (۳) تفکر عملی (۴) تفکر خیال بافی

۲۸- کدام ویژگی مربوط به برنامه درسی موضوع محور است؟ (Www.iranestekhdam.ir)

- (۱) معلم نقش راهنما دارد.
- (۲) برنامه برحسب شرایط تنظیم و اجرا می شود.
- (۳) معلمان در اجرای برنامه و انتخاب مواد درسی آزادی عمل دارند.
- (۴) محتوای برنامه ثابت و مقید به متن تنظیم شده است.

۲۹- تجزیه و تحلیل، به عنوان یک هدف آموزشی دارای سه سطح می باشد: سطح سوم عبارتست از:

(Www.iranestekhdam.ir)

- (۱) تعیین پیوندها و کنش های متقابل
- (۲) تعیین روابط اجزای متشکله آن
- (۳) شناخت اصول سازمانی یا آرایش ساخت موضوع
- (۴) شکستن و تجزیه موضوع

۳۰- یکی از روش های تجزیه و تحلیل محتوا است و معنی آن اینست که بررسی های انجام ؟؟؟؟ بازبینی باشد.

(Www.iranestekhdam.ir)

(۱) عینی بودن (۲) منظم بودن (۳) آشکار بودن (۴) مقداری بودن

۳۱- اساس روش سخنرانی کدام است؟ (Www.iranestekhdam.ir)

- (۱) ایجاد مهارت کلامی
- (۲) فعال بودن دانش آموز
- (۳) ارائه اطلاعات از سوی معلم
- (۴) توجه به مهارت های فردی دانش آموزان

۳۲- کدام عملیات ریاضی درباره مقیاس ترتیبی در سطح ب (رتبه ای) میسر است؟ (Www.iranestekhdam.ir)

- (۱) ضرب و تقسیم
- (۲) جمع و تفریق
- (۳) همه چهار عمل اصلی
- (۴) هیچ کدام از چهار عمل اصلی

۳۳- کدام گزینه صحیح نمی باشد؟ (Www.iranestekhdam.ir)



- (۱) عملکرد حاصل یادگیری است
 (۲) عملکرد تغییر در ساختار ذهنی فرد است که ممکن است به ظهور برسد
 (۳) عملکرد قابل اندازه گیری است
 (۴) هیلگارد و مارکوئیز در تعریف یادگیری به جای تغییر در رفتار، اصلاح تغییر در رفتار بالقوه را انتخاب کرده اند.

۳۴- براساس نظریه برونر، نظریه های یادگیری و نظریه های تدریس هستند. ([Www.iranestekhdam.ir](http://www.iranestekhdam.ir))

- (۱) توصیفی-تجویزی (۲) تجویزی-توصیفی (۳) تجویزی-تجویزی (۴) توصیفی-توصیفی

۳۵- اهداف آموزشی در سه حیطه شناختی، عاطفی و روانی- حرکتی تقسیم بندی می شوند. کدامیک از شاخص های ؟؟؟؟ از

موارد سطوح یادگیری در حیطه روانی- حرکتی است؟ ([Www.iranestekhdam.ir](http://www.iranestekhdam.ir))

- (۱) مشاهده و تقلید (۲) دریافت و توجه کردن (۳) تحلیل (۴) پاسخ دادن

۳۶- اولین مرحله در الگوی یادسپاری کدام است؟ ([Www.iranestekhdam.ir](http://www.iranestekhdam.ir))

- (۱) توجه به مطالب درسی (۲) ایجاد ارتباطات (۳) بسط صورهای حسی (۴) یادآوری ؟؟؟؟؟ یادآوری

بخش چهارم:

اندازه گیری، سنجش و ارزشیابی آموزشی



۳۷- برای مقیاس های ترتیبی، فاصله ای و اسمی به ترتیب بهترین شاخص کدام است؟ (Www.iranestekhdam.ir)

- (۱) نما-میانگین-میانه (۲) میان-نما-میانگین (۳) میانگین-میانه-نما (۴) میان-میانگین-نما

۳۸- در تعلیم و تربیت، به عنوان یک شاخص تعمیمی یا تکوینی بین مهارت ها مورد استفاده قرار می گیرد؟

(Www.iranestekhdam.ir)

- (۱) ضریب همبستگی تتراکوریک (۲) ضریب تعیین
(۳) ضریب پراکندگی (۴) ضریب همبستگی رشته ای

۳۹- ضریب پایانی نشان دهنده این است که تمام واریانس مشاهده شده واریانس است.

(Www.iranestekhdam.ir)

- (۱) صفر-حقیقی (۲) یک-حقیقی (۳) یک-خطا (۴) منفی یک-خطا

۴۰- کدام ارزشیابی به منظور قضاوت درباره مطلوبیت بازده فعالیت های آموزش انجام می شود؟ (Www.iranestekhdam.ir)

- (۱) برون داد (۲) فرآیند (۳) درون داد (۴) بازخورد

۴۱- کدام گزینه در خصوص قواعد تهیه سوال های جورکردنی صحیح نیست؟ (Www.iranestekhdam.ir)

- (۱) هر یک از پاسخ ها برای تمام پرسش های یک سول درست جلوه کند
(۲) پرسش ها با حروف و پاسخ ها را با شماره مشخص کنید
(۳) فهرست پاسخ ها را به طور منطقی مرتب کنید
(۴) همه پرسش ها و پاسخ های یک سوال را در یک صفحه قرار دهید

۴۲- در آزمون ۱۲۰ سوالی، از مجموع ۶۰ داوطلب، ۵۰ نفر به سوال ۴۰ پاسخ داده اند، چنانچه ۴۵ نفر از ؟؟؟؟ پاسخ سوال را صحیح

علامت زده باشد، ضریب دشواری سوال چند است و در رده کدام سوالات قرار می گیرد؟ (Www.iranestekhdam.ir)

- (۱) ۶۰-متوسط (۲) ۷۵-آسان (۳) ۶۶/۶ - آسان (۴) ۳۷/۵ - سخت

بخش پنجم:

اصول و فلسفه تعلیم و تربیت

۴۳- کدام شخصیت تعلیم و تربیت را فعل و انفعالی می داند میان دو قطب معلم و شاگرد که مستلزم طرحی و معطوف به هدفی است؟(Www.iranestekhdam.ir)

- (۱) دکتر شریعتی (۲) دکتر هوشیار (۳) ابراهیم زاده (۴) شهید مطهری

۴۴- کدام مورد از کنش های مهم هدفهای تربیتی نمی باشد؟(Www.iranestekhdam.ir)

- (۱) معیارهای ارزش یابی (۲) رهبری فعالیت های دینی (۳) هدف گرایی (۴) ایجاد انگیزش

۴۵- موارد ذیل به ترتیب مربوط به کدامیک از سبک های فلسفه می باشد؟(Www.iranestekhdam.ir)

کوششی است جهت یافتن پیوستگی در تمام قلمرو اندیشه و تجربه
این فلسفه توجه خود را به کلمات و معنا متمرکز می سازد

- (۱) نظری-دستوری (۲) نظری- تحلیلی (۳) دستوری-نظری (۴) دستوری-تحلیلی

۴۶-..... معرفتی است که از تجارب خود درباره دیگران و درباره خویش برداشت کرده ایم. بدون معرض انتقاد منظم عقلانی با آزمایش قرار دهیم.(Www.iranestekhdam.ir)

- (۱) معرفت شهودی (۲) معرفت عقلانی (۳) معرفت تجربی (۴) معرفت اجتهادی

۴۷-کدام مورد از ویژگی های جدید فلسفه آموزش و پرورش نیست؟(Www.iranestekhdam.ir)

- (۱) فلسفه جدید تربیتی به وحدت تجربه انسان معتقد است و این وحدت را ماده حیات می نامد.
(۲) مساله خاصی را در میدان تربیت جالب و مهم و مفید نمی داند، بلکه به تاثیر ترکیبی آنها توجه دارد.
(۳) هدف های تربیتی مبتنی بر تخیل و عقلانیت است.
(۴) فعالیت های تربیتی باید بر شناخت و معرفت مبتنی باشد و ارزش های اجتماعی را در نظر بگیرد.

۴۸- از منظر کدام مکتب، هدف تربیت مهمتر از روش تربیت است؟(Www.iranestekhdam.ir)

- (۱) طبیعت گرایی (۲) ایده آلیسم (۳) رئالیسم (۴) براگماتیسم

۴۹- کدام مورد از اصول حاکم بر آموزش و پرورش پراگماتیسم می باشد؟(Www.iranestekhdam.ir)

- (۱) به فرد و دموکراسی اعتقاد و ایمان زیادی دارد.
(۲) در این مکتب معلم نقش محوری دارد و روش تدریس آنها بر طبق محسوسات است.
(۳) برای دین و اخلاق ارزش زیادی قائل است.
(۴) از نظر این مکتب حواس آدمی مهمترین و معتبرترین وسیله کتب معرفت است.

۵۰- در مکتب فلسفی پیشرفت گرائی، کدام جنبه مورد تاکید نمی باشد؟(Www.iranestekhdam.ir)

- (۱) ترجیح فعالیت تئوری بر فعالیت عملی (۲) تربیت کودک در محیط جمعی
(۳) تشویق کودکان به تعبیر و بیان عقاید و عواطف (۴) تاکید بر کودک محوری



۵۱- کدام مورد از قدم های اساسی در روش خاص تدریس دیوبی نیست؟ ([Www.iranestekhdam.ir](http://www.iranestekhdam.ir))

(۱) آمادگی (۲) تصمیم (۳) تمیز (۴) اجرا

۵۲- «انسان به وسیله ۳ استاد تربیت می شود. طبیعت، اشیا و انسان های دیگر» این نظریه کدام فیلسوف است؟

([Www.iranestekhdam.ir](http://www.iranestekhdam.ir))

(۱) روسو (۲) دیوبی (۳) افلاطون (۴) ارسطو

۵۳- «واژه های نا دقیق یا فریبنده» و «عیب و خطاهایی که از طبیعت سرچشمه می گیرند.» به ترتیب مربوط به کدامیک از بت

های مد نظر فرانسیس بیکن هستند؟ ([Www.iranestekhdam.ir](http://www.iranestekhdam.ir))

(۱) نمایش - قبیله (۲) بازار - قبیله (۳) غار - بازار (۴) بازار - نمایش

۵۴- از نظر راسل، کدام مورد از ویژگی های بنیاد یک منش نمی باشد؟ ([Www.iranestekhdam.ir](http://www.iranestekhdam.ir))

(۱) هوش پرورش یافته (۲) حساسیت (۳) تفکر عادلانه (۴) شادابی و سرزندگی

سوالات تخصصی آزمون استخدام نهضت سواد آموزی سال ۹۹

با پاسخ تشریحی

بخش اول:

روانشناسی پرورشی



۱- مراحل رشد ذهنی برونر به ترتیب کدام است؟ (Www.iranestekhdam.ir)

- (۱) مرحله حرکتی-مرحله نمادی-مرحله تصویری
(۲) مرحله تصویری-مرحله نمادی-مرحله حرکتی
(۳) مرحله نمادی-مرحله تصویری-مرحله حرکتی
(۴) مرحله حرکتی-مرحله تصویری-مرحله نمادی

پاسخ کارشناس سایت ایران استخدام: گزینه ۴

مراحل رشد شناختی از نظر برونر شامل مرحله حرکتی-تصویری و نمادی می باشد این سوال جزو سوالات پک بوده است.

۲- زوال هویت و استقلال مطلب یاد گرفته شده بر اثر مرور زمان چه نام دارد؟ (Www.iranestekhdam.ir)

- (۱) فراموشی (۲) شمول زوالی (۳) شمول اشتقاقی (۴) مضمول کننده همبستگی

پاسخ کارشناس سایت ایران استخدام: گزینه ۲

شمول زوالی عبارت است از زوال هویت و استقلال مطلب یاد گرفته شده بر اثر مرور زمان سوال مورد نظر جزو سوالات پک بوده است.

۳- کدام گزینه در مورد حافظه رویدادی صحیح نیست؟ (Www.iranestekhdam.ir)

- (۱) مقصود از حافظه رویدادی خاطرات ما از تجارب شخص خودمان است یعنی نوعی فیلم ذهنی از آنچه دیدیم یا شنیدیم
(۲) حافظه رویدادی مربوط به چگونگی انجام امور به ویژه فعالیت های فیزیکی یا جسمانی است
(۳) تصاویر ذهنی در حافظه رویدادی نقش مهمی ایفا می کند
(۴) این حافظه مشتمل بر رویدادهایی است که در زندگی ما رخ می دهد و به زبان و مکان خاصی وابسته است.

پاسخ کارشناس سایت ایران استخدام: گزینه ۲

حافظه روندی مربوط به چگونگی انجام امور به ویژه فعالیت های فیزیکی یا جسمانی است مطلب در صفحه ۱۳۷ سازمان می باشد این سوال جزو سوالات پک بوده است.

۴- نخستین اقدام معلم جهت ارزشیابی دانش آموزان پیش از فعالیت های آموزشی و در آغاز درس چیست؟

(Www.iranestekhdam.ir)

- (۱) سنجش آغازین (۲) رفتار ورودی (۳) رفتار نهایی (۴) سبک یادگیری

پاسخ کارشناس سایت ایران استخدام: گزینه ۱

این ارزشیابی پیش از انجام فعالیت های آموزش توسط معلم به اجرا در می آید با این هدف که به اندازه گیری رفتارهای ورودی یا مهارت ها و دانش های پیش آزمون می گویند و عمدتاً همان آزمون نهایی که شامل هدف های آموزشی یادگیری درس می باشد را در بر می گیرد مطلب در صفحه ۳۲۸ سازمان می باشد این سوال جزو سوالات پک اول و سوم بوده است.

۵- گام اول در روش آموزش حل مسئله کدام مورد می باشد؟ (Www.iranestekhdam.ir)

- (۱) تعریف و معرفی مسئله (۲) کشف و تمرین راه حل مسئله
(۳) ارزشیابی نتایج فعالیت ها (۴) تشخیص مسئله

پاسخ کارشناس سایت ایران استخدام: گزینه ۴

گام اول حل مسئله شناسایی مسئله و درک آن است مطلب در صفحه ۲۳۲ سازمان می باشد

۶- عبارت زیر معروف ترین تعریف برای کدام گزینه است؟ (Www.iranestekhdam.ir)

((فرایند ایجاد تغییر نسبتاً پایدار در رفتار یا توان رفتاری که حاصل تجربه است))



(۱) آموزش (۲) پرورش (۳) یادگیری (۴) کارآموزی
پاسخ کارشناس سایت ایران استخدام: گزینه ۳
 یادگیری می باشد. سوال جزو سوالات پک بوده است.

۷- ضریب همبستگی +۱ یا ۱ نماینده کدام رابطه است؟ (Www.iranestekhdam.ir)
 (۱) کامل (۲) معکوس (۳) غیر کامل (۴) هیچ کدام
پاسخ کارشناس سایت ایران استخدام: گزینه ۱
 ضریب همبستگی +۱ بیان رابطه همبستگی کامل و مستقیم می باشد

۸- روش یادگیری اکتشافی مربوط به کدام روانشناسی می باشد؟ (Www.iranestekhdam.ir)
 (۱) پیازه (۲) ویگوتکسی (۳) کلبگ (۴) اریکسون
پاسخ کارشناس سایت ایران استخدام: گزینه ۱
 روش یادگیری اکتشافی پیازه برای کودکان سنین پایین از بهترین روش های یادگیری است چون امکان تجربه دست اول را برای آنها فراهم می آورد مطلب در صفحه ۷۶ سازمان می باشد. سوال مورد نظر جزو سوالات پک بوده است.

۹- کدام مورد از انواع اساسی یادگیری گانیه نمی باشد؟ (Www.iranestekhdam.ir)
 (۱) یادگیری علامتی (۲) یادگیری محرک-پاسخ (۳) یادگیری شرطی کلاسیک (۴) تداعی کلامی
پاسخ کارشناس سایت ایران استخدام: گزینه ۳
 مطلب در صفحه ۲۷۲ سازمان می باشد سوال در پک اول آمده است

۱۰- کدام جمله صحیح است؟ (Www.iranestekhdam.ir)
 (۱) تسلط پیش شرط کفایت و مهارت است (۲) مهارت پیش شرط کفایات و تسلط است (۳) کفایت پیش شرط تسلط و مهارت است (۴) هر سه مورد صحیح است
پاسخ کارشناس سایت ایران استخدام: گزینه ۱
 تسلط پیش شرط کفایت و مهارت است مطلب در صفحه ۲۹۴ سازمان می باشد سوال مورد نظر جزو سوالات پک بوده است.

بخش دوم:

روانشناسی رشد

۱۱- طبق این اصل فرایندهای تحول روانی در آغاز مسیر استواری را طی نمی کنند این تحول به صورت خطی نیست و نوسان هایی دارد و یک نوع بازگشت هایی در آن صورت می گیرد؟ (Www.iranestekhdam.ir)

(۱) اصل نافرینگی کنشی
(۲) اصل نافرید یا نمود یافتگی منفرد کننده
(۳) اصل درهم تنیدگی های متقابل
(۴) اصل نوسان های خود نظم جو

پاسخ کارشناس سایت ایران استخدام : گزینه ۴

گزینه ۴ این تست از صفحه ۴۷ جزوه سازمان طرح شده است

۱۲- به عقیده کدام روانشناس نمودیافتگی موجب تغییرات ساختاری در سازمان روانی می شود؟ (Www.iranestekhdam.ir)

(۱) گزل (۲) پیازه (۳) والن (۴) بالبی

پاسخ کارشناس سایت ایران استخدام : گزینه ۱

گزینه ۱ این تست از صفحه ۴۶ جزوه سازمان طرح شده است

۱۳- کدام عامل بر ایمنی دلبستگی تاثیرگذار نمی باشد؟ (Www.iranestekhdam.ir)

(۱) کیفیت پرستاری (۲) ویژگی های بچه
(۳) فرصت برقرار رابطه نزدیک (۴) ویژگی های محیط

پاسخ کارشناس سایت ایران استخدام : گزینه ۴

گزینه ۴ این تست از صفحه ۶۷ جزوه سازمان طرح شده است

۱۴- دومین پایگاه روانی از نظر فروید که معرف عقل و منطق می باشد کدام است؟ (Www.iranestekhdam.ir)

(۱) نهاد (۲) من (۳) فرامن (۴) هیچکدام

پاسخ کارشناس سایت ایران استخدام : گزینه ۲

گزینه ۲ این تست از صفحه ۸۰ جزوه سازمان طرح شده است

۱۵- اجتناب از تنبیه (جهت گیری تنبیه و اطاعت) کدام سطح و مرحله از نظریه رشد گلبرگ می باشد؟ (Www.iranestekhdam.ir)

(۱) سطح اول مرحله اول (۲) سطح دوم مرحله اول
(۳) سطح سوم مرحله اول (۴) سطح اول مرحله دوم

پاسخ کارشناس سایت ایران استخدام : گزینه ۱

گزینه ۱ این تست از صفحه ۱۲۹ جزوه سازمان طرح شده است

۱۶- کدام جمله صحیح است؟ (Www.iranestekhdam.ir)

(۱) پختگی به تجربه ها با شکل گیری نیاز دارد اما یادگیری به رشد جسمی وابسته است
(۲) پختگی به تجربه ها یا شکل گیری خاصی نیاز ندارد اما یادگیری به سازگار شدن وابسته است
(۳) پختگی به تجربه ها یا شکل گیری خاصی نیاز ندارد اما یادگیری به رشد جسمی و پختگی وابسته است
(۴) پختگی به یادگیری وابسته است

پاسخ کارشناس سایت ایران استخدام : گزینه ۳

گزینه ۳ این تست از صفحه ۸ جزوه سازمان طرح شده است



۱۷- تحریک کف پای نوزاد با یک سوزن کدام بازتاب را به دنبال دارد؟(Www.iranestekhdam.ir)

- (۱) پس کشیدن (۲) مکیدن (۳) باینگی (۴) مورو

پاسخ کارشناس سایت ایران استخدام: گزینه ۱

گزینه ۱ این تست از صفحه ۲۶ جزوه سازمان طرح شده است

۱۸- کدام گزینه صحیح است؟(Www.iranestekhdam.ir)

- (۱) بلوغ زودرس در دختران جنب مثبت و در پسران جنبه منفی دارد
(۲) بلوغ زودرس در دختران و پسران جنبه مثبت دارد
(۳) بلوغ زودرس در دختران جنبه منفی و در پسران جنبه مثبت دارد
(۴) بلوغ زودرس در دختران و پسران جنبه منفی دارد

پاسخ کارشناس سایت ایران استخدام: گزینه ۳

گزینه ۳ این تست از صفحه ۴۲ جزوه سازمان طرح شده است

۱۹- یادگیری مشاهده ای مربوط به کدام روانشناس می باشد؟(Www.iranestekhdam.ir)

- (۱) فروید (۲) بندورا (۳) اسکینر (۴) آریکسون

پاسخ کارشناس سایت ایران استخدام: گزینه ۲

گزینه ۲ این تست از صفحه ۱۴۷ جزوه سازمان طرح شده است

۲۰- طبقه بندی بازی ها به سه گروه منظم و نامنظم و مهارتی به چه کسی است؟(Www.iranestekhdam.ir)

- (۱) کرا (۲) اشترن (۳) کارل گروس (۴) پوز

پاسخ کارشناس سایت ایران استخدام: گزینه ۴

گزینه ۴ این تست از صفحه ۱۶۹ جزوه سازمان طرح شده است

بخش سوم:

روش ها و فنون تدریس



۲۱- کدام شاخص از سطوح یادگیری در حیطه شناسی نمی باشد؟ (Www.iranestekhdam.ir)

- (۱) دانش (۲) فهمیدن (۳) مشاهده و تقلید (۴) تحلیل

پاسخ کارشناس سایت ایران استخدام: گزینه ۳

گزینه ۳ جزو سطوح حیطه روانی حرکتی می باشد سوال جزو سوالات پک بوده است

۲۲- هدف کدام الگوی تدریس انتقال و پر کردن ذهن شاگردان است؟ (Www.iranestekhdam.ir)

- (۱) الگوی سازمان نگر (۲) ماشین نگر (۳) الگوی عمومی تدر (۴) الگوی پیش سازمان دهنده

پاسخ کارشناس سایت ایران استخدام: گزینه ۲

در این الگو که یک الگوی بسیار قدیمی است به عنوان موجودی غیر فعال در نظر گرفته می شود و فعالیت آدمی در این الگو بر اثر نیروهای خارجی انجام می گیرد و هدف انتقال و پر کردن ذهن شاگردان است.

۲۳- اقتصادی بودن از محاسن کدام روش های تدریس می باشد؟ (Www.iranestekhdam.ir)

- (۱) سخنرانی (۲) روش توضیحی (۳) روش حفظ و تکرار (۴) روش اکتشافی

پاسخ کارشناس سایت ایران استخدام: گزینه ۱

اقتصادی بودن از محاسن روش سخنرانی می باشد سوال مورد نظر جزو سوالات پک بوده است

۲۴- چهارمین مرحله طراحی آموزش کدام است؟ (Www.iranestekhdam.ir)

- (۱) تحلیلی موقعیت آموزشی
(۲) تنظیم اهداف آموزشی
(۳) تحلیل و تعیین نظام ارزشیابی
(۴) محتوا، روش و وسایل آموزشی

پاسخ کارشناس سایت ایران استخدام: گزینه ۳

تحلیلی نظام ارزشیابی صحیح می باشد

۲۵- امکان بررسی دقیق و همه جانبه وجود ندارد (Www.iranestekhdam.ir).

شاخص فوق از محدودیت های کدام یک از روش های ارزشیابی پیشرفت تحصیلی است؟

- (۱) مشاهده (۲) آزمون شفاهی (۳) انجام دادن کار (۴) هیچکدام

پاسخ کارشناس سایت ایران استخدام: گزینه ۱

امکان بررسی دقیق و همه جانبه در مشاهده وجود ندارد مطلب در صفحه ۱۲۵ سازمان می باشد

۲۶- کدامیک از موارد زیر از عوامل موثر یادگیری نمی باشد؟ (Www.iranestekhdam.ir)

- (۱) آمادگی (۲) انگیزه و هدف (۳) تجارب گذشته (۴) فراموشی

پاسخ کارشناس سایت ایران استخدام: گزینه ۴

فراموشی جزو عوامل موثر بر یادگیری نمی باشد این سوال جزو سوالات پک بوده است

۲۷- از نظریه پردازان محرک- پاسخ که تحت تاثیر روانشناسی فیزیولوژیک قرار داشت؟ (Www.iranestekhdam.ir)

- (۱) ثراندیک (۲) پیازه (۳) اسکینر (۴) پاولف

پاسخ کارشناس سایت ایران استخدام: گزینه ۱

ثراندیک می باشد ثراندیک یکی از نظریه پردازان محرک پاسخ بود که تحت تاثیر روانشناسی فیزیولوژیک قرار داشت مطلب در صفحه ۱۲ سازمان می باشد

۲۸- در رابطه با برنامه درسی موضوع محور کدام گزینه صحیح نمی باشد؟ (Www.iranestekhdam.ir)

- (۱) یک برنامه ثابت برای همه کشور عملی می شود
(۲) معلمان در اجرای برنامه و انتخاب مواد درسی آزادی عمل دارند
(۳) اجرای برنامه به صورت یک نظام ثابت است
(۴) هدف آموزش و پرورش انتقال محتوا از گروهی به گروه دیگر است

پاسخ کارشناس سایت ایران استخدام: گزینه ۲

در این نگرش معلم آزادی عمل ندارد و اجرا کننده برنامه است.

۲۹- آزمون هایی که با استفاده از نمونه های بزرگ آزمون شوندگان و غالبا توسط موسسه های آزمون سازی برای پیشرفت تحصیلی

یا هوش دوره های تحصیلی به کار می رود..... هستند. (Www.iranestekhdam.ir)

- (۱) معلم ساخته (۲) آزمون های میزان شده یا استاندارد شده
(۳) آزمون توانایی (۴) موارد الف و ج

پاسخ کارشناس سایت ایران استخدام: گزینه ۲

آزمون میزان شده صحیح است مطلب در صفحه ۱۲۷ سازمان می باشد این سوال جزو سوالات پک بوده است.

۳۰- کدام مورد صحیح است؟ (Www.iranestekhdam.ir)

- (۱) تهیه آزمون های تشریحی از آزمون عینی آسان تر است
(۲) ساخت آزمون چند گزینه ای و یافتن گزینه انحرافی آسان است
(۳) در آزمون های تشریحی تصحیح برگه امتحانی با دقت و به طور عینی انجام می گیرد
(۴) در سوال چند گزینه ای مطلب اصلی سوال به طور کامل نوشته نمی شود

پاسخ کارشناس سایت ایران استخدام: گزینه ۱

تهیه آزمون های تشریحی از آزمون های عینی آسان تر است مطلب در صفحه ۱۳۲ سازمان می باشد سوال دقیقا در سوالات پک آمده است.



بخش چهارم:

اندازه گیری، سنجش و ارزشیابی



۳۱- آزمون های صحیح-غلط ساده ترین صورت کدام نوع از آزمون های زیر است؟(Www.iranestekhdam.ir)

- (۱) آزمون های کوتاه پاسخ
(۲) آزمون های عینی
(۳) آزمون های چند گزینه ای
(۴) آزمون های تشریحی

پاسخ کارشناس سایت ایران استخدام: گزینه ۲

این تست از صفحه ۵۹ جزوه سازمان طرح شده است

۳۲- کدام یک از جملات زیر صحیح نیست؟(Www.iranestekhdam.ir)

- (۱) روش ثبت نمونه گیری زمان برای ثبت رفتارهایی که با فراوانی متوسط رخ می دهند مفید است
(۲) روش ثبت دوره نهفتگی تعیین می کند که چه مقدار زمان طول می کشد تا شخص رفتاری را آغاز کند
(۳) روش ثبت دوره نهفتگی تعیین می کند که چه مقدار زمان طول می کشد تا شخص رفتاری را آغاز کند
(۴) معمولا روش های فاصله ای و نمونه گیری زمان با هم استفاده نمی شود

پاسخ کارشناس سایت ایران استخدام: گزینه ۴

این تست از صفحه ۷۹ جزوه سازمان طرح شده است.

۳۳- شاخص پراکندگی که از طریق محاسبه انحراف نمره ها از میانگین محاسبه شود کدام است؟(Www.iranestekhdam.ir)

- (۱) انحراف استاندارد
(۲) میانگین
(۳) میانه
(۴) واریانس

پاسخ کارشناس سایت ایران استخدام: گزینه ۴

این تست از صفحه ۱۰۵ جزوه سازمان طرح شده است

۳۴- میانگین و انحراف استاندارد نمرات T به ترتیب کدام است؟(Www.iranestekhdam.ir)

- (۱) میانگین ۱۰۰ و انحراف استاندارد ۵۰۰
(۲) میانگین ۱۰۰ و انحراف استاندارد ۱۶
(۳) میانگین ۱۰۰ و انحراف استاندارد ۱
(۴) میانگین ۱۰۰ و انحراف استاندارد ۵۰

پاسخ کارشناس سایت ایران استخدام: گزینه ۴

این تست از صفحه ۱۲۷ جزوه سازمان طرح شده است.

۳۵- کدام یک از موارد زیر از عوامل بیرونی روایی آزمون نمی باشد؟(Www.iranestekhdam.ir)

- (۱) دستورالعمل آزمون
(۲) اجرای نامناسب آزمون
(۳) ترکیب آزمون شوندگان
(۴) ویژگی های روانی آزمون شوندگان

پاسخ کارشناس سایت ایران استخدام: گزینه ۱

این تست از صفحه ۱۴۳ جزوه سازمان طرح شده است

۳۶- کدام یک از جملات زیر صحیح است؟(Www.iranestekhdam.ir)

- (۱) اندازه گیری نسبت به آزمودن و سنجش مفهوم گسترده تری دارد
(۲) سنجش نسبت به آزمودن و اندازه گیری مفهوم گسترده تری دارد
(۳) زمودن نسبت به سنجش و اندازه گیری مفهوم گسترده تری دارد
(۴) هیچکدام

پاسخ کارشناس سایت ایران استخدام: **گزینه ۲**

این تست از صفحه ۷ جزوه سازمان طرح شده است

۳۷- در این مقیاس رتبه اشخاص با توجه به یک صفت معلوم است در این مقیاس صفر مطلق وجود دارد؟

([Www.iranestekhdam.ir](http://www.iranestekhdam.ir))

(۱) مقیاس ترتیبی (رتبه ای) (۲) مقیاس اسمی (۳) مقیاس نسبی (نسبتی) (۴) مقیاس فاصله ای

پاسخ کارشناس سایت ایران استخدام: **گزینه ۳**

این تست از صفحه ۱۴ جزوه سازمان طرح شده است.

۳۸- ویژگی زیر مربوط به کدام آزمون هاست؟ ([Www.iranestekhdam.ir](http://www.iranestekhdam.ir))

(هنگام اجرای آن ها از آزمون شونده خواسته می شود حداکثر سعی خود را بکاربندد)

(۱) آزمون های عاطفی (۲) آزمون های فراقکنی (۳) آزمون های توانایی (۴) هر سه مورد

پاسخ کارشناس سایت ایران استخدام: **گزینه ۳**

این تست از صفحه ۱۹ جزوه سازمان طرح شده است

۳۹- هدف از این نوع ارزشیابی تعیین مقدار یادگیری دانش آموزان و دانشجویان در طول یک دوره آموزش به منظور یا مقایسه

برنامه های مختلف با یکدیگر در انتهای دوره آموزشی است: ([Www.iranestekhdam.ir](http://www.iranestekhdam.ir))

(۱) ارزشیابی تکوینی (۲) ارزشیابی تشخیصی (۳) ارزشیابی آغازین (۴) ارزشیابی تراکمی

پاسخ کارشناس سایت ایران استخدام: **گزینه ۴**

این تست از صفحه ۳۸ جزوه سازمان طرح شده است

۴۰- هدف هایی که تغییرات حاصل در علاقه ها نگرش ها ارزش ها و سازگاری را نشان میدهد در کدام حیطة می باشد؟

([Www.iranestekhdam.ir](http://www.iranestekhdam.ir))

(۱) حیطة عاطفی (۲) حیطة روانی حرکتی (۳) حیطة شناختی (۴) حیطة حرکتی

پاسخ کارشناس سایت ایران استخدام: **گزینه ۱**

این تست از صفحه ۴۹ جزوه سازمان طرح شده است.

بخش پنجم:

اصول و فلسفه تعلیم و تربیت

۴۱- اولین کارکرد از پنج کارکرد تعلیم و تربیت اولیچ کدام است؟ (Www.iranestekhdam.ir)

- (۱) توجه به موسسات تربیتی دیگر
 - (۲) کفایت در یادگیری
 - (۳) عادت دادن افراد به استفاده کامل از منابع انسانی
 - (۴) ارتباط دادن مدرسه به زندگی عادی و محیط خارج از مدرسه
- پاسخ کارشناس سایت ایران استخدام : گزینه ۲**
- کفایت در یادگیری صحیح است این سوال جزو سوالات پک بوده است

۴۲- چه کسی نخستین گام تربیت را تربیت منفی می داند؟ (Www.iranestekhdam.ir)

- (۱) دورکیم
 - (۲) روسو
 - (۳) دیویی
 - (۴) لاک
- پاسخ کارشناس سایت ایران استخدام : گزینه ۲**
- روسو صحیح است مطلب در صفحه ۱۳۱ سازمان می باشد این سوال جزو سوالات پک بوده است

۴۳- از نظر فرانسیس بیکن مانع های کج اندیشی بت می باشند موانعی که از دل بستگی های شخصی خواب که هر کس دنیای ویژه ای دارد کدام نوع از بت های زیر است؟ (Www.iranestekhdam.ir)

- (۱) بت بازار
 - (۲) بت نمایش
 - (۳) بت غار
 - (۴) بت قبیله
- پاسخ کارشناس سایت ایران استخدام : گزینه ۳**
- بت غار صحیح است مطلب در صفحه ۱۳۵ سازمان می باشد این سوال جزو سوالات پک بوده است

۴۴- چه کسی معتقد است که یکی از بزرگ ترین عیب های اخلاقی سنتی کم شمردن هوش است؟ (Www.iranestekhdam.ir)

- (۱) راسل
 - (۲) روسو
 - (۳) کارل یاسپرس
 - (۴) آگوست کنت
- پاسخ کارشناس سایت ایران استخدام : گزینه ۱**
- راسل صحیح است مطلب در صفحه ۱۴۵ سازمان می باشد این سوال جزو سوالات پک بوده است

۴۵- کدام جمله صحیح نیست؟ (Www.iranestekhdam.ir)

- (۱) هدف های تربیتی باید قابل اجرا باشد
 - (۲) هدف های تربیتی باید جامع باشد
 - (۳) هدف های تربیتی باید ثابت باشد
 - (۴) هدف های تربیتی باید موید یکدیگر باشد
- پاسخ کارشناس سایت ایران استخدام : گزینه ۳**
- گزینه ۳ صحیح نیست در صفحه ۱۶۴ سازمان توضیح داده شده است این سوال جزو سوالات پک بوده است

۴۶- چه کسی تربیت و انتقال میراث فرهنگی از نسلی به نسل دیگر می داند؟ (Www.iranestekhdam.ir)

- (۱) امیل دورکیم
 - (۲) افلاطون
 - (۳) جان دیویی
 - (۴) کاتر
- پاسخ کارشناس سایت ایران استخدام : گزینه ۱**
- دورکیم صحیح می باشد مطلب در صفحه ۷ سازمان می باشد این سوال جزو سوالات پک بوده است

۴۷- ذهن انسان هنگام تولد مانند لوح سفید می ماند نظر چه کسی است؟(Www.iranestekhdam.ir)

- (۱) افلاطون (۲) جان لاک (۳) جان دیویی (۴) روسو

پاسخ کارشناس سایت ایران استخدام: **گزینه ۲**

جان لاک صحیح می باشد در صفحه ۱۵ سازمان می باشد این سوال جزو سوالات پک بوده است.

۴۸- کدام گروه بر این عقیده اند که زندگی تنها زمانی معنا دارد که کاملا و تماما تجربه شود و زندگی چیزی نیست که مورد توجه

قرار گیرد بلکه یک هستی است؟(Www.iranestekhdam.ir)

- (۱) قانون خواهان (۲) تحلیلی گرایان (۳) وجودگرایان (۴)هیچکدام

پاسخ کارشناس سایت ایران استخدام: **گزینه ۳**

وجود گرایان صحیح است مطلب در صفحه ۳۰ سازمان بیان شده است

۴۹- این نظر مربوط به کدام دیدگاه است؟(Www.iranestekhdam.ir)

(تربیت عبارت است از نفوذ انسان بالغ روی انسانی در حال رشد و هدف آن تحقق ذات تربیت شده است)

- (۱) ایده آلیسم (۲) طبیعت گرایی (۳)رنالیسم (۴) واقع گرایی

پاسخ کارشناس سایت ایران استخدام: **گزینه ۱**

ایده الیسم صحیح می باشد مطلب در صفحه ۵۷ سازمان می باشد این سوال جزو سوالات پک بوده است.

۵۰- (فلسفه وظیفه ای جز توضیح آنچه می دانیم ندارد و این توضیح بدون استفاده از زبان یا کلام غیرممکن است مربوط به

کدام فیلسوف است؟(Www.iranestekhdam.ir)

- (۱) ژرژنیوسام (۲) وینگنشتاین (۳) جان لاک (۴) افلاطون

پاسخ کارشناس سایت ایران استخدام: **گزینه ۲**

گزینه ۲ صحیح است وینگنشتاین می باشد مطلب در صفحه ۳۰ سازمان بیان شده است این سوال جزو سوالات پک بوده است.

سوالات تخصصی آزمون استخدام آتش نشانی سال ۹۸

فاقد پاسخنامه

بخش اول:

زبان تخصصی

۱ - This bank account can help you with any kind and number of business ?.

(Www.iranestekhdam.ir)

but you're charged a fixed amount of money on each _____.

- ۱) transaction ۲) procedure ۳) bargain ۴) trade

۲ - A: almost all the questions in the exam were _____ weren't they? (Www.iranestekhdam.ir)

B: Well, we never expected Mr. James to make it easy for every one of us to pass.

- ۱) tough ۲) dense ۳) ruthless ۴) intensive

۲- Mr. Norman never stops trying to reach his goal after he has made up his mind about it. He is a man of great _____.(Www.iranestekhdam.ir)

- ۱) fortunate ۲) determination ۳) intention ۴) dominance

۳ - Although Anna is quite a young woman. She feels really old because. She _____ restlessly all through her life. (Www.iranestekhdam.ir)

- ۱) works ۲) is working ۳) has been working ۴) would work

۴ - A desert is usually described as a region _____ an average of less than ten ? of rain falls in a year. (Www.iranestekhdam.ir)

- ۱) in that ۲) for which ۳) where is ۴) in which

۵ - Both Ted and Jack had got the right answer to the teacher's question. But _____ of them could clearly convey it. (Www.iranestekhdam.ir)

- ۱) neither ۲) each ۳) both ۴) none

۶ - Teachers' punctuality is _____ noticed and appreciated in this language school.

(Www.iranestekhdam.ir)

- ۱) neither ۲) either ۳) not only ۴) both

۷ - One of the planets revolving around the sun is our earth which _____ to be host ۲۵۰۰۰ miles circumference. (Www.iranestekhdam.ir)

- ۱) has said ۲) says ۳) is said ۴) is saying

۸ - A: I haven't seen your brother, and I don't know what he _____

B: He's pretty tall with green eyes and short, blonde hair. (Www.iranestekhdam.ir)

- ۱) likes ۲) is like ۳) would like ۴) looks like

بخش دوم:

مدیریت بحران

۹- کدام گزینه در خصوص مدیریت بحران صحیح تر می باشد؟(Www.iranestekhdam.ir)

- (۱) مجموعه تدابیر عملی و اجرایی جهت مقابله با بحران در زمان سانحه
- (۲) مجموعه مفاهیم نظری جهت ساماندهی/اوضاع بحرانی بعد از زمان سانحه
- (۳) مجموعه مفاهیم نظری و تدابیر عملی در ابعاد برنامه ریزی جهت مقابله یا سوانح، قبل از سانحه، هنگام سانحه و بعد
- (۴) مجموعه فعالیتهای که جهت آماده سازی و بالا بردن توان شهروندان قبل از وقوع بحران انجام می گیرد

۱۰- مراحل مدیریت بحران کدامند؟(Www.iranestekhdam.ir)

- (۱) پیشگیری- آمادگی - مقابله - بازسازی
- (۲) آمادگی - مقابله - بازسازی - گزارش دهی
- (۳) اطلاع رسانی - پیشگیری - بازسازی - ارائه آمار و گزارشات
- (۴) تحلیل اولیه - مقابله - بازسازی - ارائه آمار

۱۱- بر اساس ساختار سازمانی، رئیس ستاد حوادث و سوانح غیر مترقبه کشور کیست؟(Www.iranestekhdam.ir)

- (۱) رئیس جمهور
- (۲) معاون اول رئیس جمهور
- (۳) رئیس سازمان مدیریت بحران
- (۴) وزیر کشور

۱۲- مشخصات زیر مربوط به کدام یک از انواع ایستگاه های آتش نشانی است؟(Www.iranestekhdam.ir)

- « در این ایستگاه ۶ تا ۳ دستگاه اتومبیل اطفاء حریق و نجات مستقر خواهد شد و زمین مورد نیاز حداقل ۴ هزار متر مربع است »
- (۱) ایستگاه بزرگ
 - (۲) ایستگاه متوسط
 - (۳) ایستگاه کوچک
 - (۴) ایستگاه ؟

۱۳- با توجه به ضوابط استقرار ایستگاههای آتش نشانی، کدام گزینه صحیح نیست؟(Www.iranestekhdam.ir)

- (۱) باید در حاشیه معابر اصلی باشد
- (۲) حداقل ۱۲۰ متر از اولین چهارراه فاصله داشته باشد
- (۳) استقرار ایستگاه ها در زمین های ؟ ارجحیت دارد
- (۴) در جایی انتخاب شود که در محل خروجی آن تقاطع باشد

۱۴- در ارزیابی خطر سیلاب کدام پارامترهای ارزیابی کامل تر هستند؟(Www.iranestekhdam.ir)

- (۱) عمق سیل، مدت سیلاب، مسیر بندهای سیلاب، میزان گل و لای موجود در سیلاب
- (۲) عمق سیلاب، مدت سیلاب، شدت سیلاب، میزان ورودی آب های سطحی به جریان اصلی
- (۳) عمق سیلاب، مدت سیلاب، سرعت جریان، شدت سیلاب، دور، بازگشت
- (۴) میزان ورودی آب، عمق سیلاب، سرعت و دبی، میزان خروجی آب

۱۵- متولی اصلی عملیات امداد و نجات در ایران کدام است؟(Www.iranestekhdam.ir)

- (۱) سازمان آتش نشانی
- (۲) جمعیت هلال احمر
- (۳) مرکز اورژانس و فوریت های پزشکی
- (۴) نیروی های نظامی و انتظامی

۱۶- با توجه به شاخص تخریب، عوامل موثر بر این شاخص کدامند؟(Www.iranestekhdam.ir)

- (۱) تراکم مساحت مسکونی، تراکم انسانی
- (۲) نوع مصالح ساختمانی و عصر ساختمان های سطح شهر
- (۳) درصد شیب زمین و ارتفاعات طبقات
- (۴) همه موارد

۱۷- به طور نسبی عمر مفید ساختمان در ایران چند سال برآورد شده است؟(Www.iranestekhdam.ir)

- (۱) ۳۰ سال
- (۲) ۲۵ سال
- (۳) ۲۰ سال
- (۴) ۱۵ سال

۱۸- فاصله مناسب برای فضاهای اسکان منطقه ای از محل سکونت حدودا چقدر باشد؟(Www.iranestekhdam.ir)

- (۱) یک کیلومتر (۲) دو کیلومتر (۳) ۵۰۰ متر (۴) ۲۵۰۰ متر

۱۹- در ایران مسئولیت اسکان اضطراری و میان مدت به ترتیب به عهده کدام دستگاه هاست؟(Www.iranestekhdam.ir)

- (۱) بنیاد مسکن - وزارت راه و شهرسازی (۲) هلال احمر - فرمانداری ها و استانداری ها
(۳) هلال احمر - بنیاد مسکن (راه و شهرسازی) (۴) بنیاد مسکن - وزارت کشور

۲۰- هدف نهایی اجرای مانورهای مدیریت بحران چیست؟(Www.iranestekhdam.ir)

- (۱) تقویت آمادگی عملی (۲) سنجش میزان آمادگی دستگاه ها
(۳) هماهنگی بین واحدهای عضو (۴) گزینه های ب و ج

۲۱- این تعریف مربوط به کدام مانور است؟(Www.iranestekhdam.ir)

- «این مانور بهترین وسیله تعیین کیفیت عملکرد ارتباطات استراتژی است»
(۱) مانور کارگاهی (۲) مانور دور میزی (۳) مانور سراسری (۴) مانور زنده

۲۲- در شرایط بحران مهمترین مسئله در مورد مکان سانحه کدام گزینه است؟(Www.iranestekhdam.ir)

- (۱) سطحی نگری مقامات به منطقه اصلی بحران
(۲) محدود شدن توجه مقامات به یک منطقه خاص و نادیده گرفتن معضلات سایر مناطق
(۳) عدم توجه مقامات به زیر ساخت های ویران شده
(۴) همه موارد صحیح است

۲۳- قطر لوله شیرهای آتش نشانی روی زمینی و زیر زمینی به ترتیب چند میلی متر می باشد؟ (پاسخها از راست به چپ)

(Www.iranestekhdam.ir)

- (۱) ۷۰ تا ۸۰ ، ۸۰ تا ۱۰۰ (۲) ۶۰ تا ۸۰ ، ۸۰ تا ۱۰۰ تا ۱۲۰
(۳) ۸۰ تا ۱۰۰ ، ۱۰۰ تا ۱۲۰ (۴) ۶۰ تا ۸۰ ، ۸۰ تا ۱۰۰

بخش سوم:

ایمنی و حوادث و آتش سوزی

۲۴- نکته زیر مربوط به کدام یک از اولویت های ایمنی سیستم است؟(www.iranestekhdam.ir)

« طراحی از همان ابتدا تا حد ممکن بایستی در راستای حذف خطرات باشد. »

- (۱) بهبود دستور العمل های عملیاتی
(۲) طراحی ایمنی
(۳) فراهم نمودن وسایل هشدار دهنده
(۴) پذیرش ریسک

۲۵- در برنامه های ایمنی شهری به ازای هر یک مرکز مجهز شهری پیش بینی می شود.(www.iranestekhdam.ir)

- (۱) ۲ کیلومتر مربع
(۲) یک کیلومتر مربع
(۳) ۱۰ کیلومتر مربع
(۴) ۸۰۰۰ متر مربع

۲۶- در علم ایمنی اولویت با کدام یک از موارد زیر است؟(www.iranestekhdam.ir)

- (۱) نجات جان افراد سالمند و کودکان
(۲) خاموش کردن سریع آتش و دور کردن مواد آتش زا
(۳) پیشگیری از وقوع حوادث و سوانح
(۴) جلوگیری از تخریب زیر ساخت های شهری

۲۷- کدام یک بیان کننده ریسک وقوع خطر است؟(www.iranestekhdam.ir)

- (۱) تلفیق شدت و احتمال وقوع
(۲) تلفیق شدت و میزان اشتغال
(۳) تلفیق میزان اشتغال و اکسیژن
(۴) تلفیق میزان اشتغال و میزان سوختگی

۲۸- درجه حرارت اشتغال به کدام یک از عوامل زیر بستگی ندارد؟(www.iranestekhdam.ir)

- (۱) مقدار درصد اکسیژن موجود در هوا
(۲) مقدار نیتروژن موجود در هوا
(۳) شکل و حجم محلی که بخارات در آن وجود دارند (فشار محیط)
(۴) وجود کاتالیزور واکنش در محیط

۲۹- در خصوص بالا رفتن درجه حرارت کدام گزینه صحیح است؟(www.iranestekhdam.ir)

- (۱) بالا رفتن درجه حرارت فقط به مقدار سوخت بستگی دارد
(۲) بالا رفتن درجه حرارت تابع شرایط فیزیکی و شیمیایی نمی باشد
(۳) بالا رفتن درجه حرارت به مقدار سوخت بستگی ندارد ولی تابع شرایط فیزیکی است
(۴) بالا رفتن درجه حرارت به مقدار سوخت بستگی دارد ولی تابع شرایط فیزیکی و شیمیایی نیز می باشد

۳۰- انواع سوختن کدامند؟(www.iranestekhdam.ir)

- (۱) سه نوع: آرام - کند - متوسط
(۲) چهار نوع: آرام - متوسط - تند - خیلی تند
(۳) سه نوع: آرام - متوسط - تند
(۴) چهار نوع: خیلی کند - کند - متوسط - تند

۳۱- ارتفاع شعله تابع کدام یک است؟(www.iranestekhdam.ir)

- (۱) مولکول آزاد از سطح ماده سوخت
(۲) اکسیژن موجود در سطح ماده سوخت
(۳) نیتروژن موجود در سطح ماده سوخت
(۴) هیچکدام

۳۲- عناصر سه گانه مثلث حریق کدامند؟(www.iranestekhdam.ir)

- (۱) منبع اشتغال، اکسیژن و دی اکسید کربن
(۲) منبع اشتغال، سوخت و اکسیژن
(۳) سوخت، اکسیژن و دی اکسید کربن
(۴) منبع اشتغال، دی اکسید کربن و سوخت

۳۳- بهترین ارتفاع برای نصب اعلام کننده دستی از سطح کف کدام گزینه است؟(Www.iranestekhdam.ir)

- (۱) یک متر (۲) ۱۴۰ سانتی متر (۳) ۱۲۰ سانتی متر (۴) ۱۶۰ سانتی متر

۳۴- بهترین ماده برای اطفال حریق در آتش سوزی های الکتریکی کدام است؟(Www.iranestekhdam.ir)

- (۱) دی اکسید کربن (۲) آب (۳) کف (۴) پودر

۳۵- کدام گزینه صحیح است؟(Www.iranestekhdam.ir)

- (۱) نقطه شعله زنی مایعات کند اشتعال، بالاتر از ۳۷ درجه سانتی گراد است
 (۲) نقطه شعله زنی مایعات سریع الاشتعال، پایین تر از ۳۷ درجه سانتی گراد است
 (۳) الف و ب صحیح هستند
 (۴) هیچکدام

۳۶- در زمان آتش سوزی ها «محل امن» چگونه محلی است؟(Www.iranestekhdam.ir)

- (۱) محلی دور از ساختمان که بتوان وسایل کمک سانی را در آنجا مستقر کرد
 (۲) محلی در درون ساختمان که کمترین میزان خطر را دارد مانند زیر پله ها
 (۳) محلی در پارکینگ یا بام ساختمان که آتش کمتری دارد
 (۴) محلی دور از ساختمان که اشخاص در آنجا در معرض خطر آتش سوزی نباشند

۳۷- روشنایی اضطراری باید دارای چه مشخصاتی باشد؟(Www.iranestekhdam.ir)

- (۱) به روشنی و وضوح تمام مسیر های فرار را مشخص نماید
 (۲) به روشنی تجهیزات آتش نشانی مانند خاموش کننده ها را مشخص نماید
 (۳) به روشنی و وضوح شاسی های اعلام حریق را نشان دهد
 (۴) همه موارد

۳۸- در یک جریان الکتریکی ۲ کیلو وات با ولتاژ ۲۴۰ ولت برق، میزان جریان مورد نیاز چند آمپر است؟

(Www.iranestekhdam.ir)

- (۱) ۲ آمپر (۲) ۴ آمپر (۳) ۸ آمپر (۴) ۱۶ آمپر

بخش چهارم:

پیشگیری از بروز و گسترش حریق

۳۹- مقاومت ساختمان در برابر آتش سوزی به چه عواملی بستگی دارد؟ (Www.iranestekhdam.ir)

- (۱) جنس مصالح - نوع کاربری زمین - نقشه ساختمان
(۲) ترکیب مصالح - رفتار مصالح - نوع زمین
(۳) جنس مصالح - ترکیب مصالح - رفتار مصالح
(۴) هیچکدام

۴۰- مهمترین نقش طراح در ساختمان حساس کدام است؟ (Www.iranestekhdam.ir)

- (۱) افزایش تعداد دسترسی ها
(۲) محدود کردن ورود به ساختمان
(۳) استفاده از علائم هشدار دهنده
(۴) افزایش دید به ساختمان های مجاور

۴۱- اولین قابلیت ضروری برای مواد ساختمانی که طراح باید از آن اطلاع داشته باشد کدام است؟

(Www.iranestekhdam.ir)

- (۱) قابلیت آفرزش
(۲) قابلیت احتراق
(۳) گسترش سطحی شعله
(۴) مقاومت در برابر آتش

۴۲- محل قرار گرفتن سطح بحران به چه عواملی بستگی دارد؟ (Www.iranestekhdam.ir)

- (۱) نوع مقدار و سرعت محصولات احتراق
(۲) مشخصات قرار گرفتن ساکنان ساختمان و آمادگی آنان برای مقابله فرار و مقدار آسیب پذیری آنان
(۳) میزان خرابی بوجود آمده از آتش سوزی
(۴) موارد الف و ب صحیح هستند

۴۳- مهم ترین عامل رشد آتش در یک اتاق و یا یک فضای بسته کدام است؟ (Www.iranestekhdam.ir)

- الف) طول و عرض
ب) ارتفاع
ج) مصالح
د) درها و پنجره ها

۴۴- کدام یک جزء مراحل مختلف فرار (خروج) نمی باشد؟ (Www.iranestekhdam.ir)

- (۱) فرار از اتاق یا منطقه شروع حریق
(۲) فرار از طبقه ای که حریق آغاز شده به طبقه همکف
(۳) وارد شدن به آسانسور و حرکت به سمت پایین
(۴) خروج نهایی از طبقه همکف

۴۵- میزان محافظت از عناصر سازه ای در برابر حریق به چه عواملی بستگی دارد؟ (Www.iranestekhdam.ir)

- (۱) شرایط مورد نیاز برای فرار ساکنان و اطفای حریق
(۲) شرایط مورد نیاز برای رسیدن نیروهای امداد و اطفای حریق
(۳) اطفای حریق و پاکسازی محیط
(۴) شرایط مورد نیاز برای رسیدن نیروهای امدادی و فرار ساکنان

۴۶- کدامیک بار سوخت پایین تری دارند؟ (Www.iranestekhdam.ir)

- (۱) منازل مسکونی
(۲) پارکینگها
(۳) فروشگاهها
(۴) واحدهای صنعتی

۴۷- اساسا دو روش فعال برای مهار حریق وجود دارد. آن دو روش کدامند؟ (Www.iranestekhdam.ir)

- (۱) افزایش فشار - اطفای خودکار حریق
(۲) اطفای خودکار حریق - استفاده از مکش هوا
(۳) استفاده از شفت های محافظت شده - استفاده از مسیرهای محافظت شده
(۴) افزایش فشار - استفاده از مکش هوا

۴۸- چه عاملی موجب می شود که دمای یک ماده به نقطه اشتعال برسد؟ (Www.iranestekhdam.ir)

- (۱) اکسیژن (۲) گرمای احتراق (۳) گرمای خود به خود (۴) گرمای تجزیه

۴۹- مهمترین منشا حریق طبیعی کدام است؟ (Www.iranestekhdam.ir)

- (۱) آتش سوزی توسط مردم (۲) زلزله (۳) خطرات الکتریکی (۴) صاعقه

۵۰- کدام یک جزء گازهای قابل اشتعال نمی باشد؟ (Www.iranestekhdam.ir)

- (۱) نیتروژن (۲) متان (۳) اتان (۴) هیدروژن

۵۱- خطر آتش سوزی مایعات قابل اشتعال بستگی مستقیم به آنها دارد. (Www.iranestekhdam.ir)

- (۱) نقطه انجماد (۲) خاصیت تبخیر شدن (۳) حجم (۴) هیچکدام

۵۲- برای اینکه کانال های ساختمانی قابل احتراق نباشند بهتر است از چه نوع ورق هایی استفاده کنیم؟

(Www.iranestekhdam.ir)

- (۱) ورق های فولادی (۲) مصالح غیر قابل احتراق (۳) مصالح دیر احتراق (۴) الف و ب

۵۳- کدام یک از روش های انتشار حریق نمی باشد؟ (Www.iranestekhdam.ir)

- (۱) از طبقه ای به طبقه دیگر یک بنای واحد (۲) از بنایی به بنای چسبیده یا قسمت جدا شده ای از بنا
(۳) از پارکینگ بنای دچار حریق شده به خیابان (۴) از بنایی به بنای دیگر غیر متصل

بخش پنجم:

آئین نامه های حفاظت فنی و بهداشت کار (HSE)

۵۴- محافظ جانبی عینک های ایمنی باید چه مشخصه ای داشته باشد؟(Www.iranestekhdam.ir)

- (۱) بتواند در مقابل ساچمه فولادی با قطر ۶ میلیمتر و جرم ۰،۸۶ گرم با سرعت ۱۲۰ متر بر ثانیه مقاومت کند
- (۲) بتواند در مقابل ساچمه فولادی با قطر ۸ میلیمتر و جرم ۰،۶۸ گرم با سرعت ۱۴۰ متر بر ثانیه مقاومت کند
- (۳) بتواند در مقابل ساچمه فولادی با قطر ۴ میلیمتر و جرم ۰،۳۲ گرم با سرعت ۱۵۰ متر بر ثانیه مقاومت کند
- (۴) بتواند در مقابل ساچمه فولادی با قطر ۱۲ میلیمتر و جرم ۰،۷۶ گرم با سرعت ۱۶۰ متر بر ثانیه مقاومت کند

۵۵- مسئولیت رعایت مقررات «آیین نامه حفاظت فیزیکی» بر عهده کیست؟(Www.iranestekhdam.ir)

- (۱) عرضه کنندگان
- (۲) کارگر
- (۳) کارفرما
- (۴) بازرسان کار

۵۶- ارتفاع لوله تهویه از سطح زمین حداقل بایستی چند متر باشد؟(Www.iranestekhdam.ir)

- (۱) ۱/۵ متر
- (۲) ۲متر
- (۳) ۲/۲ متر
- (۴) ۲/۵ متر

۵۷- دیوارهای اماکن حاوی مواد قابل انفجار باید(Www.iranestekhdam.ir)

- (۱) صاف و بدون شکستگی و ترک باشد
- (۲) از رنگ روشن پوشیده شده باشد
- (۳) به سهولت قابل نظافت باشد
- (۴) همه موارد صحیح هستند

۵۸- قطر طناب نیمه استاتیک در سامانه متوقف کننده از سقوط، حداقل باید باشد.(Www.iranestekhdam.ir)

- (۱) ۱۸ میلیمتر
- (۲) ۱۳ میلیمتر
- (۳) ۲۱ میلیمتر
- (۴) ۱۵ میلیمتر

۵۹- در صورت اضافه شدن وسایل جانبی به کلاه ایمنی، حداکثر وزن کلاه بایستی چقدر باشد؟(Www.iranestekhdam.ir)

- (۱) ۴۳۰ گرم
- (۲) ۳۸۵ گرم
- (۳) ۶۳۰ گرم
- (۴) ۵۳۵ گرم

۶۰- کد عددی ۲ در فیلترها، نشان دهنده فیلتر است.(Www.iranestekhdam.ir)

- (۱) فیلترهای ماوراء بنفش
- (۲) فیلترهای جوشکاری
- (۳) فیلترهای مادون قرمز
- (۴) هیچکدام

۶۱- لوله های اطمینان مولد ثابت باید(Www.iranestekhdam.ir)

- (۱) گازهای متراکم را دوباره به ژنراتور برگردانند
- (۲) دارای عواملی که جریان گاز را متوقف کنند، نباشند
- (۳) قطر آنها لااقل برابر قطر لوله های انتقال گاز باشد
- (۴) همه موارد صحیح هستند

۶۲- طبق « آیین نامه حفاظت و بهداشت عمومی در کارگاه ها»، عرض پلکان عمومی حداقل بایستی باشد.

(Www.iranestekhdam.ir)

- (۱) ۸۰ سانتی متر
- (۲) ۱۲۰ سانتی متر
- (۳) ۱۰۰ سانتی متر
- (۴) ۱۴۰ سانتی متر

۶۳- در کدام مورد زیر، تعبیه و نصب برق گیر الزامی نیست؟(Www.iranestekhdam.ir)

- (۱) ساختمان های حاوی مواد قابل احتراق
- (۲) بیمارستان ها و مراکز مهم
- (۳) تانک ها و مخازن حاوی نفت و بنزین
- (۴) کوره های مرتفع و دودکش ها

۶۴- بر اساس «آیین نامه ایمنی کار در ارتفاع» کدام گزینه صحیح است؟ ([Www.iranestekhdam.ir](http://www.iranestekhdam.ir))

- (۱) استفاده از نردبان یا میله طنابی مجاز است
 (۲) طول نردبان طنابی نباید بیش از ۳۰ متر باشد
 (۳) استفاده از نردبان طنابی در کلیه شرایط مجاز است
 (۴) همه موارد صحیح هستند

۶۵- ماشین آلات عمرانی حامل مواد قیری آسفالت و سوختی باید مجهز به خاموش کننده محتوی باشند.

([Www.iranestekhdam.ir](http://www.iranestekhdam.ir))

- (۱) فوم (۲) CO₂ (۳) هیدروژن (۴) بخار آب

۶۶- حداقل فاصله برای سوزاندن پسماندها از ساختمان های قابل احتراق چقدر است؟ ([Www.iranestekhdam.ir](http://www.iranestekhdam.ir))

- (۱) ۵ متر (۲) ۱۰ متر (۳) ۱۵ متر (۴) ۲۰ متر

۶۷- مدفون ساختن ضایعات مواد خطرناک زیر خاک ([Www.iranestekhdam.ir](http://www.iranestekhdam.ir))

- (۱) با اجازه کارفرما مجاز است
 (۲) با رعایت بهداشت محیط مجاز است
 (۳) ممنوع است
 (۴) الف و ب درست است

۶۸- بر اساس «آیین نامه حفاظتی مواد خطرناک، مواد قابل اشتعال و انفجار»، کلیه تجهیزات آتش نشانی باید هر یک

بار مورد بازرسی و رسیدگی قرار گیرند. ([Www.iranestekhdam.ir](http://www.iranestekhdam.ir))

- (۱) ۱۲ ماه (۲) ۹ ماه (۳) ۶ ماه (۴) ۳ ماه

« محصولات مرتبط دانلودی »

دانلود اصل سوالات استخدامی برگزار شده توسط جهاد دانشگاهی

[خرید و دانلود](#)

دانلود اصل سوالات استخدامی برگزار شده توسط سنجش

[خرید و دانلود](#)

دانلود نمونه سوالات استخدامی فراگیر دستگاه‌های اجرایی

[خرید و دانلود](#)

دانلود جزوات و درسنامه‌های آموزشی ویژه آزمون‌های استخدامی

[خرید و دانلود](#)

« محصولات مرتبط چاپ شده »

سفارش کتاب‌های آموزشی و نمونه سوالات استخدامی چاپ شده

[خرید و سفارش](#)

«توجه مهم»

جهت تهیه کتابهای آموزشی و دانلود سایر نمونه سوالات استخدامی به همراه پاسخنامه
به آدرس زیر مراجعه بفرمایید:

اینجا کلیک نمایید



ایران استخدا

سرویس خصوصی خدمات عام المنفعه اخبار شغل و استخدام

[Www.IranEstekhdam.Ir](http://www.IranEstekhdam.Ir)

خواننده گرامی؛ در جهت بهبود کیفیت این فایل؛ لطفاً هرگونه انتقاد و پیشنهاد خود در مورد مطالب آن

و یا گزارش مشکل را به آدرس ایمیل و یا با شماره تلفن زیر مطرح نمایید:

شماره تلفن تماس: ۰۲۱-۹۱۳۰۰۰۱۳  آدرس ایمیل: soal@iranestekhdam.ir 

اخطار مهم

محتوای این فایل به شماره شابک ۸-۵۹۶-۴۴۸-۶۰۰-۹۷۸ نزد وزارت ارشاد جمهوری اسلامی ایران ثبت گردیده؛ لذا هرگونه کپی برداری یا فروش؛ تغییر و دستکاری در محتوای آن مانند حذف آرم یا لوگوی سایت ایران استخدام و یا اضافه کردن آرم؛ نوشته و محتوای دیگر؛ غیر مجاز بوده و متخلف بدون اطلاع قبلی از طریق مبنای قانونی تحت پیگیری قرار خواهد گرفت.

[Www.IranEstekhdam.Ir](http://www.IranEstekhdam.Ir)